

102 國民中學學生基本學力測驗

社會科題本

請不要翻到次頁！

讀完本頁的說明，聽從監試委員的指示才開始作答！

※請先確認你的答案卡、准考證與座位號碼是否一致無誤。

請閱讀以下測驗作答說明：

測驗說明：

這是國民中學學生基本學力測驗社會科題本，題本採雙面印刷，共 13 頁，有 63 題選擇題，每題都只有一個正確或最佳的答案。測驗時間從 11：00 到 12：10，共 70 分鐘。作答開始與結束請聽從監試委員的指示。

注意事項：

1. 所有試題均為四選一的選擇題，答錯不倒扣。
2. 試題中所附圖形，如有附上比例尺，以比例尺為依據作答；若無比例尺，則該圖僅作為參考，不代表實際大小。
3. 可利用題本中空白部分計算，切勿在答案卡上計算。
4. 依試場規則第十條規定，答案卡上不得書寫姓名座號，也不得作任何標記。故意汙損答案卡、損壞試題本，或在答案卡上顯示自己身分者，該科測驗不予計分。

作答方式：

請依照題意從四個選項中選出一個正確或最佳的答案，並用 2B 鉛筆在答案卡上相應的位置畫記，請務必將選項塗黑、塗滿。如果需要修改答案，請使用橡皮擦擦拭乾淨，重新塗黑答案。例如答案為 B，則將 B 選項塗黑、塗滿，即：A ● C D

以下為錯誤的畫記方式，可能導致電腦無法正確判讀。如：

- Ⓐ ● Ⓒ Ⓓ — 未將選項塗滿
- Ⓐ Ⓑ Ⓒ Ⓓ — 未將選項塗黑
- Ⓐ ● Ⓒ Ⓓ — 未擦拭乾淨
- Ⓐ ● Ⓑ Ⓒ Ⓓ — 塗出選項外
- Ⓐ ● ● Ⓓ — 同時塗兩個選項

請聽到鈴（鐘）聲響後，於題本右上角方格內填寫准考證末兩碼，再翻頁作答

一、單題：(1~54題)

1. 清朝學者姚瑩曾在臺灣任官，在他的文章中記載：「道光三年七月，臺灣大風雨，鹿耳門內，海沙驟長，變為陸地。」當時臺江內海位於鹿耳門和西港仔之間的海域，短時間內被填平了。造成上述現象的主要作用，和下列哪一種地形的成因最相似？

- (A)峽谷 (B)岬角
(C)沖積扇 (D)U型谷

表(一)

2. 表(一)是阿志分析臺灣某港口的自然條件，依表中內容判斷，最可能是指下列哪一個港口？

- (A)基隆港 (B)臺中港
(C)高雄港 (D)花蓮港

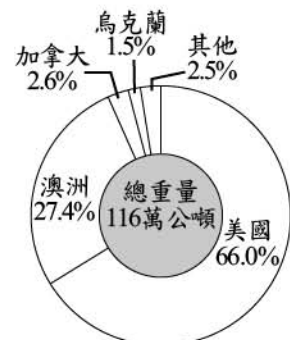
自然條件	
優點	1.形勢良好的灣澳。 2.少淤積的曲折岩岸。
缺點	1.丘陵環抱、平地狹小。 2.雨日較多，影響貨物裝卸。

3. 「某國由上萬個島嶼組成，由於人口成長快速，2010年的人口數在全世界排名第四，僅次於中國、印度和美國。其首都不僅過度擁擠、交通混亂，且因周遭環境遭受破壞而飽受水患之威脅，該國政府已著手研議遷都的可行性。」上文描述的首都應是下列何者？

- (A)日本東京 (B)印尼雅加達
(C)巴西巴西利亞 (D)荷蘭阿姆斯特丹

4. 圖(一)是臺灣2010年某項農產品進口總量及其來源國家和比例，根據圖中這些國家的自然環境與農業發展特性判斷，該項農產品最可能為下列何者？

- (A)小麥 (B)蔗糖
(C)茶葉 (D)棉花



圖(一)

5. 「這片位於長江和黃河源頭附近的土地，高達4,000公尺以上，一望無際，彷彿延伸到世界的盡頭。除了牧民會在夏季帶領牲口到此地外，人煙罕至。」下列何者是上述牧民日常生活的特色？

- (A)以犛牛糞塊作為燃料 (B)利用坎井取得飲用水
(C)每天面向聖地朝拜五次 (D)以馬匹為主要交通工具

6. 圖(二)為北大西洋的四股主要洋流，其中可調節歐洲氣候，還能讓港口冬季不結冰的是哪一股洋流？

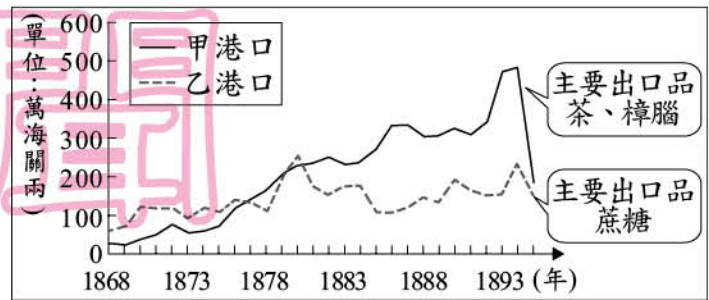
- (A)甲
(B)乙
(C)丙
(D)丁



圖(二)

7. 一位歐洲人士曾說：「威爾遜總統曾堅持要建立國際聯盟，但現在美國竟然拒絕加入這個組織，不與我們共同邁向世界和平！」上述言論的出現，與下列何者關係最密切？
- (A) 門羅宣言的提出，阻止歐洲在美洲的發展
 (B) 門戶開放政策的推行，緩和歐美在華衝突
 (C) 美國孤立主義瀰漫，不願意介入歐洲事務
 (D) 馬歇爾計畫在西歐實施，導致美國的獨霸

8. 圖(三)為臺灣某時期兩大港口的海關出口值統計圖。由圖中內容判斷，甲港口最可能位於臺灣何處？



圖(三)

9. 「天花、麻疹和流行性感

10. 圖(四)為某本中國歷史書籍的章節，此書最可能是下列何者？

- (A) 《魏晉傳奇》
 (B) 《西周風雲》
 (C) 《南宋史話》
 (D) 《五代演義》



圖(四)

11. 小名寫一篇臺灣史報告時提到：「此時統治當局更加大力推展『國語運動』，規範『國語家庭』辦法；推廣『改姓名』政策，也要求民眾定期參拜神社；實施志願兵制度，部分年輕人將為國出征視為無上的光榮。」這段內容與下列何者關係最密切？

- (A) 牡丹社事件的發生
 (B) 皇民化運動的推行
 (C) 二二八事件的爆發
 (D) 臺灣民主國的建立

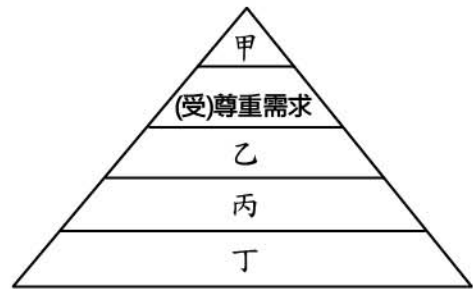
12. 熱衷於政治活動的華欣，對未來的規畫如表(二)所示。若僅從年齡資格判斷，當華欣年滿28歲時，他尚未具備表中何項規畫所須的條件？

表(二)

規畫	規畫內容
甲	參選民意代表，爭取為民服務的機會
乙	把握投票的機會，積極參與政黨活動
丙	希望在政黨支持下，參選直轄市市長
丁	憑藉累積良好人脈與聲望，參選鄉長

- (A)甲 (B)乙
(C)丙 (D)丁

13. 圖(五)是馬斯洛個人需求理論示意圖。五十多歲的阿旺伯，一直有征服玉山的夢想，現在雖然罹患癌症，但他仍不放棄，終於在家人的陪伴下完成了自己的夢想。根據上述內容判斷，阿旺伯追求的是圖中哪一層次的滿足？



圖(五)

- (A)甲
(B)乙
(C)丙
(D)丁



個人需求理論=需求層次理論

14. 在廣播節目中，主持人卡卡說明今日邀請的來賓為少年法院張法官，將針對《少年事件處理法》的規定進行訪談。下列節錄的內容，何者最不符合該次訪談的主題？

- (A)卡卡：「請談談日前發生的二十歲學生校園恐嚇事件。」
(B)張法官：「我們經常會透過保護處分來代替刑事處罰。」
(C)卡卡：「除感化教育外，請法官說明其他的處理方式。」
(D)張法官：「訓誡、保護管束都是我們可能採取的作法。」

15. 新聞報導：「資訊技術日新月異讓人類生活更為便利，但亦衍生侵犯個人權益或公共利益的疑慮，故政府制定《個人資料保護法》，作為規範相關行為的法律依據。」上述內容最主要在強調下列何者的重要性？

- (A)多元價值 (B)科技倫理
(C)新聞自由 (D)群己關係

16. 阿輝到廟會活動的場邊販賣小吃，活動結束後，商品全都賣完了，且利潤為12,000元，占銷貨收入的60%。根據上述內容判斷，阿輝所販售的小吃，其售價與銷售數量最可能為下列何者？

- (A)售價10元，銷售數量1,000份
(B)售價15元，銷售數量2,000份
(C)售價10元，銷售數量2,000份
(D)售價15元，銷售數量1,000份

17. 1825年，洞庭湖的面積達6,000平方公里以上，為當時中國第一大淡水湖，但到了1980年代，其面積大幅縮減，只剩約2,600平方公里。鹹海在1960年代面積達68,000平方公里，是當時世界第二大鹹水湖，但到了1998年，其面積已下降至28,687平方公里，並持續萎縮中。上述二個湖泊面積的變化，都與下列何項因素關係最為密切？

- (A)全球氣候變遷 (B)上游退牧還林
(C)發展農業耕作 (D)推廣養殖漁業

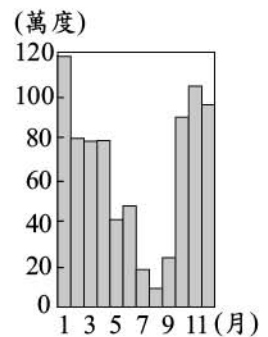
18. 「……有些學者依據這兩條山脈在地質年代上的連續性，推論甲山脈原本位於玉山山脈之上，後來因為板塊擠壓造成山脈岩層斷裂，在地殼隆升的過程中，上方較年輕的岩層往西滑動，形成今日的甲山脈，而下方較老的岩層，則成為玉山山脈。」上文中的甲山脈應是指下列何者？

- (A)中央山脈 (B)海岸山脈
(C)雪山山脈 (D)阿里山山脈

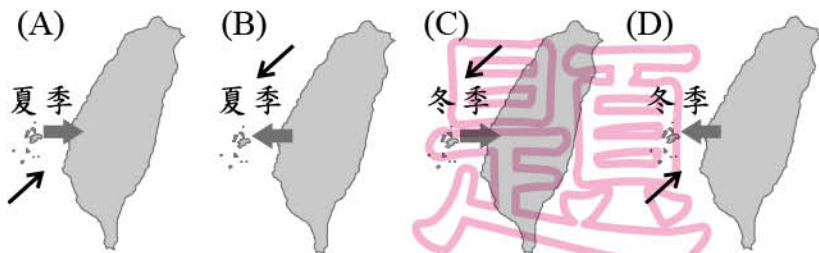
19. 寒假期間，小明自北京出發，沿京廣鐵路到廣州旅遊；小華的旅程則從烏魯木齊出發，沿蘭新鐵路、隴海鐵路，抵達連雲港(位於江蘇省北部)。下列哪一項地理現象的變化，是二人旅遊路線的共同特徵？

- (A)日均溫漸高 (B)日溫差漸大
(C)針葉林漸多 (D)小麥田漸多

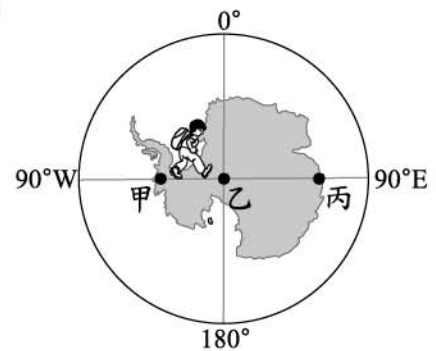
20. 圖(六)是澎湖部分風力發電機組的發電量。政府計畫在該地擴大推動風力發電以取代火力發電，但受限於風力的季節性差異，需在澎湖與雲林間架設海底電纜，發電量高的季節可將多餘電力輸往臺灣本島，而發電量低的季節則依賴臺灣本島支援。若以 \Rightarrow 表示輸電方向，以 \rightarrow 表示盛行風風向，則下列何者為上述現象的正確示意圖？



圖(六)



21. 彥文計畫到南極洲探險，路線是由圖(七)中的甲點出發，直線前進經乙點至丙點。根據圖中經緯座標系統判斷，下列對他前進方向的敘述，何者正確？



圖(七)

- (A)從甲點至乙點為向南前進
(B)從甲點至乙點為向東前進
(C)從乙點至丙點為向南前進
(D)從乙點至丙點為向東前進

22. 表(三)為某時期海外國家向中國入貢的次數統計表。由表中國家的分布區域判斷，他們會到中國朝貢，最可能與下列哪一件史事有關？

表(三)

國名	進貢次數
蘇門答刺 (今蘇門答臘島)	16
榜葛刺 (今印度半島孟加拉)	10
錫蘭山 (今斯里蘭卡)	4
祖法兒 (今阿拉伯半島南岸)	3
木骨都東 (今非洲東岸)	2

- (A) 蒙古西征
- (B) 玄奘西行
- (C) 鄭和下西洋
- (D) 張騫出使西域

23. 老師講述某一帝國歷史時說：「這個國家軍事興盛時，攻城滅敵，占領君士坦丁堡，以其為首都，並建立了橫跨三洲的帝國，將帝國占領下的許多教堂改為清真寺。後來國勢漸弱，到了十九世紀面對列強的侵略威脅，只能任人宰割。」此帝國最可能是下列何者？

- (A) 拜占庭帝國
- (B) 查理曼帝國
- (C) 神聖羅馬帝國
- (D) 鄂圖曼土耳其帝國

24. 圖(八)是校外教學學習單的主題，依內容判斷，此學習單介紹的最可能是下列哪一史前文化遺址？

重返石器時代

來到臺東，透過陶器、石板棺、陪葬玉器、大型聚落遺跡，一起想像石器時代人們的生活吧！



圖(八)

- (A) 長濱文化
- (B) 圓山文化
- (C) 卑南文化
- (D) 十三行文化

25. 圖(九)為戰國時期的情勢示意圖，圖中的「甲」國在此時期興起成為強國，最主要原因應為下列何者？



圖(九)

- (A) 蘇秦提倡合縱
- (B) 商鞅實施變法
- (C) 墨子兼愛非攻
- (D) 齊桓公尊王攘夷

26. 曉菁蒐集下列四篇文章，準備寫一份有關「臺灣社會經濟發展」的報告。根據標題判斷，其中哪一篇最可能會介紹日本統治時期官方的措施？

(A)

臺灣西部縱貫鐵路的興建與完工

(B)

新竹科學工業園區的設置

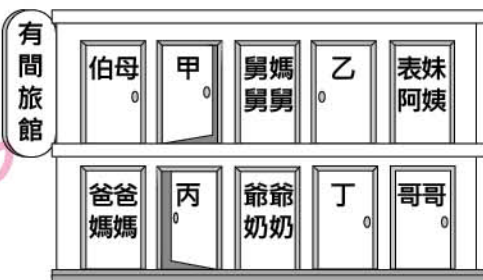
(C)

初關八堡圳與當時的土地開發

(D)

林爽文事件的發生與平定經過

27. 圖(十)是小圓為家族旅行所規畫的房間分配情況。若小圓的房間兩旁，分別住了自己的直系血親與旁系血親，根據圖中內容判斷，她最可能是住在哪一個房間？



圖(十)

28. 偉凡有四個工作機會，他將每一份工作的薪水及其機會成本整理如表(四)，希望藉此做出選擇。但偉凡吃飯時卻不小心將醬油滴在上面，而且他也忘記了公司提供的薪水數目。根據表中內容判斷，下列何者最可能是丁公司提供給他的薪水？

表(四)

公司	薪水(元)	機會成本(元)
甲	30,000	40,000
乙	40,000	35,000
丙	35,000	40,000
丁	●●●●	40,000

- (A) 34,000元 (B) 36,000元
(C) 38,000元 (D) 40,000元
29. 國華購買了一組昂貴的音響設備，但在父母反對下，此項交易行為不生效力。渴望得到音響的國華，在當日傍晚潛入店家行竊時遭到逮捕，他將為自己的行為負起完全的刑事責任。若僅考慮年齡條件，下列何者最可能是國華的年齡？
- (A) 年滿13歲，未滿14歲 (B) 年滿15歲，未滿16歲
(C) 年滿19歲，未滿20歲 (D) 年滿21歲，未滿22歲
30. 許多選民遇到問題時經常四處陳情，下列哪一封陳情信內容屬於立法委員的職權？

(A) ○○○您好：
窮不能窮教育，懇請你們編列預算時能增加國民教育的經費。
陳情人小張

(B) ○○○您好：
某縣政府公務員的行為已涉及違法失職，請你們查明後予以彈劾。
陳情人阿虎

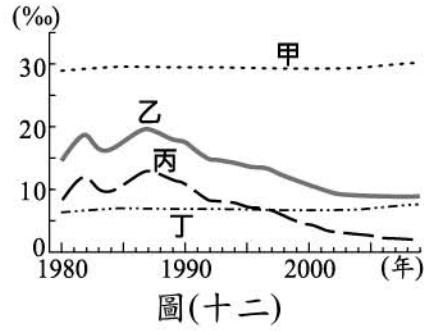
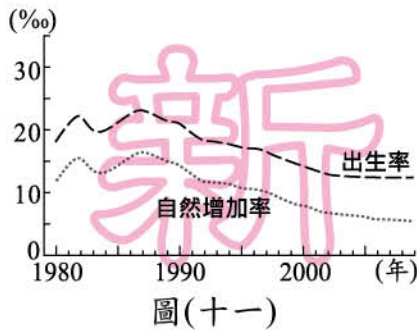
(C) ○○○您好：
《社會秩序維護法》的部分條文引發爭議，請你們作出《憲法》解釋。
陳情人小娟

(D) ○○○您好：
《勞動基準法》中的部分規定已不合時宜，希望你們能提案修改。
陳情人阿妙

31. 小玟：「網路上有許多免費影片供人點閱瀏覽，不論是自拍的影像，或是部分行車記錄器所儲存的畫面，都可能是我們代表國家主動出擊、追訴犯罪行為的重要依據。」根據上述內容判斷，下列何者最可能是小玟的職權之一？

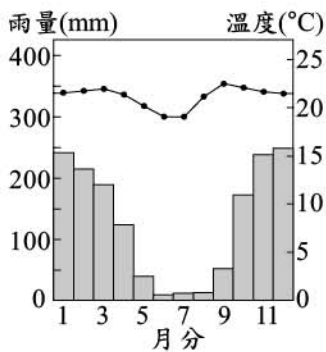
- (A) 審理總統彈劾案
(B) 偵查毒品走私案件
(C) 判決侵權者賠償損失
(D) 負責調解告訴乃論案件

32. 圖(十一)是1980年到2009年間某國人口的出生率和自然增加率變化曲線圖。根據此圖的變化趨勢判斷，該國的死亡率變化曲線應為圖(十二)中的何者？



- (A)甲 (B)乙 (C)丙 (D)丁

33. 圖(十三)為南半球某城市的氣候圖，表(五)中何者最符合其氣候特徵？



圖(十三)

表(五)

氣候特徵	
甲	<ul style="list-style-type: none"> 全年高溫，年溫差小 乾溼季節分明，降雨多集中於夏季
乙	<ul style="list-style-type: none"> 全年高溫，年溫差小 全年潮溼多雨，降雨多集中於午後
丙	<ul style="list-style-type: none"> 終年涼爽宜人，日夜溫差大 秋冬雨量較多，春夏雨量較少
丁	<ul style="list-style-type: none"> 四季變化顯著 乾溼季節分明，冬季降雨多於夏季

- (A)甲 (B)乙 (C)丙 (D)丁

34. 清朝末年，朝廷為了越南問題與某一國家爆發激烈戰鬥，戰火延燒至基隆、淡水、澎湖等地，此場戰爭對臺灣的主要影響為何？

- (A)簽約割讓，臺灣成為殖民地
 (B)興建億載金城，強化臺灣防衛
 (C)增設噶瑪蘭廳，拓墾臺灣東部
 (D)改建為省，提升臺灣行政層級

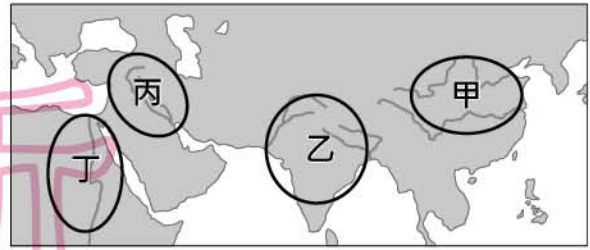
35. 下列是臺灣某一時期官方所設學校的教學情形：

……就學兒童的年齡從十歲到十三、四歲，學校教授他們羅馬字的讀法及寫法，讓他們用羅馬字拼寫自己的語言(新港語等)；並主要傳授學生祈禱文、基督教教義以及教唱聖歌。在當時統轄下的新港社、麻豆社、蕭壠社等地都能看到這樣的學校。

這段話最有助於我們用來說明下列何者？

- (A)荷蘭聯合東印度公司如何教導臺灣原住民
 (B)明鄭時期儒學教育在臺灣創建的原因始末
 (C)西班牙統治者在北臺灣宣教的內容與方式
 (D)清末臺灣的西學堂如何培養新式人才

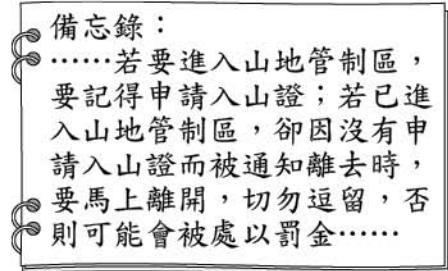
36. 圖(十四)中某一地區的古文明有嚴格的社會階級區別，影響至今；此地區在古代的數學成就上，發展出「零」的概念及其對應的符號，現今世界通用的數字符號也源於此區。此地區最可能位於圖中甲、乙、丙、丁何處？



圖(十四)

- (A)甲 (B)乙
(C)丙 (D)丁

37. 圖(十五)是某登山社團所製作的備忘錄，根據圖中內容判斷，誤入山地管制區時，被通知離去卻未離開的違法行為，所應負起的法律責任類型與下列何者相同？



圖(十五)

- (A)違反道路交通安全法規
(B)向銀行貸款逾期未償還
(C)拒絕顧客退換瑕疵品的要求
(D)侵入企業電腦取得商業機密

38. 每逢連續假期，為了紓解交通與分散車流，高速公路收費站常會實施暫停收費措施，但此舉勢必會對國家財政收入造成部分衝擊。上述政府收入的來源與下列何者屬於同一類？

- (A)民眾支付的交通罰款 (B)企業繳納的營業稅款
(C)國人申請護照的費用 (D)公營事業單位的盈餘

39. 圖(十六)與圖(十七)是政府機關為得知通緝要犯的行蹤，先後發布了兩張不同告示海報的結果。根據二幅圖片中的變化判斷，該機關是運用下列何種概念來達成目標？



圖(十六)



圖(十七)

- (A)供給法則 (B)需求法則
(C)受益原則 (D)比較利益法則

40. 表(六)是臺灣某段時期農業生產的相關資料。政府當時執行下列哪一政策，是造成表中變化的主要原因？

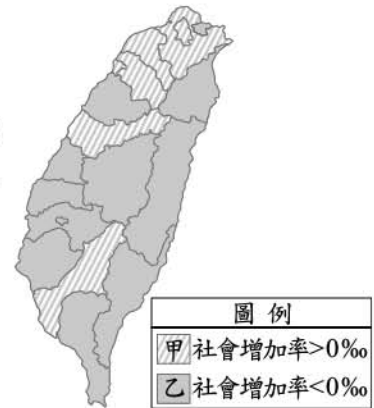
表(六)

民國(年)	每公頃平均收穫量(公斤)	每公頃平均地租(公斤)	每公頃平均佃農所得(公斤)
37	4,793	2,636	2,157
38	5,011	1,797	3,214
39	5,313	1,797	3,516
40	5,485	1,797	3,688
41	5,702	1,797	3,905

- (A)獎勵國際貿易
(B)宣布解除戒嚴
(C)推行土地改革
(D)實施地方自治

41. 歷史上曾出現多次造成人民重大傷亡的水災、旱災等天災，各朝代的皇帝多利用祭天祈禱、廣開糧倉等方式，希望能藉此消解天災所帶來的災難。若上述事件發生在我國，下列何者是政府依法所能採取的應變方式？
- (A)由法院核發保護令，避免災民陷入緊急危難
 (B)由總統發布緊急命令，以加快動員救災進度
 (C)由行政院訂定行政命令，限制民眾人身自由
 (D)由財政首長直接調高稅率，以籌措重建經費

42. 圖(十八)為2010年臺灣本島各縣市社會增加率類型的分布圖，下列用來說明圖中分布狀況的原因何者正確？
- (A)甲類型的推力大於拉力，因物價水準較高
 (B)甲類型的拉力大於推力，因就業機會較多
 (C)乙類型的推力大於拉力，因工業汙染嚴重
 (D)乙類型的拉力大於推力，因社會福利完善

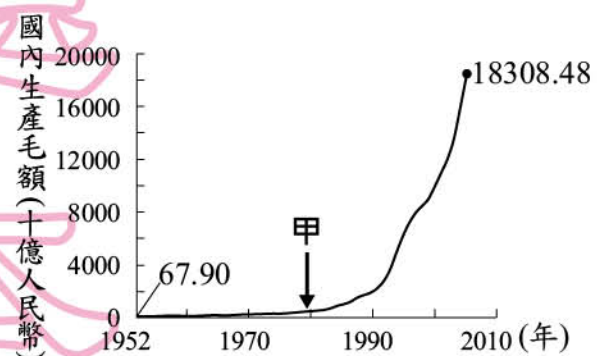


圖(十八)

43. 聯合國教科文組織將中國的洛陽龍門石窟、大同雲岡石窟，以及敦煌莫高窟列為世界文化遺產，這三處世界文化遺產具有下列何項共同特色？
- (A)帝王陵寢的經典建築
 (B)佛教藝術的代表古蹟
 (C)石灰岩地形的特殊景觀
 (D)隋唐運河貿易的重要遺址

44. 糧食自給率是指國內消費的糧食中，由國內生產供應的比率。臺灣糧食自給率在許多因素的影響下，自2000年之後呈現下降的趨勢，根據臺灣農業發展現況判斷，下列何者與此種現象的關係最密切？
- (A)國人的主食稻米須大量仰賴進口
 (B)土地沙漠化嚴重造成可耕地減少
 (C)全球暖化使糧食產量不斷地減少
 (D)加入WTO後面臨進口農產競爭

45. 圖(十九)呈現中國1952年至2005年國內生產毛額的數據資料。圖中曲線從甲處後有明顯變動的情況，最可能與下列何者有關？
- (A)利用韓戰爆發契機，提高進口關稅
 (B)大躍進提倡生產，民眾盡全力煉鋼
 (C)發動文化大革命，進行全面的改造
 (D)實施改革開放政策，引進外來資金



圖(十九)

46. 由於發展高科技產業對於提升國家競爭力有很大的幫助，因此政府對於此類產業採取獎勵研究或租稅優惠的政策，以促進其發展。根據上述內容判斷，下列何者最可能是政府採取該政策的主要原因？

- (A) 避免私人掌控生產資源，獲取大量利潤
 (B) 對國家發展具外部效益，造福社會整體
 (C) 產品容易遭到仿冒複製，故應該由政府保障
 (D) 高科技產品常推陳出新，廠商需要巨額資金



圖(二十)

47. 大毛跟同學一起玩「建立王國」的遊戲，誰能完整取得象徵各項國家組成要素的寶物，就是贏家。若大毛已取得象徵國家主權的寶物，他應再取得圖(二十)中哪一組寶物才能在遊戲中獲勝？

- (A) 甲 (B) 乙
 (C) 丙 (D) 丁

48. 曉芳跟爸爸觀看總統大選的電視政見發表會時，聽到候選人發表關於社會福利的政見，爸爸想知道曉芳在學校的學習成果，便問她說：「妳能不能舉出一個社會福利政策的例子呢？」曉芳應回答下列何者較為適當？

- (A) 提供終身學習機會 (B) 推動老人照護制度
 (C) 擴大志工參與管道 (D) 促進跨國人口流動

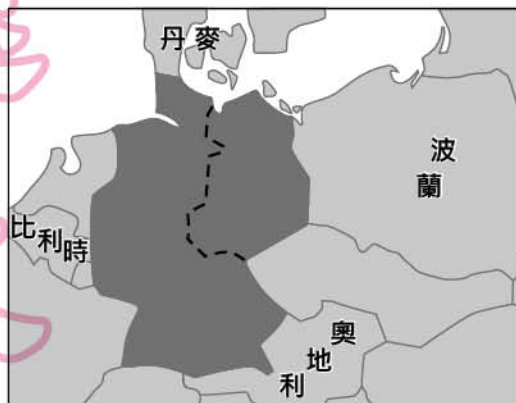
49. 「電影男主角山姆意外發現蘊藏神祕能量的隕石掉落在圖(二十一)中的甲處，在前往尋找該隕石時，與邪惡組織發生爭奪戰。」影片中有下列四個場景，其中哪一個場景的設計較符合隕石掉落處的地理環境？



圖(二十一)

- (A) 場景一：山姆搭乘的直昇機降落在幼發拉底河畔
 (B) 場景二：從空中俯瞰地面的印地安人驅趕著牛群
 (C) 場景三：山姆祕密潛入凡爾賽宮遭邪惡組織偷襲
 (D) 場景四：支援山姆的軍隊遇上了強烈的沙漠風暴

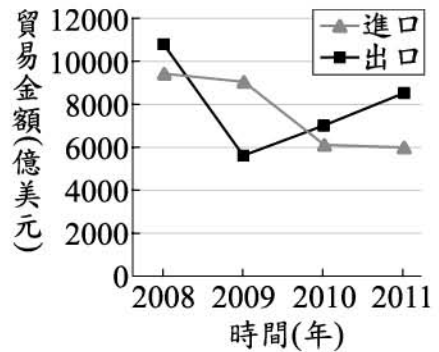
50. 圖(二十二)是1949年至1990年間歐洲部分地圖，圖中深灰色的區域曾屬同一國家，但在此期間卻依虛線為界，分屬不同政權。此長期分裂情況發生的原因，主要與下列何者有關？



圖(二十二)

- (A) 第三世界的出現
 (B) 種族隔離的實施
 (C) 宗教信仰的差異
 (D) 冷戰局勢的發展

51. 圖(二十三)為甲國在2008年至2011年進出口貿易的年度資料。根據圖中內容判斷，甲國在下列哪一年的貿易出超金額最多？
- (A) 2008年
(B) 2009年
(C) 2010年
(D) 2011年



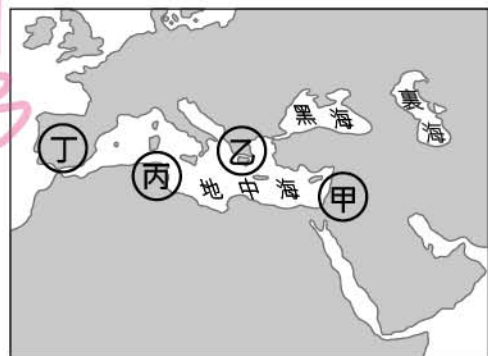
圖(二十三)

52. 「中國深圳因民工眾多，有業者看準這股商機，推出一種用貨櫃做成的廉價旅館，住宿一個晚上的費用不到新臺幣30元，儘管如此，仍有許多在內陸地區找不到工作而流浪至此打工的人，負擔不起這筆費用。」上述情況可能與下列哪一中國社會現象的關係最密切？
- (A) 人口數量過多
(B) 通貨膨脹嚴重
(C) 區域發展不均
(D) 勞工成本上漲
53. 「黃河在此處先沿著賀蘭山向北，經陰山阻擋後向東，再沿著呂梁山向南，形成『几』字狀。西漢時，漢武帝派軍隊擊敗匈奴，占領此處，並築城以屯田、養馬，作為防禦和進攻匈奴的基地，當時，人們引黃河灌溉，農業迅速發展，經濟繁榮。」上文介紹的地方應是位在今日何地？
- (A) 華北平原
(B) 河套地區
(C) 河西走廊
(D) 塔里木盆地

54. 圖(二十四)是里紗參訪古蹟所寫的遊記，此古蹟最可能位於圖(二十五)中甲、乙、丙、丁何處？

當羅馬劇場遇見阿拉伯城堡

我今天去參觀古蹟，這是一座劇場與城堡結合的建築，導遊說劇場興建於古羅馬時期，可容納一萬二千人，歷經阿拉伯帝國等國的統治，依然保存良好；城堡是後來的統治者與當地阿拉伯人為了抵禦十字軍和蒙古人，而陸續興建加蓋。



圖(二十四)

圖(二十五)

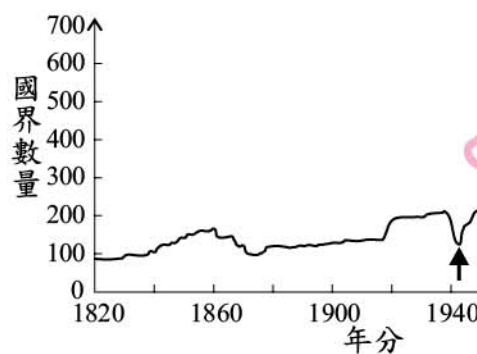
- (A) 甲 (B) 乙 (C) 丙 (D) 丁

二、題組：(55~63題)

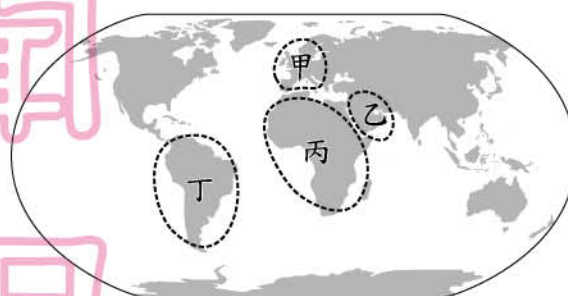
閱讀下列選文，回答第55至57題：

兩個國家之間的界線稱為國界，圖(二十六)顯示近二百年來國界數量的變化，自圖中箭頭指向處起，國界的數量顯著增加。許多新興國家沿用殖民列強的勢力範圍畫分國界，往往因為複雜的民族因素，而導致國內動盪不安。

國界的畫分會形成一種分割，無論是有形的山脈、河川阻隔，或是無形的政治與經濟體制差異等，都會造成鄰國間往來的障礙。目前，已有部分地區透過政策實施，打破國界的限制，促進國家間人員、貨物與資金的自由流通，如圖(二十七)甲區內所形成的區域整合體。



圖(二十六)



圖(二十七)

55. 國界的數量自圖(二十六)中箭頭指向處之後顯著改變，與圖(二十七)中哪一區的國家大量獨立最有關係？
- (A)甲
(B)乙
(C)丙
(D)丁
56. 上文所述國界形成的「無形的」分割，現今在下列哪二個國家之間造成的往來障礙最為明顯？
- (A)法國與德國
(B)北韓與南韓
(C)美國與加拿大
(D)印尼與馬來西亞
57. 文中所舉甲區內的區域整合體，以推行下列何種政策來減少貨物流通的障礙？
- (A)成員國彼此開放市場
(B)提高各國貨幣的價值
(C)採用單一的官方語言
(D)貿易所得為公有共享

閱讀下列選文，回答第 58 至 60 題：

這座城市鄰近長江出海口，清末開港通商以來，逐漸形成二大區域：中國政府管轄的老城區與外國人主導治理的租界區，租界區的外國人享有行政與經濟等獨立自主權，可自組行政機構，並在租界區徵稅。八年抗戰爆發後，因為西方國家保持中立，日軍原則上不能進入西方國家租界區內，所以該地區仍享有特權和保障。但後來事變爆發，不但造成美、英等國對日宣戰，日本也進兵西方國家租界區，侵占外國企業，進一步控制該城市。

58. 上文所述的城市，最可能位於圖(二十八)中甲、乙、丙、丁何處？

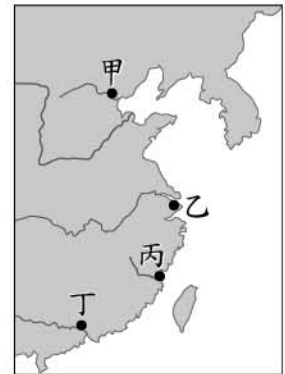
- (A)甲 (B)乙 (C)丙 (D)丁

59. 根據上文，該城市「二大區域」的不同管轄情況，最主要反映出下列哪一現象？

- (A)形成區域統合 (B)維護多元文化
(C)政府分權制衡 (D)主權受到破壞

60. 上文所提的事變，應為下列何者？

- (A)九一八事變 (B)一二八事變
(C)盧溝橋事變 (D)珍珠港事變



圖(二十八)

盧溝橋事變=七七事變

閱讀下列選文，回答第 61 至 63 題：

沙發衝浪(couchsurfing)是一種新興的互助旅遊型態。在網際網路的幫助下，藉由屋主免費提供陌生旅客住宿的空間，讓不同地區的民眾互相接觸，增加彼此了解，發揮互助分享精神，並建立對陌生人的信任感。但對沒有嘗試過的人而言，難免會擔心財物遭竊，因此民間也發展出多種認證機制，提供主客雙方進行辨識，增進彼此的信賴感。這樣的旅遊型態在年輕族群中得到廣大共鳴，因為對經濟較為拮据的他們而言，能節省旅費正是它最大魅力所在。

61. 由上述內容判斷，「沙發衝浪」最有助於達成下列何者？

- (A)避免科技的不當運用 (B)提供更多的國際援助
(C)縮小貧富之間的差距 (D)促進不同文化的交流

62. 文中畫雙底線處的事例若發生在我國，被害人依法可採取下列何種方式進行權利救濟？

- (A)向立法機關提出請願 (B)向主管機關提出訴願
(C)向警察機關提出告訴 (D)向監察機關提出陳情

63. 下列哪一項吸引旅客外出旅遊的誘因，與文中沙發衝浪對年輕族群的最大魅力，最能用同一項「影響消費行為的因素」說明？

- (A)每月休假天數增加 (B)交通運輸票價調降
(C)出國手續辦理時間縮短 (D)網際網路資訊流通快速