

--	--

# 100 第二次國民中學學生基本學力測驗

## 社會科題本

請不要翻到次頁！

讀完本頁的說明，聽從監試委員的指示才開始作答！

※請先確認你的答案卡、准考證與座位號碼是否一致無誤。

請閱讀以下測驗作答說明：

### 測驗說明：

這是國民中學學生基本學力測驗社會科題本，題本採雙面印刷，共 **13** 頁，有 **63** 題選擇題，每題都只有 一個 正確或最佳的答案。測驗時間從 **11:00** 到 **12:10**，共 **70** 分鐘。作答開始與結束請聽從監試委員的指示。

### 注意事項：

1. 所有試題均為四選一的選擇題，答錯不倒扣。
2. 試題中所附圖形，如有附上比例尺，以比例尺為依據作答；若無比例尺，則該圖僅作為參考，不代表實際大小。
3. 可利用題本中空白部分計算，切勿在答案卡上計算。
4. 依試場規則第八條規定，答案卡上不得書寫姓名座號，也不得做任何標記。故意汙損答案卡、損壞試題本，或在答案卡上顯示自己身分者，該科測驗不予計分。

### 作答方式：

請依照題意從四個選項中選出 一個 正確或最佳的答案，並用 **2B** 鉛筆在答案卡上相應的位置畫記，請務必將選項塗黑、塗滿。如果需要修改答案，請使用橡皮擦擦拭乾淨，重新塗黑答案。例如答案為 **B**，則將 **(B)** 選項塗黑、塗滿，即：**(A) ● (C) (D)**

以下為錯誤的畫記方式，可能導致電腦無法正確判讀。如：

- (A) ● (B) (C) (D) — 未將選項塗滿
- (A) (B) (C) (D) — 未將選項塗黑
- (A) ● (C) (D) — 未擦拭乾淨
- (A) ● (B) (C) (D) — 塗出選項外
- (A) ● ● (C) (D) — 同時塗兩個選項

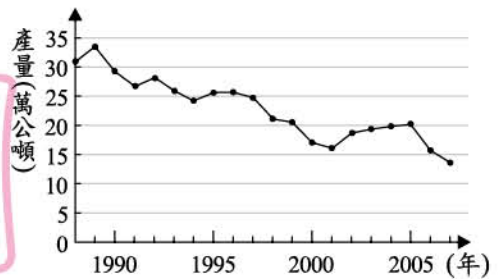
請聽到鈴（鐘）聲響後，於題本右上角方格內填寫准考證末兩碼，再翻頁作答

一、單題：(1 ~ 55 題)

1. 下列四種生活中常見的路標，何者是採取絕對位置的標示方式？



2. 圖(一)為臺灣近年來近海漁業的漁獲量變化曲線圖，下列何者最適合用來解釋該曲線的變化趨勢？



圖(一)

- (A) 漁業資源減少
- (B) 地層下陷嚴重
- (C) 漁業設備老舊
- (D) 經濟海域縮小

3. 臺灣某一品牌的有機稻米，栽培於中央山脈與海岸山脈間的肥沃土地，農民以純淨無汙染的水灌溉，並採取不使用農藥及化學肥料的方式耕作，故孕育出此優質的好米。下列哪一個地區最可能是上述有機稻米的種植區？

- (A) 宜蘭
- (B) 南投
- (C) 屏東
- (D) 花蓮

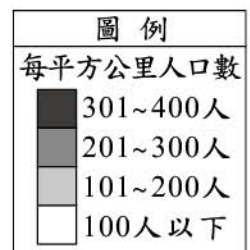
4. 「研究指出，有些人在天色較陰暗的月份裡，因為所受日照時數大幅減少的緣故，會有精神不濟、情緒低落、活動力降低的『冬季憂鬱症』徵狀。」依照文中敘述，下列哪一城市的居民出現上述病症的比例可能最高？

- (A) 印尼雅加達
- (B) 澳洲坎培拉
- (C) 西班牙馬德里
- (D) 芬蘭赫爾辛基

5. 表(一)為四個地區的人口與面積資料，若根據圖(二)中的規則繪製人口密度圖，則下列何者最可能為繪製結果？

表(一)

地區	人口(萬人)	面積(平方公里)
甲	1.8	100
乙	7.5	300
丙	2.0	400
丁	3.5	100



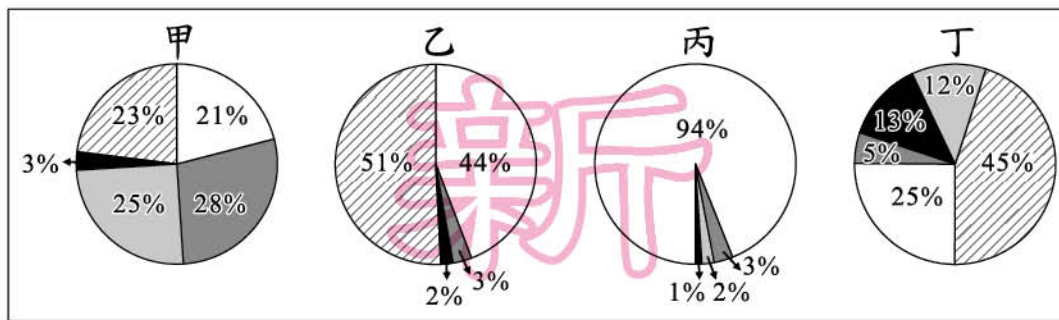
圖(二)





6. 月華到博物館參觀展覽，導覽手冊上有雲岡石窟、龍門石窟的照片及玄奘西行取經的歷程簡述等。下列何者最可能是這項展覽的名稱？
- (A)兩漢經學的承先啟後  
(B)蒙古西征與科技交流  
(C)佛教在中國的傳布發展  
(D)北宋與草原民族的互動
7. 有一份文獻資料描述臺灣某時期的情形：「此時期的公共衛生設施十分健全，設置了自來水、下水道、公立醫院，還有每年春、秋二季的定期大掃除，鼠疫、霍亂等傳染病都近乎絕跡，成功改變了從前衛生設備缺乏、住家內外髒亂的情況。」上文所述的時期最可能是下列何者？
- (A)荷蘭統治時期  
(B)鄭氏統治時期  
(C)清朝統治時期  
(D)日本統治時期
8. 一位學者認為：「1519～1522年的這次海上探險，獲得許多重要成果，包括(1)證實向西航行可達東方；(2)證實地球是圓的；(3)證實美洲並非亞洲的一部分，而是獨立存在的大陸。」由上述內容推斷，此一探險行動最可能是下列何者？
- (A)達伽馬抵達印度  
(B)哥倫布橫渡大西洋  
(C)鄭和航行至非洲東岸  
(D)麥哲倫船隊環繞世界
9. 清朝年間，有大臣上奏，建議朝廷選擇聰穎幼童，將他們送到西方各國學習軍政、船政、數學、製造等學問，十餘年後，當幼童學成歸國並貢獻所學，中國便能熟悉西方技術，國家可以逐漸壯大。朝廷同意此一建議，將其頒布施行。上述情況最早應出現於下列何時？
- (A)鴉片戰爭期間  
(B)自強運動期間  
(C)戊戌變法之際  
(D)新文化運動後
10. 歷史課堂上，老師介紹某個古民族的文化：「此民族相信自然界充滿各類神明，不但定期舉辦奧林匹亞運動會來敬神，還興建帕德嫩神廟(殿)祭神。他們喜歡探究宇宙，也討論現實人生，對後世哲學發展有很大的影響。」上述民族應是下列何者？
- (A)埃及 (B)波斯  
(C)希臘 (D)羅馬

11. 圖(三)為甲、乙、丙、丁四個國家的國會組成比例圖，顯示國會中各政黨席次的分布情況。根據圖中內容判斷，何者最可能屬於「兩黨制」？



圖(三)

- (A)甲                      (B)乙                      (C)丙                      (D)丁
12. 在現代民主政治的運作原則中，政府政策的制定，必須參考人民的需求，並且獲得多數民意的同意後才能執行。根據上述說法，政府必須依法執行下列何者？
- (A)立委候選人的政見                      (B)行政院官員的看法  
(C)在野黨領袖的建議                      (D)立法院通過的議案
13. 「該企業已在世界各地擁有數千家連鎖店，成功吸引許多不同文化的消費者，無論走進位在巴黎或上海的連鎖店，看到的都是近似的畫面：桌邊坐滿悠閒飲著咖啡的人們，或是排隊外帶咖啡者。而一向被認為屬於飲茶國度的亞洲市場，在該企業創新的行銷手法與品牌優勢下，許多茶信徒也成了咖啡迷。」上述現象與下列何者的敘述最相符？
- (A)行銷重點主打物美價廉  
(B)全球消費行為漸趨一致  
(C)商品生產過程更加多元  
(D)飲食習慣符合地方特色
14. 二十歲的小華私自塗改統一發票上的號碼，前往銀行兌領獎金，但遭銀行人員識破並報警處理，之後他被依偽造文書罪起訴。針對上述小華的行為，下列何者最可能是法院審理後作出的判決？
- (A)罰鍰六千元                      (B)有期徒刑一年  
(C)民事賠償二萬元                      (D)假日生活輔導十次
15. 維護治安是警察機關的主要任務，但是當警方動員全部警力緝捕逃犯時，其人力就不可能同時用於其他方面，因此維護治安的資源需要做「最適當」的分配。上述說法主要是基於下列哪一種觀念的考量？
- (A)公共財                      (B)受益原則  
(C)機會成本                      (D)負擔能力原則



16. 住在英國倫敦 (0.2°W, 51.5°N) 的莎莉利用聖誕假期前往中國烏魯木齊旅遊，為了配合目的地所在國家的時間，她應該將手錶時間做下列何種調整？
- (A)調慢 8 小時 (B)調快 8 小時  
(C)調慢 11 小時 (D)調快 11 小時

17. 表(二)的甲、乙、丙代表臺灣的三條主要河川，根據表中資訊判斷，此三條河川由北而南的分布依序為何？

表(二)

河川	河川下游地區的特色
甲	河口附近的七股瀉湖，是黑面琵鷺南下過冬的棲息地。
乙	水量豐穩，無明顯枯水期，早期具航運價值。
丙	該河川所沖積的彰化平原，是臺灣重要的花卉、蔬菜產地。

- (A)甲乙丙  
(B)乙丙甲  
(C)甲丙乙  
(D)丙乙甲

18. 小葉在商店點了一杯飲料，其內容物如圖(四)所示。這些內容物屬於同一種農業類型，下列關於此類型農業經營特色的敘述何者正確？



圖(四)

- (A)高度機械化，農場規模廣大  
(B)單位面積產量高，自給自足  
(C)勞力密集，種植單一作物為主  
(D)鄰近消費市場，結合農村生態

19. 南韓政府近年來積極在首爾西南方 40 公里處，填海造陸擴建仁川港，希望藉由和中國及其他國家的經貿往來，增加港口的吞吐量。若由地緣關係判斷，南韓政府宜優先考量就近與中國哪一地區合作？

- (A)環渤海地區 (B)廈門經濟特區  
(C)珠江三角洲地區 (D)長江三角洲地區

20. 圖(五)為黃河示意圖，其中甲、乙二河段在初春之際，皆會因河段較上游結冰的河水較早融化，而河段較下游的河水仍呈現結冰狀態，導致河水漫溢河道。下列四條河流中，何者最容易發生類似的現象？



圖(五)

- (A) (B) (C) (D)

21. 外國的報紙曾對中國某事件有以下報導：「四川保路同志會所引發的星星之火，終於燎原了。流亡海外的反清領袖孫中山可能被推選為民國總統。」這最可能是針對下列何者所做的報導？

(A) 武昌起義  
(B) 聯俄容共  
(C) 二次革命  
(D) 護法運動

22. 1823年，美國門羅總統發表重要的對外宣言，下列何者是此一宣言的主要內容？

(A)

任何歐洲強權若企圖干預美洲國家事務，美國將視此為對美國安全的威脅。

(B)

任何一州若仍蓄奴，將被視為反叛。所有的奴隸應當獲得並永享自由。

(C)

十三州殖民地應當是自由而獨立的國家，各州與英帝國之間的從屬關係必須取消。

(D)

日本與夏威夷之間的距離，證明這場攻擊是蓄意謀畫，我已下令採取一切手段進行防禦。

23. 清順治到康熙年間，朝廷曾強制沿海居民一律向內地撤遷，濱海30里內的田園、房舍全部焚毀，並派兵駐守，以達到「片板不許下海，粒貨不許越疆」。當時清廷實施這項政策的主要目的最可能是下列何者？

(A) 防備倭寇掠奪東南沿海區  
(B) 禁止居民與鄭氏政權往來  
(C) 阻止傳教士東來中國傳教  
(D) 朝廷欲獨占海外貿易利益

24. 有一段文獻記載：「主教們聚集於聖索菲亞大教堂，向皇帝提交君士坦丁堡主教的候選人名單。皇帝可從名單中挑選，或另外指派他人擔任，而後再根據『上帝和皇帝的旨意』宣布新的首都主教。」上述情況最可能發生在下列哪一帝國？

(A) 阿拉伯帝國  
(B) 拜占庭帝國  
(C) 神聖羅馬帝國  
(D) 亞歷山大帝國

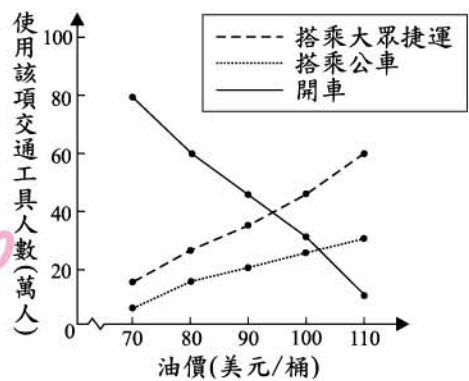
25. 唐玄宗開元年間，朝廷在邊境地區設置十個節度使；然而，某「事件」之後，節度使的數量大為增加，其設置不只在邊境，更幾乎遍及全國。上述「事件」最可能是下列何者？

(A) 黃巢之亂  
(B) 安史之亂  
(C) 武則天稱帝  
(D) 怛羅斯之役



26. 甲國民眾為了因應油價的變化，使用不同交通工具的人數也開始改變，二者的變化關係如圖(六)所示。根據圖中內容，我們可用下列哪一種概念來解釋開車人數的轉變？

- (A)外部效果  
(B)分散風險  
(C)供給法則  
(D)需求法則



圖(六)

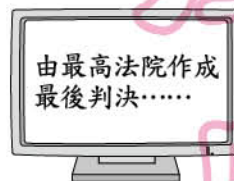

27. 老師請同學繳交期末報告，主題為「我國的行政救濟」，小羅回家後上網試圖搜尋相關資料，下列他所搜尋到的結果中，何者最符合此份報告的主題？

(A)

(B)

(C)

(D)



28. 某學者認為：「企業在行銷活動中，應做誠實的廣告；在新技術發展完成後，若有調整人事的必要，應對員工實施再訓練以代替解雇。」上述內容最可能是在討論跟企業有關的哪一項議題？

- (A)行銷技巧  
(B)社會責任  
(C)風險管理  
(D)科技研發

29. 阿正在連續劇中看到「打官司」的情節，進而和班上同學討論民事訴訟與刑事訴訟的相關內容。下列同學所提出的說法何者正確？

- (A)大華：「民事訴訟需繳訴訟費給檢察官。」  
(B)珍珍：「民事訴訟可以要求債務的履行。」  
(C)阿丁：「刑事訴訟限由被害人才可提起。」  
(D)毛毛：「刑事訴訟若不服可再提起公訴。」

30. 「縣、市合併」是縣、市為爭取成為直轄市的策略，藉由整合鄰近資源，增加改製成為直轄市的可能性。在我國目前的地方政府組織架構下，經由上述方式改製後的直轄市自治組織，將發生下列何種變化？

- (A)改製之後，新的直轄市將增設省諮議會  
(B)新的直轄市中，行政組織將畫分為三個層級  
(C)鄉(鎮、市)公所與區公所將並存於新的直轄市中  
(D)原來的縣、市議會將由重新改選的直轄市議會取代

31. 出生於西元前 550 年的赫喀提亞，大致以自己居住的地方為世界中心(圖的圓心)，繪製出一張「世界全圖」，如圖(七)所示。他居住的地方最接近下列何處？

(A)兩河流域  
(B)印度半島  
(C)愛琴海地區  
(D)伊比利半島



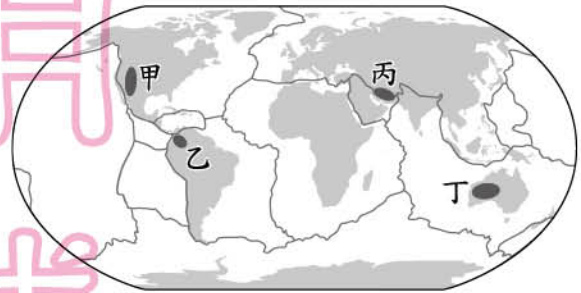
圖(七)

32. 中國山西省某城市曾被列為污染嚴重的城市。以下是某電視臺對該城市的報導：「長期以來，黑色的粉塵瀰漫在空中，嗆人口鼻；上午十點居然看不到太陽，雖然所有人都知道它就在上頭。水是棕黑色的，發出惡臭的氣味……。」根據上述報導，該城市的污染主要來自下列何者？

(A)沙塵暴  
(B)火山爆發  
(C)採煤與燃煤  
(D)石油開採與提煉

33. 南非高原、德干高原、巴西高原等地形區，具有陸塊形成時間久遠、地形相對平坦和金屬礦產資源豐富等特徵。圖(八)是世界板塊分布圖，根據上述三區於圖中的分布位置推論，圖中何地也有相同特徵？

(A)甲 (B)乙  
(C)丙 (D)丁



圖(八)

34. 某次國際會議上，戰勝國以克里蒙梭與勞合喬治為首，要求德國承擔起發動戰爭的全部責任，並賠償各國損失。德國外交代表聲言，他們不想逃避應負的戰爭責任，但反對由德國負起全責，因為他們認為自己是在打一場防衛戰。這場戰爭應是下列何者？

(A)普法戰爭 (B)法國大革命  
(C)第一次世界大戰 (D)第二次世界大戰

35. 十七世紀前期，歐、亞國家的商人活躍於東亞，使得此地的海上貿易蓬勃發展。若要描述當時荷蘭商人在東亞的活動，下列何者較合適？

(A)以巴達維亞作為貿易據點，並占領臺灣南部  
(B)因貿易策略考量，最早在臺灣北部建立城堡  
(C)首先來到東亞，在澳門建立據點與中國通商  
(D)因日本實施鎖國政策，導致對日貿易的中斷



36. 一本介紹臺灣港口的書提到：「這座港口在清末開港通商，曾受中法戰爭的戰火波及，日本統治時重新整建，由於其位置較接近日本，因此成為當時進出臺灣的主要門戶。商人及遊客可以在港邊的車站搭上火車，前往其他地方。」這段話最可能是介紹下列何者？

- (A)基隆 (B)鹿港  
(C)安平 (D)高雄

37. 在某本史書中有一段敘述：「這個王朝最初定都南京，是中國史上第一個崛起於江南而統一全國的王朝。但數十年後，為了遷都北京，開始修整大運河，以求有效地將江南物資輸往北京。」這最可能是指下列哪一個朝代？

- (A)漢朝 (B)隋朝  
(C)宋朝 (D)明朝

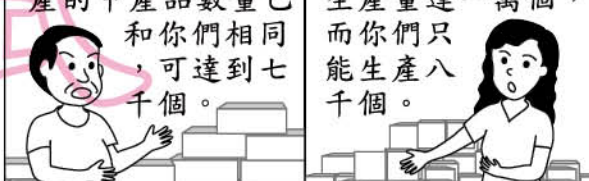
38. 在法律制定的過程中，可能因為部分利益團體向民意代表施壓，使立法機關所制定的法律忽略多數民意。下列何項權利的行使，有助於補救上述的缺失？

- (A)受益權  
(B)訴願權  
(C)複決權  
(D)服公職權

39. 圖(九)是二家工廠負責人的對話。若這二家工廠都可生產甲、乙二種產品，但每家工廠同時只能選擇其中一種進行生產，在不考量其他因素的情況下，由圖中內容判斷，下列關於生產甲產品的敘述何者正確？

- (A)北海廠具有比較利益  
(B)南海廠具有比較利益  
(C)北海廠具有絕對利益  
(D)南海廠具有絕對利益

北海廠負責人	南海廠負責人
雖成立未滿一年，但我們每日所能生產的甲產品數量已和你們相同，可達到七千個。	但是在生產乙產品方面，我們每天的生產量達一萬個，而你們只能生產八千個。



圖(九)

40. 現代民主國家為落實權力分立的原則，各有不同的作法。我國將中央政府規畫成五院，其中某院除掌理各種訴訟審判之外，尚有懲戒違法失職公務人員的職權。由上述內容判斷，下列何者也屬該院的職權？

- (A)質詢中央政府官員  
(B)掌理公務員退休事宜  
(C)審理政黨違憲解散事項  
(D)對政府行政機關提出糾正

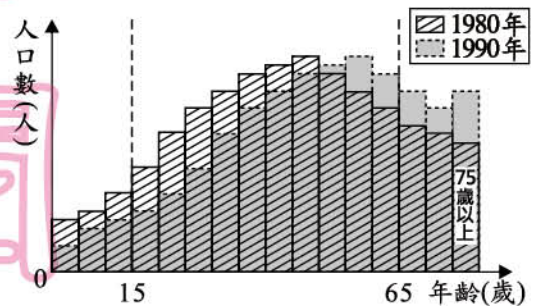
41. 秦朝的「田律」規定，每年的一段期間內，不准進山砍伐森林，不准誘捕幼獸；清朝頒布禁令，嚴禁於虎丘周圍設染坊，以保護水質。綜合上述二例內容判斷，其中隱含的觀念與下列何種做法的目的最類似？

- (A)運用觀光資源，促進經濟發展  
(B)採用嚴刑峻罰，遏止犯罪問題  
(C)限制開發範圍，避免破壞環境  
(D)立法保護古蹟，維護文化資產

虎丘：地名，位於今江蘇省蘇州市。

42. 圖(十)為某國1980年與1990年人口年齡分布資料的重疊比較圖。由圖中內容判斷，相較於1980年，下列關於該國1990年人口變化的敘述何者正確？

- (A)高齡化日益顯著  
(B)青壯年持續增加  
(C)少子化日漸趨緩  
(D)扶養比逐漸變小



圖(十)

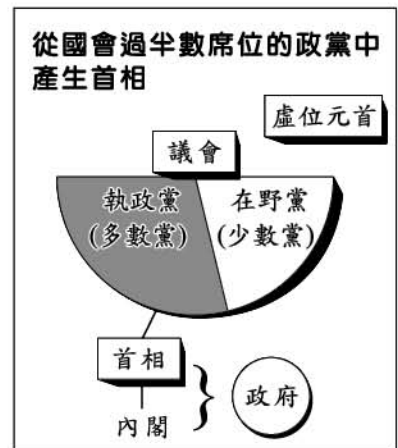
43. 以下是阿里說明某種概念時，所引述的相關名言——

- (一)某哲人說：「世界上沒有人有權告訴別人應信仰什麼，也無權阻止別人自由思考。」  
(二)某史家說：「當權者的不寬容才可怕，因他可利用公權力限制人民的自由。」  
綜合上述內容判斷，下列何者最可能是他所探討的主題？

- (A)人民的基本權利  
(B)三權分立與制衡  
(C)地方自治的事項  
(D)國家構成的要素

44. 圖(十一)是小慈用來輔助說明某國家政府體制的圖形，根據其內容判斷，她最可能是在說明下列哪一國家？

- (A)北韓  
(B)英國  
(C)美國  
(D)中華民國



圖(十一)

45. 「在向東發展的過程中，王分封諸侯，後來諸侯分封卿大夫，諸侯、卿大夫可在其封地內建立宗廟。這個制度的特徵是採嫡長子繼承，藉由宗廟及祭祀活動來凝聚族人的情感及向心力，並提醒子孫們族群的根源，不要忘本。」上述最可能是介紹下列哪一制度？

- (A)西周的宗法制度  
(B)秦代的郡縣制度  
(C)上古印度的種姓制度  
(D)中古西歐的封建制度



46. 近數十年來，巴西積極開發境內的亞馬孫河流域，卻屢遭各國批評。下列何者最可能是各國反對亞馬孫河流域過度開發的主要原因之一？
- (A)森林內蘊藏物種繁多，牽繫著地球的生態平衡  
 (B)擁有廣大的針葉林，是全球木材資源的主要供應地  
 (C)下游地區有馬雅文明的遺址，是人類學研究的重要題材  
 (D)流域面積廣大，支流眾多，是南美國際貿易重要的航運路線

47. 圖(十二)是某一地區的介紹，此地區應是下列何者？

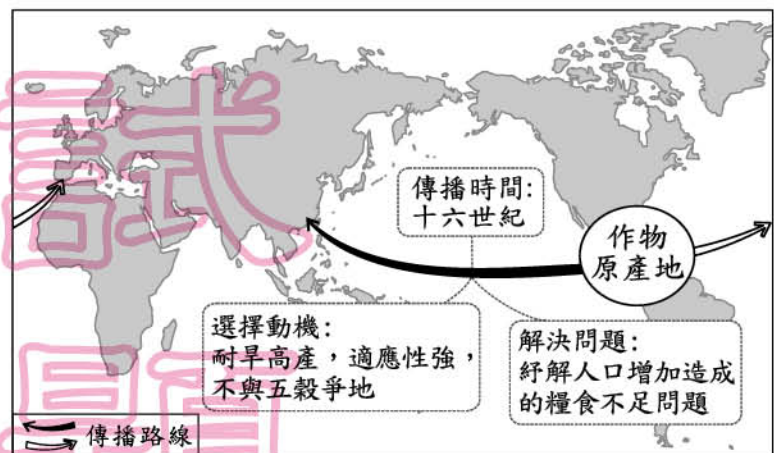
1. 本地區的宗教與民族複雜，其間的利益衝突難以協調。
2. 十九世紀時，主要統治此地的鄂圖曼土耳其帝國衰落，各民族紛紛尋求獨立，政局不安。
3. 冷戰期間，美、蘇在此地各結盟國，相互抗衡。

- (A)南非  
 (B)南亞  
 (C)伊比利半島  
 (D)巴爾幹半島

圖(十二)

48. 過去我們常使用「鄰里」、「村落」、「部落」等名詞，形容特定地理範圍的集居狀態，但近年逐漸出現「社區」一詞的說法，更強調居民對社區的心理認同與情感歸屬。上述關於社區的說法，主要在凸顯下列何者的重要性？
- (A)社區活動  
 (B)社區型態  
 (C)社區意識  
 (D)社區環境

49. 圖(十三)是某本中國歷史書中的圖片，這幅圖最可能是說明下列哪一主題？
- (A)咖啡的種植與改良  
 (B)番薯的引進與推廣  
 (C)蓬萊米傳入與影響  
 (D)茶葉的栽培與運銷



圖(十三)

50. 人口統計資料，如出生、死亡、移入、移出等，皆以戶籍登記所在地為依據。2001年至2008年6月期間，只有在金馬地區設籍六個月以上的人民，才可依小三通模式來往兩岸。金馬地區於2001年時，最可能因上述政策而明顯呈現下列哪一種人口數據變化？
- (A)人口密度下降  
 (B)社會增加率增加  
 (C)自然增加率增加  
 (D)外籍配偶人數減少

51. 圖(十四)是某展覽的簡介，根據內容判斷，此次展覽的主題最可能是下列何者？
- (A)南島語族與臺灣原住民  
(B)非洲大陸及其各種語系  
(C)全球化下的語言同化現象  
(D)帝國殖民統治的語言政策

展覽簡介

在太平洋的眾多島嶼上，有許多使用不同語言的族群，但他們對於鯊魚、烏賊、蝦子等動物的稱呼卻很類似，語言學家因而認為，這些族群語言的起源可能相同。他們的分布範圍東起復活島，西到非洲東岸的馬達加斯加島，南到新幾內亞、紐西蘭，而臺灣則是其分布的北界，保存了許多古語的特徵。

圖(十四)

52. 老師講解某位學者的學說：「他主張自由貿易並不需要政府過多的注意與限制，競爭愈為自由與普遍，則愈有利於社會，也能使國家得到充分的發展與繁榮。」老師最可能是介紹下列哪一位學者？
- (A)馬克思 (B)孟德斯鳩  
(C)亞當斯密 (D)馬基維利

53. 圖(十五)為鹿特丹到舊金山的二條海運航線，其中甲航線為目前的航線，而距離較短的乙航線經過北極海海域，以往多處於冰封狀態，但隨著全球暖化，該航線未來可能全年皆可通行。若乙航線暢通後，將使哪一個國家來自船隻通行費的收入大為減少？
- (A)埃及  
(B)新加坡  
(C)俄羅斯  
(D)巴拿馬



—甲航線 -----乙航線

圖(十五)

54. 企業為了降低生產成本，追求最高利潤，在選擇設廠地點時，通常會考量原料、動力、勞工、市場等區位條件。下列選項中，企業設廠主要考量的區位條件，何者與其他三者差異最大？
- (A)臺灣在民國五〇年代設立加工出口區，發展紡織、電子組裝等加工業  
(B)中國於沿海地區設立經濟特區，吸引外商前往投資玩具、製鞋等工業  
(C)日本於1980年代，產業開始外移，家電公司紛紛至東南亞設立工廠  
(D)委內瑞拉為石油輸出國家組織會員國，有不少外商前往投資石化工業
55. 「這個地區早期被稱為 Gangaridai，意謂『恆河位於土地的心臟地帶』。雖然現在當地居民的主要宗教信仰，已經由印度教轉變為伊斯蘭教，也不再視恆河為聖河，但是河水仍然影響著人們的衣食住行。」上述地區的範圍應約略等於現今哪一國家？
- (A)印度 (B)孟加拉  
(C)巴基斯坦 (D)斯里蘭卡



二、題組：(56～63 題)

閱讀下列選文，回答第 56 至 58 題：

「三月瘋媽祖」是形容臺灣每年農曆三月掀起的媽祖祭典熱潮，其中又以鎮瀾宮的遶境活動最引人矚目。遶境路線從臺中市大甲鎮瀾宮出發，沿途經過彰化縣、雲林縣，目的地是嘉義縣新港奉天宮。近年來，政府配合遶境活動舉辦國際觀光文化節，除了延續傳統以外，還希望透過創意的發揮，將當地的文化、信仰、特產與流行元素結合，促進地方觀光，如：有些「業者」看中這塊商機，將媽祖等神明以人偶公仔的形象呈現在消費者眼前，讓信徒們可將造型可愛的神明公仔與祝福帶回家，不僅成功地開拓新市場，也能發揚傳統信仰與文化。

56. 下列何者位於上述遶境活動所經過的直轄市或縣境內？
- (A)熱蘭遮城 (B)卑南文化遺址  
(C)八堡圳的水利設施 (D)莫那魯道抗日紀念碑
57. 根據文中內容，這項活動的變化最符合下列何項敘述？
- (A)歷史古蹟的保存 (B)區域統合的形成  
(C)宗教信仰的規範 (D)傳統文化的創新
58. 文末關於「業者」的敘述，其主要描述的生產業要素類型，與下列何者強調的生產業要素類型最相似？
- (A)興建公寓大廈的水泥 (B)操作紡織機器的員工  
(C)一般戲院的視聽設備 (D)超級市場的促銷方案

閱讀下列選文，回答第 59 至 60 題：

以下為清朝後期四名官員聯合上奏的部分內容：

由於去年倭人假借報仇之名，企圖占領臺地，朝廷不得已而有開山撫番的措施。……眾人皆以為開山是為了撫番，卻不知今日撫番的主要目的，在於防止來自海上的侵犯。且臺灣位處要地，天氣暖和，物產豐富。近來有洋人往來番地，遊歷傳教、描繪山川地形，朝廷若不將後山一帶收歸治理，必遭外敵侵入，恐演變成無法收拾的局面。

☐ 後山：指臺灣東部。

59. 上文提及「去年倭人企圖占領臺地」，其發生原因與下列何者有關？
- (A)霧社事件 (B)林爽文事件  
(C)牡丹社事件 (D)郭懷一事件
60. 上述奏議的主旨，最可能是下列何者？
- (A)上奏倭人已占領臺灣後山，建議朝廷應當出兵以收復失土  
(B)強調開山撫番重要性，認為加強治理臺灣才能防外力入侵  
(C)說明倭人與洋人聯手侵臺，假借傳教之名，已經攻陷番地  
(D)觀察洋人在臺活動情形，建議朝廷應全面開港與外國通商

閱讀下列選文，回答第 61 至 63 題：

傳統上，用來釀造葡萄酒的葡萄，其產區主要分布在法國、西班牙、義大利、澳洲、美國等國之地中海型氣候區，夏末秋初為採收的季節。小曼今年在臺灣購買了一瓶進口的葡萄酒，酒瓶上的中文標籤如圖(十六)。她在購買時發現，與十幾年前相比，現在的選擇性更多，售價也比較便宜，這是由於臺灣及葡萄酒產國加入某一國際組織後，葡萄酒產國的生產及市場規模擴大，且葡萄酒輸入臺灣時的關稅降低所導致的結果。

品名:克利特級葡萄酒  
採收時間:1987年3月  
品種:卡伯納·蘇維翁  
產區:██████████  
內容量:750毫升  
酒精濃度:15%  
產國:██████████  
警告:未滿十八歲不得飲酒

圖(十六)

61. 根據葡萄採收的季節及標籤提供的訊息判斷，小曼買的葡萄酒，其葡萄產區最可能位在下列何國？
- (A)法國  
(B)美國  
(C)澳洲  
(D)義大利
62. 標籤上警語的內容，符合我國何項法律的規定？
- (A)《民法》  
(B)《刑法》  
(C)《社會秩序維護法》  
(D)《兒童及少年福利法》
63. 上文中葡萄酒產國加入的國際組織是指下列何者？
- (A)聯合國  
(B)歐洲聯盟  
(C)世界貿易組織  
(D)亞太經濟合作會議