

# 99 第二次國民中學學生基本學力測驗

## 社會科題本

請不要翻到次頁！

讀完本頁的說明，聽從監試委員的指示才開始作答！

※請先確認你的答案卡、准考證與座位號碼是否一致無誤。

請閱讀以下測驗作答說明：

### 測驗說明：

這是國民中學學生基本學力測驗社會科題本，題本採雙面印刷，共 **13** 頁，有 **63** 題選擇題，每題都只有一個正確或最佳的答案。測驗時間從 **11：00** 到 **12：10**，共 **70** 分鐘。作答開始與結束請聽從監試委員的指示。

### 注意事項：

1. 所有試題均為四選一的選擇題，答錯不倒扣。
2. 試題中所附圖形，如有附上比例尺，以比例尺為依據作答；若無比例尺，則該圖僅作為參考，不代表實際大小。
3. 可利用題本中空白部分計算，切勿在答案卡上計算。
4. 依試場規則第八條規定，答案卡上不得書寫姓名座號，也不得做任何標記。故意汙損答案卡、損壞試題本，或在答案卡上顯示自己身分者，該科測驗不予計分。

### 作答方式：

請依照題意從四個選項中選出一個正確或最佳的答案，並用 **2B** 鉛筆在答案卡上相應的位置畫記，請務必將選項塗黑、塗滿。如果需要修改答案，請使用橡皮擦擦拭乾淨，重新塗黑答案。例如答案為 **B**，則將 **Ⓑ** 選項塗黑、塗滿，即：**Ⓐ ● Ⓒ Ⓓ**

以下為錯誤的畫記方式，可能導致電腦無法正確判讀。如：

- Ⓐ Ⓑ Ⓒ Ⓓ — 未將選項塗滿
- Ⓐ Ⓑ Ⓒ Ⓓ — 未將選項塗黑
- Ⓐ ● Ⓒ Ⓓ — 未擦拭乾淨
- Ⓐ Ⓑ Ⓒ Ⓓ — 塗出選項外
- Ⓐ ● ● Ⓓ — 同時塗兩個選項

請聽到鈴（鐘）聲響後，於題本右上角方格內填寫准考證末兩碼，再翻頁作答

一、單題：(1~55題)

1. 杜拜是組成阿拉伯聯合大公國的七個邦之一。圖(一)是某雜誌上關於杜拜的廣告文宣，文宣中所提到的「黑金」指的是下列何者？
- (A)煤  
(B)鐵  
(C)石油  
(D)鑽石



圖(一)

2. 李老師描述中國許多河流的水文特性，其中有一段講到：「……這一條河流在歷史上以水患頻繁著稱，河水經常從中游搬運大量泥沙到下游堆積，在河堤越修越高的情況下，下游幾乎沒有支流匯入。」根據上文判斷，最有可能是描述下列哪一條河流？
- (A)珠江 (B)長江  
(C)黃河 (D)松花江
3. 根據歷年經驗，謝先生從臺北返回彰化老家過農曆年，沿中山高速公路南下，在新竹、苗栗一帶經常是陰雨綿綿，而臺中一帶卻天氣晴朗。導致天氣如此轉變，是因下列哪一盛行風受地形影響的結果？
- (A)東南季風 (B)東北季風  
(C)西南季風 (D)盛行西風
4. 在介紹中國的旅遊節目中，主持人的旁白如下：「這裡的城郊盡是階梯狀田地景觀，由於當地氣候乾燥加上土壤性質特殊，居民得以在田地下方的坡地挖掘土穴作為房舍。」根據上文所述的景觀研判，此節目正在報導下列哪一個區域？
- (A)黃土高原  
(B)雲貴高原  
(C)塔里木盆地  
(D)東南丘陵(浙閩丘陵)

5. 圖(二)虛線為臺灣部分縣市的畫分界線，小胖觀察到該界線與圖中實線所代表的某種天然屏障有密切關係。該天然屏障為下列何者？
- (A)峽谷  
(B)斷層  
(C)山脈  
(D)河流



圖(二)

6. 「1733-1738年間，凱伊發明了飛梭，提高了織布效率；1738年，惠特製成了滾筒式紡紗機；1760年，織布工人哈格里夫斯改造出立式的新型紡紗機，使紡紗效率提高十幾倍……。」以上技術的發展，開啟了下列哪一史事？  
(A)工業革命 (B)科學革命  
(C)地理大發現 (D)英法百年戰爭
7. 阿欣完成了臺灣史報告，她將報告的關鍵詞設定為「報禁」、「美麗島事件」、「耕者有其田」等，依此推斷，該報告的主題最可能是下列何者？  
(A)戒嚴時期的社會面貌 (B)日治時期的民主運動  
(C)韓戰時期的外交衝擊 (D)抗戰時期的國家政策
8. 有一本史書寫道：「他在位時，國力強盛，在國家規制上有許多建樹，如罷黜百家、獨尊儒家思想，設太學培育官員等。然而，由於長期與北方游牧民族對抗，致使國力消耗甚鉅，因此推行國營專賣等措施來擴充財源。」這段話應是描述下列哪位君王？  
(A)秦始皇 (B)漢武帝  
(C)唐太宗 (D)明太祖
9. 小嵐到埃及旅遊，除了參觀著名的金字塔及獅身人面像之外，也看到具有古希臘風格的神殿遺跡，這種風格的神殿建築會出現在埃及，與下列何者的關係最為密切？  
(A)十字軍東征  
(B)亞歷山大東征  
(C)義大利文藝復興  
(D)查理曼帝國擴張
10. 小潔利用暑假參加「臺灣史蹟研習營」，解說員在介紹一處遺址時說：「這個文化聚落主要位於河、湖邊和海岸附近，居民以捕魚、狩獵及種植穀物為生，許多生產工具和武器是用鐵製作的。」這處遺址最可能屬於下列哪一文化？  
(A)長濱文化 (B)卑南文化  
(C)大坌坑文化 (D)十三行文化
11. 孔雀王朝建立後，到西元前3世紀阿育王在位時，政績輝煌，國力強盛，下列何者是他的重要作為？  
(A)建立「種姓制度」，嚴格訂定各階層行為規範以維護社會秩序  
(B)建構婆羅門教教義，發展出靈魂輪迴的思想與因果報應等主張  
(C)致力向外傳播佛教，使佛教信仰由印度逐漸擴展到鄰近的國家  
(D)結合民間習俗創立印度教，成為今日印度人民信奉的主要宗教

12. 新聞報導：「傳統的車輪餅只有奶油、紅豆等少數口味，但現在有業者研發出二、三十種創意內餡，使用相同的器具卻能提供消費者更多種選擇，為傳統車輪餅市場開創無限商機。」上述業者的做法，凸顯下列哪一項生產要素的重要性？
- (A)土地 (B)資金  
(C)企業才能 (D)機器設備

13. 身為公眾人物的暮村，某次私人聚會時遭到記者偷拍並大肆報導，他覺得這種行為嚴重侵犯他的隱私權，但記者卻以民眾有知的權利作為回應。根據我國法律判斷，暮村可透過下列哪一種途徑來維護自己的權益？
- (A)提出彈劾 (B)提出請願  
(C)提起訴願 (D)提起訴訟

14. 表(一)是甲國政府公告下年度綜合所得稅的課徵稅率。從表中可知，該國綜合所得稅課稅的標準，是依據下列哪一種概念而設定的？

表(一)

級別	所得(美元)	稅率
1	未滿10,000	5%
2	10,000-30,000	12%
3	超過30,000	20%

15. 小莉銷售自己製作的四種西點，表(二)是上個月收支的部分明細。根據表中內容判斷，該月分銷售利潤最高的是哪一項商品？

表(二)

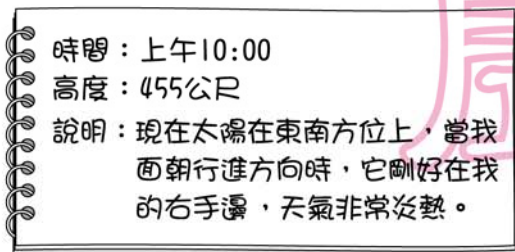
產品	售價(元/個)	材料費等成本(元/個)	銷售量(個)
布丁	25	10	100
蛋糕	30	10	80
鮮奶酪	40	15	90
蘋果派	50	20	60

16. 右列報導是小志閱讀某雜誌的部分內容。根據內容判斷，作者最可能在說明下列何者的重要性？
- (A)創業風險  
(B)教育改革  
(C)終身學習  
(D)經濟發展

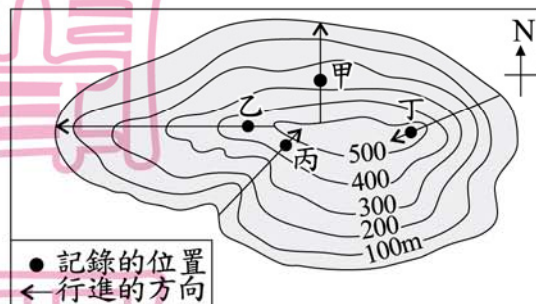
面對科技時代的迅速變遷，許多商業機構鼓勵員工進修與工作有關的技能。此種風氣漸漸遍及各種行業，就業多年的勞工與專業人士紛紛重返學校，以不斷更新他們工作所需的新知。

17. 「食物里程」是指食物從生產地送到消費者手中的運送距離。某企業的老闆在臺中市舉辦年終尾牙宴時，為響應節能減碳、降低汙染的環保政策，於是考量食物里程來選用水果。若皆以相同款式的貨車運送，選用下列哪一產地直銷的水果，最能符合該老闆的想法？
- (A) 雲林的柳丁 (B) 屏東的蓮霧  
(C) 宜蘭的蕃茄 (D) 高雄的芭樂

18. 圖(三)為阿仁在某小島的野外調查紀錄，根據圖中資訊判斷，他記錄時所在的位置，最有可能為圖(四)中甲、乙、丙、丁何處？



圖(三)



圖(四)

- (A) 甲 (B) 乙 (C) 丙 (D) 丁
19. 「每年農曆春節前後，中國有數億離鄉工作的人口，藉由鐵、公路往返於家鄉與工作地點間，龐大人潮常造成運輸系統的壅塞，也使得政府運輸部門如臨大敵，此即為『春運現象』。」根據上文所述，若以中國三大經濟地帶區分，在春節前，返鄉人潮最多的移動方向應為下列何者？
- (A) 西部→中部 (B) 中部→西部  
(C) 東部→中部 (D) 中部→東部
20. 「存在於地球已四億年的活化石『鱉』，過去在臺灣極為常見，現今卻較難見其蹤跡。某地區在成立國家公園之前，曾因戰地政務的考量，在沿海的樹林中大量放置地雷，阻隔人們進入濱海的沙灘地，使該地意外成為鱉理想的產卵地點。」上文所指的國家公園最可能為下列何者？
- (A) 金門 (B) 雪霸  
(C) 墾丁 (D) 太魯閣
21. 「鹿特丹因位於某條國際大河的出口，銜接北大西洋航線，轉口貿易發達，不僅是該國的最大商港，也是遠洋貨物進出歐洲的大門，有『歐洲的窗口』之稱。」上文中提到的國際大河應是下列何者？
- (A) 多瑙河 (B) 萊茵河  
(C) 密士失必河 (D) 聖羅倫斯河

22. 筱鵬在課堂報告說：「這個事件在世界史上有重大意義。政治上，它直接影響了俄羅斯歷史的發展；文化上，它帶來文化交流，如火藥的傳入歐洲，各國君王因此可使用火炮攻打以堡壘作為屏障的封建領主，間接對歐洲封建制度的崩解產生了影響。」他最可能是介紹下列何者？
- (A) 蒙古西征 (B) 鄭和下西洋  
(C) 麥哲倫環繞世界 (D) 日耳曼民族遷徙
23. 清朝統治臺灣初期，對於人民渡海來臺曾頒布相關禁令：禁止無照渡臺，且有照者亦不得攜帶家眷。在來臺者多為男性的情況下，使得臺灣社會漢人男女人口比例嚴重失衡。當時清廷頒行前述禁令最主要的原因為何？
- (A) 限制移民開墾，防止漢人叛亂  
(B) 臺灣地理條件差，不適宜居住  
(C) 倡導族群融合，鼓勵漢人與原住民通婚  
(D) 重男輕女觀念盛行，不許婦女參與墾殖
24. 老師評論某個時代知識分子的表現時說到：「由於政權的腐化黑暗，政治秩序始終無法建立。他們對現實政治感到灰心，為了避免得罪當權者，紛紛轉而談玄說理，清談之風因此大盛，事實上這也是對現實環境的一種消極反抗。」此一時代最可能是下列何者？
- (A) 春秋戰國 (B) 秦末漢初  
(C) 魏晉時期 (D) 五代十國
25. 表(三)為臺灣歷史上官方曾推行的四項文教措施，其中何者開始施行的時間最晚？
- (A) 甲 (B) 乙  
(C) 丙 (D) 丁
- | 臺灣文教措施 |                            |
|--------|----------------------------|
| 甲      | 教導新港社等地原住民以羅馬字拼注母語，閱讀《聖經》。 |
| 乙      | 開辦教育，設立公學校，傳授基礎知識。         |
| 丙      | 興建孔廟、設置明倫堂，教授儒學。           |
| 丁      | 成立西學堂與電報學堂，培養相關建設人才。       |
26. 中國歷史上，有些朝代在立國之初，分封宗室鎮守全國重要地區，用以抵禦外患及捍衛王室。後因封建諸王勢力擴大，皇帝進行削藩，引發藩王反抗，雙方爆發戰爭。下列何者即屬於這種類型的動亂？
- (A) 唐代的安史之亂  
(B) 北宋的靖康之禍  
(C) 明代的靖難之變  
(D) 清代的三藩之亂

27. 右列是阿詠舉例說明某一概念的部分內容，根據內容判斷，這應是在探討我國《憲法》中哪一類型的人民基本權利？

- (A)平等權 (B)自由權  
(C)受益權 (D)參政權

- 小民大學畢業後，通過公務人員考試，分發到鄉公所工作。
- 選舉前，里長廣播提醒大家踴躍投票，不要放棄自己神聖的一票。

28. 某國的甲黨積極推動「檢討健康保險制度」的議題，針對現行制度存在的問題、理想的運作模式和可能的調整方向提出諸多討論。上述內容最能說明政黨的何項功能？

- (A)主導組織政府 (B)提升民主素養  
(C)推薦候選人才 (D)擬定公共政策

29. 「有鑒於人們對休閒生活的重視，且附近地區約有8,000萬人口，14歲以下就有1,500萬人之多，因此我們決定選擇此地區興建兒童主題樂園。」上述說法中，生產者所考量的主要是下列哪一項課題？

- (A)何時生產 (B)如何生產  
(C)為誰生產 (D)生產數量

30. 法律扶助是指對於需要法律服務卻無力負擔費用的人民，由國家出資提供法律協助，保障其權利，以減少因經濟弱勢而導致的不平等。上述政府的做法，最有助於國家達成下列何種目的？

- (A)伸張社會正義 (B)保障人民自由  
(C)維護國家安全 (D)維持公共秩序

31. 阿榮無照駕駛、違規闖紅燈並撞傷學童，警察隨即到場並開單處罰，事後雙方和解不成，遭學童家長告上法院。表(四)是他此次事故所支出的費用，其中屬於民事責任的部分是多少元？

- (A) 17,400 (B) 51,000  
(C) 52,500 (D) 68,400

表(四)

項目	金額(元)
地方法院科處罰金	1,500
違反交通規則罰鍰	17,400
賠償被害人醫藥費	51,000

32. 許多企業研發各種可再生使用的產品，以減少地球資源的消耗，同時也改採視訊會議的方式來開會，以減少員工在交通往返上所花費的金錢與產生的污染。上述做法的目的是為了符合下列哪一種概念？

- (A)跨國企業的結合 (B)交通技術的革新  
(C)網際網路的應用 (D)永續發展的推動

33. 臺灣的阿里山小火車遠近馳名，從嘉義火車站出發，翻山越嶺到達阿里山站，僅僅四個多小時的車程，即可看到闊葉林、混合林、針葉林等豐富的植物景觀變化。下列對臺灣的描述，何者最適合用來解釋上述現象？

- (A)屬於暖溼的季風氣候
- (B)位居東亞中樞的位置
- (C)地處海洋與大陸交界地帶
- (D)位處低緯且多高山的島嶼

34. 小荷正在玩「模擬牧場」的電腦遊戲，她以馬匹作為主要的飼養牲畜，若須以廣大草原作為選取牧場的首要條件，根據現今中國的地理環境判斷，圖(五)中甲、乙、丙、丁何處是她的最佳選擇？



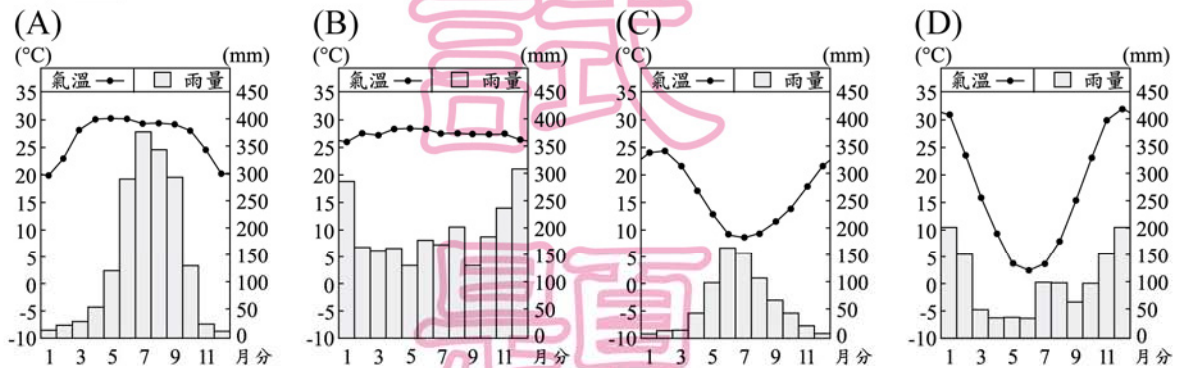
圖(五)

- (A)甲
- (B)乙
- (C)丙
- (D)丁

35. 有兩架飛機在同一時間分別從甲(30°W, 60°S)、乙(30°E, 60°S)兩點向正北方飛行，並移動至60°N。假設兩者飛行速度及高度相同，則在移動至60°N的過程中，它們之間的距離呈現何種變化？

- (A)逐漸縮短
- (B)逐漸加長
- (C)先變長再縮短
- (D)始終保持不變

36. 小妮的家鄉位於南半球，而且當地冬季降雨比夏季多。下列哪一張圖最可能是小妮家鄉的氣候資料？



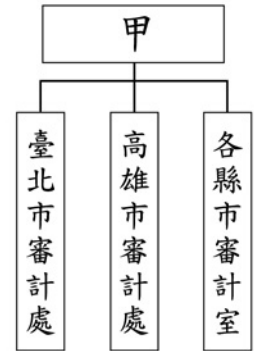
37. 在某文學作品中提到：「陳先生在警察的鼓吹下，乘坐火車到臺北參觀博覽會。會場中，他與人發生衝突，怒斥：『什麼產業臺灣的躍進！這不過是你們東洋人的躍進，若是臺灣人的子弟，恐怕連寸進都不能！』」由上述內容推斷，陳先生的身分最可能是下列何者？

- (A)隨鄭氏軍隊來臺的明代文人
- (B)荷蘭東印度公司在臺的翻譯
- (C)清初奉派來臺就任的官員
- (D)日本統治下的臺灣讀書人



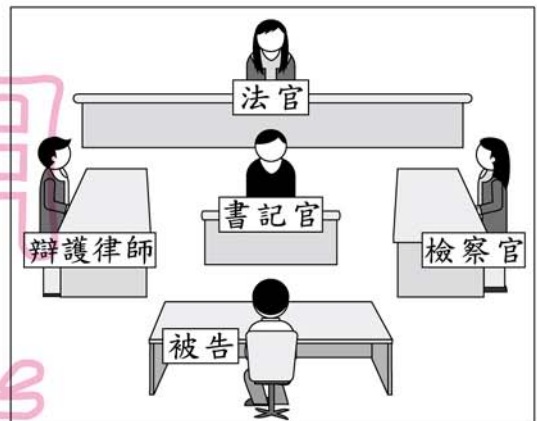
38. 「明代後期，耶穌會傳教士來到中國，他們利用西方知識作為傳教手段，開拓了中國士人的視野。」當時這些傳教士自歐洲來華的主要背景為何？
- (A)受啟蒙運動影響，主動傳播科技  
 (B)面對新教的挑戰，積極推廣舊教  
 (C)至聖地朝拜受阻，爭取盟國協助  
 (D)挾社會主義勢力，擴張傳教據點

39. 圖(六)是有關我國政府組織的部分架構，甲單位所管轄之處、室，是其設置於各地辦理相關業務的機關。根據圖中內容判斷，甲單位應是隸屬於下列哪一個中央政府機關？
- (A)立法院 (B)行政院  
 (C)司法院 (D)監察院



圖(六)

40. 圖(七)是天福前往某地方法院參觀，在法庭內所看到審理案件時的座位示意圖。根據圖中內容判斷，他所看到的最可能是下列何者的審理情形？
- (A)行政處分的訴訟  
 (B)債務履行的糾紛  
 (C)竊盜財物的行為  
 (D)政黨違憲的審理



圖(七)

41. 下列是某國外交部網頁中，關於四個邦交國的簡介。若僅根據簡介的內容判斷，何者最可能屬於多黨制的國家？

(A)	(B)	(C)	(D)
國內雖有三個政黨同時存在，但甲黨已經連續執政五十年。	國會席次分屬六個不同政黨，且無一政黨所占席次足以單獨執政。	全國共有一百八十八個政黨，但長期以來只有乙黨與丙黨輪流執政。	丁黨帶領人民建國後，一路執政至今，並無其他政黨的存在。

42. 有一本書上寫著：「如果立法權和行政權集中在同一人手中，自由便不能存在；如果司法權不和立法權、行政權分立，自由也不存在。……在土耳其帝國，這三項權力集中在『蘇丹』(統治者)一人身上，所以可怕的暴政控制著一切。」這樣的論述最可能是出於下列何人？
- (A)但丁 (B)培根  
 (C)馬丁路德 (D)孟德斯鳩

43. 表(五)為臺灣兩個年度的部分人口資料。近年來，政府推動多項老人福利措施，例如：發放各類生活津貼、推動國民年金制度、健康及照顧服務等，是為了因應表中何項人口資料的變化趨勢？

表(五)

項目	人口資料	1998年	2008年
甲	性別比(性別比例)	105:100	102:100
乙	社會增加率	1.72‰	1.02‰
丙	外籍配偶占當年結婚對數之比例	15.69%	14.03%
丁	幼年及壯年人口比例合計	91.75%	89.57%

- (A)甲 (B)乙 (C)丙 (D)丁

44. 表(六)為某地的簡介，依內容判斷，其應為下列何者？

表(六)	
地理位置	臺灣島西方
歷史概況	元代時設官治理，納入版圖。17世紀時曾遭荷蘭入侵。
景觀特色	1.自然：火山噴發所形成的柱狀玄武岩。 2.人文：臺灣地區最古老的媽祖廟。

- (A)金門  
(B)馬祖  
(C)澎湖  
(D)綠島

45. 下列為介紹某一組織的資料：

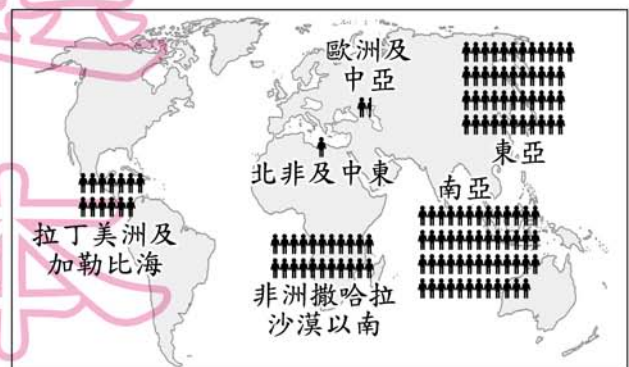
- (一)「會員國由原來6國，歷經數次擴增，現在已有27個會員國。」  
(二)「開放會員國間的人員、貨物、勞務、資金相互流通，減少組織內的貿易障礙，發行共通貨幣，為區域統合樹立了典範。」

此一組織應是下列何者？

- (A)亞太經濟合作會議  
(B)世界貿易組織  
(C)東南亞國協  
(D)歐洲聯盟

東南亞國協＝東南亞國家協會

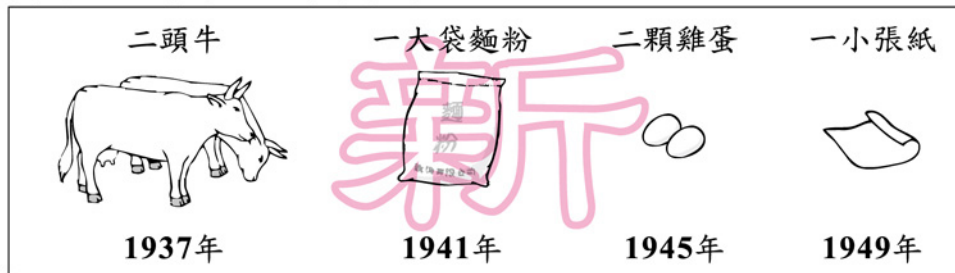
46. 豆豆以圖(八)來輔助說明某一主題，圖中每個▲代表當地有1000萬人每日可用的生活費用低於1美元。根據圖中內容判斷，她最可能是在探討下列哪一主題？



圖(八)

- (A)人口密度與環境變遷  
(B)區域發展與貧窮現象  
(C)跨國企業與人力素質  
(D)國際組織與國際合作

47. 圖(九)是中國歷史上某段時期民眾花費100元法幣所能購買物品的變化，對於這種轉變，下列何者的解釋最適切？



圖(九)

- (A) 農業科技改良，增加物產種類  
 (B) 國際能源危機，促使物價下跌  
 (C) 戰禍頻繁，導致民間通貨膨脹  
 (D) 社會安定，民生需求日益縮減
48. 表(七)為歐美國家在不同期間都市化程度的變化，根據其高低可分成四個階段。就都市化程度增加的速度而言，第二階段明顯比第一階段快，此與下列何種現象關係最密切？

表(七)

階段	期間	都市化程度 (%)	歷經年數
一	1800-1900	17-26	100
二	1900-1950	26-53	50
三	1950-1985	53-72	35
四	1985-2005	72-77	20

- (A) 工業化  
 (B) 全球化  
 (C) 高齡化  
 (D) 商業化
49. 表(八)為甲國已婚者處理家事時間的調查結果，根據表中內容判斷，該國最應宣導下列哪一種觀念？

表(八)


性別	男	女
就業比例	67.0%	49.7%
就業者平均處理家事的時間	0.46 (小時/天)	1.97 (小時/天)
無就業者平均處理家事的時間	1.01 (小時/天)	4.03 (小時/天)

- (A) 提供失業者就業機會  
 (B) 均衡家庭勞務的分配  
 (C) 減緩性別比例的失衡  
 (D) 強調職場的專業分工
50. 右列是一份人權報告中的相關內容。根據內容判斷，下列哪一項敘述最可能是該報告的觀點？

某些威權國家，常以自身的價值觀，批判西方國家所宣揚的人權理念，認為落實人權的方法會依不同文化、歷史背景而產生差異。但我們認為，不能以文化背景為由，而與基本人權的核心價值背道而馳。

- (A) 國家主權高於人權  
 (B) 各國都應保障人權  
 (C) 人權由政黨的體制決定  
 (D) 人權因文化差異而不同

51. 圖(十)顯示某類型國家的單一產品，在某年占該國出口總額的百分比，如黃麻占孟加拉出口總額的51%。此類型的國家，最可能具有下列哪一項共同的特色？
- (A)貿易巨額出超  
(B)外匯收入不穩定  
(C)經濟發展程度高  
(D)產品附加價值高



圖(十)

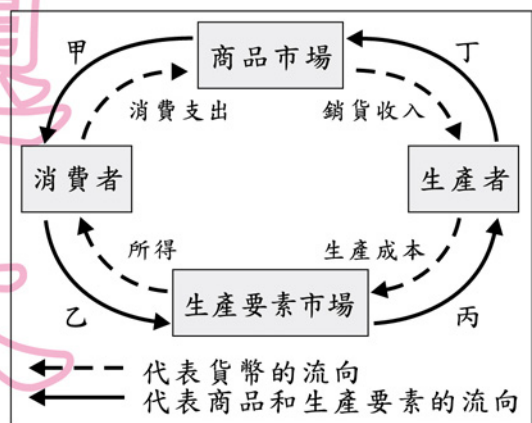
52. 茶、糖、樟腦是晚清臺灣重要的出口商品，當時臺北大稻埕常可見到婦女坐在洋行的騎樓下從事挑選茶葉的加工工作。洋行最初選擇大稻埕作為茶葉加工的地方，和下列何種區位條件最有關係？
- (A)市場  
(B)交通  
(C)動力  
(D)技術

53. 圖(十一)是某本書的內頁，由其內容推斷，該頁最可能是介紹下列哪一帝國？
- (A)拜占庭帝國  
(B)阿拉伯帝國  
(C)神聖羅馬帝國  
(D)鄂圖曼土耳其帝國



圖(十一)

54. 某國的老年人口比例為全球最高，幼年人口比例卻是最低，這將會造成未來投入勞動的壯年人口不足。上述壯年人口的變化，最可能先使圖(十二)中甲、乙、丙、丁哪一個部分出現短缺？



圖(十二)

55. 「這個大陸的南端，是一處險要的『岬角』，在蘇伊士運河通航前的三百多年間，此地為歐、亞間航行的必經之地，直至今日仍是世界交通和戰略的要地。」上文所指的岬角應是位於現今何國？
- (A)南非  
(B)埃及  
(C)土耳其  
(D)澳大利亞

二、題組：(56~63題)

閱讀下列選文，回答第56至58題：

一八六〇年代是近代世界重大的變革時期，在這期間，北美洲的美國因區域產業發展型態的差異，國內在國家發展方針上出現歧見，引發嚴重的軍事對抗；亞洲的中國則因貿易與文化上的問題，與歐洲國家發生多次衝突，失利的清朝被迫推行改革；歐洲的義大利及日耳曼地區，則因民族主義的興起，出現建國運動，企圖克服外來阻礙，促成國家統一。

56. 依上文所述，美國當時正面臨下列何種局勢？
- (A)處理黑奴問題，導致南北戰爭  
(B)實施保護關稅，引發經濟大恐慌  
(C)反省參戰後果，拒絕加入國際聯盟  
(D)起草《獨立宣言》，準備向英國宣戰
57. 上述清朝推行的「改革」，最可能是指下列何者？
- (A)自強運動  
(B)戊戌變法  
(C)立憲運動  
(D)辛亥革命
58. 上述義大利及日耳曼地區遭遇的「外來阻礙」，最主要是來自於下列哪些國家？
- (A)俄國、英國  
(B)英國、奧國  
(C)奧國、法國  
(D)法國、俄國

閱讀下列選文，回答第59至60題：

1517年，一位西班牙富商前往今日墨西哥南部的猶加敦半島參訪，發現許多金字塔神殿，對於當地的文化大感驚歎。他向原住民詢問當地的地名，在經過一番比手畫腳之後，得到的答案是「槍奴克坦」。富商認為這就是地名，將它記錄下來，後來經過演變成為今日的猶加敦。但事實上這句話並非地名，根據當地的語言，這句話代表「你在講什麼，我聽不懂！」這就是猶加敦半島地名戲劇性的由來。

59. 文中西班牙富商所參訪的地區，最可能位於圖(十三)中的何處？

(A)甲

(B)乙

(C)丙

(D)丁

60. 根據上文所述，當地的文化是屬於下列何者？

(A)埃及文化

(B)馬雅文化

(C)波斯文化

(D)巴比倫文化



圖(十三)

閱讀下列選文，回答第61至63題：

某則新聞報導的內容如下：

南韓度過1997年的亞洲金融風暴以後，國內生產毛額(GDP)有顯著的提升，其中文化產業的蓬勃發展功不可沒，尤其在影視、音樂、電玩產業等領域，最高曾占國內生產毛額將近7%的產值。透過韓劇在亞洲的熱賣，不僅提升大韓民族的形象，更創造顯著的經濟利益，像是到訪南韓的觀光人數因為韓劇的熱賣而大幅增加。南韓文化產業除了帶動觀光產業的成長，連帶著食品、文具和服飾等商品也都跟著熱賣起來。

61. 文中南韓國內生產毛額的變化，最能呈現出下列哪一種現象？

(A)自然資源充足

(B)商品供需平衡

(C)區域統合成功

(D)國民所得增加

62. 文中提及韓劇熱賣所帶來的影響，符合下列哪一種概念？

(A)公共財

(B)分散風險

(C)外部效果

(D)機會成本

63. 綜合上述內容判斷，下列何者最適合作為本文主題？

(A)文化創意產業帶來的經濟成果

(B)亞洲四小龍的經濟發展與衰微

(C)跨國企業在全球經濟中的角色

(D)戲劇融入民族意識已成為潮流