

98 第二次國民中學學生基本學力測驗

社會科題本

請不要翻到次頁！

讀完本頁的說明，聽從監試委員的指示才開始作答！

※請先確認你的答案卡、准考證與座位號碼是否一致無誤。

請閱讀以下測驗作答說明：

測驗說明：

這是國民中學學生基本學力測驗社會科題本，題本採雙面印刷，共 **13** 頁，有 **63** 題選擇題，每題都只有 一個 正確或最佳的答案。測驗時間從 **11:00** 到 **12:10**，共 **70** 分鐘。作答開始與結束請聽從監試委員的指示。

注意事項：

1. 所有試題均為四選一的選擇題，答錯不倒扣。
2. 試題中所附圖形，如有附上比例尺，以比例尺為依據作答；若無比例尺，則該圖僅作為參考，不代表實際大小。
3. 可利用題本中空白部分計算，切勿在答案卡上計算。
4. 依試場規則第八條規定，答案卡上不得書寫姓名座號，也不得做任何標記。故意汙損答案卡、損壞試題本，或在答案卡上顯示自己身分者，該科測驗不予計分。

作答方式：

請依照題意從四個選項中選出 一個 正確或最佳的答案，並用 **2B** 鉛筆在答案卡上相應的位置畫記，請務必將選項塗黑、塗滿。如果需要修改答案，請使用橡皮擦擦拭乾淨，重新塗黑答案。例如答案為 **B**，則將 **Ⓐ** 選項塗黑、塗滿，即：**Ⓐ** ● **Ⓑ** **Ⓒ** **Ⓓ**

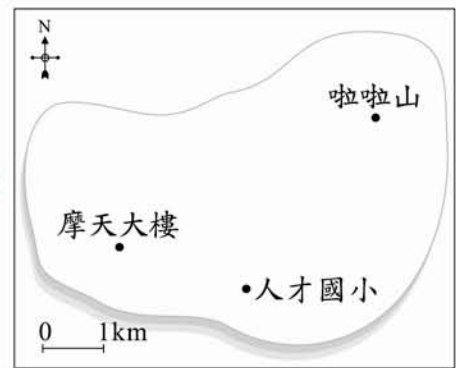
以下為錯誤的畫記方式，可能導致電腦無法正確判讀。如：

- Ⓐ ● **Ⓑ** **Ⓒ** **Ⓓ** — 未將選項塗滿
- Ⓐ **Ⓑ** **Ⓒ** **Ⓓ** — 未將選項塗黑
- Ⓐ ● **Ⓑ** **Ⓒ** **Ⓓ** — 未擦拭乾淨
- Ⓐ ● **Ⓑ** **Ⓒ** **Ⓓ** — 塗出選項外
- Ⓐ ● ● **Ⓒ** **Ⓓ** — 同時塗兩個選項

請聽到鈴（鐘）聲響後，於題本右上角方格內填寫准考證末兩碼，再翻頁作答

一、單題：(1~55 題)

1. 丁丁經測量得知，人才國小在他的南方，摩天大樓在他的西方，若人才國小、摩天大樓和啦啦山的位置如圖(一)所示，則對於丁丁而言，啦啦山的相對位置約在何處？
- (A)西北方 2 公里處
(B)西北方 4 公里處
(C)東北方 1 公里處
(D)東北方 3 公里處



圖(一)

2. 「在油價飆漲的時代，各國紛紛尋求替代能源，其中利用太陽能發電是發展比較成熟的技術，但是也有其限制，必須在日照充足、雲層阻擋少、場地空曠的地方設置發電廠。」僅考慮上述的自然條件，若要設置一大型太陽能發電廠，下列何地最適合？
- (A)沙漠地區
(B)針葉林區
(C)兩極地區
(D)熱帶雨林區

3. 圖(二)灰色部分為某電信業者手機通訊服務範圍，該範圍的分布與下列何者最有關係？
- (A)人口密度
(B)地勢高低
(C)距海遠近
(D)縣市分界



圖(二)

4. 受到全球暖化的影響，北極與南極地區的冰層融化，海平面持續上升，未來部分地勢較低的地區，將面臨被海水淹沒的危機，低窪區的人口將被迫撤離家園。下列哪一個城市，最可能面臨上述危機的困擾？
- (A)中國 西安
(B)瑞士 日內瓦
(C)荷蘭 鹿特丹
(D)墨西哥 墨西哥城

5. 圖(三)為報紙上某則新聞，依報導所述，下列何地發生該種現象的機會最大？
- (A)基隆
(B)彰化
(C)嘉義
(D)屏東



圖(三)

6. 有一本書上寫到：「此時，政府視教育為同化臺灣人的重要手段，因此在臺灣實施西式教育。初等教育以六年制公學校為主軸，取代了原先傳統書院、學堂，對日後教育發展有深遠的影響。」這應是描述下列哪一時期的情況？
- (A)荷蘭統治時期
(B)鄭氏統治時期
(C)清朝統治時期
(D)日本統治時期
7. 《三國演義》中英雄豪傑的謀略故事至今依然膾炙人口。參照史實，下列哪一段情節不可能出現於此書中？
- (A)八王之亂，中原大亂
(B)赤壁之戰，三分天下
(C)孫權稱帝，立國江東
(D)曹操挾天子以令諸侯
8. 中國歷史上某一時期，曾有教授和大學生主張以口語化的新文學取代舊式古典文學，並有意識地反對許多傳統觀念與習俗，將男女個人從傳統束縛中解放出來。這樣的主張應出現於下列何時？
- (A)自強運動
(B)百日維新
(C)黃金十年
(D)新文化運動
9. 某人曾寫了一首詩，用以表達自己的心境與面臨的情勢，其大意是說：雖然王室政權在中原氣數已盡，然而文化傳承仍保留在此海外之地；我的雄心未曾稍減，日夜整軍備戰以謀恢復故土。由詩的內容判斷，此人應是下列何者？
- (A)鄭經
(B)郭懷一
(C)丘逢甲
(D)林獻堂
10. 明末大儒黃宗羲遭受國破家亡的傷痛後，寫下「有明之無善治，自高皇帝罷丞相始也」的文句，認為明代政治運作不良是始於高皇帝朱元璋廢丞相。朱元璋為何會廢除歷史上已實施一千六百多年的丞相制度？
- (A)化解群雄割據的局面
(B)避免外戚干政的發生
(C)精簡政府，裁汰冗官
(D)鞏固皇權，防止篡奪

11. 某國的資訊相關設施普及，並計畫未來每一項重要的公共政策在實施之前，都要先放到政府網站上交由公眾討論，以作為政府制定最後決策的參考依據。上述作法符合民主政治的哪一種特色？
- (A)民意政治 (B)法治政治
(C)政黨政治 (D)責任政治

12. 右列是舊雜誌的部分內容。根據內容判斷，政府的作法可發揮下列哪一種功能？
- (A)保存文化資產
(B)加速社會變遷
(C)強化區域統合
(D)凸顯強勢文化

……由政府所成立的民族音樂所，是東南亞唯一保存、研究各地民族音樂的官方機構，而臺灣各族群的歌謠、說唱、戲曲等音樂資料也完整蒐羅於此。

13. 政府多次修訂兒童福利相關法令，規定父母或監護人如對兒童疏於保護、照顧情節嚴重者，主管機關將施以處罰、令其接受親職教育輔導等。上述規定具有下列何種意涵？
- (A)父母對子女行使親權可不受規範
(B)兒童的基本人權應受到法律保障
(C)儘量減輕父母對子女的扶養責任
(D)兒童受虐屬家庭問題難介入處理

14. 表(一)為某國調查 65 歲以上高齡者之居住現況的部分資料。根據表中內容判斷，下列哪一項敘述最符合目前該國老年人口的處境？

表(一)

居住現況	比例
僅與配偶同住	19.5%
住在安養機構	12.3%
與子(女)及孫子(女)同住	60.7%
其他	7.5%

- (A)老人缺乏經濟來源
(B)多數是三代同堂(住)
(C)安養機構的收費偏高
(D)與配偶同住的比例最低
15. 古代部落社會常利用敲鑼、擊鼓、放烽火做為傳播媒介，現代則常見報紙發行快報或號外，廣播或電視隨時插播最新的即時新聞等方式，以達到類似的目的。上述情形主要在發揮傳播媒介的哪一項功能？
- (A)提供訊息
(B)監督政府
(C)休閒娛樂
(D)教育文化

16. 圖(四)為描述人口移動的漫畫。圖中人們的對話，何者和「城市拉力、農村推力」較無關係？



- (A)阿如
(B)老王
(C)小玉
(D)小李

圖(四)

17. 根據文獻資料顯示：「荷蘭人建熱蘭遮城(今安平古堡)時，海浪就打在城堡邊；三百多年後的今日，安平古堡已離海岸線約2公里之遠。」造成上述變化，主要是因為當地的海岸受到下列何種作用影響？

- (A)褶曲 (B)堆積
(C)侵蝕 (D)風化

18. 表(二)是八國隊伍依照「洲別」分組比賽的賽程，勝出者可取得代表該洲參加足球賽的資格。表中哪一組的勝出者可代表非洲參賽？

表(二)

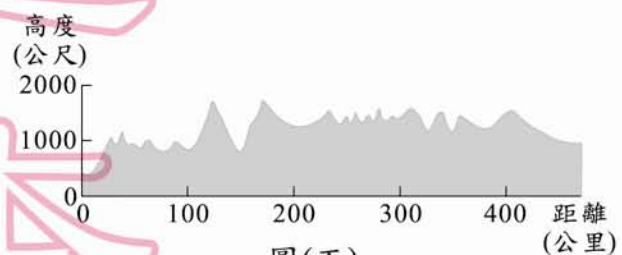
組別	賽程	
甲	巴西 vs.	阿根廷
乙	沙烏地阿拉伯 vs.	伊朗
丙	賴比瑞亞 vs.	奈及利亞
丁	法國 vs.	德國

- (A)甲
(B)乙
(C)丙
(D)丁

19. 「有人說西風是上帝對歐洲人的恩賜，能帶給歐洲豐沛的雨量；但對中國人來說，伴隨西風而來的卻常是漫天黃沙。」造成上述差異的原因為何？

- (A)歐洲位於大陸的西岸；中國位於大陸的東岸
(B)歐洲的西風來自陸地；中國的西風來自海洋
(C)歐洲西風集中於冬季；中國西風集中於夏季
(D)歐洲的緯度位置較高；中國的緯度位置較低

20. 圖(五)為某地區的地形剖面圖，圖中高度的單位為公尺，距離的單位為公里。依據整個地區的高度和地表起伏狀態判斷，這個地區最可能屬於下列哪一種地形區？




圖(五)

- (A)丘陵 (B)盆地
(C)臺地 (D)高原

21. 有一篇新聞報導如下：「西元 2000 年，兩位漁民在福建省冬古灣退潮後，無意間發現兩處堆積物，經專家初步挖掘出鐵炮、彈丸、陶瓷器等文物。而打撈上來的銅銃上均鑄有『國姓爺』的『國』字，鑄有『永曆通寶』字樣的銅錢則是當時東南沿海流通的貨幣……。」依報導內容推斷，此項挖掘工作將有助於我們了解下列哪一時期的歷史？

- (A)宋末元初 (B)元末明初
(C)明末清初 (D)清末民初

 銃：一種舊式的槍械火器。

22. 下文是十九世紀一位來華外國人對當時中國局勢的看法：「……這些廣西人之間有一種家庭般的氣氛，這使他們以『弟兄』相稱顯得很貼切。他們共用家舍，衣服、食物、金銀珠寶皆存放在『聖庫』中……這些人的起事已成為帝國的心腹之患。」他應是描述下列哪一歷史事件？

- (A)鴉片戰爭 (B)戊戌政變
(C)太平天國 (D)義和團

23. 小雅和小偉就讀不同的國中，使用不同版本的教材，但無論哪一版本教科書，介紹西方歷史時都一定會提到古希臘城邦中的雅典，這是因為雅典在西方歷史中具有下列何種重要性？

- (A)吸收古西亞文明並創立一神信仰
(B)樹立了日後民主政治的基本精神
(C)建立世界上第一個跨三洲的帝國
(D)創立了沿用至今的西方法律制度

24. 圖(六)是秦代到唐代的歷史朝代演進圖。圖中「◎」表示造成朝代更替的關鍵，它應是下列何者？



圖(六)

- (A)匈奴入侵 (B)王莽稱帝 (C)楚漢相爭 (D)武則天掌權

25. 紹倫在書上看見一段描述：「1884 年 4 月，外國軍艦駛向基隆，清廷相當重視此事，派劉銘傳來臺督辦軍務。8 月外軍開始攻擊，雙方開戰……10 月又分兵攻打淡水，彼此交戰不休……此後清廷更加注意臺灣的地位。」這應是描寫下列哪一場戰爭？

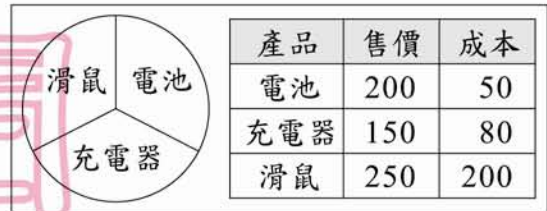
- (A)英法聯軍 (B)中法戰爭
(C)甲午戰爭 (D)八國聯軍

26. 表(三)是某國公職人員選舉的候選人資料。根據表中的主要政見，若以我國公職人員的職權判斷，最可能是下列哪一種公職人員的選舉？

表(三)

姓名	從政經驗	主要政見
葉小胖	無	延長義務教育年限
黃小玉	鎮長	修改所得稅法
曾小美	市議員	推動加入聯合國
丁小正	鄉民代表	建立預算審查制度

27. 甲國主要的出口產品為電池、充電器和滑鼠，圖(七)是去年出口數量的比例圖和售價成本統計表。若該國希望今年獲利有所成長，假設出口商品均可全數售出，且其他條件不變，下列出口數量比例的調整組合中，何者的獲利可達最大幅度的成長？

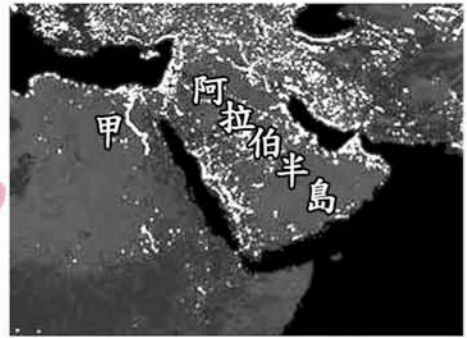


圖(七)

- (A)
- (B)
- (C)
- (D)
28. 在我國，立法機關對於政府施政不滿意時，可以提出不信任案，迫使其倒閣重組，以負起政治責任。依我國《憲法增修條文》規定，立法院提出不信任案時，其行使對象是下列何者？
- (A)正、副總統 (B)司法院院長
(C)立法院院長 (D)行政院院長
29. 我國的各種法規，通常具有保障個人權利或促進社會發展等目的，除此之外，有些法律還有警告、禁止、制裁、指示和輔助等功能。下列我國的哪一種法律是以警告、禁止和制裁的功能為其主要特性？
- (A)《民法》 (B)《刑法》
(C)《憲法》 (D)《民事訴訟法》
30. 王爺爺依規定向縣政府申請敬老福利生活津貼，縣政府卻以申請資格不符為由不予核發。此時王爺爺可先依下列哪一種法律途徑來保障自己的權益？
- (A)向法院提起民事訴訟 (B)向警察機關提出告訴
(C)向上級行政機關提起訴願 (D)向行政法院提起行政訴訟

31. 圖(八)是阿拉伯半島及其鄰近地區的夜間衛星影像圖，人口聚集的地方，會呈現較光亮的顏色。圖中的甲區亮點甚為集中，其最初發展的有利條件最主要是下列何者？

(A)氣候溫暖溼潤
(B)鐵路交通便利
(C)灌溉農業發達
(D)礦產資源豐富



圖(八)

32. 「近年來中國某地區旱象頻傳，只得任農地荒蕪，加速土地沙漠化；且青草不復往日豐美，估計已有五百萬頭牲畜暴斃，靠游牧維生的村民只好湧入都市謀生。」上述現象最可能發生於圖(九)中甲、乙、丙、丁哪一地區？

(A)甲
(C)丙

(B)乙
(D)丁



圖(九)

33. 圖(十)為阿華在不同月分於住家附近河川所看到的景觀，該圖呈現出臺灣河川的某種特性。該特性對於臺灣的影響較可能為何？

(A)地下水位持續降低
(B)夏季時多颱風侵襲
(C)造成河口地層下陷
(D)須建水庫調節供水



圖(十)


34. 第一次世界大戰後，鄂圖曼土耳其帝國因戰敗而瓦解。當時推動土耳其建立共和政府、與協約國重訂和約並廢除不平等條款，進而促進土耳其現代化的領袖，是下列何人？

(A)甘地 (B)加富爾 (C)凱末爾 (D)俾斯麥

35. 西元 1597 年，有一封呈報給國王的信中寫到：「我們希望占領福爾摩沙的這個港口，最迫切的理由是為了確保菲律賓的安全。因為……日本企圖奪取這個港口以進占馬尼拉，我們要確保菲律賓的安全就必須擁有這個港口。」由上述背景判斷，這封書信最可能是呈報給哪一國國王？

(A)荷蘭 (B)英國
(C)菲律賓 (D)西班牙

36. 右列是彥文閱讀有關地方民意機關職權的資料，但墨漬遮蔽了部分文字。下列何者最可能是遮蔽處的內容？

- 審議地方預算案
- 質詢地方政府首長
- 

- (A)修改《憲法》中有關地方制度事項
- (B)執行中央政府委託辦理的地方事務
- (C)掌理地方公務人員銓敘與退休事宜
- (D)議決地方法規與地方政府提案事項

37. 中亞草原是歐亞間各種勢力競逐之地。西元七、八世紀時，有三大強權在這裡交會，包括由東向西的唐朝，由南向北的吐蕃，以及由西向東發展的哪一國家？

- (A)匈奴帝國
- (B)蒙古帝國
- (C)阿拉伯帝國
- (D)拜占庭帝國

38. 市場經濟制度，是指市場價格由「無形之手」來運作，政府不應濫用權力干擾經濟活動。但為求市場經濟制度健全發展，政府採行下列何種措施，最有助於維護公平的競爭環境？

- (A)引進外資經營
- (B)發起社會運動
- (C)訂定周延法規
- (D)廣設金融機構

39. 我國《憲法》對於人民權利的保障僅作原則性的規定，而透過相關政策的實施，將可更進一步落實《憲法》條文的精神。下列哪一項作法最有助於維護《憲法》所保障的受益權？

- (A)定期舉行公民投票廣泛地徵詢民意
- (B)取消資賦優異學生保送入學的措施
- (C)政府對集會遊行申請以准許為原則
- (D)提出擴大就業方案以解決失業問題

40. 某學者主張可以透過收費的方式，藉此減少遊客，以降低對高山環境的衝擊，表(四)是他擬訂的登山申請費。根據表中內容判斷，該主張具有下列哪一種概念？

表(四)

海拔高度 (公尺)	9人以下 (美元/隊)	每增1人 (美元/人)
3,501以上	8,000	800
3,001~3,500	3,000	400
2,501~3,000	2,000	300
2,001~2,500	1,500	200

- (A)需求法則
- (B)分散風險原則
- (C)負擔能力原則
- (D)比較利益原理(則)

41. 圖(十一)是中國著名的歷史建築，也是今日重要的世界文化遺產。古代興修此建築的主要目的為何？

(A)避免黃河改道造成氾濫
(B)防止塞外草原民族入侵
(C)阻擋蒙古沙漠持續擴大
(D)建立往東北移民的據點



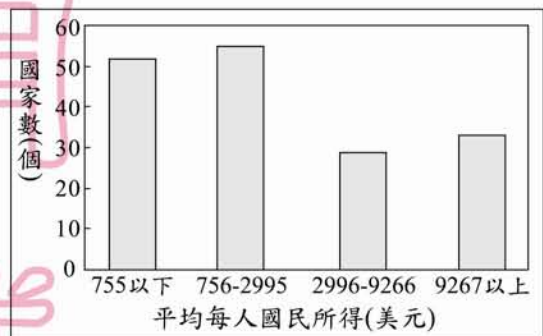
圖(十一)

42. 十七世紀歐洲各國君主權力高漲，如法王路易十四就曾說過：「朕即國家。」這是依據下列哪一種觀念而來的？

(A)國王應遵守教皇所確立的政治規範
(B)人民賦予國王權力，國王聽命於國會
(C)浪漫主義者倡導王位世襲制度的合理性
(D)國王的權力來自上帝，享有至高無上的權威

43. 圖(十二)是小米探討國際關係時，用來輔助說明研究議題的圖形。根據圖中內容判斷，她最可能是在探討下列哪一項主題？

(A)全球貧富差異
(B)國際貨幣貶值
(C)經濟成長穩定
(D)跨國企業增加



圖(十二)

44. 在傳統的商業行為中，買賣者可藉由當面確認彼此真實身分，而取得交易信賴的基礎。但現今在拍賣網站上，買賣雙方雖無法面對面確認對方真實身分，卻仍願意進行商品的交易。上述情形最能表現出下列哪一種概念？

(A)社會階層
(B)社會團體
(C)社會變遷
(D)社會福利

45. 小德在課堂上說明我國政府組織的功能時指出：「我國曾發生嚴重的通貨膨脹，若現在再次發生類似的情形，此機構可透過控制貨幣數量、調整利率等方式，來達到穩定物價的目的。」根據上述內容判斷，他最可能是在介紹下列哪一個組織？

(A)財政部
(B)經濟部
(C)中央銀行
(D)臺灣銀行

46. 丹丹利用暑假遊歷中國各地，他在陝西參觀半坡遺址，在山東看到龍山遺址，在浙江尋訪河姆渡遺址。由這些遺址的分布狀況及其內容判斷，中國史前文化具有下列何種特色？

- (A)多元發展 (B)東西融合 (C)一脈相承 (D)南北對立

47. 右列是淑玲以捕魚為例，說明某一概念的部分內容。根據內容判斷，她最可能是在探討下列哪一種概念？

- (A)公平交易
(B)外部效果
(C)受益原則
(D)價格機制

……在漁撈業實施限制捕獲數量的規定後，若有業者不按規定大肆捕撈，雖可獲取短期利益，但此一違反集體協議的作法，是由整個群體共同承擔漁業資源耗竭的結果。

48. 圖(十三)為安心旅行團的團員在某一國家內的對話內容：



圖(十三)

團員正在旅遊的國家，主要信奉哪個宗教？

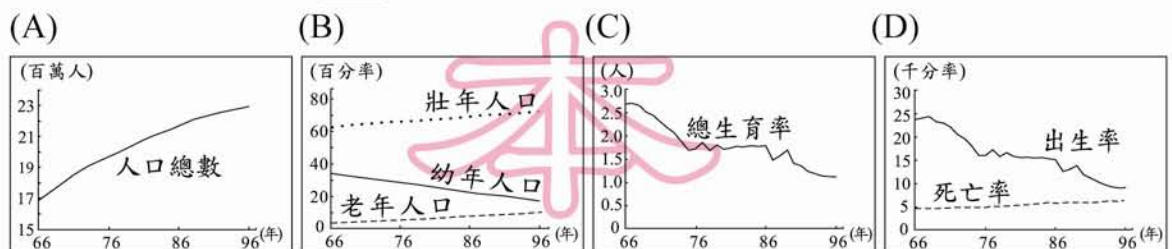
- (A)天主教 (B)印度教 (C)藏傳佛教 (D)伊斯蘭教

49. 國際組織內的會員國常會利用各自的優勢，以分工的方式進行生產活動，例如加入歐盟後的東歐各國，透過低廉的勞力等優勢，成為歐盟的「組裝基地」。相較於歐盟，北美自由貿易區中的哪一個國家，所扮演的角色與東歐各國類似？

- (A)美國 (B)巴拿馬
(C)墨西哥 (D)加拿大

北美自由貿易區
= 北美自由貿易組織

50. 若想正確掌握近年來臺灣的扶養比變化趨勢，由下列哪一張圖來判斷最恰當？



51. 表(五)是歷史上三個時期的人口比例資料，影響這段期間黃河流域人口比例轉變的根本原因為何？

- (A) 朝廷計畫性推行移民政策
 (B) 人民習於離鄉尋找新耕地
 (C) 南方氣候溼熱，不利人居
 (D) 北方戰亂頻繁，百姓南遷

表(五)

時代	地區	人口比例
西漢平帝元始二年 (西元2年)	黃河流域	75.5%
	長江流域	20.9%
唐玄宗天寶年間 (西元742~756年)	黃河流域	61.4%
	長江流域	25.8%
北宋神宗元豐元年 (西元1078年)	黃河流域	34.8%
	長江流域	58.4%

52. 「這個地方是伊斯蘭教、基督教、猶太教共同的聖地，前往該地朝聖的路徑若被阻撓，往往會引發衝突。」上文介紹的「這個地方」應位於圖(十四)中何處？

- (A) 甲
 (B) 乙
 (C) 丙
 (D) 丁



圖(十四)

53. 表(六)是某國數種家戶類型的年平均所得部分資料。根據表中內容，可推論出下列哪一種社會現象？

- (A) 折衷家庭仍占多數
 (B) 就業人口負擔加重
 (C) 貧富差距日漸擴大
 (D) 所得呈現性別差異

表(六)

家戶類型	年平均所得(美元)
全體家戶	44,228
單親父親家戶	40,715
單親母親家戶	28,142
單身男性	32,312
單身女性	20,264

54. 表(七)是中國某地區近年來最低基本工資的變化情形。對於在該地設廠的外國企業而言，下列何種工業類型最可能因為此種變化而失去生產優勢？

- (A) 紡織工業 (B) 鋼鐵工業
 (C) 石化工業 (D) 造船工業

表(七)

時間(年)	2005	2006	2007
最低基本工資 (人民幣/月)	450	510	690

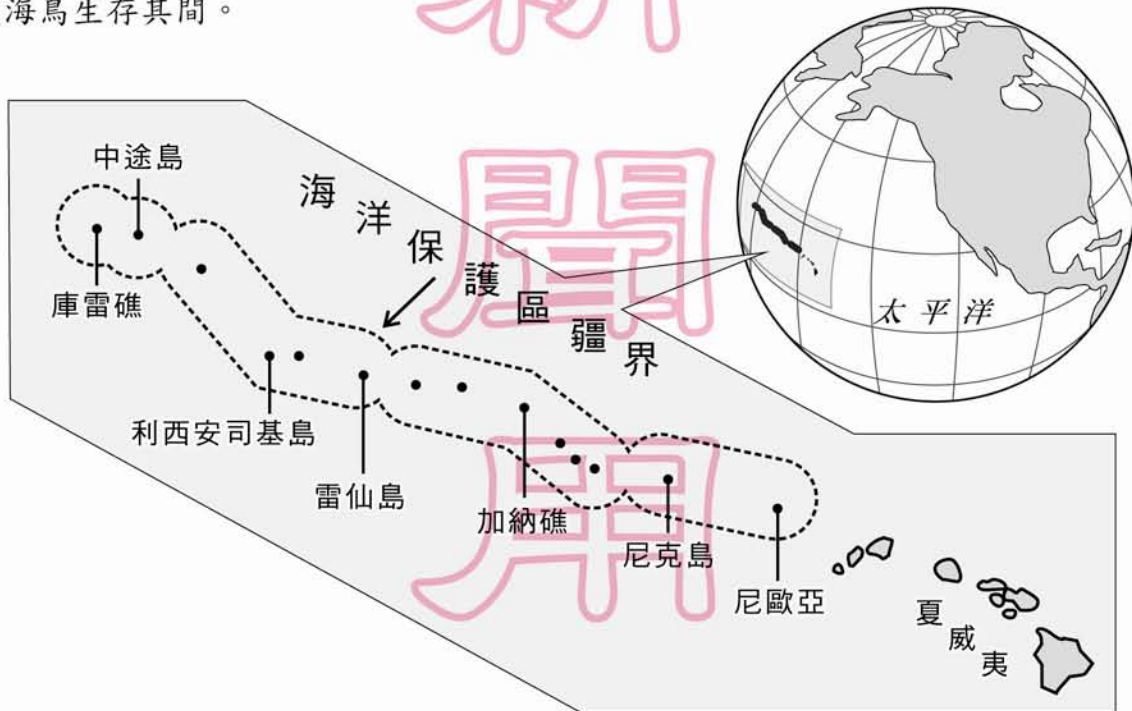
55. 「1895年，臺灣總督府頒布規定，臺灣、澎湖群島因位於帝國西南方，比帝國標準時間晚一小時，為臺灣標準時間。」依上文判斷，帝國標準時間所採用的經線應為下列何者？

- (A) 東經 105 度 (B) 東經 120 度
 (C) 東經 135 度 (D) 東經 150 度

二、題組：(56~63 題)

閱讀下列選文，回答第 56 至 58 題：

2006 年 6 月，美國總統宣布在玻里尼西亞建立當時全世界最大的海洋保護區，其範圍由夏威夷群島西北方蜿蜒至中途島附近，如圖(十五)所示，面積約 36 萬平方公里，區內有許多島嶼和珊瑚礁，約有 7,000 種海洋生物及 1,400 萬隻海鳥生存其間。



圖(十五)

56. 該保護區是位於下列哪一洲？
- (A) 亞洲
 - (B) 美洲
 - (C) 歐洲
 - (D) 大洋洲
57. 根據上文判斷，美國設置該保護區的主要目的最可能為下列何者？
- (A) 振興當地漁業發展
 - (B) 維持生物的多樣性
 - (C) 發展海上觀光事業
 - (D) 擴大經濟海域範圍
58. 就該保護區的環境特色而言，下列哪一個臺灣的國家公園與其最為類似？
- (A) 雪霸國家公園
 - (B) 墾丁國家公園
 - (C) 太魯閣國家公園
 - (D) 陽明山國家公園

閱讀下列選文，回答第 59 至 60 題：

表(八)是民國 90 至 92 年，警察機關處理的各類觸法案件中，觸法者年齡在 12 歲以上、未滿 18 歲的人數統計資料。

表(八)

年度	竊盜	強盜搶奪	妨害性自主	恐嚇取財	毒品	傷害
90	8,799	1,000	476	282	922	777
91	7,769	756	432	242	1,073	762
92	6,498	480	459	174	783	727

59. 上述各類觸法案件的行為人，最可能先以下列哪一種法律處理？
(A)《刑法》 (B)《少年事件處理法》
(C)《社會秩序維護法》 (D)《兒童及少年福利法》
60. 上述觸法案件的統計資料最符合下列哪一項敘述？
(A)與財物取得有關的犯案人數最多
(B)侵害個人身體的犯罪有增加趨勢
(C)妨害性自主犯罪人數正持續減少
(D)觸法案件的犯案總人數逐年增加

閱讀下列選文，回答第 61 至 63 題：

棉織工廠都是大型建築，工廠主人為了充分利用空間，各樓層都盡量壓低高度……工廠往往晝夜開工，夜間照明需燃燒大量的蠟燭，但幾乎沒有通風設備。因此，在新鮮空氣不足的情況下，工廠裡瀰漫著工人身上的汗臭味以及機油、棉絮、蠟燭等發出的惡濁氣味。……這種惡劣的工作環境導致這個地區傳染病流行，並且造成當地許多人的死亡。

61. 上述現象的出現與下列何者關係最密切？
(A)啟蒙運動 (B)工業革命
(C)地理大發現 (D)法國大革命
62. 其後哪一學說的出現，即對此現象提出批評，盼能改善此種情形？
(A)資本主義 (B)人文主義
(C)社會主義 (D)浪漫主義
63. 這種現象最早出現於下列哪一國家？
(A)奧國 (B)英國
(C)德國 (D)美國