

97 第二次國民中學學生基本學力測驗

社會科題本

請不要翻到次頁！

讀完本頁的說明，聽從監試委員的指示才開始作答！

※請先確認你的答案卡、准考證與座位號碼是否一致無誤。

請閱讀以下測驗作答說明：

測驗說明：

這是國民中學學生基本學力測驗社會科題本，題本採雙面印刷，共 **13** 頁，有 **63** 題選擇題，每題都只有一個正確或最佳的答案。測驗時間從 **11:00** 到 **12:10**，共 **70** 分鐘。作答開始與結束請聽從監試委員的指示。

注意事項：

1. 所有試題均為四選一的選擇題，答錯不倒扣。
2. 試題中所附圖形，如有附上比例尺，以比例尺為依據作答；若無比例尺，則該圖僅作為參考，不代表實際大小。
3. 可利用題本中空白部分計算，切勿在答案卡上計算。
4. 依試場規則第七條規定：「答案卡上不得書寫姓名座號，也不得做任何標記。故意污損答案卡、損壞試題本，或在答案卡上顯示自己身分者，該科測驗不予計分。」

作答方式：

請依照題意從四個選項中選出一個正確或最佳的答案，並用 **2B** 鉛筆在答案卡上相應的位置畫記，請務必將選項塗黑、塗滿。如果需要修改答案，請使用橡皮擦擦拭乾淨，重新塗黑答案。例如答案為 **B**，則將 **Ⓑ** 選項塗黑、塗滿，即：**Ⓐ** ● **Ⓒ** **Ⓓ**

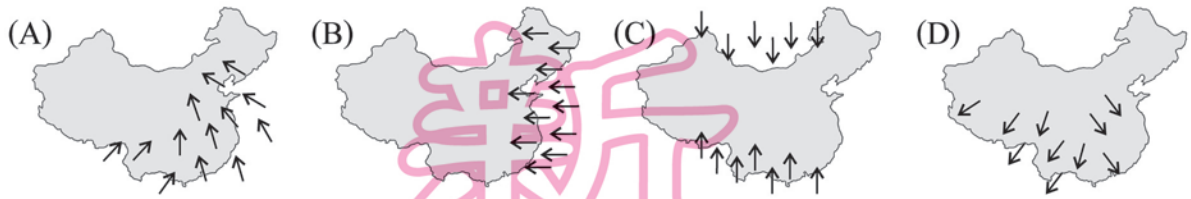
以下為錯誤的畫記方式，可能導致電腦無法正確判讀。如：

- Ⓐ ● **Ⓑ** **Ⓒ** **Ⓓ**—未將選項塗滿
- Ⓐ **Ⓑ** **Ⓒ** **Ⓓ**—未將選項塗黑
- Ⓐ ● **Ⓑ** **Ⓒ** **Ⓓ**—未擦拭乾淨
- Ⓐ ● **Ⓑ** **Ⓒ** **Ⓓ**—塗出選項外
- Ⓐ ● ● **Ⓑ** **Ⓒ** **Ⓓ**—同時塗兩個選項

請聽到鈴（鐘）聲響後，於題本右上角方格內填寫准考證末兩碼，再翻頁作答

一、單題：(1~57 題)

1. 中國最主要的降雨季節受某盛行風的影響。下列哪一張圖最符合此盛行風的風向？



2. 「在冰蝕地形發達及氣候冷溼的條件下，當地水資源豐富且針葉林廣布，成為其發展木材加工業的重要基礎。」前文所述最有可能是下列哪一個國家？

- (A) 古巴
- (B) 芬蘭
- (C) 義大利
- (D) 墨西哥

3. 表(一)是某國 1996 至 2000 年的人口年齡結構表。根據表中資料可直接觀察到該國在此期間具有下列何種人口現象？

表(一)

年度	各年齡別之人口比例(%)		
	14 歲以下	15-64 歲	65 歲以上
1996	23.1	69.0	7.9
1997	22.6	69.3	8.1
1998	22.0	69.8	8.2
1999	21.4	70.1	8.5
2000	21.1	70.3	8.6

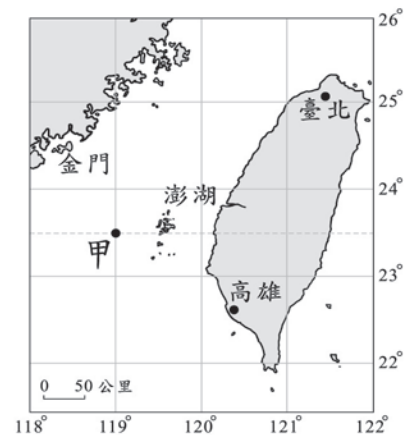
- (A) 人口老化
- (B) 出生率上升
- (C) 死亡率下降
- (D) 人口總數減少

4. 在快樂國中，甲市的人口數比乙市多，而乙市的人口密度大於甲市。下列何者較能解釋此種現象？

- (A) 扶養比的高低
- (B) 平均壽命長短
- (C) 職業結構差異
- (D) 土地面積大小

5. 永福號輪船從高雄港載貨物到金門，途中不幸遇到颱風，船隻在圖(一)甲處受損而無法航行。若要讓搜救人員能夠最迅速地掌握事發地點，永福號應如何通報位置？

- (A) 位在高雄港的西北方
- (B) 位在金門的東南方
- (C) 距離澎湖約 60 公里處
- (D) 位在 119°E, 23.5°N



圖(一)

請翻頁繼續作答

6. 清朝統治時代後期，沈葆楨在臺灣積極修建炮臺，其最主要的目的為何？
- (A)防止群眾叛亂
 - (B)抵禦外來侵略
 - (C)展示雄厚國力
 - (D)對外爭奪資源

7. 「贖罪券……對煉獄裡的靈魂毫無功效，教會所施的懲處僅能及於活人……基督徒凡真心悔改，就已從神得到恩赦，完全與贖罪券無關，因此無需贖罪券。」這段敘述在歷史上造成何種重大影響？

- (A)促成理性主義的興起
- (B)揭開宗教改革的序幕
- (C)掀起十字軍東征熱潮
- (D)奠定多神信仰的基礎



贖罪券＝赦罪券

8. 「早期臺灣的治安，常常是由自治組織來維持，地方政府只有在特殊的情況下，才會簽發命令，緝捕要犯。後來出現警察制度，由警察負責管理公共秩序，沿用至今。」上述的警察制度是在下列何時建立的？

- (A)荷蘭統治時
- (B)清朝統治時
- (C)日本統治時
- (D)國民政府遷臺時

9. 圖(二)是小農籌備班上話劇表演的企劃書，由內容推斷，下列哪一種情境最可能出現在其中？

- (A)夜市通宵達旦，各種貨物琳瑯滿目
- (B)美洲白銀流入，賦稅貨款以銀繳納
- (C)凡事仰賴占卜，將占卜結果記於甲骨上
- (D)婦女穿著胡服，自由穿梭於大街小巷間

瓦子春秋

實施計畫：利用戲劇方式呈現宋代平民的生活樣貌，營造合於史實的城市情境。

舞臺監督：曾小農

劇情簡介：話說宋代臨安城中，……

圖(二)

10. 在世界歷史發展過程中，下列哪一文明曾歷經王政、共和、帝國等各種統治型態，為後世政治研究提供豐富的資料？

- (A)巴比倫
- (B)斯巴達
- (C)古羅馬
- (D)古埃及

11. 右列是心理學中有關某種社會行為的部分解釋。根據內容判斷，下列何者最適合作為其推論？

(A)研發強固的門窗與治安的改善息息相關
(B)增加監視系統數量以保護人民居家安全
(C)社會問題初期顯現應立即處理以免擴大
(D)處理公眾事務要視輕重緩急的程度著手

窗戶破了，長時間沒人去修補，路人經過時會認為這是無人管理的地方，隔不久其他窗戶也會莫名其妙被打破。同樣的，一個乾淨的地方，人們會不好意思丟垃圾，但若有垃圾出現，人們就會跟著隨地丟棄。

12. 小喬是十三歲的國一學生，在便利商店偷漫畫書，經店家發現交給警方後，被移送少年法院(庭)處理。在上述事件中，小喬最可能受到下列何種懲處？

(A)有期徒刑
(B)科處罰金
(C)逕行罰鍰
(D)保護處分

13. 政府為解決全縣垃圾過量的問題，計畫在某社區附近設置垃圾場，引發當地居民的反對與抗爭。基於公共事務的處理應以社會大眾權益為前提，下列哪一種方式對於合理處理上述垃圾問題與雙方衝突有最直接的助益？

(A)居民自行設立路障禁止施工興建
(B)居民要求學生罷課加入抗爭活動
(C)政府應順應民意不再興建垃圾場
(D)政府召開協調會溝通居民的需求


14. 右列是某社區的簡介內容，根據內容判斷，下列哪一項推論最適切？

(A)木屐屬文化內涵中的精神層次
(B)該社區的木屐產業由政府經營
(C)透過社區參與能凝聚社區意識
(D)選擇木屐產業是因經濟價值高

這個村落以前是主要的木屐供應地之一，但後來逐漸沒落。近年來在「社區總體營造」的推動下，居民穿、做木屐，也畫、賣木屐，更創作木屐舞，合力把這種生活用品轉化為文化藝術的手工藝品，共同讓社區重新展現生命力。

15. 圖(三)是莫姆用來說明某一主題的漫畫，根據圖中內容判斷，他最可能在探討經濟學的哪一種概念？

(A)公共財
(B)商品利潤
(C)供給法則
(D)分散風險



圖(三)

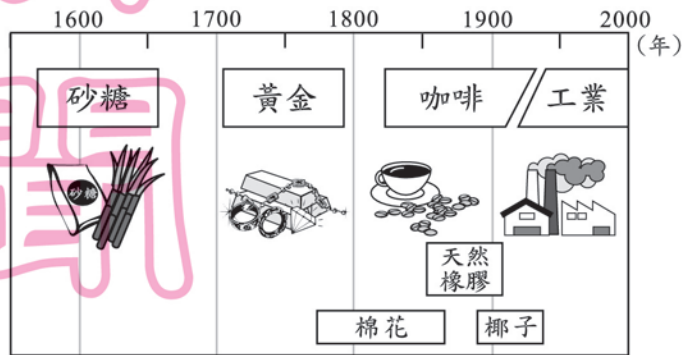
請翻頁繼續作答

16. 亞洲東部諸島國的河流常具有河短流急的現象。下列何者為造成這種現象的主要原因？

- (A)面積狹小，地勢起伏大
- (B)人口稠密，多建水壩蓄水
- (C)位季風氣候區，乾溼季節分明
- (D)引河水灌溉稻田，改變河川流量

17. 圖(四)是某國不同時期的出口商品示意圖。根據圖中各種作物的生長環境判斷，該國最有可能為下列何者？

- (A)巴西
- (B)澳洲
- (C)美國
- (D)印度



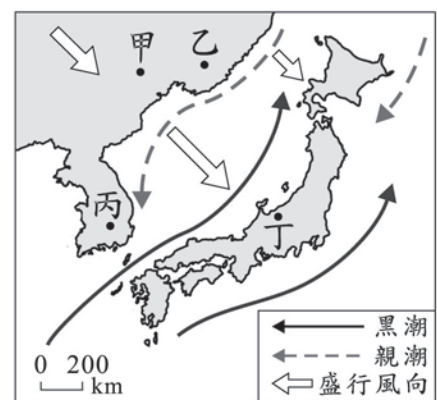
圖(四)

18. 農作物收穫次數的多寡和該地區生長季的長短有關。依此判斷，下列哪一個中國地理區的作物收穫次數可能最多？

- (A)華北平原
- (B)東北平原
- (C)珠江三角洲
- (D)長江三角洲

19. 圖(五)是東北亞某季節的盛行風向示意圖。下列何地在這個季節的降雨量最多？

- (A)甲
- (B)乙
- (C)丙
- (D)丁



圖(五)

20. 「早期臺灣的某個港口，其附近除河口沖積地區外，多為岩岸；該港口因海水極深，汽船無法拋錨靠岸，只能停於外海等待小船接駁，冬季風浪又大，故徒有港口之名。」以上敘述最可能指下列哪一個港口？

- (A)臺中港
- (B)安平港
- (C)高雄港
- (D)花蓮港

21. 早期歐洲對外交流有限，當地發生的事，影響往往只及於歐洲附近。直到下列哪一事件發生後，歐洲人與其他地區的連繫大幅增加，歐洲發生的事往往會擴及世界五大洲？

- (A) 日耳曼民族遷徙
- (B) 十字軍東征
- (C) 英法百年戰爭
- (D) 地理大發現



五大洲：在此處指亞洲、非洲、歐洲、美洲、大洋洲。

22. 清末受到外力衝擊，瀕臨亡國危機，當時有一派人士主張：「革命者，天演之公例也，……爭存爭亡過渡時代之要義也，……除奴隸而為主人者也。」支持上述觀點的人，最可能參與下列何種行動？

- (A) 武昌起義
- (B) 百日維新
- (C) 自強運動
- (D) 義和團事變



百日維新=戊戌變法

23. 老師請同學用精簡的話語介紹佛洛伊(依)德的學術貢獻，下列哪一句話最適切？

- (A) 發現萬有引力定律，奠定近代科學的基礎
- (B) 探索人的意識狀態，建構系統的心理學說
- (C) 研究人類群體行為，提出重要的社會理論
- (D) 重新解釋物質運動，改變傳統的時空觀念

24. 淑芳在一篇臺灣史報告中寫到：「他不但長期與清朝對抗，也積極規劃建設，漢人文化從此在臺生根……。」她的報告應是以下列哪一件史事為主題？

- (A) 劉銘傳開發北臺灣
- (B) 鄭經在臺灣的經營
- (C) 林爽文在臺灣的抗爭
- (D) 唐景崧與臺灣民主國

25. 如圖(六)所示，「甲」與其他事件有密切關聯，「甲」應是下列何者？

- (A) 冷戰
- (B) 普法戰爭
- (C) 第一次世界大戰
- (D) 第二次世界大戰

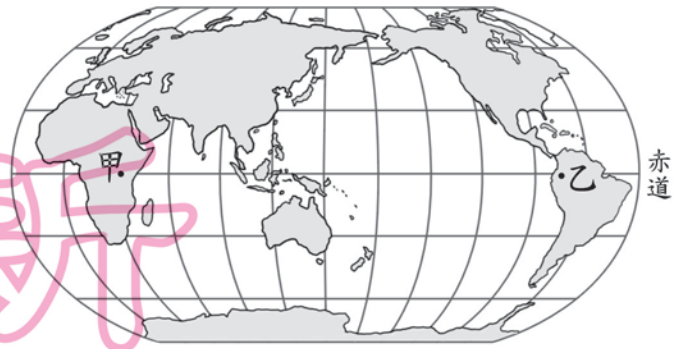


圖(六)

請翻頁繼續作答

26. 國祥想跟朋友合開餐館，當他依規定向主管機關申請商業登記時，卻遭到該機關以資料不實為由處以罰鍰，經向該機關申訴後仍未獲得妥善處理。此時，國祥應針對上述處分，採取下列何種權利救濟的途徑？
- (A)向地方法院提起刑事訴訟
(B)向地方政府提出民事賠償
(C)向主管機關的上級單位提出訴願
(D)向當地調解委員會提出調解申請
27. 新聞報導：「有鑑於爆竹工廠意外頻傳，除常見民眾採取圍廠手段抗議，政府也鼓勵民眾以播放爆竹錄音帶取代燃放真實爆竹，且積極與各民間團體對於減少爆竹的使用進行溝通，並計畫立法規範爆竹工廠的設立。」上述何者是試圖從
- 甲
乙
丙
丁
- 制度層面尋求問題的解決？
- (A)甲 (B)乙
(C)丙 (D)丁
28. 歲末年終之際，慈福基金會為關懷獨居老人，特別舉辦尾牙餐會，並致贈每人紅包五百元，讓他們感受社會的溫情。上述對待社會中弱勢族群的做法最符合下列何種原則？
- (A)自由競爭
(B)平等互惠
(C)公平正義
(D)主權在民
29. 拉拉長期遭受家庭暴力，某日又被家人毆打成重傷，隔壁鄰居見狀向警察機關報案，請求追訴加害人的犯罪行為。上述鄰居的做法屬於刑事訴訟上的何種作為？
- (A)公訴
(B)自訴
(C)告訴
(D)告發
30. 有些法律行為效力與年齡有關，以「今年滿十九歲、未婚，且未受禁治產宣告的人」為例，若不考慮其他因素，下列哪一項說法正確？
- (A)若觸犯《刑法》，不須負擔責任
(B)受到《兒童及少年福利法》的保障
(C)依照《民法》規定，具有完全的行為能力
(D)得法定代理人允許，可以和房東簽訂租屋契約

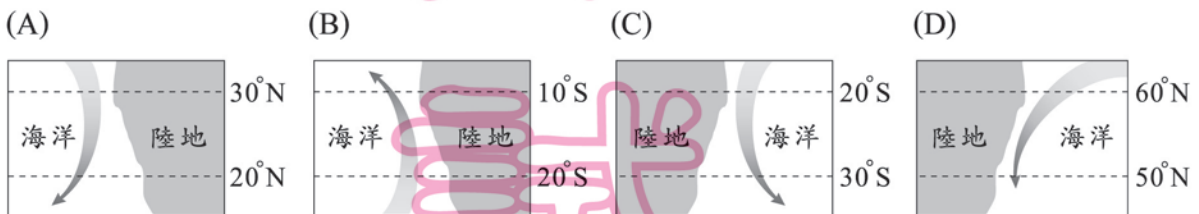
31. 圖(七)為全球各大洲分布圖，赤道通過的地區幾乎均為熱帶雨林氣候，但圖中的甲、乙兩區卻不是此種氣候類型。造成上述狀況的因素為下列何者？



圖(七)


32. 慧真在自我介紹時提到：「我的家在新竹縣的山上，因常幫忙父母栽種水蜜桃，讓我養成吃苦耐勞的個性。」慧真的家最有可能位在下列何處？
- (A)雪山山脈
(B)海岸山脈
(C)玉山山脈
(D)阿里山山脈

33. 依據洋流水溫與流經海域水溫的差異，可區分為暖流和寒(涼)流二種性質不同的洋流。根據上述定義，下列四股洋流中，何者的性質和其他三者不同？



34. 某年奇異國的全國人口性別比為50，根據這項資料判斷，該國具有下列何種人口結構？

- (A)男性人口比女性多
(B)女性人口比男性多
(C)男、女比例差不多
(D)老、幼年人口不多

 性別比=性別比例

35. 小柔在看一部關於十九世紀後期國際局勢的紀錄片，片中主要探討阿根廷、秘魯的鐵路工程被英國掌控、土耳其關稅由歐洲列強組成的委員會管理、中國領土被外國劃分為不同租借區等情節。下列何者最可能是這部紀錄片的主題？

- (A)民族主義的沒落
(B)國際結盟的政策
(C)帝國主義的擴張
(D)區域統合的實行

36. 小彩利用假期參觀一處史前文化遺址，在參觀過程中，她以表格紀錄這處遺址的特徵如表(二)。下列何者最可能是這處文化遺址？

表(二)

發現位置	生活方式	器具
臺灣北部	漁獵、農耕	陶罐、鐵斧

- (A) 長濱文化 (B) 圓山文化
(C) 大坌坑文化 (D) 十三行文化
37. 陸建的祖先世代都在貴族的土地上耕田，沒有自己的田地，也不能接受教育。但到陸建的時候，他可以拜師學藝，憑藉自己的學識才能，先後在多國任官，受到重用。這種轉變最早發生在下列哪一個時代？
- (A) 西周初期
(B) 戰國初期
(C) 秦代末年
(D) 漢代末年
38. 小禾在課堂報告說：「當時，原本屯駐邊疆的胡人將領趁機叛變，戰禍蔓延黃河南北。亂事平定後，叛軍餘黨及平亂有功的將領卻又擁兵據地，造成日後中央無法完全控制地方的局面……。」她在敘述下列哪一場變亂？
- (A) 靖難之變
(B) 安史之亂
(C) 靖康之禍
(D) 黃巢之亂
39. 德昌在說明貨幣時指出：「如果甲店的牛仔褲售價是3隻雞，同樣的牛仔褲在乙店的售價是10條魚，在這種情況下，我們很難確認哪一家店的褲子比較貴。若有共同的貨幣，就可以解決這種問題了。」上述說法最能凸顯貨幣的何種功能？
- (A) 交易媒介
(B) 清償債務
(C) 價值儲存
(D) 價值衡量
40. 米尼的報告中提到：「近幾年網路購物成交量成長很多，關鍵之一在於這種交易方式大多比傳統購物便宜，因為商家比較不需要昂貴的店面、龐大的存貨或僱用很多員工。」上述說法最可能是從下列何者探討網路購物的發展？
- (A) 生產成本
(B) 公平交易
(C) 產品品質
(D) 產業分工

41. 由於久旱不雨，某工業發展國家宣布擴大稻作休耕面積，將儲水優先分配於民生及工業用水。該國政府的做法具有下列哪一項經濟學的概念？
- (A)外部效果
(B)受益原則
(C)需求法則
(D)機會成本

42. 表(三)是甲、乙兩國的部分基本資料，若僅依照表中顯示的內容判斷，下列哪一項國家構成要素在甲、乙兩國是相等的？
- (A)人民
(B)主權
(C)政府
(D)領土

表(三)

項目	甲國	乙國
國民人數	25,061	1,246,872,000
軍隊人數	0	2,300,000
土地面積(平方哩)	24	3,705,400
聯合國大會票數	1	1

43. 右列是曉嵐閱讀某雜誌的部分內容，根據內容判斷，該國規定具有下列何種觀念？
- (A)永續經營
(B)經濟成長
(C)科技發展
(D)節省成本

海域中雖然蘊藏大量的貝類，但依據該國規定，每人每天僅能捕捉 10 隻，且外殼直徑需達 12.5 公分以上。除此之外，也嚴格禁止進入深海捕撈貝類，以確保海洋資源不虞枯竭。

44. 在專制時代，法律的解釋多由統治者決定，所以常出現任意編造罪名、陷人於罪的情形。為避免上述權力濫用的情況，我國對於犯罪的規定是透過下列何項原則加以確立？
- (A)比較利益
(B)負擔能力
(C)罪刑法定
(D)誠實信用

45. 家華若想利用寒假期間，尋訪西班牙人占領臺灣所留下的歷史遺跡，最適合到圖(八)中哪一個地區？
- (A)甲
(B)乙
(C)丙
(D)丁



圖(八)

請翻頁繼續作答

46. 老師在地圖上標示出世界四大古文明的位置，如圖(九)，並要同學說出這些古文明的共同點。下列何人的說法正確？



- (A)阿昆：「古文明都發源於河流附近。」
 (B)艾兒：「這些地區都曾用楔形文字。」
 (C)威威：「當時人們都具有一神的信仰。」
 (D)玉琪：「古文明都屬於熱帶乾燥氣候。」

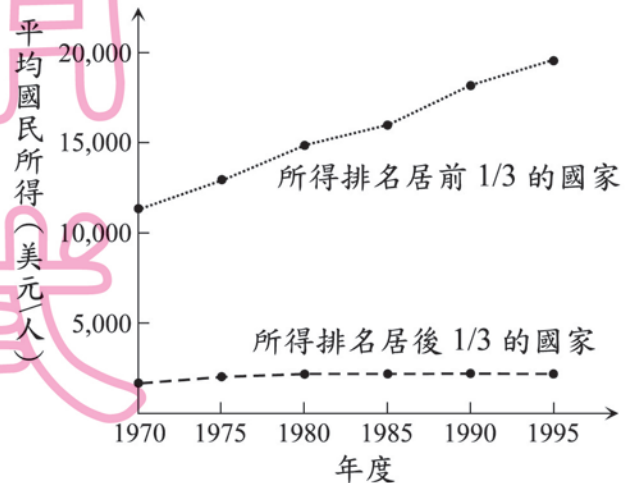
圖(九)

47. 約翰是一位法蘭克王國的農夫，他必須將大部分生產作物交給領主，只能以黑麵包、蔬菜等裹腹。他想改行做其他工作，卻受到限制，沒有選擇其他職業的自由。依此推斷，他最可能生活在下列哪一個制度下？

- (A)種姓制度
 (B)共產制度
 (C)坊市制度
 (D)封建制度

坊市制度 = 市坊分離制度

48. 圖(十)是1970至1995年期間，依照各國平均國民所得進行分組後的部分資料。根據圖中內容判斷，下列哪一項敘述最合理？



圖(十)

49. 「自十七世紀以來，此地一直是連結東北亞和東南亞的重要貿易據點，而近六十年來，它在西太平洋中的戰略地位也越來越重要。」上述最可能指下列何處？

- (A)日本
 (B)臺灣
 (C)泰國
 (D)新加坡

50. 政府應以尊重、平等的態度對待境內不同族群的人民，不然，人民很可能因為生活習慣不同、語言差異、統治措施失當等因素而引發族群衝突。下列哪一衝突事件發生的原因與上述情況最類似？

- (A)二二八事件
 (B)九一八事變
 (C)文化大革命
 (D)六四天安門事件

51. 以下是林家姊妹在火車上的對話——

妹妹：「剛剛的播音服務，使用了國語、閩南語和客家語等語言！」

姊姊：「政府已經立法規定，國內大眾運輸工具應使用多種語言播音，以便利各族群搭乘。」

根據上述內容判斷，政府的作法旨在保障人民的哪一項基本權利？

- (A) 平等權
- (B) 自由權
- (C) 受益權
- (D) 參政權

52. 「每年春季，飛魚群會隨著暖流來到臺灣附近海域，此時居住在該海域島嶼上的達悟族人會舉行招魚祭，之後才開始捕捉飛魚，剛開始僅限於在夜間以燈光誘捕，至夏季時才可在白天捕捉飛魚。」上文中的海域是指下列何者？

- (A) 東海 (B) 南海
- (C) 太平洋 (D) 臺灣海峽

53. 長久以來以色列和巴勒斯坦不斷發生暴力衝突。下列對當地衝突原因的敘述何者正確？

- (A) 以色列當地石油蘊藏豐富，各國都想要爭奪
- (B) 巴勒斯坦面臨印度洋，自古以來就是交通要衝
- (C) 雙方信仰不同，爭奪聖地及土地引發了許多仇恨
- (D) 法國及義大利分別扶植兩個不同民族爭奪政治勢力

54. 表(四)為 2006 年世界進口與出口貿易額排名前五名的國家，由表中數據可以推論，下列何者為貿易入超國？

表(四)

排名	出口額		進口額	
	國家	金額	國家	金額
1	德國	11,123	美國	19,196
2	美國	10,373	德國	9,102
3	中國	9,691	中國	7,916
4	日本	6,471	英國	6,008
5	法國	4,901	日本	5,775

單位：億美元

- (A) 德國
- (B) 日本
- (C) 英國
- (D) 中國

55. 多年來政府致力推動工商業自由化的政策，但國內仍存有部分國營專賣事業。若以鹽、鐵、酒專賣為例，探討其實施情況，最早可追溯至下列哪一個朝代？

- (A) 商朝 (B) 漢朝
- (C) 唐朝 (D) 宋朝

請翻頁繼續作答

新 聞 題 本

56. 「設於瑞典的某汽車廠，其零組件多來自歐洲各地不同的廠商，且零組件交到該汽車廠組裝部門所需的時間不會超過 48 小時，因此歐盟各國的顧客於訂貨後三週內就可以收到汽車。」依據上述判斷，這家汽車廠在設廠時所考慮的區位要素最主要為下列何者？
- (A)市場
 - (B)交通
 - (C)原料
 - (D)勞工
57. 右列是珮貞閱讀某本歷史書籍的部分內容，根據內容判斷，下列何種因素可以激勵生產？
- (A)充分就業
 - (B)物價穩定
 - (C)計畫經濟
 - (D)財產私有

蘇聯在解體前實施共產主義，但 1980 年時，開放農民擁有小塊農地；結果這些農地雖然僅占全國農地面積的 1.5%，其產量卻高達國內農產品總產量的四分之一。



計畫經濟＝統制經濟

二、題組：(58~63 題)

閱讀下列選文，回答第 58 至 59 題：

下列是大法官們在一次會議中，解釋某條法律的部分內容：

「……臨檢自屬警察執行勤務方式之一種。臨檢實施之手段……均屬對人或物之查驗、干預，影響人民行動自由、財產權及隱私權等甚鉅，應恪遵(謹慎遵守)法治國家警察執勤之原則。實施臨檢之要件、程序及對違法臨檢行為之救濟，均應有法律之明確規範，方符憲法保障人民自由權利之意旨。」

58. 上述解釋法律者是屬於我國中央政府的哪一個機關？
- (A)司法院
 - (B)行政院
 - (C)立法院
 - (D)考試院
59. 下列何者最可能是上述「恪遵(謹慎遵守)法治國家警察執勤之原則」所指的意涵？
- (A)五權分立
 - (B)依法行政
 - (C)治安優先
 - (D)責任政治

閱讀下列選文，回答第 60 至 61 題：

中亞位於歐洲、亞洲大陸之間，雨量稀少、氣候乾燥，北部是草原，南部是沙漠，自古為游牧民族生活的主要場所。近幾十年來，為了大量種植經濟作物而引河水灌溉，使鹹海面積縮小到原來的一半，水量減少為從前的三分之一，湖水含鹽濃度提高，幾乎為一般海水含鹽濃度的四倍。

60. 下列何者為形成本區氣候特徵的主要原因？
- (A) 熱帶低氣壓盤據
 - (B) 副熱帶高氣壓籠罩
 - (C) 地勢低平，水氣無法上升凝結
 - (D) 深居內陸，海洋水氣不易到達
61. 下列何者最有可能是文中所提到的經濟作物？
- (A) 甘蔗
 - (B) 棉花
 - (C) 咖啡
 - (D) 茶樹

閱讀下列選文，回答第 62 至 63 題：

下列是有關圓明園遭到破壞的部分文獻資料——

資料一：「這些宮殿非常龐大，由於我們必須在限定時間內完成任務，使我們無法徹底地掠奪。」

資料二：「最近夷人遍布在城內，任意進出皇宮，到處搶劫財物，汗辱婦女，殺傷民眾，無法無天。」

資料三：「圓明園的焚掠，在人類文化史上的損失是無法估計的，不但毀滅了世上獨一無二的名園，而且損失了中國歷代珍藏下來的文物。」

資料四：「我們號稱自己是文明人，認為中國人是野蠻人；這就是文明人對野蠻人所幹的好事！」

62. 上述事件發生在下列哪一場戰爭期間？
- (A) 鴉片戰爭
 - (B) 英法聯軍
 - (C) 甲午戰爭
 - (D) 八國聯軍
63. 對上述資料的詮釋，下列何者最合理？
- (A) 資料一是防守宮殿的清軍將領的日記
 - (B) 資料二是當時駐北京英國使節的記載
 - (C) 資料三是後人對這段歷史的批判省思
 - (D) 資料四是西方帝國主義者侵略的藉口

試題結束