

97 第一次國民中學學生基本學力測驗

社會科題本

請不要翻到次頁！

讀完本頁的說明，聽從監試委員的指示才開始作答！

※請先確認你的答案卡、准考證與座位號碼是否一致無誤。

請閱讀以下測驗作答說明：

測驗說明：

這是國民中學學生基本學力測驗社會科題本，題本採雙面印刷，共 13 頁，有 63 題選擇題，每題都只有一個正確或最佳的答案。測驗時間從 11:00 到 12:10，共 70 分鐘。作答開始與結束請聽從監試委員的指示。

注意事項：

1. 所有試題均為四選一的選擇題，答錯不倒扣。
2. 試題中所附圖形，如有附上比例尺，以比例尺為依據作答；若無比例尺，則該圖僅作為參考，不代表實際大小。
3. 可利用題本中空白部分計算，切勿在答案卡上計算。
4. 依試場規則第七條規定：「答案卡上不得書寫姓名座號，也不得做任何標記。故意污損答案卡、損壞試題本，或在答案卡上顯示自己身分者，該科測驗不予計分。」

作答方式：

請依照題意從四個選項中選出一個正確或最佳的答案，並用 2B 鉛筆在答案卡上相應的位置畫記，請務必將選項塗黑、塗滿。如果需要修改答案，請使用橡皮擦擦拭乾淨，重新塗黑答案。例如答案為 B，則將 B 選項塗黑、塗滿，即：A ● C D

以下為錯誤的畫記方式，可能導致電腦無法正確判讀。如：

- A ● C D — 未將選項塗滿
- A B C D — 未將選項塗黑
- A ● C D — 未擦拭乾淨
- A ● B C D — 塗出選項外
- A ● ● D — 同時塗兩個選項

請聽到鈴（鐘）聲響後，於題本右上角方格內填寫准考證末兩碼，再翻頁作答

一、單題：(1~54 題)

1. 下列為四位學生在課堂上製作的海報。其中哪一張海報說明的地理現象，與該地位於火山地震帶上最有關係？

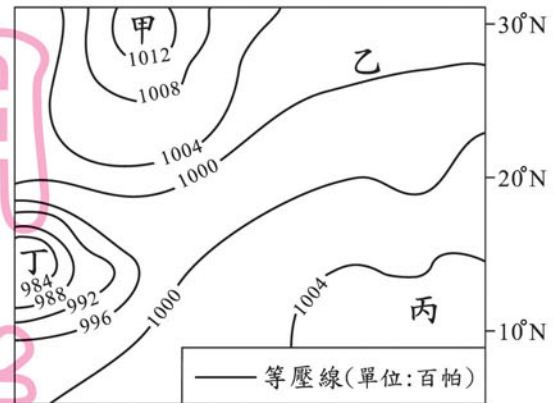
(A)	(B)	(C)	(D)
<p>巴拿馬-</p> <p>鄰接大洋 航海運輸發達</p>	<p>臺灣-</p> <p>位置優越 工商產業發達</p>	<p>加拿大-</p> <p>洋流交會 近海漁業興盛</p>	<p>日本-</p> <p>地熱豐富 觀光溫泉興盛</p>

2. 阿芳利用數據資料，將某地區分成沙漠及草原兩種氣候類型。下列何者最可能是她分類的依據？

- (A) 日溫差
(B) 年雨量
(C) 土壤酸鹼度
(D) 盛行風強度

3. 圖(一)為某熱帶海域的地面天氣圖。若僅根據圖上的數值判斷，哪一地區形成颱風的可能性較高？

- (A) 甲
(B) 乙
(C) 丙
(D) 丁



圖(一)

4. 南亞恆河平原和中國鄱陽盆地的緯度相近，但一月的月均溫，恆河平原卻比鄱陽盆地高 10°C 左右。形成上述差異的原因，主要是因為恆河平原具備下列何項特性所致？

- (A) 境內湖泊眾多
(B) 太陽輻射較強
(C) 午後多對流雨
(D) 北有高山屏障

5. 圖(二)是甲、乙兩國在每一百公頃的農地上所需投入勞力的比較圖。依圖上資訊判斷，乙國最可能是下列何者？

- (A) 美國
(B) 泰國
(C) 印尼
(D) 臺灣



圖(二)

請翻頁繼續作答

6. 為解決國家遭遇的困境，中國歷史上曾有多次變法與革新，但結果成敗不一。若就下列不同時期的改革做比較，何者最為成功？
- (A)秦國商鞅變法
 - (B)新朝王莽改制
 - (C)宋王安石變法
 - (D)清朝自強運動

7. 圖(三)是一幅描繪 1940 年左右臺灣社會的漫畫。漫畫反映出的現象，主要是受下列何者的影響？



圖(三)

- (A)六三法的頒行
 - (B)公學校的設立
 - (C)皇民化運動的推動
 - (D)臺灣文化協會的成立
8. 老師向同學介紹某一種主義時說：「理性並不能解決人類所有的社會問題，應強調人的本能、情感、想像與潛意識的重要性，排斥形式，欣賞自然與宗教的美。」老師是介紹下列哪一種主義？
- (A)人文主義
 - (B)浪漫主義
 - (C)寫實主義
 - (D)社會主義
9. 中國歷代選用人才的方式各有不同，「九品官人法」在魏晉南北朝實施了三百多年，它對當時造成何種影響？
- (A)出現布衣卿相，平民百姓獲得重用
 - (B)鞏固世族地位，社會階層缺乏流動
 - (C)建立書院制度，名儒講學蔚為風尚
 - (D)形成士紳階級，文人競相獵取功名
10. 「臺灣在戰後再度進入國際貿易市場，海關、領事館等機構正式出現。不僅各國商人可以到通商口岸做買賣，西洋傳教士也能自由進出傳教，馬偕牧師即為著名代表之一。」上述現象發生於臺灣哪一時期？
- (A)荷蘭統治時期
 - (B)鄭氏統治時期
 - (C)清朝統治後期
 - (D)日本統治前期

11. 臺灣社會的卡債問題日益嚴重，為改善此種現象，政府制定《消費者債務清理條例》，以利一般民眾進行債務之重整或清算。依前述內容判斷，政府是以何種方式解決此類社會問題？

(A)改善器物生活
(B)更新社會制度
(C)提升科學技術
(D)調整價值觀念



器物生活＝物質生活

12. 「假如把立法院通過的政府總預算金額想像成一塊大餅，其中畫分給甲部會的部分，就無法再提供給乙部會使用。」上述內容符合經濟學中的哪一種概念？

(A)公共財
(B)分散風險
(C)需求法則
(D)機會成本

13. 右列是某文章的部分內容。根據內容判斷，下列何者最符合作者對「教育」的觀點？

(A)教育「投資時間」漫長
(B)教育的「報酬率」很低
(C)教育的目的在「提高所得」
(D)教育成果具有「外部效果」

個人的教育投資，不僅有助提高所得，更能豐富精神生活；同時，整個社會也會間接獲益，如影響社會流動、提高知識水準等，進而促成文明、理性社會的發展。

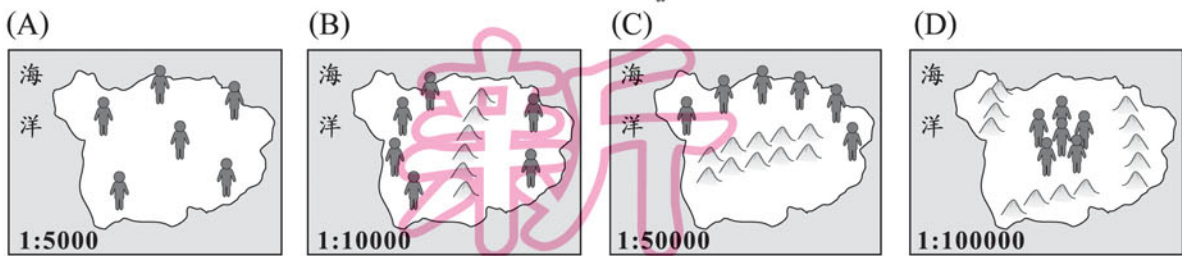
14. 家庭暴力不再被視為私領域的「家務事」，而是透過公權力的介入，將其納為公領域應處理的社會問題。上述公權力介入私領域的做法，是採取下列何種途徑？

(A)運用公共媒體影響視聽
(B)透過立法防治暴力行為
(C)鼓勵成立相關社福團體
(D)積極提倡性別平權觀念

15. 「近來，他們不再只限於執行中央交辦的事務，同時也致力於發展當地特色，藉此吸引企業投資與進駐，強化城市本身的經濟競爭優勢。」前述內容主要是在說明下列何項議題？

(A)中央與地方權力對抗
(B)行政與立法分權制衡
(C)地方政府功能的轉變
(D)海外投資績效的提升

16. 下列為四個島國的人口分布示意圖，每張圖的圖紙大小相同，但比例尺都不同。依此判斷，哪一個島國的人口密度最大？(人代表一百人)



17. 「這個國家的地形複雜，植物種類相當豐富，其生物之多樣性足以成為大規模動、植物基因庫的重要來源。」前述國家最可能為下列何者？

- (A) 中國
(B) 埃及
(C) 加拿大
(D) 俄羅斯

18. 表(一)是某地區三級產業的就業人口比例資料，從表中可直接看出此地具有下列何種產業特色？

- (A) 服務業發達
(B) 以農牧業為主
(C) 科學技術先進
(D) 加工製造比例最高

表(一)

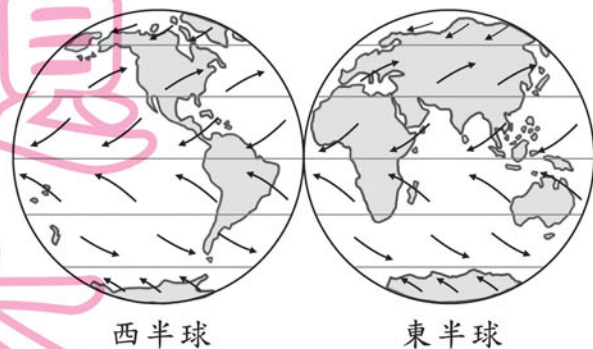
產業分類	人口比例(%)
第一級	0.2
第二級	33.0
第三級	66.8

19. 玉茹調查某些未經人為開發河川的水文資料，發現當河流從山區進入平原後，河道常呈現蜿蜒狀。相較於山區河段，她在平原河段普遍可觀察到下列何種現象？

- (A) 河水水量變小
(B) 河流速度減慢
(C) 河川支流數減少
(D) 泥沙堆積量減少

20. 「每年大約會有 2,500 萬至 5,000 萬噸的沙子隨著盛行風，飄移到西印度群島與南美洲的北部。」前述的沙子，若根據圖(四)中的全球盛行風向判斷，最有可能來自下列哪一個地區？

- (A) 黃土高原
(B) 北美大平原
(C) 撒哈拉盆地
(D) 澳洲西部沙漠



圖(四)

21. 小祥和清儀爭論中國歷史上有關科技發展的問題——
 小祥：「中國一向只重視經史文學，卻忽略科學的研究。」
 清儀：「不，其實中國古代科技曾相當進步，但後人往往忽視這項事實。」
 清儀最適合舉下列何人的著作為例，以支持她的說法正確？
 (A)朱熹 (B)蘇秦
 (C)沈括 (D)李白

22. 圖(五)是《歐洲每日大事記》內〈快報〉的部分內容：



標題：XXXX年X月X日(巴達維亞方面得知臺灣遇襲)，
 駐守福爾摩沙的荷蘭員工遭受漢人入侵的情況。

……(由於)無法立刻攻下熱蘭遮城，他要求城主揆一開
 城投降，這樣的話，所有荷蘭人都可以自由帶走私人財
 產。若拒絕投降，他誓言……毀滅任何有生命的東西。

圖(五)

參考上述資料，有助於我們了解下列哪一主題？

- (A)郭懷一抗荷事件
 (B)鄭氏政權的建立過程
 (C)鄭和出使對東南亞造成的影響
 (D)荷蘭聯合東印度公司的成立背景
23. 有一場研討會，會中討論到「甘地」與「林獻堂」兩位歷史人物，下列何者是他們二人重要事蹟的共同處？
 (A)策畫群眾起義，推翻殖民統治
 (B)主張發展經濟，改善人民生活
 (C)倡導民主思想，改變國家體制
 (D)採取和平方式，爭取人民權益

24. 表(二)是某一主題的相關代表性事件整理，此主題最可能為何？

- (A)工業革命的發生
 (B)共產制度的式微
 (C)民族主義的沒落
 (D)區域統合的挫敗

表(二)

主題： ?	
1	東歐巨變
2	德國統一
3	蘇聯瓦解

25. 有一本小說，內容描述戰爭時期的學校生活，當時首都由南京遷到重慶，敵人則在原首都另立政權。書中主角隨政府撤退到西南後方，最後響應政府的號召而投筆從戎。這部小說的創作背景應是下列何者？

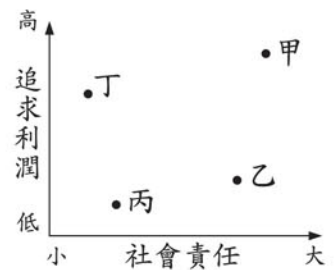
- (A)民國 15~17 年間國民革命軍北伐 (B)民國 23~25 年間中共「長征」
 (C)民國 26~34 年間對日抗戰 (D)民國 39~42 年間韓戰衝突

請翻頁繼續作答

26. 追求利潤是企業經營的目標，但亦需顧及社會責任。圖(六)是社會責任與追求利潤的關係圖，圖中甲、乙、丙、丁的哪一個位置，最能代表企業與社會的共榮發展？

(A) 甲
(C) 丙

(B) 乙
(D) 丁



圖(六)

27. 嘉雯對生物科技發展很感興趣，心想未來複製人若被允許，則有關親屬關係、財產繼承等法律規範勢必需要修訂。若她想了解現行法律的相關規定，應該選讀下列哪一本書籍？

(A) 《憲法》
(C) 《著作權法》

(B) 《民法概要》
(D) 《兒童及少年福利法》

28. 某部電影的劇情描述：「在國會大選後，國王在形式上『任命』多數黨領袖為首相，再由首相組織政府，……實際上國王並無實權。」根據前述內容判斷，電影中的國家屬於下列何種體制？

(A) 民主共和國
(C) 君主獨裁國

(B) 君主立憲國
(D) 獨裁共和國

29. 右列是小陸收聽廣播節目的部分內容。根據內容判斷，下列哪一項敘述正確？

(A) 閱聽人積極作為可約束劣質媒體
(B) 該監督聯盟屬於媒體的自律組織
(C) 對於不當媒體可向警察機關檢舉
(D) 聯盟舉動已侵犯媒體的意見自由

民間社團組成媒體監督聯盟，公布不良電視節目的名單，發起民眾拒看此類節目，希望藉此促使媒體改善節目的內容與報導，以及善盡媒體的社會責任。

30. 下列是有關「法治」概念的相關解釋：

「在民主國家，所有法律均由司法人員制定及執行，政府和人民都要遵守，但政府

甲

基於施政的需要不必受法律的約束，可以由總統依現況逕行公布法律，而且法律

乙

丙

之前人人平等，凡是違法的人都應受到處罰。」前述的說法哪一項正確？

丁

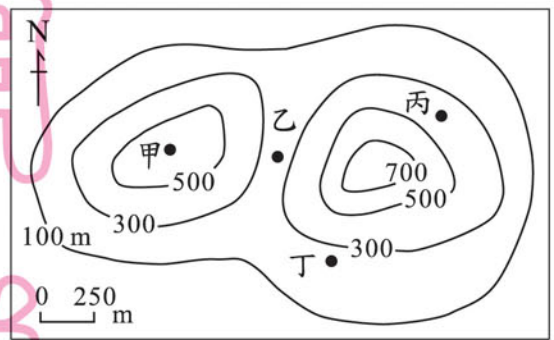
(A) 甲
(C) 丙

(B) 乙
(D) 丁

31. 某公司經理為了拓展市場，搭機到泰國曼谷考察業務，然後利用假期到卡達杜哈（位於西亞）亞運會場為中華隊加油，最後前往德國法蘭克福拜訪客戶。在他所停留的三個都市中，最不容易看到下列哪一種宗教建築？
- (A) 佛教寺廟
(B) 印度教寺廟
(C) 基督教教堂
(D) 伊斯蘭教清真寺

32. 「王大富和夥伴駕船從西班牙出發，橫渡大西洋、太平洋、印度洋，繞經非洲南端，再回到西班牙。上岸後王大富發現船上航海日誌的日期比陸地上的日期少一天……。」這個憑空消失的一天，最可能和他們通過下列哪一條經線或緯線有關？
- (A) 緯度 0 度線
(B) 南緯 66.5 度線
(C) 東經 90 度線
(D) 經度 180 度線

33. 圖(七)為某地區的等高線圖。據報敵國大軍會由北向南通過圖中的谷地，若你是一位軍事將領，所擬定的戰略是把軍隊隱藏在敵軍看不到的谷地出口附近，則圖中甲、乙、丙、丁四個地點，何者是你安排軍隊埋伏的最佳位置？



圖(七)

- (A) 甲
(B) 乙
(C) 丙
(D) 丁
34. 義芬在書中看到以下內容：「神助拳……只因鬼子鬧中原……天無雨，地焦旱，全是教堂止住天，神發怒，仙發怒……附著人體把拳傳……洋鬼子，盡除完，大清一統靖(平定)江山。」這些話語的出現與下列何者有關？
- (A) 清初祕密結社眾多，假借宗教名義排外
(B) 自強運動推行西化，激發傳統宗族群起抗清
(C) 清末外力侵逼，民間仇外心理釀成義和團事變
(D) 社會動盪不安，湘軍習武練拳以對抗太平天國
35. 「在混亂的時代中，他以今日法國地區為基礎，建立帝國，頒行制度，獎勵文教，為當時帶來一股新氣象。雖然他是日耳曼人，卻被教宗加冕為『羅馬人的皇帝』。」前述內容應是指下列哪一位統治者？
- (A) 屋大維
(B) 查理曼
(C) 君士坦丁
(D) 查士丁尼

36. 阿朗閱讀中國歷史故事時，看到書上對三個不同朝代的官員描述如下：
- (甲) 官員聽聞皇帝廢除丞相，多不敢有異議，深怕得罪皇帝而被施以廷杖。
- (乙) 官員大多出身科舉，皇帝常和他們討論如何應付北方遼國的入侵。
- (丙) 官員相約到西域胡人經營的酒館飲酒，欣賞當時盛行的胡舞、胡樂表演。
- 下列哪一選項最符合上述官員在歷史上出現的朝代順序？
- (A) 甲 → 乙 → 丙
 (B) 乙 → 甲 → 丙
 (C) 丙 → 甲 → 乙
 (D) 丙 → 乙 → 甲
37. 詩雅在網路上開設虛擬商店銷售貨品，並以營利為目的，而她的交易所得也納入所得稅的課徵範圍。上述所得稅的課徵，是依據經濟學的何種概念而設定的？
- (A) 受益原則 (B) 供給法則
 (C) 比較利益原理(則) (D) 負擔能力原則
38. 張爺爺看到圖(八)與圖(九)兩張住家附近相差三十年的照片，他感嘆地說：「時代真的不同，大家普遍使用的交通工具也不一樣了！」從這兩張照片的差異中，最明顯看出下列何種概念？



圖(八)



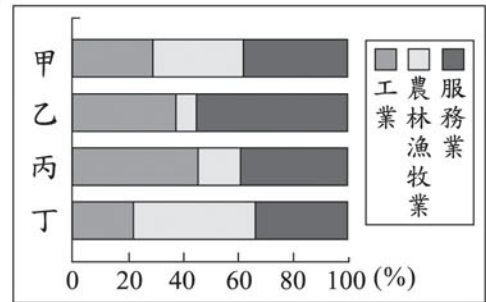
圖(九)

- (A) 社會規範 (B) 社會制度
 (C) 社會變遷 (D) 社會組織
39. 某新聞報導：「消費者保護團體主張，不肖廠商為謀利而製造問題商品，且以不實的廣告行銷宣傳，政府應加重對企業經營者的行政罰責。」上述說法，應是指提高下列何種處罰標準？
- (A) 賠償金額 (B) 罰鍰額度
 (C) 徒刑期限 (D) 罰金額度
40. 右列是秀卿研究報告的結論。根據她的內容判斷，該報告最可能是在探討下列哪一主題？
- (A) 生產模式 (B) 性別平等
 (C) 國際組織 (D) 經濟制度

在聯合國的評估中，女性的勞動貢獻大約占所有工時的66%，賺取大約世界總收入的10%，卻僅擁有世界上1%的財富。

41. 近 20 年來，由於離婚率提高、家庭人數減少等因素，促使家庭型態出現轉變。上述家庭型態的轉變，最可能是指下列何種現象？
- (A)性別比例失衡 (B)家庭功能增強
(C)單親家戶漸多 (D)適婚人口減少

42. 圖(十)是臺灣在甲、乙、丙、丁四個不同時期的產業人口結構圖。依據臺灣經濟發展的情形，其出現的先後順序是下列何者？



圖(十)

43. 文化的內涵大致可分為器物(物質)、制度和理念三個層次。下列有關文化傳播的敘述，何者最接近「理念」層次？
- (A)漢代透過絲路貿易，將中國的絲綢西傳
(B)日本派人學習唐朝的文字、儒學與佛教
(C)蒙古西征將中國火藥傳入西亞與歐洲
(D)美洲番薯在明清時期傳入臺灣與中國

44. 海叔和朋友聊天時說：「回想當年唸書時，政府為了穩定秩序，臺灣人民從住、行、育、樂到言論、集會、結社等都受到嚴格的管理與控制。」這是受到當時哪一項法令的約束？

- (A)戒嚴令 (B)臨時約法
(C)人民團體法 (D)道路交通管理處罰條例

45. 右列是某場演講中的相關內容。根據內容判斷，該場演講的主題最可能是下列何者？

- (A)公平正義
(B)多元社會
(C)全球關連
(D)區域合作

911 事件後，人們對飛航安全的信任和搭機行為產生改變，例如取消不必要的旅行、盡量少轉機等。而航空公司則採取改變航班、調整票價和加強機場安檢等因應措施。該事件所造成的影響，早已不再局限於原來發生的地區了。

46. 雅婷在一篇討論經濟發展的文章中，看到「促進臺灣經濟成長的關鍵因素是優秀的人力資源，而非天然資源」的說法。文中所稱的兩種「資源」，均包含在經濟學裡的哪一個概念中？

- (A)生產要素 (B)交易媒介
(C)國際貿易 (D)供需法則

47. 右列是小皓參加古蹟導覽的解說內容。根據內容判斷，政府的做法可以發揮下列何種功能？

- (A)以制度落實文化資產的保存
- (B)加強文化創新激發文化活力
- (C)保留文化資產以便待價而沽
- (D)重新檢視文化以求去蕪存菁

針對國內部分古物、古蹟建築因缺乏管理維護而毀損，近年政府廣邀學者專家做勘驗的工作並加以分級，不但方便管理，也讓後世子孫有機會深入了解傳統文化的風貌。

48. 近年來，在臺灣從事製造業與營造業的外籍勞工人數很多，有些工業區附近甚至可以看到專門服務外籍勞工的餐飲店或生活用品店。臺灣引進這些勞工的原因，主要是與下列何者有關？

- (A)所得貧富差距擴大
- (B)青壯年失業問題嚴重
- (C)本地勞工薪資成本提高
- (D)產業發展技術水準降低

49. 清朝統治時期，臺灣曾出現一種稱為「郊」的組織，依其性質推斷，這種組織主要分布在圖(十一)中何處？

- (A)甲
- (B)乙
- (C)丙
- (D)丁



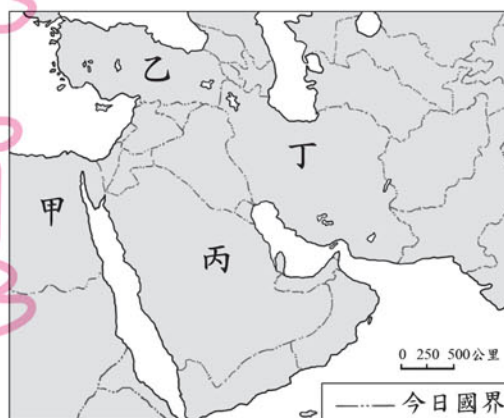
圖(十一)

50. 二十世紀初，歐洲有「三國同盟」與「三國協約」兩大聯盟組織；到二十世紀中葉，又出現「北大西洋公約組織」與「華沙公約組織」兩大集團。這些國際結盟是屬於下列何種性質的組織？

- (A)經濟互惠
- (B)文化交流
- (C)軍事合作
- (D)社會救助

51. 上古時代的波斯民族曾建立橫跨歐、亞、非三洲的帝國。他們的後代建立了圖(十二)中甲、乙、丙、丁哪一國家？

- (A)甲
- (B)乙
- (C)丙
- (D)丁



圖(十二)

52. 日本統治時期，因總督府改善公共衛生，有效地防治熱帶傳染病，使臺灣人口的死亡率大幅降低，這在當時曾明顯造成下列哪一種人口現象？

- (A)社會增加率提高
- (B)自然增加率提高
- (C)人口成長率降低
- (D)性別比例趨向平衡

53. 依據 2004 年的資料，南韓的平均國民所得為 14,162 美元，與北韓的平均國民所得 914 美元有很大的差距。小賴想用不同因素來解釋南、北韓的經濟發展差異，如表(三)所示，其中哪一個因素無法解釋上述差異？

表(三)

國家 因素	南韓	北韓
氣候條件	生長季長	生長季短
礦產資源	少	多
經濟制度	偏市場經濟	偏計畫經濟 (統制經濟)
貿易總值	高	低

- (A)氣候條件 (B)礦產資源
(C)經濟制度 (D)貿易總值

54. 中國上海市從清末開放對外通商後，吸引許多商人在此投資，逐漸發展成中國最大的工商業都市。這和該地具備哪一項條件最有關係？

- (A)歷史悠久，古都色彩濃厚 (B)水電動力豐沛，能源充足
(C)農礦資源豐富，勞力眾多 (D)位在長江下游，腹地廣大

二、題組：(55~63 題)

閱讀下列選文，回答第 55 至 57 題：

下列是某人權調查報告的部分內容：

「由表(四)可知，1975 年以來，全球的自由國家數在持續增加中。到 2005 年，三個原不屬於自由國家的蒲隆地、賴比瑞亞與中非共和國，也開始採行選舉制度。而在自由程度上進步最多的是中東地區，如科威特賦予女性選舉權。」

表(四)

時間	自由國家	部分自由國家	不自由國家
1975	40 (25%)	53 (34%)	65 (41%)
1985	56 (34%)	56 (34%)	55 (32%)
1995	76 (40%)	62 (32%)	53 (28%)
2005	89 (46%)	58 (30%)	45 (24%)

註：1. 數字代表國家數，百分比代表占全球國家數的比率。
2. 全球國家數=自由國家數+部分自由國家數+不自由國家數。

55. 上述蒲隆地、賴比瑞亞與中非共和國的轉變，符合下列何種原則？

- (A)三權分立 (B)主權在民
(C)民族自決 (D)國際平等

56. 上述科威特的變革，符合我國《憲法》保障人民的哪些基本權利？

- (A)自由權、受益權 (B)自由權、參政權
(C)平等權、受益權 (D)平等權、參政權

57. 表(四)中 1985 至 1995 年期間的數據變化，最可能是受下列何種因素的影響？

- (A)蘇聯解體 (B)歐盟成立
(C)古巴危機 (D)以阿戰爭

請翻頁繼續作答

閱讀下列選文，回答第 58 至 60 題：

以下是一位作家的旅遊筆記：

「達文西 43 歲時，為米蘭市畫了一幅《最後的晚餐》(圖十三)，成為米蘭的鎮市之寶。……米開朗基羅的《大衛像》(圖十四)原作收藏在佛羅倫斯藝術學院美術館，米開朗基羅廣場上那件只是複製品，不知情的遊客拚命與複製品合照，非常有趣。離廣場不遠處是著名的碧提宮美術館，拉斐爾最好的幾件油畫，被當成國寶般地懸掛在那裡。例如《小椅子聖母》(圖十五)表現出母愛光輝，……無論如何，你都會為這幅畫而動容。」



圖(十三)



圖(十四)



圖(十五)

58. 若要為上述內容下個標題，何者最適當？
- (A)古典希臘的藝術集錦
 - (B)中古歐洲的藝術成就
 - (C)文藝復興的藝術精華
 - (D)浪漫時期的藝術饗宴
59. 依文中敘述判斷，若要親眼目睹這些偉大作品的真蹟，應到下列何處？
- (A)英國
 - (B)法國
 - (C)義大利
 - (D)西班牙
60. 上述旅遊活動，最符合下列哪一種教育型態的學習？
- (A)社會教育
 - (B)殖民教育
 - (C)家庭教育
 - (D)學校教育

閱讀下列圖文，回答第 61 至 63 題：



圖(十六)

61. 圖(十六)之(b)中，他們所看到的谷地景觀，主要的成因為何？
- (A)斷層陷落 (B)河川切割
(C)雨水溶蝕 (D)冰河侵蝕
62. 圖(十六)之(c)中，小德應如何回答最為正確？
- (A)緯度較低 (B)高度較低
(C)雨量較少 (D)氣壓較高
63. 提供當地降雪的水氣，主要是由下列何者所帶來的？
- (A)西風 (B)颶風
(C)信風 (D)季風

試題結束