



96 第二次國民中學學生基本學力測驗

社會科題本

請不要翻到次頁！

讀完本頁的說明，聽從監試委員的指示才開始作答！

※請先確認你的答案卡、准考證與座位號碼是否一致無誤。

請閱讀以下測驗作答說明：

測驗說明：

這是國民中學學生基本學力測驗社會科題本，題本採雙面印刷，共 13 頁，有 63 題選擇題，每題都只有一個正確或最佳的答案。測驗時間從 11:00 到 12:10，共 70 分鐘。作答開始與結束請聽從監試委員的指示。

注意事項：

1. 所有試題均為四選一的選擇題，答錯不倒扣。
2. 試題中所附圖形，如有附上比例尺，以比例尺為依據作答；若無比例尺，則該圖僅作為參考，不代表實際大小。
3. 可利用題本中空白部分計算，切勿在答案卡上計算。
4. 依試場規則第七條規定：答案卡上不得書寫姓名座號，也不得做任何標記。故意污損答案卡、損壞試題本，或在答案卡上顯示自己身分者，本科測驗不予計分。

作答方式：

請依照題意從四個選項中選出一個正確或最佳的答案，並用 2B 鉛筆在答案卡上相應的位置畫記，請務必將選項塗黑、塗滿。如果需要修改答案，請使用橡皮擦擦拭乾淨，重新塗黑答案。例如答案為 B，則將 B 選項塗黑、塗滿，即：A ● C D

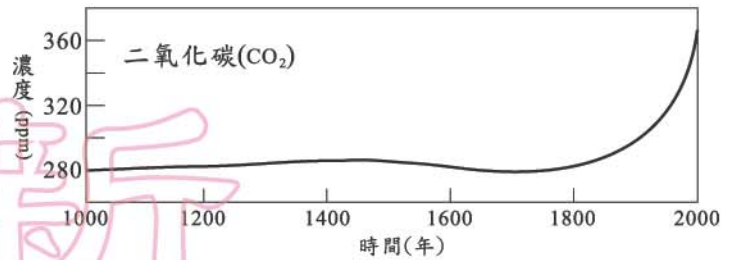
以下為錯誤的畫記方式，可能導致電腦無法正確判讀。如：

- A ● B C D—未將選項塗滿
- A B C D—未將選項塗黑
- A ● C D—未擦拭乾淨
- A ● B C D—塗出選項外
- A ● ● D—同時塗兩個選項

請聽到鈴（鐘）聲響後，於題本右上角方格內填寫准考證末兩碼，再翻頁作答

一、單題：(1~54 題)

1. 圖(一)為近一千年來全球二氧化碳濃度的變化情形，下列哪一項因素與這種變化有最直接的關係？
- (A) 臭氧層的破洞
(B) 水土保持的破壞
(C) 生物多樣性的減少
(D) 煤和石油的大量使用



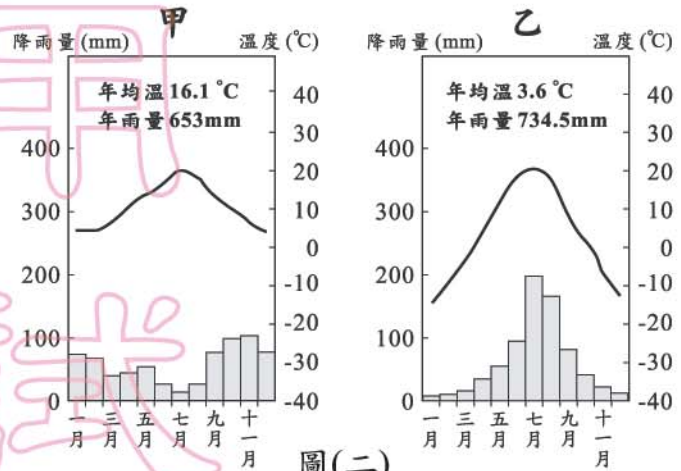
圖(一)

生物多樣性=物種多樣性

2. 好寶寶玩具製造公司計畫於今年底到國外設廠製造，在不考慮勞力品質的條件下，下列哪一個國家的勞力資源最為充沛？
- (A) 英國
(B) 印度
(C) 澳洲
(D) 日本

3. 圖(二)為同緯度之甲、乙二地的氣候圖。根據圖中資料判斷，下列敘述何者正確？

- (A) 甲位在北半球
(B) 甲的年溫差較大
(C) 乙的雨量分布較均勻
(D) 乙的降雨集中在冬季



圖(二)

4. 臺灣有許多地名與甘蔗製糖的舊式製糖廠「糖廍」有關，如「廍子」、「廍後仔」……等。由臺灣甘蔗分布的地理環境來推論，下列哪一地區會出現最多這類的地名？

- (A) 臺北盆地
(B) 桃園臺地
(C) 嘉南平原
(D) 宜蘭平原

5. 「相較於羊群，牛隻多棲息在較濕潤的開闊林地吃草或樹葉。」若根據此一條件判斷，圖(三)島嶼中的哪一地點較適合放牧大量牛隻？

- (A) 甲
(B) 乙
(C) 丙
(D) 丁



圖(三)

請翻頁繼續作答

6. 小宇蒐集鄭和、達伽馬、哥倫布、麥哲倫四人的生平事蹟寫了一篇報告，他想為這篇報告下個標題，下列哪一個最適合？

- (A) 「熱衷研究的科學家」
- (B) 「英勇的海外探險家」
- (C) 「真情流露的文學家」
- (D) 「憂國憂民的政治家」

7. 欣萍在課堂報告說：「他們論政，總是站在君主的立場，即使有時顧及人民，也是為君主打算。他們反對賢人政治，因為世上的賢人太少了，君主只要威權在手，即使中材之主也可以治理國家……。」依此推論，她是介紹戰國時代哪一學派的主張？

- (A) 儒家
- (B) 道家
- (C) 墨家
- (D) 法家

8. 清廷征服臺灣後，官員對於棄留臺灣問題爭論不一，當時率軍攻取臺灣的大臣上奏康熙皇帝，強調臺灣物產豐富，且位於重要戰略位置，雖管理不易，不可輕言放棄，結果促使朝廷將臺灣納入版圖。這位大臣是誰？

- (A) 施琅
- (B) 陳永華
- (C) 沈葆楨
- (D) 唐景崧

9. 在近代史上，有一份文件內容摘錄如下：

一、退回封號、勳章、榮譽職位，並辭去地方機構委派的職務
二、拒絕出席政府各種紀念集會，及各種官方或半官方的集會
三、從公立學校或學院中領回自己的子弟
四、律師、當事人抵制法院，自設仲裁機構，解決爭端
五、拒絕前往美索不達米亞服勞役的軍事徵召
六、各級候選人撤回登記，選民則拒絕對任何候選人投票
七、抵制外國貨

這份文件的出現最可能與下列何者有關？

- (A) 印度不合作運動
- (B) 美國門羅主義(宣言)
- (C) 日本明治維新
- (D) 巴爾幹獨立運動

10. 臺灣在日本統治期間，人口數由近300萬增加到600多萬，人口增加迅速。下列何者是造成此現象的主要原因？

- (A) 日本地狹人稠，眾多日人移民來臺謀生
- (B) 為提高蔗糖產量，日人招募華南居民來臺
- (C) 糧食充裕，公共衛生觀念及現代醫療制度建立
- (D) 南進政策需大量人力，殖民政府積極獎勵生育

11. 右列是小薩說明某概念發展促成社會轉變的部分資料。根據內容判斷，他應是在探討下列何項概念？

(A) 公共財
(B) 全球化
(C) 多元價值
(D) 專業分工


- 人們的時空觀念有所轉變。
- 世界各地文化交流的頻率和數量，正以前所未有的速度增加中。
- 來往各地的跨國工作者不斷擴增。

12. 表(一)是臺閩地區戶口及住宅普查的部分摘要結果。根據內容判斷，民國79年至89年間，我國的家庭類型具有下列何種變遷趨勢？

(A) 三代同住比率增加
(B) 未婚人口比率減少
(C) 核心家庭仍為主流
(D) 單親家庭明顯減少

表(一)

住戶型態	79年	89年
三代家戶(%)	16.2	15.7
核心家戶(%)	63.6	55.0
單身家戶(%)	13.4	21.6
其他家戶(%)	6.8	7.7

 核心家庭=小家庭

13. 政府為推動公務人力考選、培訓、任用的三合一政策，設立國家文官培訓所，負責辦理公務人員相關訓練。根據上述內容判斷，國家文官培訓所應隸屬於下列哪一機關？

(A) 考試院 (B) 行政院
(C) 立法院 (D) 監察院

14. 右列是小齊在書上看到有關「牽手」一詞的相關資料。從這個典故的歷史發展判斷，它最能表現下列何種意涵？

(A) 文化融合
(B) 制度興革
(C) 風俗改變
(D) 族群衝突

在臺灣社會有時會聽到人稱自己的妻子為「牽手」。其實「牽手」在幾百年前是平埔族人結婚的習俗，後來漢人大量與平埔族通婚，許多漢人在向別人介紹自己的妻子時，乃以「牽手」名之。

15. 政府對經濟和社會地位相對弱勢的族群，常會透過政策提供較多的社會資源和機會保障，例如為身心障礙者設立特殊教育學校。上述政府的做法，最可能是基於下列何種理由？

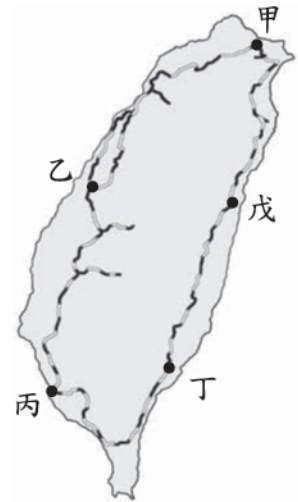
(A) 保存特殊文化 (B) 促進社區參與
(C) 強化族群融合 (D) 落實社會正義

16. 美國在出兵至伊拉克前，為了增加軍隊的戰鬥力，欲在國內尋找最相似的氣候環境加以模擬，則圖(四)中何處最適合做為美軍訓練之地？
- (A) 甲
(B) 乙
(C) 丙
(D) 丁



圖(四)

17. 小平想了解臺灣全島地形起伏及河川長度的概況，下列何者所提供的資訊最有助益？
- (A) 臺灣年雨量分布圖
(B) 臺灣等高線地形圖
(C) 臺灣各類地形比例圓餅圖
(D) 臺灣沿 23.5°N地形剖面圖

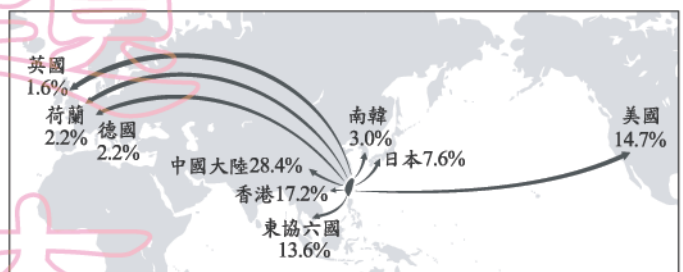


圖(五)


18. 「火車在這一段路程中，一開始穿越許多的山洞隧道，後來便看到廣闊的平原景觀以及浩瀚的太平洋風光……。」上述最可能是在描寫圖(五)的哪一段路程？
- (A) 戊→丁
(B) 丙→乙
(C) 乙→甲
(D) 甲→戊

19. 「小春每次隨著父親進城，都背著自家的產品，翻越一座座的高山，利用繩索橫過急湍峽谷；沿途感受山上到溪谷之間的氣溫變化很大，植物的種類也有明顯的不同……。」依據文中所述，小春的居住地最有可能位於下列何地？
- (A) 雲南
(B) 山東
(C) 陝西
(D) 青海

20. 圖(六)是2005年臺灣出口到各國的貿易值比例。根據圖中的資料，下列敘述何者正確？
- (A) 日本向臺灣進口最多產品
(B) 歐盟國家與臺灣亦有貿易活動
(C) 臺灣為北美自由貿易區之成員
(D) 臺灣進口最主要的來源是中國大陸



圖(六)

 北美自由貿易區
= 北美自由貿易組織

21. 阿育在看一部電影，隨劇情發展，影片先後出現了相互決鬥的騎士、企圖逃往城市的農民、壟斷紡織技術的行會師傅……等。綜上所述，這部電影最可能是敘述下列哪一時期的故事？
- (A) 希臘時期
(B) 羅馬時期
(C) 歐洲中古時期
(D) 十九世紀初期

22. 一九三〇年代，美國羅斯福總統大力推行「新政」，推動社會福利，調整外交策略，穩定了經濟局勢。當時推行此政策的主要背景為何？
- (A) 希特勒積極對外擴張
(B) 美、蘇陷入長期冷戰局面
(C) 黑奴解放後產生經濟問題
(D) 一次大戰後經濟大恐慌發生

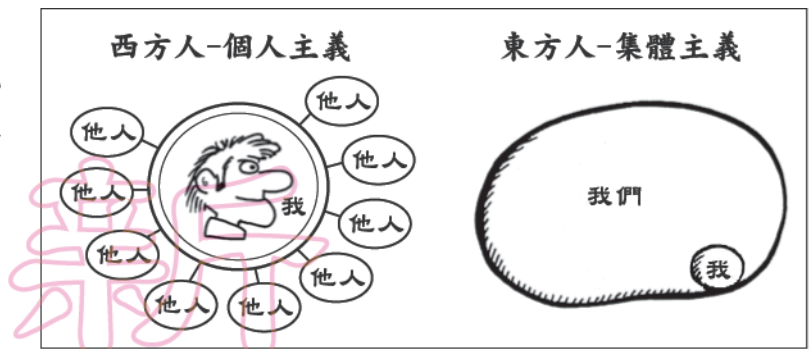
23. 歷史資料的種類繁多，畫作也是其中之一。圖(七)是張擇端繪製的《清明上河圖》部分內容，參考這幅圖將最有助於研究下列哪一主題？
- (A) 漢代的鄉村生活
(B) 大唐的繁華京城
(C) 宋人的城市生活
(D) 明初的園林造景



圖(七)

24. 啟蒙運動促進歐洲的近現代化，開啟了歐洲歷史的新頁。這個運動最主要的內涵是什麼？
- (A) 海權時代來臨，歐洲人開始探索東方未知世界
(B) 闡明基督教義，促使歐洲人重新領會神的啟示
(C) 科學方法與新技術的發明，改善人類物質生活
(D) 提倡自由與理性，應用科學方法解決社會問題
25. 十八世紀中葉以後，歐洲各國因工業革命日益強大，當時中國卻與西方世界中斷往來，日後反而成為新帝國主義國家侵略的對象。下列何者是造成當時雙方中斷往來的主要原因？
- (A) 流寇為亂劇烈
(B) 康熙實施海禁
(C) 葡人從中壟斷
(D) 雍正下令禁教

26. 圖(八)是小敬比較東西方文化差異時，用來輔助說明研究議題的圖形。根據內容判斷，他最可能是在探討下列哪一主題？



圖(八)

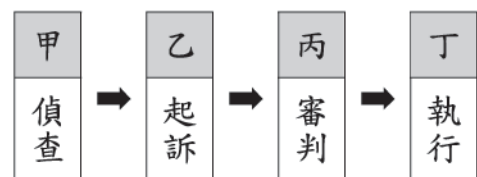
27. 許多今日我們視為理所當然的觀念或制度，如兩性工作平等、消費者保護機制、全民健保制度等，都是過去社會運動長期累積的成果。根據上述內容判斷，下列何者是社會運動的顯著功能之一？

- (A) 促成社會變遷
(B) 強化族群融合
(C) 減少社會流動
(D) 落實國家安全

28. 大毛在電視新聞上看到「收受贓物可能被處以罰金」、「騎乘機車未戴安全帽要處以罰鍰」，進而與班上同學討論罰金與罰鍰的差異，下列何種解釋最正確？

- (A) 罰鍰會留下前科記錄，而罰金則不會
(B) 罰款金額不同，罰金較高而罰鍰較低
(C) 罰金屬刑事制裁，罰鍰則屬行政處罰
(D) 罰金補償給受害者，罰鍰則繳給政府

29. 《刑法》可視為治安的基石，在圖(九)刑事訴訟的流程中，項目「乙」的程序，屬於下列何者的職權？



圖(九)

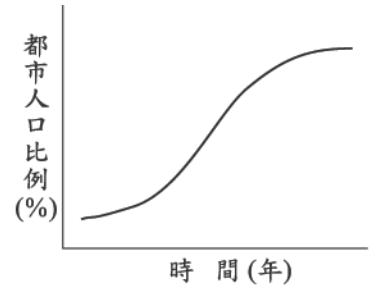
- (A) 法官
(B) 律師
(C) 大法官
(D) 檢察官

30. 在民主國家中，《憲法》對於人民的結社自由多有明文保障，人民可依相關法律組織團體。請問：保障人民的結社自由權，最足以顯示下列何種意義？

- (A) 人民的教育程度普遍提升
(B) 反映國家的自由開放程度
(C) 政府施政受人民團體管制
(D) 提升政府組織運作的效能

31. 圖(十)為某國都市人口占總人口比例的變化情形。根據圖中的資料最可能推得下列哪一個結論？

(A) 人口的聚集程度增加
 (B) 全國的人數不斷增加
 (C) 貧富的差距日趨嚴重
 (D) 鄉村的人口移入率高



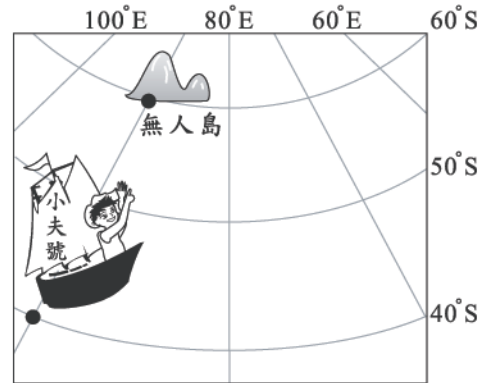
圖(十)

32. 「……在西非，大都市多位於沿海地區，鐵路由這些大都市向內陸延伸，但在沿海大都市間卻少有路線相互連接……。」下列何者可以用來解釋這種現象？

(A) 西非的國際貿易以進口為主
 (B) 鐵路為國內唯一的運送工具
 (C) 沿海都市的物資交換需求度低
 (D) 當地農業類型需仰賴大量勞力

33. 小夫想前往位在南半球的無人島，尋找傳說中的寶物。若小夫和無人島的位置如圖(十一)所示，根據圖中標示的經緯度判斷，小夫應該往哪一個方向前進？

(A) 北方
 (B) 南方
 (C) 東北方
 (D) 西南方



圖(十一)

34. 安安在筆記本上寫到：「當時的學生用切斷的蘆葦桿，在柔軟的泥板上刻字，並用六十進位法進行計算，等泥板曬乾後，作業就完成了。」她應是描述上古時代哪一地區學生的上課情形？

(A) 尼羅河流域
 (B) 兩河流域
 (C) 印度河流域
 (D) 黃河流域

35. 圖(十二)是博物館展覽時張貼的簡介，由其中資訊判斷，這場展覽應是介紹下列哪一文化？

(A) 長濱文化
 (B) 圓山文化
 (C) 卑南文化
 (D) 十三行文化



圖(十二)

請翻頁繼續作答

36. 阿拉伯人靠著伊斯蘭教凝聚勢力，建立了地跨歐、亞、非三洲的大帝國，其亞洲東部疆域，部分與中國為鄰，伊斯蘭教因而傳入中國。請問：此時相當於中國的哪一個朝代？

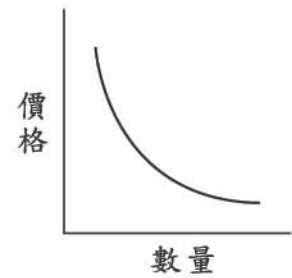
- (A) 漢朝 (B) 唐朝
(C) 明朝 (D) 清朝

37. 實行內閣制度的國家，多由國會最大多數黨組成內閣主導政府施政，其他政黨則負責監督政府。若其表現無法滿足人民的期待，則可能因為下次國會大選失利，而喪失執政機會。上述情形，最能顯示政黨政治的何項特徵？

- (A) 虛位元首 (B) 政治平等
(C) 責任政治 (D) 分權制衡

38. 圖(十三)為某一經濟學原理的圖示。根據內容判斷，該圖最能說明下列何種現象？

- (A) 肉品感染病毒，批發售價下跌
(B) 流行疾病肆虐，口罩需求大增
(C) 產品折扣優待，購買人潮湧現
(D) 農曆過年前夕，蔬果價格上漲



圖(十三)

39. 在民主國家的選舉制度中通常規定，除了無行為能力者外，一般公民均具有選舉權，可參與公職人員的選舉。上述規定，符合我國《憲法》的哪一項選舉原則？

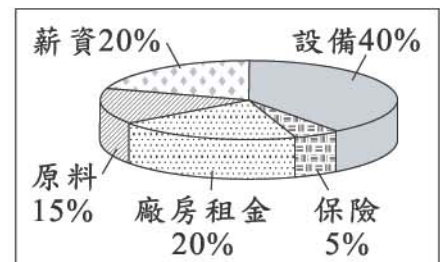
- (A) 普通 (B) 平等
(C) 直接 (D) 無記名

40. 有些能源因儲量有限，經人類使用後，短期間無法再生成，而有枯竭的危機。下列哪一種能源的特性與上述最相近？

- (A) 地熱 (B) 風力
(C) 太陽能 (D) 天然氣

41. 麥鑫公司是一家專門生產餐具的工廠，圖(十四)是該工廠各項生產成本的比例圓餅圖。請問：該工廠的哪一項生產要素支出所占比例最高？

- (A) 資本
(B) 人力資源
(C) 自然資源
(D) 企業才能



圖(十四)

42. 某電視臺的記者報導：「波斯灣的安定，牽動著你我的生活。一旦波斯灣發生戰爭，就會引發全球經濟的恐慌。」這段話主要是在強調波斯灣地區具有下列何種足以影響全球經濟的重要性？
- (A) 宗教的發源地
(B) 境內富藏石油
(C) 海陸交通要衝
(D) 民族的匯集處

43. 圖(十五)是漢代疆域圖。當時疆域能拓展至甲區，主要和下列哪一位歷史人物的事蹟有關？



圖(十五)

44. 政府為保存文化資產，充實國民精神生活，特制定《文化資產保存法》，對人民私有古蹟之管理、整修及維護等均有所限制。上述做法，最可能基於《憲法》第 23 條中哪一項規定？
- (A) 防止妨礙他人自由
(B) 避免緊急危難
(C) 維持社會秩序
(D) 增進公共利益

45. 右列是小玄看到介紹歐洲聯盟的部分內容。上述內容，最可以說明該組織的何種功能？

……早在歐洲共同市場時代，各國之間的商品即可自由流通，沒有任何貿易障礙。改制為歐洲聯盟後，成員國之間的經濟政策更顯一致，進而發行歐元作為各國貿易的共同媒介。

- (A) 平衡貿易收支
(B) 降低交易風險
(C) 統合區域經濟
(D) 調節市場供需

46. 「具有殖民地背景的地區，常常發展出以出口導向為目的，需要大量勞工及資金的農業活動……。」文中所述的農業類型，最可能是下列哪一項？

- (A) 游耕農業
(B) 綠洲農業
(C) 熱帶栽培業
(D) 地中海型農業

47. 表(二)是荷蘭統治臺灣時期，對原住民傳教成果的統計。由表中內容，我們可以讀出下列哪一項訊息？

- (A) 新港社原住民的宗教信仰改變最小
 (B) 荷蘭人使用武力脅迫人民改變信仰
 (C) 各原住民社群皆有人接受新的宗教
 (D) 原住民社群受洗者的人數日漸降低

表(二)

社名	人口數(人)	受洗者(人)
新港社	1,047	1,047
蕭壠社	2,600	282
目加溜灣社	1,000	261
麻豆社	3,000	215
大目降社	1,000	209

48. 某學者評論英國制度時，寫到：「人民相信自己擁有自由，這真是個假象。只有在投票選舉國會議員時，他們才是自由的，一旦選舉過後，人民就變成奴隸而一文不值。」根據內容判斷，下列何種權利的行使可以適度改善此一現象？

- (A) 立法權
 (B) 考試權
 (C) 訴訟權
 (D) 罷免權

49. 小堯利用假期赴國外某一城市自助旅行，他在當地看到希臘化文化、羅馬文化與伊斯蘭文化等風格的各式古蹟。依此判斷，他是去下列哪一城市？

- (A) 英國倫敦
 (B) 義大利威尼斯
 (C) 俄羅斯聖彼得堡
 (D) 土耳其伊斯坦堡

50. 表(三)為某年甲、乙、丙、丁四個國家的貨物進、出口資料。由表中資料可知，該年哪一國是貿易出超國？

表(三)

國別	出口總重量 (千萬噸)	出口總值 (百萬美元)	進口總重量 (千萬噸)	進口總值 (百萬美元)
甲	1,108	1,016	1,124	1,035
乙	850	1,072	938	1,112
丙	578	556	732	445
丁	746	496	500	701

- (A) 甲
 (B) 乙
 (C) 丙
 (D) 丁

51. 右列是小立探討全球共同環境時，用以說明的部分文字。根據內容判斷，他的主張具有經濟學的何種概念？

(A) 分散風險
(B) 外部效果
(C) 比較利益
(D) 區域合作

……大氣與氣候系統是維持生存的必要資源，超越任何國家與社會界線的共同環境。……既不屬於任何個人獨有，也沒有任何人可以排除於其外，但是特定範圍內的任何行為結果，都可能造成難以預測的影響。

52. 「孫中山先生倡導革命，目的之一在推翻專制政體，建立民主共和國。」下列何者最符合上述「共和」體制的內涵？

(A) 提倡公有共享的財產制度
(B) 國家政策由全體公民共同決定
(C) 政府存在的主要目的在控制社會流動
(D) 國家領導者不由世襲產生而由人民選出

53. 根據史料記載，泉州港曾為世界大港，當時的商人常利用盛行風乘帆船南下，貿易的範圍包括東南亞、印度。圖(十六)中哪一期間的盛行風最有利於南下貿易？

(A) 甲
(B) 乙
(C) 丙
(D) 丁



圖(十六)

54. 日本統治時期，臺灣總督因得到日本政府的特許，集權於一身，形成如皇帝般的獨裁。一九二〇年代起，臺灣一些有志之士發起「臺灣議會設置請願運動」，企圖爭取何種權力？

(A) 行政權
(B) 立法權
(C) 司法權
(D) 軍事權


二、題組：(55~63 題)

閱讀下列選文，回答第 55 至 57 題：



圖(十七)

圖(十七)是滿妹家鄉的位置，該地三面環山，是著名的客家鄉鎮。圖(十八)中的油紙傘是當地最具代表性的手工藝品，兼具遮雨及擺飾觀賞的功能。過去油紙傘是地方的傳統技藝，後來因為觀光事業興起而成為遊客必購的紀念品，油紙傘因具有上述文化傳承與商業價值的雙重意義，已是一種足以代表地方特色的文化產業。在當地，至今仍有許多居民會在下雨天撐起油紙傘，油紙傘不僅代表當地人的鄉土情懷，還有一份特別的驕傲。



圖(十八)

55. 從文中的訊息判斷，該鄉鎮位於臺灣何處？
- (A) 東北部
 - (B) 西北部
 - (C) 東南部
 - (D) 西南部
56. 文中紀念品的生產過程中，最依賴下列哪一項條件？
- (A) 土地
 - (B) 技術
 - (C) 資金
 - (D) 能源
57. 文中當地民眾撐起油紙傘遮雨的情形，在哪一個季節最不容易看到？
- (A) 春季
 - (B) 夏季
 - (C) 秋季
 - (D) 冬季

閱讀下列選文，回答第 58 至 60 題：


一八八〇年，發明家愛迪生在美國門洛帕克小鎮的研究所裝設了五百個碳絲電燈，轟動震撼直達歐洲，歐洲各國工程師不惜遠渡重洋，親自去目睹這個如神蹟的發明。五年之後，臺灣居民也首次聚在臺北城內，瞪大眼睛對劉銘傳在衙門、街道裝設的電燈嘖嘖稱奇。雖然只有寥寥幾盞電燈，卻改變了傳統用蠟燭、煤油的照明方式，成為當時清朝數一數二的現代化創設。

58. 若以最短距離來考量，文中的遠渡重洋，最可能是指橫越哪一個海洋？

- (A) 北太平洋 (B) 北大西洋
(C) 南太平洋 (D) 南大西洋

59. 上文所描寫的情景，正是處於中國近代化過程中的哪一個階段？

- (A) 自強運動 (B) 戊戌變法
(C) 辛亥革命 (D) 新文化運動

 戊戌變法=百日維新

60. 上述照明工具的轉變，屬於下列哪一層次的社會變遷？

- (A) 器物生活 (B) 社會制度
(C) 價值觀念 (D) 風俗習慣

閱讀下列選文，回答第 61 至 63 題：

某學者針對國際秩序提出三種不同的世界觀。第一種世界觀，強調建立強勢國家的重要性，認為所有經濟活動必須符合國家整體發展目標，亦即透過貿易的手段，以厚植國家政治軍事力量。第二種世界觀，認為促進全球經濟繁榮，有助於國際和平與發展，故每一國家應把握相對優勢，提供具競爭力的商品與勞務。第三種世界觀，主張以激烈手段迅速改變全球的不平等情形，如南北(半球)關係與第三世界的發展。

61. 上述第一種世界觀，在國際貿易的過程中，最可能採取下列何種發展策略？

- (A) 落實市場經濟 (B) 加強累積外匯
(C) 提供技術轉移 (D) 促進貿易互惠

62. 上述第二種世界觀，主張經濟發展應基於下列何種原則？

- (A) 比較利益 (B) 自給自足
(C) 外交援助 (D) 關稅保護

63. 文中所述「南北(半球)關係」，最可能是指下列哪一類型的問題？

- (A) 核武戰略 (B) 恐怖主義
(C) 貧富差距 (D) 領土爭端

試題結束