

# 95 第二次國民中學學生基本學力測驗

## 社會科題本

請不要翻到次頁！

讀完本頁的說明，聽從監試委員的指示才開始作答！

※請先確認你的答案卡、准考證與座位號碼是否一致無誤。

請閱讀以下測驗作答說明：

### 測驗說明：

這是國民中學學生基本學力測驗社會科題本，題本採雙面印刷，共 13 頁，有 63 題選擇題，每題都只有一個正確或最佳的答案。測驗時間從 11:00 到 12:10，共 70 分鐘。作答開始與結束請聽從監試委員的指示。

### 注意事項：

1. 所有試題均為四選一的選擇題，答錯不倒扣。
2. 試題中所附圖形，如有附上比例尺，以比例尺為依據作答；若無比例尺，則該圖僅作為參考，不代表實際大小。
3. 可利用題本中空白部分計算，切勿在答案卡上計算。
4. 依試場規則第七條規定：答案卡上不得書寫姓名座號，也不得做任何標記。故意污損答案卡、損壞試題本，或在答案卡上顯示自己身分者，本科測驗不予計分。

### 作答方式：

請依照題意從四個選項中選出一個正確或最佳的答案，並用 2B 鉛筆在答案卡上相應的位置畫記，請務必將選項塗黑、塗滿。如果需要修改答案，請使用橡皮擦擦拭乾淨，重新塗黑答案。例如答案為 B，則將 B 選項塗黑、塗滿，即：A ● C D

以下為錯誤的畫記方式，可能導致電腦無法正確判讀。如：

- A ● B C D—未將選項塗滿
- A B C D—未將選項塗黑
- A ● C D—未擦拭乾淨
- A ● B C D—塗出選項外
- A ● ● D—同時塗兩個選項

請聽到鈴（鐘）聲響後才翻頁作答

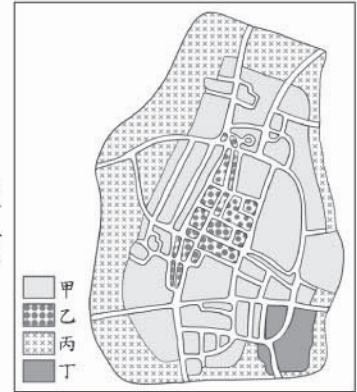
一、單題：(1~56 題)

1. 「參觀完以均衡對稱著稱的建築——雅典帕德嫩神殿後，我們登上了遊輪，在這片青藍的『海洋』中，看著星羅棋布的群島，深藍的天空，雪白的雲朵，湛藍的窗櫺，白漆的屋牆，構築出一幅以藍白為主色調的美麗風景畫。」文中所描述的「海洋」為下列何者？

- (A)紅海
- (B)南海
- (C)愛琴海
- (D)波羅的海

2. 圖(一)為發達市的土地使用分區圖。若這個城市的商業區位於道路交通的樞紐地帶，圖中的哪一圖例最可能代表商業區？

- (A)甲
- (B)乙
- (C)丙
- (D)丁



圖(一)

3. 「阿米國總人口數由 50 萬增加至 100 萬，大約經過三十五年；由 100 萬增加至 200 萬，大約經過三十年。」由上述的內容可知阿米國有哪一種人口現象？

- (A)人口加倍時間增長，成長趨緩
- (B)人口加倍時間增長，成長增速
- (C)人口加倍時間縮短，成長趨緩
- (D)人口加倍時間縮短，成長增速

4. 圖(二)是達卡越野賽的路線圖。圖中越野賽所經過的「沙漠」位於哪一個地區？

- (A)歐洲
- (B)美洲
- (C)亞洲
- (D)非洲



圖(二)

5. 在早上搭乘遊覽車往南方的旅途中，車上某個遮陽窗簾故障了，陽光又剛好直射那一邊窗戶。為了讓坐在附近的同學不再曬得滿臉通紅，同學們合力把故障的窗簾修好，充分發揮友愛精神。請問：若以車頭方向為前方，那個故障的窗簾位於遊覽車內哪一邊的窗戶上？

- (A)前方
- (B)後方
- (C)左方
- (D)右方

請翻頁繼續作答

6. 日本統治期間，統治者運用警察制度嚴密控制臺灣社會，當時原住民頭目因不滿日本官吏高壓統治，起而率眾抗爭，爆發了下列哪一事件？

- (A)劉永福抗日
- (B)牡丹社事件
- (C)噶吧哖事件
- (D)霧社事件

7. 二十世紀以來，由於考古學興盛，許多地區曾發掘出古文化遺址，有助於上古文化的研究。若我們要研究夏代歷史，最適合採用下列哪一古文化遺址的資料？

- (A)仰韶文化
- (B)殷墟文化
- (C)二里頭文化
- (D)大盆坑文化

8. 小雅參觀文物展時，看到一塊解說牌，部分內容如圖(三)。這段文字應是描述下列哪一位人物的建設成果？

- (A)唐景崧
- (B)鄭成功
- (C)劉銘傳
- (D)陳永華

### 臺灣交通新紀元

……他看清鐵路的重要性，遂在西元1887年著手建設當時中國第一條官辦客運鐵路，這條鐵路後來成為日本人接手興建臺灣南北縱貫鐵路的藍本，……

圖(三)

9. 加富爾在義大利歷史中具有舉足輕重的地位，俾斯麥在德國歷史中亦扮演重要關鍵角色，他們二人的共同成就為何？

- (A)促進國家統一
- (B)提倡歐洲聯盟
- (C)鼓吹自由經濟
- (D)推翻拿破崙統治

10. 為方便研究，我們常依不同特色或性質將歷史分為若干階段或時期，下列有關臺灣歷史分期的發展順序，何者正確？

- (A)明鄭統治→清朝統治→荷蘭統治→日本統治
- (B)荷蘭統治→明鄭統治→清朝統治→日本統治
- (C)明鄭統治→荷蘭統治→清朝統治→日本統治
- (D)荷蘭統治→清朝統治→明鄭統治→日本統治



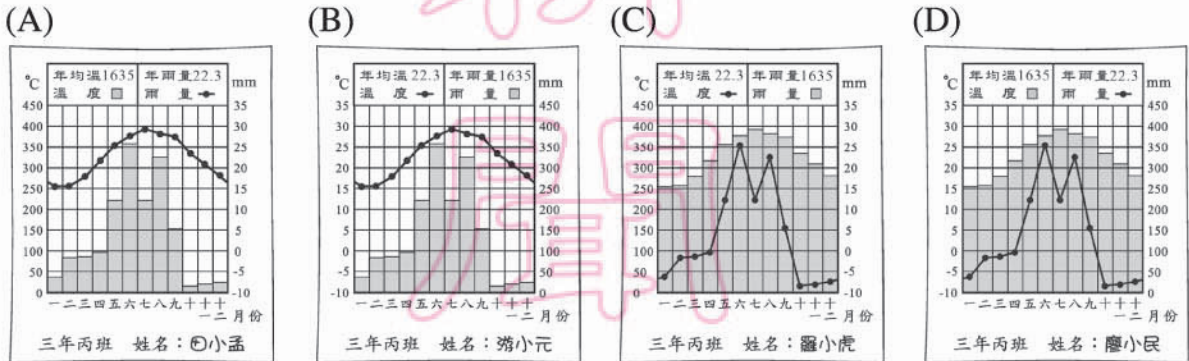
明鄭時期=鄭氏時期

11. 上課時，討論到法律的功能，同學紛紛提出意見。小敏說：「我覺得人性本惡，所以必須制定嚴厲的刑罰，才能嚇阻人類為非作歹的企圖。」小敏的上述說法，強調法律的何種功能？
- (A)保障個人自由  
(B)促進社會進步  
(C)增進公共利益  
(D)維持社會秩序
12. 阿喜向朋友介紹自己參加的社會團體時，提到：「……主要在爭取弱勢族群的生存權，如反對歧視和促進就業機會等等，同時也關心社會公平與正義的實現。」根據內容判斷，他最可能參加下列何種團體？
- (A)同鄉會  
(B)同業公會  
(C)利益團體  
(D)社區發展協會
13. 右列是某樂團宣傳廣告的部分內容。根據內容判斷，該現象最能表現出下列何種意涵？
- (A)文化融合  
(B)多元價值  
(C)國際交流  
(D)區域統合
- 大員奏**

本場次演出除電吉他、貝斯、鼓的編制外，將加入胡琴、古箏、柳琴、嗩吶等國樂器，讓傳統與搖滾在音樂上拼貼，訴說平埔族部落的故事。
14. 上課時，老師說明各種職業類別後，請同學分別介紹父母的工作，其中小皓提到：「我媽媽服務的單位，是辦理專門職業及技術人員(如律師、醫事人員)資格的檢定。」請問：小皓媽媽服務的單位屬於下列哪一個機關？
- (A)行政院  
(B)立法院  
(C)考試院  
(D)監察院
15. 警方取締飆車的青少年後，通常會通知其家長到警局瞭解子女的行為，以加強父母對子女管教的責任。這樣的做法，主要是希望強化家庭的何種功能？
- (A)生育  
(B)教育  
(C)情感交流  
(D)經濟支持

16. 地理老師要求同學們將下列資料繪製成氣候圖，哪一位同學畫的圖最正確？

月份	一	二	三	四	五	六	七	八	九	十	十一	十二
氣溫(°C)	15	15.5	17.5	22	25.6	27	29.5	27.5	27	22.5	20.5	18
雨量(mm)	45	80	83	98	220	357	221	325	152	14	18	22



17. 下列為同學們對於生態系統的討論對話，哪一位的說法較正確？

寅昌：「生態系統是指孕育動植物生長的非生物自然環境。」

慧真：「應該還包括生活在同一地的各種動物和植物族群啦！」

思明：「不對啦！不包括會活動的動物族群。」

仕彬：「我覺得只包含動植物的系統，和天氣與地質條件沒有關係。」

(A) 寅昌

(B) 慧真

(C) 思明

(D) 仕彬

18. 每年三月起，日本各地陸續都有櫻花盛開的美景。請根據氣候條件判斷，圖(四)中哪一地區的櫻花開得最晚？

(A) 甲

(B) 乙

(C) 丙

(D) 丁



圖(四)

19. 在緯度 40 度以北的太平洋沿岸，高空中發現源自於海洋另一邊中國內蒙的黃土塵埃懸浮顆粒。請問：下列何者最可能是這些黃土塵埃飄洋過海的原因？

(A) 颱風

(B) 西南季風

(C) 盛行西風

(D) 北大西洋暖流

20. 阿錫是彰化縣田尾鄉的玫瑰花農，他想將開發的新品種玫瑰運往臺灣各地的便利商店販售，若依據交通的「機動性」考量，下列哪一項運輸工具最為適當？

(A) 飛機

(B) 輪船

(C) 汽車

(D) 火車

21. 「我們主張若要造一種活的文學，必須用白話來做文學的工具。我們也知道單有白話未必就能造出新文學，……新文學必須要有新思想做裡子。」這段敘述最可能是下列何人提出的看法？
- (A)曾國藩  
(B)康有為  
(C)孫中山  
(D)胡適
22. 西元 1517 年，馬丁路德在威丁堡發表《九十五條論綱》，開啟了日後一連串反省宗教義理和組織的改革運動。下列何者是促使他採取上述行動的主要背景？
- (A)教會內部腐化，信仰流於形式  
(B)各國放任信仰，教派糾紛日烈  
(C)修道人數銳減，傳教事業受阻  
(D)教義深澀難懂，民眾拒絕閱讀
23. 清朝統治初期，臺灣社會曾出現許多無妻子兒女、無田地房產而常群聚械鬥、無所不為的遊民，是造成當時社會不安與暴力衝突的原因之一。這種現象的產生，主要與清廷推行下列哪一項措施有關？
- (A)派員清查土地人口  
(B)任命長老治理原住民  
(C)限制特定漢人渡海來臺  
(D)禁止漢人與原住民來往
24. 中古歐洲實行封建制度，當時許多王國都有血緣或政治上的關係，如英、法兩國即是。但受到下列哪一事件的影響，英、法兩國終結過去的封建關係，分別形成民族國家？
- (A)百年戰爭  
(B)清教徒革命  
(C)光榮革命  
(D)工業革命
25. 戰國時期，各國先後實施變法改革，當時改革如此頻繁的主要背景為何？
- (A)社會嚴重貧富不均，人民要求經濟均衡發展  
(B)地方政府為求建設，要求中央政府推行變革  
(C)列國軍事競爭激烈，君主變法力求富國強兵  
(D)游牧民族威脅各國，君王改革維護邊防安全


26. 大有國正在推行健康保險制度，表(一)為四位投保者的薪資與保險費明細表。根據表中資料判斷，該國個人健康保險費繳納金額的多寡，是根據經濟學上何種概念而設計的？

表(一)

姓名	薪資(元/月)	保險費(元/月)
王小明	19,600	98
陳自強	33,000	165
林美好	49,000	245
李大同	64,000	320

- (A)受益原則  
(B)需求法則  
(C)比較利益原理  
(D)負擔能力原則
27. 自政府開放私人企業經營加油站以來，油品市場的競爭日趨激烈，下列是誠信加油站所提出的四種因應方案，何種屬於最直接降低成本的做法？  
(A)延長營業的時間為二十四小時  
(B)工讀生時薪由九十調為八十元  
(C)各類柴、汽油每公升降價一元  
(D)加油滿五百元贈公益彩券一張
28. 王家為籌措出國旅遊所需的 20 萬元旅費，一家人分別就現有的錢提出「開源」的理財計畫。請問：下列哪一種做法最符合「安全、低風險」的投資原則？  
(A)哥哥：「把錢交給投資公司去操作股票，等股價上漲了再賣掉。」  
(B)姊姊：「購買政府公債，累積債券利息，等時間到了再贖回來。」  
(C)弟弟：「拿積蓄去購買樂透彩券，只要中大獎，旅費就全有了。」  
(D)妹妹：「去購買外國貨幣，等它升值再兌換成臺幣，賺取價差。」
29. 在法治國家裡人民的行為若違法，就必須負擔法律責任。某日，阿書超速駕車，不慎撞毀停置在路邊的車輛。阿書的上述行為，應負哪些法律責任？  
(A)民事責任、刑事責任  
(B)刑事責任、行政責任  
(C)行政責任、民事責任  
(D)行政責任、道義責任
30. 小喬觀賞電視新聞時，看到媒體記者在警察局內拍攝嫌疑犯影像的畫面，認為這種做法很值得「再討論」。下列何者最可能是上述觀點的衝突所在？  
(A)媒體的受益權和執法者的自由權  
(B)媒體的平等權和執法者的參政權  
(C)媒體的受益權和嫌疑犯的受益權  
(D)媒體的自由權和嫌疑犯的自由權

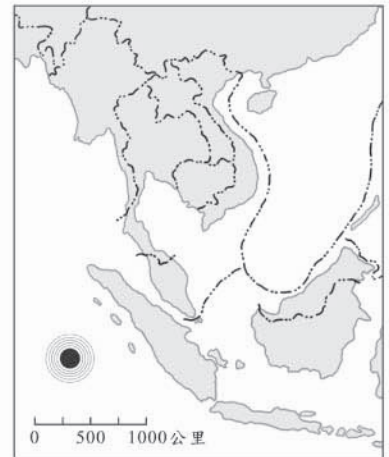
31. 圖(五)為宜平的旅遊日記內容。請問：她所遊覽的地形景觀，最可能的形成原因為何？
- (A)珊瑚礁露出  
(B)河水的切割  
(C)冰河的刮蝕  
(D)火山灰堆積



圖(五)

32. 「……每年這個時節是河流乾枯最明顯的時候，我常回到屏東陪著爺爺沿著堤岸散步。爺爺說這時裸露荒涼的河床總讓他想到兒時的故鄉，勾起他對遠方親友的思念……。」上文描述的最可能是哪一個時節？
- (A)春末  
(B)夏末  
(C)秋末  
(D)冬末

33. 圖(六)為東南亞的部分地圖。若圖上●號處為某次大地震的震央，該次地震引發巨大的海嘯，下列哪一個國家會受到最直接的衝擊？
- (A)越南  
(B)新加坡  
(C)柬埔寨  
(D)印度尼西亞



圖(六)

34. 阿玉在博物館看到西方人早期使用的槍砲，解說員說，西方槍砲的發明與中國火藥的傳入有關。請問：中國火藥最早在何時西傳？
- (A)十字軍東征  
(B)蒙古人西征  
(C)鄭和下西洋  
(D)地理大發現
35. 有位學者認為，十七世紀興盛的航海活動，是全球經濟網路形成的第一步。在這波浪潮中，臺灣扮演了什麼樣的角色？
- (A)中國對外通商的出口港  
(B)東亞國際貿易的中繼站  
(C)漢人移民南洋的轉運點  
(D)英國對華交易的根據地


請翻頁繼續作答



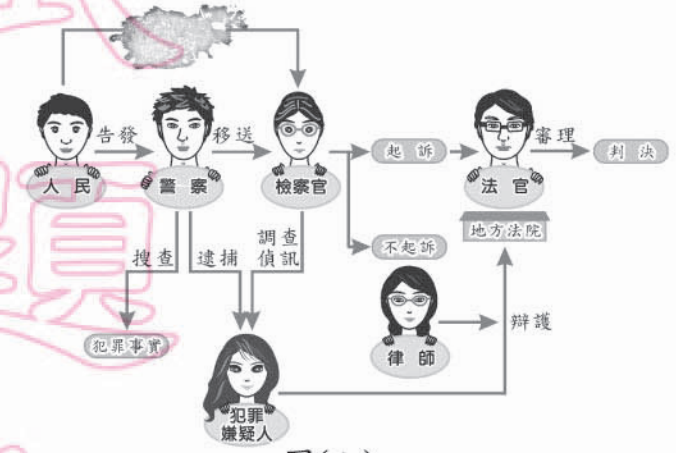
36. 宋太祖趙匡胤建國後，面對唐末以來藩鎮割據及禁軍將領專權等問題，採行下列何種方法解決此困境？
- (A)大舉分封諸子為王，鎮守各地要塞  
 (B)禁止私人講學，不准士人議論政治  
 (C)廢丞相以集權皇帝，殺功臣以絕後患  
 (D)將地方將領召回京師，命文臣出守地方

37. 十九世紀某位思想家聲稱：「解放工人階級的工作，必須由工人階級自己來克服。」「除了镣铐之外，勞動階級沒有什麼好損失的。……全世界的工人，團結起來吧！」此思想與下列哪一事件的發生關係最密切？
- (A)法國大革命  
 (B)俄國列寧革命  
 (C)土耳其復興運動  
 (D)印度不合作運動

38. 上課時，進行以「公共財」為題的討論，班上四位同學分別提出不同的見解。請問：下列哪一位的說法最正確？
- (A)小文：「政府所提供的資源都稱為公共財。」  
 (B)小福：「使用公共財必須支付一定的費用。」  
 (C)阿家：「必須達法定年齡方可使用公共財。」  
 (D)阿立：「使用公共財的對象不易加以限定。」

 公共財＝共用財

39. 圖(七)是小憶翻閱舊書時，看到有關訴訟程序的內容。由於墨漬遮蔽了部分文字，請協助小憶判斷，下列何者最可能是遮蔽處的正確內容？
- (A)公訴  
 (B)告訴  
 (C)訴願  
 (D)請願



圖(七)

40. 新聞報導：「武器是國際經濟體系中搶手商品，例如坦克、飛彈兼具軍事與經濟的效益。賣武器的國家可獲得經濟利潤，買武器的國家則可發揮軍事用途，唯武器銷售偶會受到他國的干預。」根據上述內容判斷，旨在說明下列哪一項意涵？
- (A)軍備採購影響國家安全  
 (B)經濟資源決定國際地位  
 (C)跨國公司掌控武器銷售  
 (D)經濟與政治力量相結合

41. 博學公司計畫成立新工廠，表(二)是四種設立方案的成本評估。請問：哪一個方案花費在「資本」上的成本最高？

表(二)

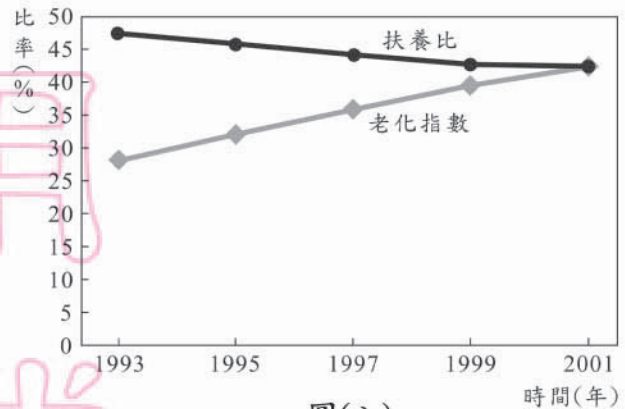
方案	地租 (萬元)	工資 (萬元)	機器 (萬元)	設備 (萬元)
甲	10	10	30	40
乙	20	50	30	20
丙	25	15	30	30
丁	35	20	20	20

- (A)甲 (B)乙  
(C)丙 (D)丁

42. 「集約農業」是指在單位面積的土地上，投入大量的勞力、資金，以提高單位面積產量的經營方式。請依此定義判斷，下列何者最不可能是集約農業？

- (A)游耕農業 (B)稻作農業 (C)綠洲農業 (D)熱帶栽培業

43. 圖(八)是依娃探討社會發展時，用來輔助說明研究論點的圖形。根據內容判斷，下列何者最可能是她所提出的觀點？



- (A)社會增加率持續下降  
(B)青少年問題日趨嚴重  
(C)城鄉人口分布不均衡  
(D)高齡化社會即將來臨

圖(八)

44. 西元 1994 年部分國家協議成立北美自由貿易區(NAFTA)，藉由降低彼此間關稅的方式，來提升區域內國家的國民福利。請根據位置判斷，下列哪一個國家不是這個組織的會員國？

- (A)美國 (B)紐西蘭  
(C)墨西哥 (D)加拿大

45. 圖(九)為某漫畫的情節。請根據圖中內容判斷，其發生的地點最可能位於下列哪一個地區？



圖(九)

- (A)山東丘陵 (B)雲貴高原 (C)塔里木盆地 (D)青藏高原

請翻頁繼續作答

46. 某政治思想家主張：「政府之正當權力是得自被治理者的同意而產生。」此處所謂的「同意」，通常是指公開且普通的直接選舉過程。下列哪一公職人員的產生，符合上述選舉原則？
- (A) 監察委員  
(B) 縣(市)議員  
(C) 行政院院長  
(D) 省諮議會諮議員

47. 亞歷山大帝國橫跨歐、亞、非三洲，其疆域如圖(十)。它最早發源於圖中何處？
- (A) 甲  
(B) 乙  
(C) 丙  
(D) 丁



圖(十)

48. 「一個人人追求私利的君主國中，任何政治團體其實都有演變為暴政的可能。所以個人自由的維護，有賴於我們透過對政治機構的技巧性設計，特別是透過立法、行政與司法權威的相互區隔，以均衡社會內部的利益糾葛。」上述言論最適合用於介紹下列哪一主題？
- (A) 希臘時代的民主思想  
(B) 中古世紀的教會統治  
(C) 啟蒙時期的政治理想  
(D) 二十世紀的極權政體
49. 懷古電視頻道為了製作「秦漢時代的中國皇城」節目而遠赴中國大陸拍攝場景。若根據當時首都的位置分布，他們的拍攝場景主要位於下列哪一流域？
- (A) 黃河 (B) 淮河  
(C) 珠江 (D) 長江

50. 圖(十一)為佩宜正在瀏覽的財經網站資料，請問：該交易所位於中國大陸哪一個地區？
- (A) 華南 (B) 華中  
(C) 華北 (D) 西部



圖(十一)

51. 表(三)是民國 73 至 77 年間，我國人民抗議事件次數的統計資料。表中統計數據的變化，主要是受到何者的影響？

- (A)解除戒嚴
- (B)總統直接民選
- (C)終止動員戡亂時期
- (D)修訂《中華民國憲法》

表(三)

民國(年)	抗議事件(次)
73	277
74	427
75	484
76	995
77	1,620

52. 不同文化的接觸，往往會造成彼此衝突矛盾或互相融合創新等現象，以下列四件史事為例，何者最適合做為文化融合成功的例證？

- (A)大化革新
- (B)雍正禁教
- (C)義和團事件
- (D)文化大革命

53. 表(四)為歷年來臺灣農、工業占國內生產淨值的比例：

表(四)

年別(西元)	1952	1955	1960	1965	1970	1975	1980	1985	1990
農業(%)	32.2	29.1	28.5	23.6	15.5	12.7	7.7	5.8	4.1
工業(%)	19.7	23.2	26.9	30.2	36.8	39.9	45.7	46.3	42.5

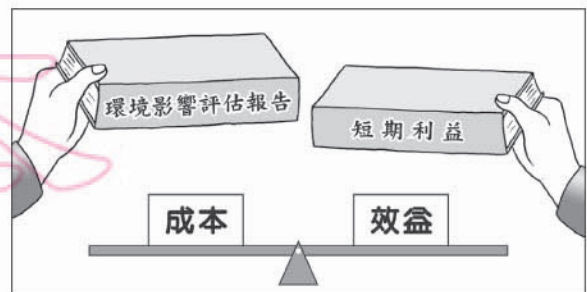
我們可運用表中資訊回答下列哪一問題？

- (A)工業產值比例在 1960 年後，呈現出何種發展趨勢？
- (B)1985 年的勞工人口比 1960 年的勞工人口增加多少？
- (C)自哪一年起，資訊工業占工業產值的比例大幅提升？
- (D)1955 年後，農地轉為工業用地的土地面積比例為何？

54. 「二十世紀初，這裡因一場暗殺事件引爆歐洲大戰，傷亡數千萬人。到世紀末，這裡又因種族、宗教等問題爆發殘酷的內戰，無數百姓遭殃，北大西洋公約組織曾出兵介入調解，成為國際焦點。」上述地區是指下列何處？

- (A)伊比利半島
- (B)義大利半島
- (C)巴爾幹半島
- (D)巴勒斯坦地區

55. 圖(十二)是小狄用來輔助說明經濟發展與環境保護議題的圖形。根據內容判斷，下列何者最符合他的觀點？



圖(十二)

- (A)立法徵收民間企業環汙處理費
- (B)選擇生產機會成本較低的產品
- (C)開發再生資源以有效減少汙染
- (D)企業獲利不應該忽略社會成本

請翻頁繼續作答

56. 全球經濟體系逐漸形成，國際間的貿易活動量也大幅增加。圖(十三)是在每一美元的國際貿易中，各地區所獲得貿易利益的分配狀況。根據圖中內容判斷，下列哪一項敘述最正確？
- (A) 已開發國家致力降低貧富差距  
 (B) 開發中國家多為貿易轉運中心  
 (C) 中等經濟地區的貿易獲利最大  
 (D) 貧窮國家未從貿易中大量獲利

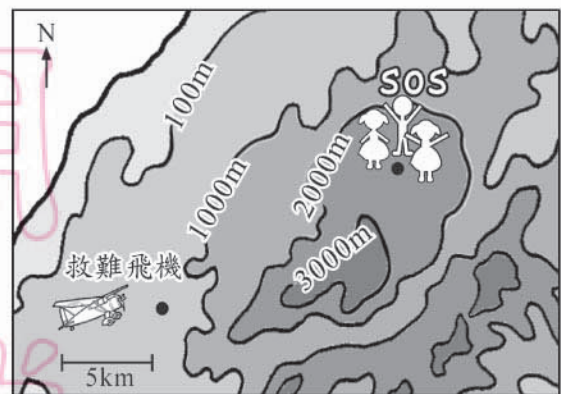


圖(十三)

二、題組：(57~63 題)

閱讀下列選文，回答第 57 至 59 題：

阿詔與同學們到山區旅行。午後山區雲霧繚繞，能見度很低，阿詔一行人迷失了方向，只好使用隨身攜帶的手機向外求救。雖然他們並沒能清楚的說明自己身在何方，但是救難單位利用先進的技術，以手機訊號的發射點找到阿詔一行人的位置，如圖(十四)所示。



圖(十四)

57. 阿詔一行人所在位置的海拔高度，最可能是下列哪一項？
- (A) 3012 m  
 (B) 2534 m  
 (C) 1423 m  
 (D) 978 m
58. 根據圖(十四)的比例尺資料，救難飛機與阿詔一行人的水平直線距離最可能為何？
- (A) 5 km  
 (B) 15 km  
 (C) 20 km  
 (D) 30 km
59. 救難隊在救援途中不幸地遇到逆風，減緩了救援速度。請問：當時的風向為何？
- (A) 東北風  
 (B) 西北風  
 (C) 東南風  
 (D) 西南風

閱讀下列選文，回答第 60 至 61 題：

生態保護園區擁有最佳的自然與文化資源，也是展現生物多樣性的最佳場所，因此園內的各項規畫，應符合生態功能的設計，避免破壞棲地。為因應社會環境的快速變遷，經營管理者與教育推廣人員，應建立學習型組織，以提高研究、解決問題的興趣與能力，並整合民間團體的力量，藉由適當訓練與教學資源的提供，為遊客安排最佳的學習體驗，讓全民共同維護多樣豐富的生態環境。

60. 為達成上述園區設立的目的，下列哪一項做法最有效？
- (A) 公共建物採集中設置
  - (B) 廣設播音器提醒民眾
  - (C) 增加園區巡邏的人員
  - (D) 控制每日入園遊客量
61. 下列哪一項做法最符合上述學習型組織的意涵？
- (A) 互動研討建立共識
  - (B) 由上而下制定決策
  - (C) 消弭歧見服從多數
  - (D) 強調個人工作績效

閱讀下列選文，回答第 62 至 63 題：

有一本討論中國近代化過程的書上寫著——  
「我們不要忘記，自強運動是十九世紀六〇年代開始的。鴉片戰爭的年代是一八四〇年，鴉片戰後，魏源寫《海國圖志》，就已經提出『學習外人長處以對抗外人』的口號，但當時清政府一直沒有採取新的政策來應付新的局面。蔣廷黻先生在他寫的《中國近代史大綱》裡說：『民族喪失二十年的光陰。』」

62. 根據上文，蔣廷黻所說「民族喪失二十年光陰」的主要意義為何？
- (A) 當時知識分子反抗西方侵略，人才大量犧牲
  - (B) 鴉片戰後滿清仍以天朝自居，延誤改革時機
  - (C) 鴉片戰爭發生，中止了魏源籌劃的改革工作
  - (D) 滿清致力發展對外關係，無暇進行內部變革
63. 下列哪一項史事最接近文中所提「學習外人長處以對抗外人」的主張？
- (A) 李鴻章引進西式武器，培訓人才與列強競爭
  - (B) 洪秀全擷取西方基督教思想，創立太平天國
  - (C) 慈禧利用民間團體，以武術、符咒對付洋人
  - (D) 張勳籌劃溥儀復辟，主張恢復傳統中國帝制

試題結束