

95 第一次國民中學學生基本學力測驗

社會科題本

請不要翻到次頁！

讀完本頁的說明，聽從監試委員的指示才開始作答！

※請先確認你的答案卡、准考證與座位號碼是否一致無誤。

請閱讀以下測驗作答說明：

測驗說明：

這是國民中學學生基本學力測驗社會科題本，題本採雙面印刷，共 **13** 頁，有 **63** 題選擇題，每題都只有一個正確或最佳的答案。測驗時間從 **11:00** 到 **12:10**，共 **70** 分鐘。作答開始與結束請聽從監試委員的指示。

注意事項：

1. 所有試題均為四選一的選擇題，答錯不倒扣。
2. 試題中所附圖形，如有附上比例尺，以比例尺為依據作答；若無比例尺，則該圖僅作為參考，不代表實際大小。
3. 可利用題本中空白部分計算，切勿在答案卡上計算。
4. 依試場規則第七條規定：答案卡上不得書寫姓名座號，也不得做任何標記。故意污損答案卡、損壞試題本，或在答案卡上顯示自己身分者，本科測驗不予計分。

作答方式：

請依照題意從四個選項中選出一個正確或最佳的答案，並用 **2B** 鉛筆在答案卡上相應的位置畫記，請務必將選項塗黑、塗滿。如果需要修改答案，請使用橡皮擦擦拭乾淨，重新塗黑答案。例如答案為 **B**，則將 **Ⓑ** 選項塗黑、塗滿，即：**Ⓐ ● Ⓒ Ⓓ**

以下為錯誤的畫記方式，可能導致電腦無法正確判讀。如：

- Ⓐ ● Ⓒ Ⓓ—未將選項塗滿
- Ⓐ Ⓑ Ⓒ Ⓓ—未將選項塗黑
- Ⓐ ● Ⓒ Ⓓ—未擦拭乾淨
- Ⓐ ●Ⓑ Ⓒ Ⓓ—塗出選項外
- Ⓐ ● ● Ⓓ—同時塗兩個選項

請聽到鈴（鐘）聲響後才翻頁作答

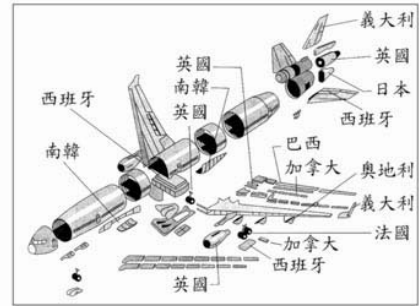
一、單題：(1~54 題)

1. 「溜索的設計據說是受到蜘蛛的織網行為所啟發。……即使怒江已經建起數座的現代橋樑，溜索依然深受當地人的青睞，橫互於江河之上。」請問：這種交通工具的設計主要是為了克服下列哪一種地形阻隔？

- (A)高原 (B)盆地 (C)縱谷 (D)丘陵

2. 圖(一)為某架飛機的零件供應地示意圖。圖中的訊息最適合表達哪一個概念？

- (A)全球化
(B)工業化
(C)都市化
(D)集約化



圖(一)

3. 傳說中住在芬蘭的聖誕老公公，每年聖誕夜會到各地分送禮物。請問：當他到達下列哪一個地方時，最可能會因為當地氣候炎熱而脫下厚重外套？

- (A)澳洲 (B)法國
(C)南韓 (D)南極



聖誕夜：每年 12 月 24 日夜晚

4. 同學們正在討論「都市」的特色，下列哪一位同學的說法最適當？


- (A)小雅：「都市的面積比鄉村大。」
(B)阿媚：「都市人口密度比較大。」
(C)小嘉：「都市的居民都是從事服務業。」
(D)阿偉：「都市的居民主要由宗族關係所組成。」

5. 中國大陸的人口分布極不平均，產生許多社會和經濟問題。請問：下列何種事實最足以反映這種人口現象？

- (A)實施一胎化政策
(B)少數民族族群眾多
(C)都市集中在東半部
(D)幼年人口占總人口比例逐年下降

6. 阿蛋在旅行途中，寄了一封 e-mail 給大鼎，附上當地著名的火山地形照片，如圖(二)所示。請問：他可能是到下列何地旅遊？

- (A)南投 (B)澎湖
(C)基隆 (D)花蓮



圖(二)

請翻頁繼續作答

7. 亞婷參觀「臺灣史前文化演進」展覽，若她想按照文化演進先後依序參觀，應先前往下列哪一主題區？

- (A)十三行文化
- (B)大坌坑文化
- (C)長濱文化
- (D)圓山文化

8. 老師在課堂上要同學以「八年抗戰」(1937-1945年)這段時期的歷史為背景，進行角色扮演。下列哪一位同學應是扮演當時國民政府官員的角色？

- (A)阿基：「為了結束戰爭，我們不得不在當地投下原子彈。」
- (B)大華：「我們利用對外戰爭壯大了勢力，最後終於取得中國的政權。」
- (C)小莉：「這次戰爭使我們控制東亞的夢想破滅，傷亡慘重，最後宣布投降。」
- (D)文文：「這戰爭使我們與各國另訂平等新約，解脫百年來不平等條約的束縛。」

9. 「理察是羅馬帝國時期某一宗教的信徒，他因不肯向皇帝的塑像行禮，結果受到政府的迫害。沒想到數百年後，他信仰的宗教反而成為羅馬帝國國教，大受尊崇。」理察信奉的應是下列哪一宗教？

- (A)佛教
- (B)猶太教
- (C)基督教
- (D)伊斯蘭教

10. 小雲為了複習歷史，主動整理了一張表格如下：

	成就
學術	採取儒家思想作為學術主流
政治	建立年號制度
交通	首次打開中國通往西域的孔道

這張表格主要是記錄下列哪一位帝王的成就？

- (A)秦始皇
- (B)漢武帝
- (C)唐太宗
- (D)明太祖

11. 清末沈葆楨來臺加強海防、增設砲臺、修築通往後山的道路、開放對臺移民，加速了臺灣的墾殖與發展。促使沈葆楨積極對臺建設的直接原因為何？

- (A)漢人與原住民發生衝突
- (B)地方械鬥在臺日益嚴重
- (C)日本出兵侵犯臺灣
- (D)法國企圖進占臺灣

12. 政府為整頓紊亂的道路交通，實施「交通大執法」，依法加強取締違規的車輛和行人。請問：上述做法主要發揮政府的哪一項功能？

- (A)維護國家安全
- (B)伸張社會正義
- (C)維持公共秩序
- (D)增進人民福利

13. 右列是小邁閱讀某雜誌的部分內容。根據內容判斷，作者最可能在討論下列哪一主題？

- (A)大眾文化的意識型態
- (B)文化全球化與多元化
- (C)非營利組織的網絡化
- (D)消費風格的族群差異

……當美國電影工業結合商品蔓延、滲透到世界各地，使全球娛樂產業內涵趨於同質的同時，蘇格蘭民族音樂、臺灣原住民音樂也登上國際舞臺，受到世人矚目。

14. 阿莫代表國家參加國際青少年會議，在會議中聽到某國代表介紹自己的國家：「我國元首是民選總統，掌有行政大權，國會由民選的議員組成，與司法權三者形成制衡，而且還有政黨輪替的現象。」根據上述內容判斷，該國屬於何種體制？

- (A)民主共和國
- (B)君主立憲國
- (C)君主獨裁國
- (D)獨裁共和國

15. 右列是小特探討科技發展對人類的影響時，用以說明的部分文字。根據內容判斷，他最可能是以科技與下列何者的關係為主題？

- (A)人口轉型
- (B)工作型態
- (C)社區形成
- (D)社會互動

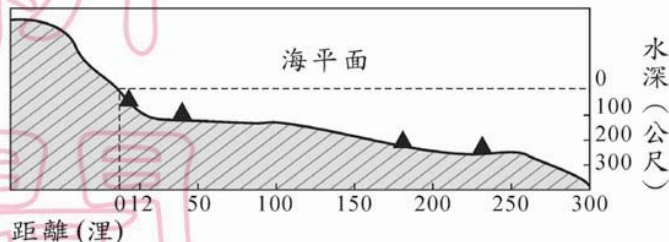
……人們曾經因為使用電話而減少書信往來，現今則透過電子郵件、線上聊天室或網路攝影機，無須親自見面，就可作即時的聯繫。

16. 市場經濟制度的經濟活動，是由價格機制這隻看不見的手所完成的。請問：下列何者是由上述「看不見的手」所推動？

- (A)全民健保保險費
- (B)菸品健康福利捐
- (C)國際美元行情價
- (D)愛心募款總收入

17. 「四川北部從 1972 年起，開始大量植樹造林，原本已枯竭的山泉又重新湧出多處。」請問：這種山泉重新湧出的現象，可以用下列何者加以解釋？
- (A)地下水面上升 (B)河川流量增加
(C)耕種面積縮小 (D)引水灌溉減少

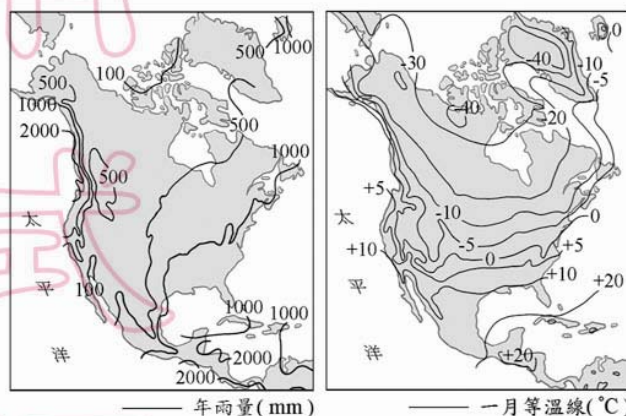
18. 圖(三)為某一國家沿海地形剖面示意圖，▲記號為油氣蘊藏區的位置。若依「領海及經濟海域」的劃分方式判斷，這個國家在本圖中擁有幾個油氣蘊藏區的開採權？



圖(三)

- (A) 1 (B) 2 (C) 3 (D) 4
19. 電腦的發明，造成工業生產自動化，產量大幅提高。請問：這種科技的發展，主要會降低哪一項生產因素的成本？
- (A)原料 (B)動力 (C)市場 (D)勞工

20. 圖(四)為北美地區的氣候資料。依據圖上的等值線判斷，哪一個地區較為溫暖乾燥？



圖(四)

21. 「從臺北到亞松森來回一趟，就等於整整環繞地球一周的距離。」這句話說明亞松森位於臺北通過地球球心的對面，是距離最遠的城市。依據上述可推測亞松森的位置在下列哪一地區？

- (A)北半球、東半球 (B)北半球、西半球
(C)南半球、東半球 (D)南半球、西半球
22. 「世界自然保育基金會警告，因為溫室效應增強，喜馬拉雅山的雪線每年以 10 到 15 公尺的速度後退。短期內可能會引起『周圍國家』的河流氾濫，造成水災，長期而言這些河流水位將會下降，引發乾旱，威脅當地人民的生活。」請問：下列何者不是文中所指的「周圍國家」？
- (A)伊朗 (B)中國
(C)印度 (D)尼泊爾

23. 宋神宗時，任用王安石推行變法改革，結果變法失敗，對當時政局產生何種不利的影響？
- (A)朝臣紛爭加劇，政治紊亂
 - (B)帝位爭奪激烈，政局不穩
 - (C)造成外戚專權，朝政敗壞
 - (D)導致外族入侵，國勢衰微
24. 小敏閱讀一本臺灣人物傳記，裡面寫到：「小時候，我曾在公學校讀書，在當時學校與地方進步人士的宣傳下，把多年的纏足放了……。」依此判斷，傳記主角應身處在下列哪一時期？
- (A)明鄭統治時期
 - (B)清朝統治前期
 - (C)清朝統治後期
 - (D)日本統治時期
25. 李泉是清末民初的知識分子，他認為中國的未來，應要順應時勢潮流而作改變，主張以光緒帝為首，改革舊制、增新機構、廣納建言。依此判斷，他最可能參與下列哪一項運動？
- (A)自強運動
 - (B)百日維新
 - (C)武昌起義
 - (D)新文化運動
26. 拿破崙是十九世紀初最具影響力的人物之一，他曾編訂法典，將自由、平等思想傳播到歐洲地區，但他的侵略行動也激起了各地的民族主義風潮。當時促成他崛起的主要背景為何？
- (A)光榮革命後，君主立憲內閣形成，人民期望效法英國政體
 - (B)路易十四後，戰爭不斷民生困苦，富國強兵成為全民目標
 - (C)法國革命後，內政混亂外敵侵逼，給予強人領導的機會
 - (D)工業革命後，貧富懸殊階級對立，要求改革的呼聲高漲
27. 阿坤喜歡研究古代思想，尤其偏愛墨家學說，並立志以墨子做為效法的對象。下列何者最能夠反映墨子對他的影響？
- (A)熱心籌劃參與各種反戰活動
 - (B)強調教育有改變人性的作用
 - (C)主張對一切事務皆順其自然
 - (D)贊成政府用重罰來治理人民




明鄭時期＝鄭氏時期

請翻頁繼續作答

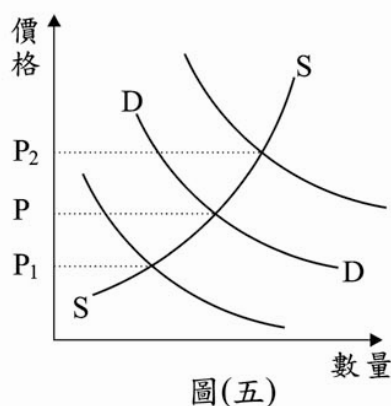
28. 右列是小兆用來說明某一研究議題的部分內容。根據內容判斷，他最可能以下列何者為研究主題？
- (A)利用地方資源發展觀光旅遊
 (B)結合跨國企業凸顯地方特色
 (C)落實基礎建設提升生活品質
 (D)凝聚社區意識保存文化資產

活動名稱
●花蓮鮮奶節
●客家桐花祭
●臺北北投溫泉季
●臺南白河蓮花季
●宜蘭國際童玩藝術節

29. 在臺灣政治民主化過程中，為減低金錢不當介入政治的情形，政府修訂政治獻金相關法律，以作為各政黨和政治人物接受政治捐款的規範。請問：上述法案的制定是屬於哪一方面的社會變遷？
- (A)文化建設
 (B)社會制度
 (C)價值觀念
 (D)器物生活

 器物生活＝物質生活

30. 圖(五)是某地區豬肉的供給曲線SS和需求曲線DD。近日該地區發生嚴重的雞隻傳染疫情，於是消費者轉而購買豬肉替代。根據上述內容判斷，在其他條件不變的情況下，此時豬肉的價格P最可能發生何種變化？
- (A)移往P₁方向
 (B)移往P₂方向
 (C)維持在P
 (D)無法預測



31. 阿滿在電視新聞上看到「遞交請願書」、「提起訴願」的相關報導，進而與班上同學討論「請願」與「訴願」的差異，下列哪一位的解釋最正確？
- (A)平平：「請願以一事一次為限定，訴願若不服可以再提起。」
 (B)安安：「請願是向警察機關提出，訴願是向司法機關提出。」
 (C)和和：「請願為維護公眾及個人權益，訴願是因個人權益受損。」
 (D)樂樂：「請願屬集會結社的自由權，訴願則屬司法上的受益權。」
32. 新聞報導：「政府為改善國庫財源不足的問題，擬尋求新的解決方案。」班上同學針對國家的財政收支狀況，分別提出不同的見解。下列哪一種說法最正確？
- (A)為分散風險各項經費預算應平均分配
 (B)為解決財政困難須減少公營事業盈餘
 (C)預算執行之前須經司法機關審核通過
 (D)政府經費分配應考量機會成本的問題

33. 江蘇省河湖眾多、渠道縱橫，如圖(六)所示。下列對於當地湖泊和渠道功能的敘述，哪一項並不適當？



圖(六)

- (A)湖泊和渠道開築可減少洪患
(B)湖泊和渠道可建構蓄水灌溉系統
(C)相連的渠溝可增加交通運輸的功能
(D)河流和渠道的高度差可提供水力發電
34. 《臺灣通史》作者連雅堂曾稱讚某位歷史人物具有輔佐君王的才能，他不僅積極推廣文化事業，設立學校，並「盡心經畫……內課農桑，外興貿易。十數年來，移民大至……」此為下列何人？
(A)施琅
(B)鄭成功
(C)陳永華
(D)劉永福
35. 阿英認為：「富人為了自己的利益，不斷剝削窮人，給他們很低的薪資，卻希望他們生產最多的產品。這種不合理的現象應該要靠公有共享，規定大家一起勞動才能獲得解決。」她主張的應是下列哪一種思想？
(A)人文主義
(B)民族主義
(C)資本主義
(D)社會主義
36. 老師在課堂上介紹某帝國說：「這個帝國對外抵抗亞洲遊牧民族的入侵，對內直接或間接地保存了古典文化。其後它所形成的文化至今仍存留於俄羅斯、巴爾幹半島和希臘一帶。」老師介紹的是下列哪一帝國？
(A)拜占庭帝國
(B)阿拉伯帝國
(C)亞歷山大帝國
(D)鄂圖曼土耳其帝國
37. 合法集會遊行是人民的基本權利，但集會後若留有廢棄物未清除，則集會遊行的負責人最可能受到下列何種處罰？
(A)拘役
(B)罰金
(C)罰鍰
(D)有期徒刑

請翻頁繼續作答

38. 右列是阿里閱讀某報導的部分內容。
根據內容判斷，作者的觀點最主要是
基於下列何者的考量？

(A)公共利益
(B)多元尊重
(C)社會正義
(D)經濟效率

……有人認為偏遠地區的小學，
全校僅有數名學童，每年每人花
費的教育成本高達百萬元，不符
合經濟投資效益，應該採取廢校
或與他校合併的做法。但教育問
題的決策，是否僅止於數值的計
算，孩子們的學習權在哪裡？

39. 法律的制定、解釋和執行，均應由法定的民意代表及司法人員掌理。下列是班上
同學對相關人員職權的比喻，哪一個比喻例子最不適當？

(A)法官--正義的仲裁者
(B)檢察官--刑案的審判官
(C)大法官--憲法的守護神
(D)立法委員--法律的接生婆

40. 右列是小民閱讀某報紙的部分內容。
根據內容判斷，下列何者最可能是本文
的主題？

(A)生態保育
(B)社區營造
(C)區域均衡
(D)經貿發展

……隨著公路大量修築，山地的
利用逐漸達到飽和，而接連的地
震、颱風，更造成沿線嚴重的土
石流災情。……促使國人重新審
視道路興建及國土開發等政策。

41. 第二次世界大戰結束後，出現了各種區域性組織，其中以經濟合作為起點組成共
同體，進一步發行單一貨幣，並曾醞釀走向政治統合的是下列哪一組織？

(A)歐洲聯盟
(B)華沙公約組織
(C)北美自由貿易區
(D)亞太經濟合作會議



亞太經濟合作會議，
簡稱亞太經合會

42. 「殖民地的人民認為，假若他們沒有代表出席母國的議會，母國政府就無權向他
們徵稅；如果政府堅持徵稅，就是暴政！」這段話說明了美國獨立運動爆發的原
因，也顯露出當時殖民地人民主要欲爭取下列哪一項權益？

(A)工作權
(B)自由權
(C)行政權
(D)參政權

43. 右列是十八世紀末英國某學者演說的部分內容。根據內容判斷，他的說法隱含下列何種觀點？

(A)三權分立
(B)天賦人權
(C)君權神授
(D)社會主義

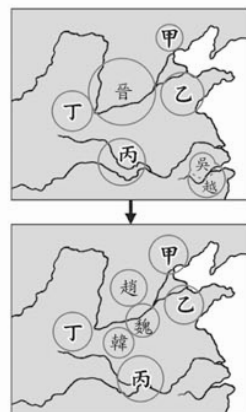
……每一個人，只要不是有意把人引入歧途，而是想以心中認為正確的理性與良知來啟發別人，不管他的想法是什麼，他都可以向全國具有理性的國民發表自己的見解。

44. 經濟學上有所謂的「比較利益原理(則)」，就是透過適當的專業分工，使不同地區或國家的人民享受到較多較好的產品。歷史上，下列何者較符合此一原理(則)？

(A)西漢時代，曾實施鹽、鐵、酒專賣制度，擴充了國家的財源
(B)北宋每年固定給遼許多銀、絹，維持了兩國一百多年的和平
(C)清朝統治初期，臺灣出口米、糖等，以與中國大陸交易日常用品
(D)韓戰爆發之後，美國對臺灣提供經濟援助，促進臺灣的經濟發展

45. 圖(七)是中國史上某一時期政治局勢的轉變過程，此情勢發展到最後是被圖中哪一國家所統一？

(A)甲
(B)乙
(C)丙
(D)丁



圖(七)

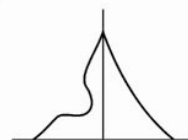
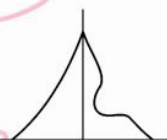

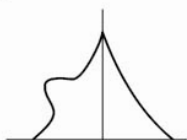
46. 臺灣在清朝統治初期受到「渡臺禁令」政策的影響，人口結構有失衡的現象。請問：當時的人口金字塔圖形，最可能是下列哪一幅示意圖？

(A)

(B)

(C)

(D)



47. 「……西元 1281 年夏季，忽必烈派出一支載有 15 萬士兵的艦隊進攻日本，要求歸順，日本人奮力抗擊長達七周。正值此時，一場『神風』毀掉半數以上的蒙古軍，解救了日本的危機。」根據當地的氣候特性判斷，文中的「神風」最可能是下列何者？

(A)季風

(B)颱風

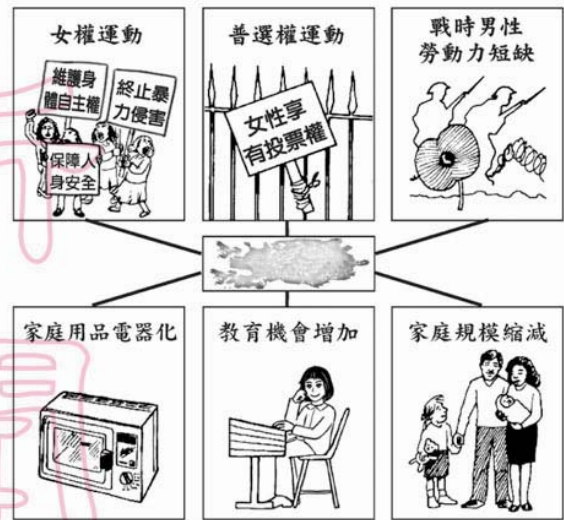
(C)沙塵暴

(D)盛行西風

請翻頁繼續作答

48. 圖(八)是小郁翻閱相關書籍所看到的部分內容。由於墨漬遮蔽了若干文字，請協助小郁判斷，下列何者最可能是遮蔽處的內容？

- (A)改變婦女地位的因素
(B)縮小貧富差距的原因
(C)改善社會福利的背景
(D)強化性別分工的條件



圖(八)

49. 小明計畫暑假出國旅遊，他希望旅途中一方面能看到中國式的廟宇建築，一方面也能參觀葡萄牙留下的巴洛克風格教堂。若要滿足這些期望，他最好去下列哪一個地方？

- (A)印尼 (B)澳門
(C)泰國 (D)菲律賓

50. 表(一)是臺灣地區三級產業跨期比較的部分內容摘要。根據內容判斷，我國產業發展具有下列哪一種現象？

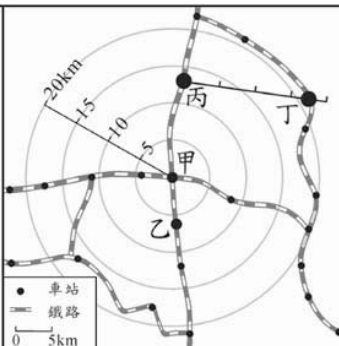
表(一)

產業別	1981年		1991年		2001年	
	男	女	男	女	男	女
總人數(千人)	4,448	2,224	5,274	3,165	5,553	3,830
農業 (%)	20.0	16.5	14.5	10.4	9.3	5.1
工業 (%)	42.5	42.1	42.2	36.1	41.3	28.2
服務業 (%)	37.5	41.4	43.3	53.5	49.4	66.7

- (A)我國的勞動人口數呈現下降趨勢
(B)勞力比例改變反映產業結構轉變
(C)產業轉型兩性工作所得漸趨同酬
(D)農業與工業勞動力人口比例增加
51. 國際間農產品的外銷，也能成為國際貿易順差來源，下列哪一種自然環境能夠產出最多樣的水果，具有成為水果王國的條件？

- (A)以平原為主的溫帶地區
(B)有高山地形的溫帶地區
(C)以平原為主的熱帶地區
(D)有高山地形的熱帶地區

52. 圖(九)為學力鐵路公司的票價計費方式資料。

<p>不管您的搭乘路徑為何，本公司只以您起點與訖點間的直線距離收費。其優惠方式如下：</p> <ol style="list-style-type: none"> 1. 在 5 公里內僅收費 25 元，超過 5 公里未達 10 公里收費為 45 元，超過 10 公里未達 15 公里收費為 60 元，超過 15 公里未達 20 公里收費為 70 元，超過 20 公里以上，統一優惠收費 80 元。 2. 例如從甲站出發，不管您搭乘哪一路線，到乙站只要 45 元，到丙站只要 60 元，到丁站只要 80 元！ 	
---	--

圖(九)

若以相同的計費方式，游小寶打算從丙站到丁站，需要負擔多少費用？

- (A) 20 元 (B) 60 元 (C) 70 元 (D) 80 元

53. 「西元 1989 年，成千上萬的學生在北京市中心的天安門廣場集會，表達對國家領導的不滿，並要求民主改革……。」請問：文中的事件發生在圖(十)哪一個地區？

- (A) 甲
(B) 乙
(C) 丙
(D) 丁



圖(十)

54. 圖(十一)是阿飛以漫畫方式，表示他對經濟發展的看法。根據圖中內容判斷，此漫畫顯示了忽視經濟學上何種概念所造成的後果？

<p>某天，牧人甲買進一頭牛，他的牛隻總數即是「+1」。</p>	<p>不過多一頭牛造成的環境代價，卻由 10 位牧人共同承擔，因此牧人甲只需負擔 $\frac{1}{10}$ 的成本。</p>	<p>結果牧人甲不斷增加牛隻……牧人乙、牧人丙以及其他牧人都開始買牛了……</p>
		

圖(十一)

- (A) 公平交易
(B) 外部效果
(C) 供需法則
(D) 負擔能力原則

請翻頁繼續作答

二、題組：(55~63 題)

閱讀下列選文，回答第 55 至 57 題：

根據行政院人事行政局修訂的規定，颱風過境達停止辦公及上課標準為「未來四小時內暴風圈可能經過的地區，其平均風力達七級以上，或陣風超過十級以上。」若局部地區因受地形、雨量、交通等特殊狀況的影響，導致辦公或上課困難者，各縣市政府得依法逕行決定，並通報宣布停止上班或上課。

55. 根據內容判斷，上述做法旨在發揮下列何種功能？
(A)強化災難應變 (B)因應社會變遷
(C)增建公共設施 (D)增加社會救助
56. 上述因應各地情況差異，由各縣市政府決定並負責的做法，最符合下列何種精神？
(A)主權在民 (B)地方自治
(C)民族自決 (D)權力分立
57. 文中的「規定」，在法的層級中應屬何種位階？
(A)憲法 (B)法律
(C)命令 (D)契約

閱讀下列選文，回答第 58 至 60 題：

安平，舊稱大員、臺員，是「臺灣」一詞的起源。大員市鎮最初是荷蘭人為因應商貿需求，依都市計畫興建而成的市鎮。如今，昔日的景觀已不復見，殘存的城牆、聚落與建物成了今日最有價值的遺產。當地主管機關正積極規劃挖掘地下可能埋藏的牆基遺址，試圖讓王城再現，屆時安平的歷史脈絡不僅能更完整呈現，民眾也將更加了解多樣的歷史面貌。

58. 大員市鎮的興建，主要與下列哪一歷史背景有關？
(A)文藝復興 (B)科學革命
(C)十字軍東征 (D)地理大發現
59. 若要追尋上述遺跡，應到圖(十二)何處？
(A)甲 (B)乙
(C)丙 (D)丁
60. 文中提及的王城再現計畫，主要是希望達成下列哪一目的？
(A)提升環保意識 (B)加速產業升級
(C)促進族群融合 (D)保存文化資產



圖(十二)

閱讀下列選文，回答第 61 至 63 題：

都是鑽石惹的禍

璀璨生輝的鑽石受到許多人的喜愛。一克拉的鑽石，往往要處理 250 噸的岩石、沙和礫石後才能得到。根據數據顯示，約有一半鑽石產自非洲，它除了帶給非洲財富外，也帶給當地人民無休止的暴力、血腥及自相殘殺。



「衝突鑽石」是指產自未經國際承認的非法勢力所控制地區的鑽石。非法勢力使用這些鑽石收入來對抗合法政府或聯合國安理會。此情勢的形成，與冷戰結束後的政治情勢有關。因為原先支持當地叛亂團體的外國勢力相繼退出非洲，這些團體為了維持與政府對抗的態勢，必須另覓經濟來源，其中最常用的手段就是開挖及販售昂貴的鑽石。這些叛亂團體為了獲得鑽石，殘忍地控制當地平民。因此當人們購買這些來路不明的鑽石時，也將使當地平民繼續面對無止盡的虐待與殺戮。

61. 文中的故事，主要發生在圖(十三)哪一個地區？

- (A)甲
- (B)乙
- (C)丙
- (D)丁



圖(十三)

62. 文中敘述的現象應出現於下列何時？

- (A)十七世紀
- (B)十八世紀
- (C)十九世紀
- (D)二十世紀

63. 文中提及鑽石價格十分昂貴，最主要是基於下列何種因素？

- (A)具備稀少性
- (B)生活的必需品
- (C)軍事武力的來源
- (D)國家財富的象徵

試題結束