

94 第二次國民中學學生基本學力測驗

社會科題本

請不要翻到次頁！

讀完本頁的說明，聽從監試委員的指示才開始作答！

※請先確認你的答案卡、准考證與座位號碼是否一致無誤。

請閱讀以下測驗作答說明：

測驗說明：

這是國民中學學生基本學力測驗社會科題本，題本採雙面印刷，共 **13** 頁，有 **61** 題選擇題，每題都只有一個正確或最佳的答案。測驗時間從 **11:00** 到 **12:10**，共 **70** 分鐘。作答開始與結束請聽從監試委員的指示。

注意事項：

1. 所有試題均為四選一的選擇題，答錯不倒扣。
2. 試題中所附圖形，如有附上比例尺，以比例尺為依據作答；若無比例尺，則該圖僅作為參考，不代表實際大小。
3. 可利用題本中空白部分計算，切勿在答案卡上計算。
4. 依試場規則第七條規定：「答案卡上不得書寫姓名座號，也不得做任何標記。故意污損答案卡、損壞試題本，或在答案卡上顯示自己身分者，該科測驗不予計分。」

作答方式：

請依照題意從四個選項中選出一個正確或最佳的答案，並用 **2B** 鉛筆在答案卡上相應的位置畫記，請務必將選項塗黑、塗滿。如果需要修改答案，請使用橡皮擦擦拭乾淨，重新塗黑答案。例如答案為 **B**，則將 **B** 選項塗黑、塗滿，即：**A** ● **C** **D**

以下為錯誤的畫記方式，可能導致電腦無法正確判讀。如：

- A** ● **C** **D** — 未將選項塗滿
- A** **B** **C** **D** — 未將選項塗黑
- A** ● **C** **D** — 未擦拭乾淨
- A** ● **B** **C** **D** — 塗出選項外
- A** ● ● **C** **D** — 同時塗兩個選項

請聽到鈴（鐘）聲響後才翻頁作答

一、單題：(1~54 題)

1. 小德打算與同學騎摩托車從花蓮北上到宜蘭遊玩。請根據臺灣的海岸特色判斷，其沿途最常見到的海陸景觀為下列何者？

(A)



(B)



(C)



(D)



2. 元元到某一地區旅遊，在當地除了看到許多傳統閩南式的建築，還參觀著名的戰地史蹟，並且買回一把以炮彈殼為材料做成的菜刀。請問：元元最可能到下列哪一地區旅遊？

(A) 琉球

(B) 澎湖

(C) 金門

(D) 北海道

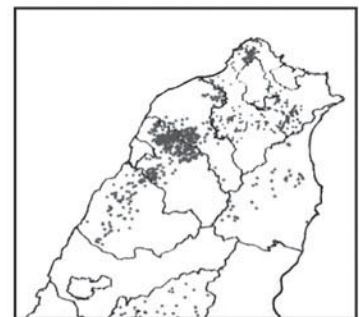
3. 圖(一)為臺灣北部茶葉栽種的資料，圖上每點代表茶葉栽種面積二十公頃。恩明想用這種類型的圖表來呈現非洲的人口資料。請問：下列哪一項主題最適合？

(A) 性別組成

(B) 人口分布

(C) 自然增加率

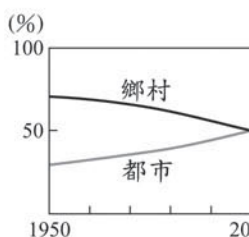
(D) 產業人口結構



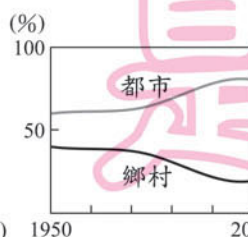
圖(一)

4. 下圖是四個地區在 1950 年至 2000 年間，鄉村與都市人口占總人口比例的變化情形。若只考慮遷移的因素，下列哪一個地區的鄉村人口外流最嚴重？

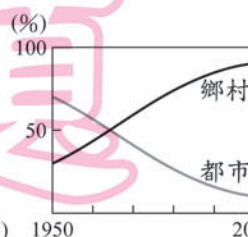
(A)



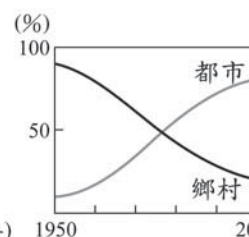
(B)



(C)



(D)



5. 「這個地區的地面，山石聳峭起伏，地表有許多裂縫，使得雨水和土壤常經由裂縫漏到地底下，嚴重影響農業發展、水庫興修和交通建設。」請問：上文所述的情形最可能出現於中國大陸哪一地區？

(A) 雲貴高原

(B) 黃土高原

(C) 河西走廊

(D) 東北平原

請翻頁繼續作答

6. 清光緒年間，中國割讓臺灣，部分知識分子反對割讓，主張建立臺灣民主國，率眾抵抗外國勢力的入侵。此事件起因於下列哪一場戰爭的失敗？
- (A)鴉片戰爭
(B)中法戰爭
(C)甲午戰爭
(D)八國聯軍

7. 圖(二)是貞貞在書中看到的一幅插圖，該圖最可能在表達下列哪一項史實對人類生活造成的改變？
- (A)地理大發現
(B)莊園經濟
(C)文藝復興
(D)工業革命



圖(二)

8. 小米看某部電視劇，劇中出現這樣的標語：「天足是健康的象徵，婦女可以解脫束縛，自由行動。」這樣的宣導內容最可能出現在哪一時期的臺灣社會？
- (A)荷蘭統治後期
(B)鄭成功統治期
(C)清朝統治前期
(D)日本統治時期



天足：未經纏裹的腳

9. 清康熙 22 年(西元 1683 年)，施琅在臺灣棄留爭議中，主張臺灣具有極高戰略價值，應予保留，以免日後被荷蘭等國控制，威脅中國。他的論點，與當時哪一種世界局勢的轉變關係最密切？
- (A)火藥發明，歐洲各國使用火槍、火炮擴張勢力
(B)地理大發現後，歐洲各國紛紛東來占領殖民地
(C)科學革命後，歐洲國家來亞洲實驗新科學技術
(D)工業革命發生，歐洲國家競相進行軍備競賽
10. 民國初年，有位政治人物說：「民國主權，本於國民全體，既經國民代表大會全體表決，改用君主立憲，本大總統自無討論餘地。」引起當時輿論猛烈批評。這段話出現的背景，與下列哪一件史實有關？
- (A)孫中山就任臨時大總統
(B)袁世凱謀畫「洪憲帝制」
(C)張勳擁立溥儀復辟
(D)蔣中正率軍北伐

11. 表(一)是近二十年來臺灣社會所發生的重要紀事。根據內容判斷，下列何者最可能是影響這些社會變革的客觀條件？

(A)人權與自由
(B)宗教與習俗
(C)科技與經濟
(D)倫理與道德

表(一)

民國(年)	紀事
76	臺澎地區解除戒嚴
80	終止動員戡亂時期
85	首次總統、副總統直接民選

12. 阿真與小美兩人，聽到新聞報導：「為提供民眾一個更舒適的休閒空間，政府將於彩虹島開放前舉行淨島活動。」於是她們一同前往擔任淨島義工，撿拾垃圾。請問：她們的行為，最能表現哪一種公民素養的精神？

(A)維護公眾利益
(B)尊重公共意見
(C)遵守公共秩序
(D)追求公平正義

13. 圖(三)是佳佳看到某項政策文宣的部分內容。根據內容判斷，政府所要推動的最可能是下列哪一項計畫？

(A)充實地方警力，捍衛家園安全
(B)宣導犯罪防治，維護社區治安
(C)鼓勵政治參與，落實地方自治
(D)凝聚共同意識，發展社區文化

家園再造	
想一想自己社區的十個優點	十個缺點
	十個有趣的人
	十個故事
再想一想	十個怎麼辦

圖(三)

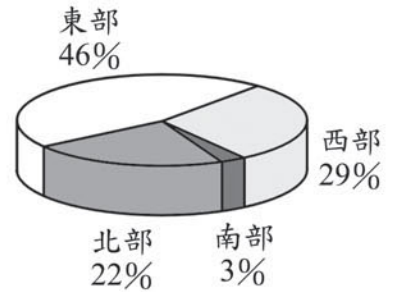
14. 在社會生活中，個人行為常受到內在心理及外在環境的影響，其中有些規範具有強制力。下列哪一項敘述符合這種特性？

(A)大年初二女兒回娘家
(B)會議進行中關閉手機
(C)縣市長選舉返鄉投票
(D)騎乘機車配戴安全帽

15. 阿鑫在課堂報告時提到：「……該法律規定，在推展科學技術時，政府應考量科技政策或計畫對環境生態的影響，並提供經費研究社會倫理與法律因應等相關問題。」根據上述內容判斷，他最可能是以下列何者為主題？

(A)科技發展促進經濟成長
(B)資訊時代裡的國際關係
(C)科技發展對社會的衝擊
(D)資訊社會中的政治參與

16. 圖(四)為幸福國四個地區的商業營業場所數量比例圖(圓餅圖)。從圖中資料,可知東部具有下列哪一項特徵?
- (A)商業比工業發達
 (B)工業比商業發達
 (C)商業營業場所比其他地區多
 (D)大型商業營業場所比其他地區多



圖(四)

17. 若馨參加學校的畢業旅行。在遊覽車直行的路程中,沿途的稻田由「已經收割」漸漸轉變成「尚未收割」的景象。若依據臺灣緯度與氣候的關係判斷,學校的行程安排最可能為下列何者?
- (A)從北部至南部
 (B)從南部至北部
 (C)從東部至西部
 (D)從西部至東部

18. 圖(五)為冠儀到亞洲某國家參觀的照片說明。請問:他旅遊的地點最可能位在下列哪一個國家?
- (A)泰國
 (B)印度
 (C)伊朗
 (D)俄羅斯



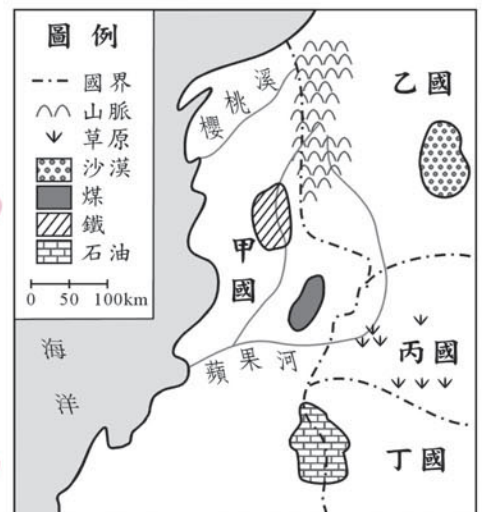
地點:恆河旁

拍攝說明:因為宗教上的信仰,當地人們會用恆河水沐浴淨身

圖(五)

19. 「大龍住在臺灣海拔 800 公尺的山間盆地,小時候家中種植各種蔬果維生,現在則專門種植香菇,運銷到臺灣各地。」請問:這種土地利用的轉變屬於下列何種現象?
- (A)多元化
 (B)都市化
 (C)專業化
 (D)標準化

20. 圖(六)為四個國家的國界及資源分布圖。下列哪兩個國家最可能產生礦產資源上的衝突?
- (A)甲和乙
 (B)甲和丙
 (C)甲和丁
 (D)丙和丁



圖(六)

21. 大力聽到一首歌，歌詞如下：

「古巴比倫王頒布了《漢摩拉比法典》，刻在黑色的玄武岩，距今已經三千七百多年，……用楔形文字刻下了永遠，那已風化千年的誓言，一切又重演……」
這首歌詞的創作靈感是來自於下列哪一古文明？

- (A)西亞 (B)埃及
(C)印度 (D)希臘

22. 老師想從中國近代史事中，舉例說明宗教信仰對人類行為產生的影響，下列哪一個例子最恰當？

- (A)鴉片戰爭的發生
(B)自強運動的推動
(C)太平天國的建立
(D)維新變法的提倡

23. 子涵複習歷史時，將歷史上著名的輔佐大臣整理出一個簡表如下：

西周	戰國秦	北宋	明
周公	?	王安石	張居正

表中「？」是她忘記的部分，該處應填寫下列哪一位人物？

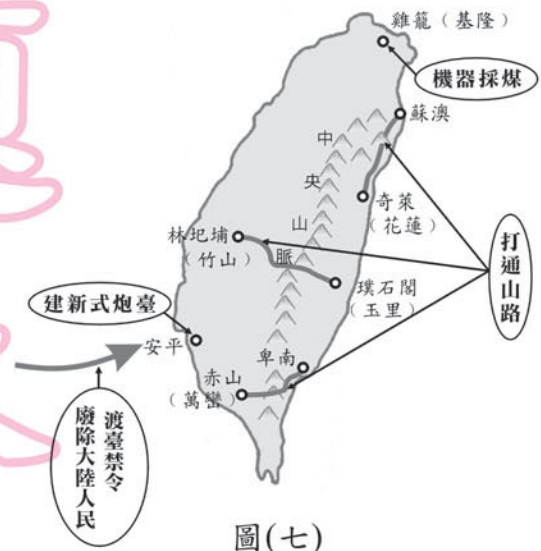
- (A)管仲 (B)商鞅
(C)韓非 (D)王莽

24. 近年來，臺灣在2月28日這一天，政府與民間皆會舉辦活動悼念「二二八事件」中的受難者。請問：此事件發生當時，實際負責執行臺灣政務的最高行政單位為下列何者？

- (A)國民政府
(B)臺灣省政府
(C)臺灣總督府
(D)行政長官公署

25. 圖(七)是小莞在書上看到的一幅圖。這幅圖最可能是說明下列何人的政績？

- (A)鄭經
(B)施琅
(C)沈葆楨
(D)唐景崧



圖(七)

請翻頁繼續作答

新

26. 每逢選舉之前，許多政黨常會進行民意調查，藉此瞭解選民對有意參選者的支持度，並匯集意見作為辦理初選或輔選的參考。請問：政黨上述做法的直接目的為何？
- (A)組織政府
 - (B)監督施政
 - (C)招募新黨員
 - (D)提名候選人

27. 右列是某個國家經濟概況的部分敘述，班上四位同學分別依據內容提出闡釋，下列哪一位的說法最合理？

某內陸國家的居民，以他們的貨物和勞務換取貝殼，並用貝殼來換取他們所需的其他生活物資。

- (A)小英：「該國的貝殼產量未受管制。」
- (B)阿成：「該國的貝殼外表相當美觀。」
- (C)小周：「該國流通的貨幣應是貝殼。」
- (D)阿瑞：「該國只實施以物易物制度。」

28. 過去對於飲食的需求只要「吃飽就好」，其後漸漸崇尚「精緻美食」，而現代社會則朝注重清淡、簡樸的方向發展，進而促成健康飲食的風行。請問：上述飲食文化的改變是屬於何種層面的變遷？

- (A)社會制度
- (B)風俗習慣
- (C)價值理念
- (D)生活器物

29. 政府常會對違規停放的車輛進行取締或拖吊，以避免影響其他人車的通行，確保民眾行的權利。請問：上述內容符合經濟學的哪一種觀念？

- (A)外部效果
- (B)機會成本
- (C)需求法則
- (D)比較利益



外部效果 = 外部性

30. 右列報導是小郁閱讀某雜誌的部分內容。根據內容判斷，作者最可能在討論下列哪一主題？

- (A)永續地球--再生資源的運用
- (B)科技社會--虛擬社區的建構
- (C)綠色生活--網際網路的使用
- (D)數位落差--經濟因素的影響

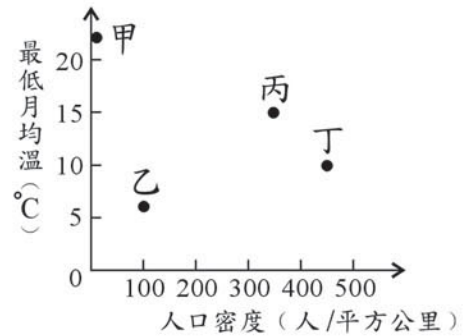
線上商業交易大量採用直接下載商品的方式，減低過度包裝和運送的成本。而資訊科技的普及也鼓勵人們在家上班，減少因通勤而製造的汙染。

題

本

31. 「……族人在乾季末期會燒山墾地，用木棒挖洞來種植甘藷、芋頭，任其生長等待收穫，一段時間土壤不再肥沃後，就另闢新地耕種……。」請問：圖(八)中哪一種環境條件，最常出現這種農耕方式？

- (A)甲 (B)乙
(C)丙 (D)丁



圖(八)

32. 阿甘想從大西洋岸走到太平洋岸，完成看到兩大洋的願望。請問：若只考慮下列地區與周圍海洋的關係，阿甘的願望在哪一個地區無法實現？

- (A)中國
(B)美國
(C)加拿大
(D)南極洲

33. 圖(九)為小虎到中國大陸旅遊，寄給友人的明信片。請問：此一明信片的寄送最可能為圖(十)的哪一途徑？

- (A)甲 (B)乙
(C)丙 (D)丁



圖(十)



圖(九)

34. 靖康之禍(難)後，宋高宗為了躲避戰亂，南遷偏安，史稱南宋。面對金人一再地威脅，朝廷內出現主戰與主和兩派不同意見，宋高宗最後採行哪一項決策？

- (A)聯合蒙古，夾攻金人
(B)停止北伐，宋金議和
(C)鼓勵通婚，融合族群
(D)下詔北伐，收復汴京

35. 清朝統治臺灣初期，曾明令禁止男子攜眷來臺，其後清廷為了積極建設，取消該項限制。此項禁令的取消，對日後臺灣發展帶來什麼樣的影響？

- (A)人口擴增，拓墾加速
(B)族群械鬥，日趨激烈
(C)性別失衡，男多於女
(D)漢人活動範圍受限制

36. 采玲想像自己是二十一世紀的記者，穿梭時空來到三世紀初的曹操陣營採訪某位高級將軍，若根據史實判斷，下列哪一段最可能是這位將軍的談話內容？
- (A)「由於領導正確，我軍逐步統一北方，下一步計畫是掃蕩南方的反抗勢力。」
 (B)「我軍若能適時與蜀軍聯合，一起北伐，將有機會憑藉東南一角進占北方。」
 (C)「為了復興漢室，在聯合孫吳且用計得宜的情形下，我軍打了漂亮的勝仗。」
 (D)「我軍消滅東南的反叛政權後，天下終於重新統一，過去的紛擾已經落幕。」
37. 相對於過去只有三家無線電視臺的情況，現今有線電視蓬勃發展，形成體育、卡通、宗教等專門頻道林立的現象，為用戶提供更多元的收視選擇。請問：上述情形最足以表現媒體的哪一種發展趨勢？
- (A)互動雙向化
 (B)內容分眾化
 (C)定位公益化
 (D)經營國際化
38. 林先生在未經核准的情況下，自行封閉住家旁的防火巷，政府機關因而對他寄出查報拆除通知。如果林先生對該行政處分不服，應採取下列哪一項權利救濟的途徑？
- (A)向地方法院提起行政訴訟
 (B)向原機關上級單位提訴願
 (C)向調解委員會提調解申請
 (D)向選區內的議員提出請願
39. 表(二)是春節期間，夜市裡四個攤位的販售內容和營業情形。在不考慮其他條件的情形下，哪一個攤位的平均單日營業利潤最高？
- 表(二)
- | 項目 | 射汽球 | 撈魚 | 甜湯 | 烤香腸 |
|----------|-----|----|----|-----|
| 生產總成本(萬) | 9 | 11 | 15 | 14 |
| 營業總收入(萬) | 19 | 20 | 24 | 25 |
| 營業總天數(日) | 20 | 15 | 25 | 20 |
- (A)射汽球
 (B)撈魚
 (C)甜湯
 (D)烤香腸
40. 在世界近代史上發生過多次的政治革命，如英國光榮革命、美國獨立革命、法國大革命、中國辛亥革命，它們共同的理念是什麼？
- (A)主張主權在民
 (B)發展自由經濟
 (C)追求社會福利
 (D)提倡世界大同

41. 小如與同學聊天時發現同一個字或詞會有不同的讀法，例如「筷子」在福佬(閩南)話可唸成「ㄉㄨㄢˊ」或「ㄉㄨㄢˋ」等，客家話的其中一種則唸成「ㄉㄨㄢˋ」。上述多種讀音並存的現象，與下列何者的發展最有關係？

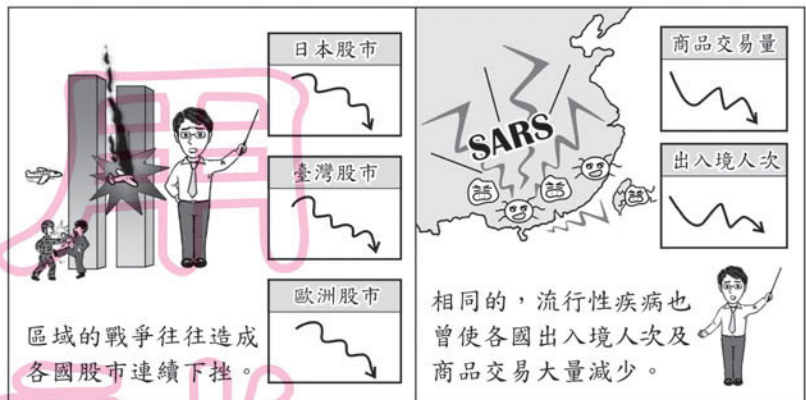
- (A) 清朝後期設立廣方言館
- (B) 清朝渡海來臺人口眾多
- (C) 民國初年推行新文化運動
- (D) 政府設立文化建設委員會

42. 小明暑假遠赴中國西北地區旅遊，途經河西走廊、天山一帶直到伊犁河附近。回來後，他以這次旅程中的見聞為主題撰寫心得報告，下列何者最可能出現在其中？

- (A) 「絲路」的交通路程
- (B) 鄭和出使的遠行路線
- (C) 八國聯軍的進攻地點
- (D) 國民政府的北伐過程

43. 下列哪一項概念，最適合說明圖(十一)漫畫所表達的意義？

- (A) 國防依賴性
- (B) 外交依賴性
- (C) 文化依賴性
- (D) 貿易依賴性



圖(十一)

44. 今日民主國家的人民能自由表達意見、暢所欲言，不受嚴密的思想控制，與下列哪一時期思想家強調打倒權威、追求自由的主張最有關係？

- (A) 羅馬帝國
- (B) 文藝復興
- (C) 科學革命
- (D) 啟蒙運動

45. 表(三)是亞米國四個港口對外輸出額與其所創造就業機會的統計表。根據表中內容推斷，哪一個港口對亞米國的經濟發展最有貢獻？

表(三)

港口	輸出額 (百萬元)	創造就業機會 (個)
加德港	52,251	1,045,013
蒙馬港	17,353	347,098
里昂港	15,714	358,276
普羅港	9,180	183,597

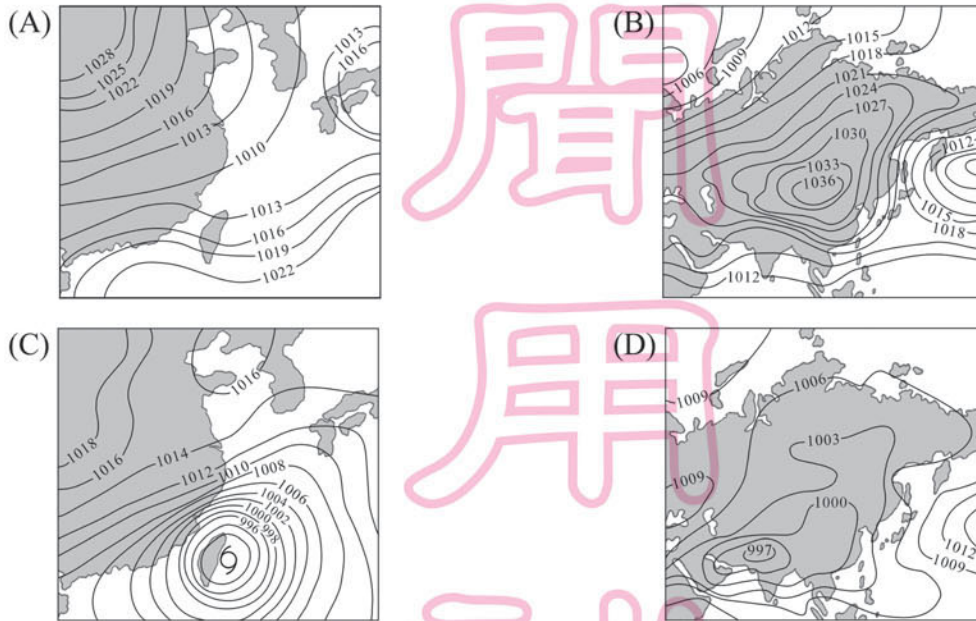
- (A) 加德港
- (B) 蒙馬港
- (C) 里昂港
- (D) 普羅港

請翻頁繼續作答

46. 在某次企業聚會中，四位經理人分別對自己公司未來的經營方針提出看法。請問：下列哪一個人所提出的需求，屬於生產要素中的資本？

- (A) 陳經理：「我最需要高效的彩色印刷機。」
- (B) 伍經理：「我最需要員工的創意新點子。」
- (C) 黃經理：「我最需要大面積的丘陵坡地。」
- (D) 魏經理：「我最需要低薪的外勞操作員。」

47. 《三國演義》中，曹操曰：「方今隆冬之際」，意指在赤壁之戰前夕，當時所處的季節為冬天，由此可推測此戰役前夕的氣壓圖和下列何者最相似？



48. 「明成祖即位後，相當勤於政事，舉凡整飭吏治、經營南洋……。」「為了策動廣州起義，黃興曾到南洋地區籌款……。」請問：上述的南洋是指下列何處？

- (A) 東南亞地區
- (B) 南半球紐澳地區
- (C) 南歐地中海沿岸
- (D) 南太平洋的熱帶國家

49. 圖(十二)是有關東帝汶獨立建國報導的部分內容。在「聯合國東帝汶過渡行政當局」接管期間，東帝汶仍不屬於完整的國家，是因為它還缺少國家的哪些構成要素？

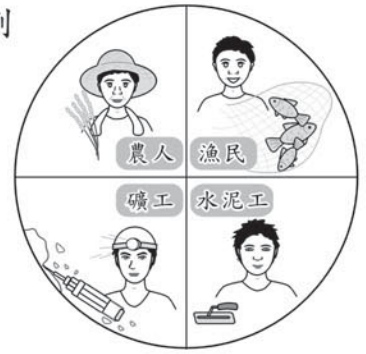
- (A) 人民、主權
- (B) 主權、政府
- (C) 政府、領土
- (D) 領土、人民

東帝汶獨立建國

崔小宇／帝利二十日電
東南亞的東帝汶歷經「聯合國東帝汶過渡行政當局」二年六個月託管期的民主洗禮後，終於當地時間二〇〇二年五月二十日零時獨立建國，成為全球第一九二個國家。在一九九九年聯合國舉辦的公民投票中，有近八成的選民主張東帝汶獨立建國。

圖(十二)

50. 圖(十三)表示蔡家四兄弟所從事的工作，根據圖中內容判斷，下列哪一項敘述正確？



圖(十三)

51. 臺灣西部河川多東西流向，造成早期南北陸路交通不便，直到何時，臺灣南北陸路交通開始通行無礙，此種現象獲得改善？
- (A) 明鄭時期的農業拓墾
 (B) 清朝後期的自強運動
 (C) 日本統治的基本建設
 (D) 中華民國的十大建設

52. 在某一段時期，部分歐洲東部平原上的居民與西伯利亞一帶的農民，須居住在政府指定的聚落中，以便到附近的集體農場耕作。這種現象最可能是受到下列哪一思想的影響？

- (A) 理性主義的科學進步主張
 (B) 資本主義的群體分工觀念
 (C) 人文主義的人群關懷理念
 (D) 共產主義的平等社會理想

53. 圖(十四)為某國戰爭前後的領土變遷。請根據圖上資料判斷該國戰後有何變化？



圖(十四)

- (A) 天然屏障減少
 (B) 疆域面積擴大
 (C) 礦產資源減少
 (D) 海岸線及港口增加

天然屏障：指用來保衛的天然遮蔽物，如河川或山岳

54. 班上同學在討論今年返鄉過年的情形——

尚智：「今年六個叔叔伯伯都回來了，加上爺爺奶奶的紅包，我有很多壓歲錢。」

銘禮：「對啊！只是叔叔伯伯那麼多，有時我都會搞混。」

敏全：「不過，我們這一代小孩的兄弟姐妹人數都比較少，下一代小孩就比較不會有這樣的困擾，但是包紅包給他們的人也會變少。」

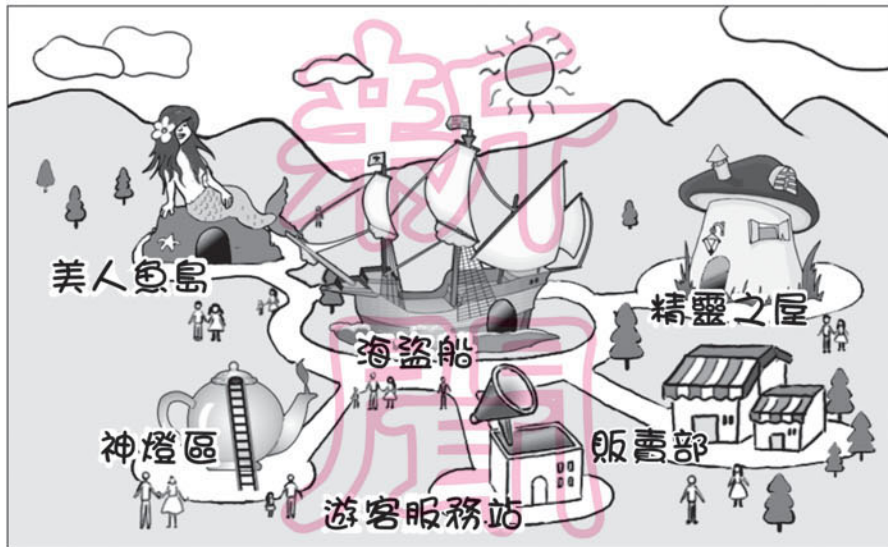
根據上述對話，可以看出臺灣人口出現下列何種現象？

- (A) 出生率降低
 (B) 死亡率降低
 (C) 人口移入減少
 (D) 人口密度增加





請翻頁繼續作答

二、題組：(55~61 題)

圖(十五)為童話世界廣場園區示意圖。閱讀圖上資料，回答第 55 至 56 題：



圖(十五)

55. 若園區設立在臺灣地區，早上太陽總是從山的那一頭升起，如圖(十五)所示。請根據此一條件判斷，本圖的座標應如何標示？
- (A)  (B)  (C)  (D) 
56. 圖(十五)的遊客服務站提供廣播、公用電話、洗手間及休息等服務。但是遊客們總是抱怨服務站的位置很不方便，常常需要走很遠。在考慮服務站與各個主題館間距離的條件下，遊客服務站移往哪一個區域將最為適當？
- (A)海盜船 (B)神燈區 (C)美人魚島 (D)精靈之屋

閱讀下列選文，回答第 57 至 58 題：

西元 1145 年，法國教士聖伯納(St. Bernard)為激勵士氣，針對當時局勢發表了一篇演說，部分內容如下：「……真理的寶座已被異說占據了……聽我說話的人們，穿上你們那刺不透的盔甲，……戰勝那些異教徒，洗清你們的罪孽，奪回聖地將是你們懺悔的獎賞。」

57. 上述演說應與下列哪一事件有關？
- (A)蒙古西征
(B)宗教改革
(C)十字軍東征
(D)拿破崙稱帝
58. 演說中所提的「聖地」位於下列何處？
- (A)亞洲西部 (B)歐洲東部
(C)非洲北部 (D)美洲南部

閱讀下列選文，回答第 59 至 61 題：

在貿易全球化發展趨勢下，少數跨國企業控制了全球近三分之一的種子市場，也控制農藥和化學肥料的主要市場，並擁有各地主要的穀物儲存和運輸設施。西方國家以機械化、單一品種種植的方式，大量生產農產品，再藉由市場機制傾銷至開發中國家，不但使當地自給自足的生產模式日漸消失，且大多數人民面對這些便宜的進口產品仍無力購買，於是製造更多貧窮和飢餓。而當地資源控制者，為了獲取更多利潤，則將蔬果、咖啡、鮮花等產品，源源不絕運送至海外市場，致使跨國公司在國際貿易和農業自由化政策中，得到更多的經濟利益。讓世界糧食分配轉變為市場導向，不再是以滿足人類基本生存為考量。



市場機制 = 市場機能

59. 上述市場運作模式，是下列哪一種經濟制度的主要特色？
- (A) 民生主義
 - (B) 共產主義
 - (C) 社會主義
 - (D) 資本主義
60. 上述滿足人民基本生存的需求，屬於我國《憲法》保障的哪一項基本權利？
- (A) 平等權
 - (B) 自由權
 - (C) 受益權
 - (D) 參政權
61. 根據上述內容判斷，下列哪一種看法最符合作者的觀點？
- (A) 世界糧食生產的總量不足
 - (B) 全球化發展造成貿易壟斷
 - (C) 貿易可縮減國家間的差距
 - (D) 跨國企業推動產品標準化