

# 94 第一次國民中學學生基本學力測驗

## 社會科題本

請不要翻到次頁！

讀完本頁的說明，聽從監試委員的指示才開始作答！

※請先確認你的答案卡、准考證與座位號碼是否一致無誤。

請閱讀以下測驗作答說明：

測驗說明：

這是國民中學學生基本學力測驗社會科題本，題本採雙面印刷，共 **13** 頁，有 **61** 題選擇題，每題都只有一個正確或最佳的答案。測驗時間從 **11:00** 到 **12:10**，共 **70** 分鐘。作答開始與結束請聽從監試委員的指示。

注意事項：

1. 所有試題均為四選一的選擇題，答錯不倒扣。
2. 試題中所附圖形，如有附上比例尺，以比例尺為依據作答；若無比例尺，則該圖僅作為參考，不代表實際大小。
3. 可利用題本中空白部分計算，切勿在答案卡上計算。
4. 依試場規則第七條規定：「答案卡上不得書寫姓名座號，也不得做任何標記。故意污損答案卡、損壞試題本，或在答案卡上顯示自己身分者，該科測驗不予計分。」

作答方式：

請依照題意從四個選項中選出一個正確或最佳的答案，並用 **2B** 鉛筆在答案卡上相應的位置畫記，請務必將選項塗黑、塗滿。如果需要修改答案，請使用橡皮擦擦拭乾淨，重新塗黑答案。例如答案為 **B**，則將 **B** 選項塗黑、塗滿，即：**A** ● **C** **D**

以下為錯誤的畫記方式，可能導致電腦無法正確判讀。如：

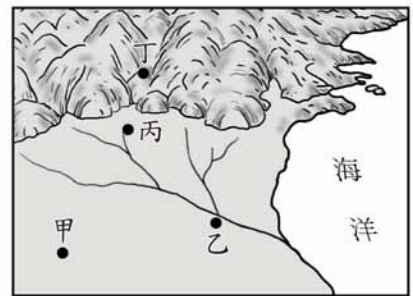
- A** ● **C** **D** — 未將選項塗滿
- A** **B** **C** **D** — 未將選項塗黑
- A** ● **C** **D** — 未擦拭乾淨
- A** ● **B** **C** **D** — 塗出選項外
- A** ● ● **D** — 同時塗兩個選項

請聽到鈴（鐘）聲響後才翻頁作答

一、單題：(1~54 題)

1. 圖(一)是四個地區的位置分布圖。請根據交通條件判斷，哪一個地區發展成大型都市的機會最大？

- (A) 甲
- (B) 乙
- (C) 丙
- (D) 丁



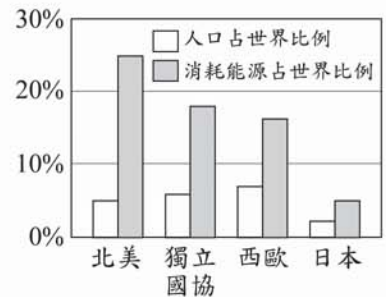
圖(一)

2. 「佩宜暑假與家人到臺灣某一處海岸遊玩，發現此地的海岸由珊瑚礁組成，海水清澈，岸邊的椰子樹葉隨風搖曳，太陽西落海平面的美景更是令人難忘。」請問：佩宜所到的海岸最可能位於臺灣何處？

- (A) 北部
- (B) 西部
- (C) 東部
- (D) 南部

3. 圖(二)為四個地區的人口及能源消耗比例圖。請問：哪一個地區的平均每人消耗能源量最多？

- (A) 北美
- (B) 日本
- (C) 西歐
- (D) 獨立國協



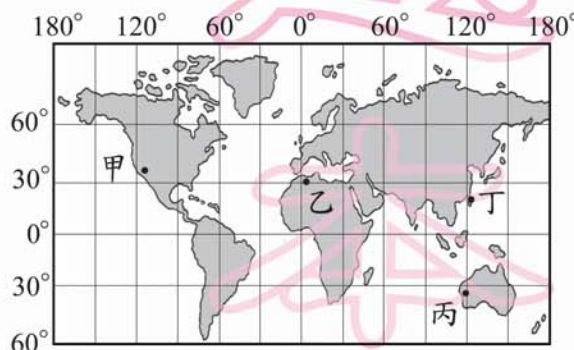
圖(二)

4. 近年來，臺灣山坡地區常有土石流現象，甚至傳出災情。請問：下列哪一種情形產生土石流的機會最大？

- (A) 地震前；日降雨量 500 mm
- (B) 地震前；日降雨量 50 mm
- (C) 地震後；日降雨量 500 mm
- (D) 地震後；日降雨量 50 mm

5. 圖(三)為具有 GPS (全球衛星定位系統) 的手錶款式。請根據手錶中的資料判斷，手錶的位置在圖(四)中何處？

- (A) 甲
- (B) 乙
- (C) 丙
- (D) 丁



圖(四)



圖(三)

請翻頁繼續作答



# 新 聞 試 題

6. 在某個古文明展覽會中，有一塊解說牌上寫著：「死亡不是生命的終結，而是邁向永生的必經過程。……為了達到這個目的，必須保存肉身完整，因為肉身的毀壞代表永遠不能死而復生。」這個展覽最可能是介紹下列哪一古文明？
- (A)蘇美
  - (B)埃及
  - (C)印度
  - (D)中國

7. 臺灣傳統文化除了原住民文化外，主要以漢人的文化制度為主。在歷史發展上，漢人文化與制度開始在臺灣生根，是始於下列哪一時期？
- (A)十六世紀末，東南沿海海盜來臺活動時期
  - (B)十七世紀中，鄭氏父子來臺成立反清基地時期
  - (C)十七世紀末，清朝將臺灣納入版圖的初期
  - (D)十九世紀末，清朝受外力逼迫，開港通商時期

8. 早期的阿拉伯人過著游牧生活，散居各處，沒有統一的政權。後來促使他們團結起來，迅速發展與擴張，在中世紀建立起輝煌的大帝國，其最主要的因素是什麼？
- (A)相同的宗教
  - (B)相同的血統
  - (C)共同的貨幣
  - (D)共同的語言

9. 芝華參觀歷史文物展覽時，看到一本書如圖(五)所示。這本書應是臺灣哪一時期的學生所使用？
- (A)鄭經治臺時期
  - (B)清朝統治後期
  - (C)日本統治時期
  - (D)國民政府遷臺初期



圖(五)

10. 清末以來，中國為因應西方勢力的入侵，內部發生了一連串運動，從「自強運動」、「戊戌變法」、「武昌起義」到「新文化運動」的陸續推行來看，下列何者最能夠解釋這段轉變過程？
- (A)民間「夷夏之防」的思想成為人們關注課題
  - (B)西方國家嘗試在中國推行各種新思想新制度
  - (C)知識分子在變局中努力為國家發展尋找出路
  - (D)傳統宗教信仰的影響力在中國社會日趨壯大

11. 新聞報導：「電信公司引進室內電話『來電顯示』的功能，可提供使用者過濾接聽的電話。但根據社工人員表示，接受庇護的受虐者欲與外界聯絡時，多不希望撥出的電話號碼顯示出來，以免洩露所在的地點。」上述內容最可能在討論下列哪一項議題？

- (A)全球化的資訊傳播
- (B)科技與隱私的難題
- (C)社會福利的重要性
- (D)權利救濟的多元性

12. 圖(六)是達莉在課堂報告時，用來輔助說明研究議題的圖形。根據圖中內容判斷，她最可能在探討下列哪一主題？

- (A)社會角色
- (B)社會組織
- (C)社會階級
- (D)社會變遷



圖(六)

13. 王先生退休後，平日上午到老人學苑上健康飲食課程，下午則在補習班學習電腦；女兒白天在報社上班，晚上到社區大學進修語文。假日時，全家常去縣內的文化中心看展覽。請問：以上有關王家的敘述，最足以表現下列哪一概念？

- (A)多元文化
- (B)休閒生活
- (C)社會規範
- (D)終身學習

14. 阿比打算拿五十萬元進行投資，他希望有較高的獲利，且願意承擔較高的投資風險。表(一)是他針對目前投資環境所作的評估，根據內容判斷，下列哪一種工具最符合阿比的理財需求？

表(一)


理財工具	安全性	獲利性	說明
債券	★★★★	★★★	固定利息，轉讓方便
共同基金	★★★	★★	大小金額皆可投資
股票期貨	★★	★★★★	可選擇長短期投資
定期存款	★★★★	★★	可選擇長短期合約

註：★愈多代表安全性、獲利性愈高

- (A)債券
- (B)共同基金
- (C)股票期貨
- (D)定期存款



15. 圖(七)是連接都市和郊區的直線道路的部分路段。若當時是下班時間，請根據圖中景象判斷，都市和郊區的對應位置與當時的人潮流向最可能為下列哪一項？



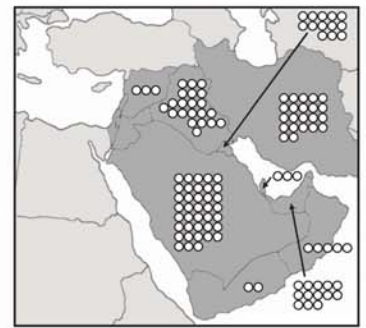
圖(七)



16. 「……目前阿爾卑斯山在海拔高度 1200 公尺的地方就有滑雪場，但是再過數十年，想滑雪的人就得爬到 1500 公尺以上的地方，才會有足夠的雪量滑雪。……」請問：這種情形可以用下列哪一項來解釋？

(A)板塊擠壓 (B)地層陷落 (C)全球暖化 (D)水土流失

17. 圖(八)為某區域最主要資源的分布圖，圖上符號○的個數代表其數量的多寡。請根據陸塊的形狀判斷，符號○最可能代表下列何種資源？



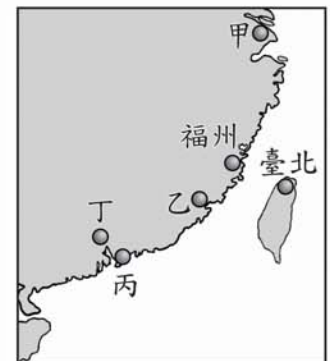
圖(八)

(A)煤  
(B)鐵  
(C)石油  
(D)森林

18. 瑪麗與先生經營的北岬咖啡店，位在歐洲最北端的海角。因為在特定的季節可以欣賞到「午夜的太陽」，許多觀光客會在此時慕名而來，使得店裡的生意有淡旺季的差異。請問：北岬咖啡店的經營旺季最可能是下列哪一個季節？

(A)春 (B)夏 (C)秋 (D)冬

19. 圖(九)是臺灣和中國大陸東南沿海的地理位置圖。香港位於珠江口，港口條件優良，腹地廣大，為著名的轉口港。請問：香港位於圖中的何處？



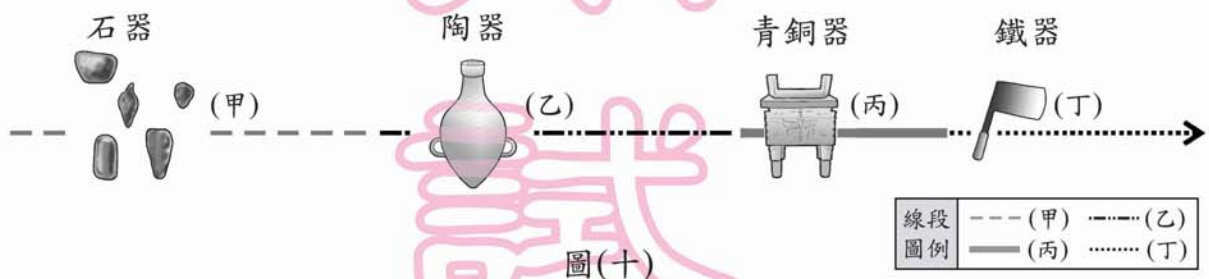
圖(九)

(A)甲  
(B)乙  
(C)丙  
(D)丁

20. 清朝統治後期，臺灣開始推動一些近代化建設；日治時期，進一步拓展了臺灣的建設規模，為日後經濟發展奠定基礎。下列何者是這兩個時期共同的建設項目？
- (A)改革幣制
  - (B)興築鐵路
  - (C)公共衛生
  - (D)人口普查

21. 唐太宗是中國歷史上著名的君主，不僅締造了輝煌的「貞觀之治」，也被當時的西北部族尊為「天可汗」。請問：唐太宗是因下列哪一項政績而得到「天可汗」這項尊稱？
- (A)降服邊疆強敵
  - (B)加強文化交流
  - (C)掌握海上霸權
  - (D)促進胡漢融合

22. 圖(十)是各種器物開始在人類生活中出現的過程：



對照歷史發展，圖中(乙)最可能是屬於下列哪一時代？

- (A)舊石器時代
  - (B)新石器時代
  - (C)商周時代
  - (D)戰國時代
23. 中古晚期，東西貿易日益頻繁，城市與中產階級逐漸興起，促成文藝復興運動。這些現象最早發生在歐洲的哪一個地方？
- (A)英國
  - (B)希臘
  - (C)西班牙
  - (D)義大利



24. 安寧療護是指對於患有不癒之症的病人，所採行的全人化照顧，其除了透過疼痛控制來減緩身體上的不適症狀外，並照顧到病患及家屬在社會和心靈上的需求。根據上述內容判斷，下列哪一項最符合安寧療護的精神？

- (A)群己關係
- (B)社會正義
- (C)差別待遇
- (D)尊重生命

25. 在我國各項公職人員選舉中，候選人的政見常因參選的公職不同而有所差異。表(二)是四位候選人提出的競選政見，請就政見內容判斷，這應該是哪一項公職人員的選舉？

表(二)

候選人	政見內容
甲	調降土地增值稅
乙	延長義務教育為十二年
丙	嚴格審查政府預算
丁	立即實施國民年金制度

- (A)村里長
- (B)縣(市)長
- (C)立法委員
- (D)縣(市)議員

26. 相較於政黨，利益團體所表達的意見是為了保障或增進特定群體的利益。請問：下列哪一項主張最有可能是利益團體所提出的訴求？

- (A)加強邦交國家的維繫
- (B)刪減政府人事的經費
- (C)提高工資與降低工時
- (D)提升國民年平均所得

27. 阿發是平平銀行的信用卡客戶，表(三)列出該銀行信用卡消費累積點數可兌換的商品，以及阿發對各項商品喜好程度的排序情形。請問：若阿發使用已累積的3000點兌換一輛變速腳踏車，根據內容判斷，他做此選擇的機會成本為何？

表(三)

所需點數	商品名稱	喜好之排序
3,000	電子辭典	3
3,000	運動手錶	2
3,000	遊戲光碟	4
3,000	變速腳踏車	1

- (A)電子辭典
- (B)運動手錶
- (C)遊戲光碟
- (D)變速腳踏車

28. 阿剛和小福因停車問題發生口角，小福動手毆打阿剛致使其手部骨折。請問：阿剛應採取下列哪一種途徑以維護自己的權益？

- (A)向地方政府提起訴願
- (B)向行政法院提起行政訴訟
- (C)向高等法院提起民事訴訟
- (D)向地方法院提起刑事訴訟

29. 圖(十一)為同學們上音樂課的情形，請問：歌詞所描述的內容是中國哪一民族的文化特性？

(A)藏族  
(B)回族  
(C)壯族  
(D)蒙古族



圖(十一)

30. 「這裡農民的主要收入在冬季，因為緯度的關係，當地在冬季比其他地區適合蔬菜、水果的栽培，加上這幾年因為臺商投資引進許多新品種，使得瓜果更具競爭力，大量的銷售到其他地區。」由以上敘述判斷，該地最可能位於何處？

(A)海南島  
(B)四川盆地  
(C)黃淮平原  
(D)長江三角洲

31. 小碩認為「氣候條件惡劣地區往往人口稀少」，為了支持自己的論點，他應該舉下列哪一個地區為例？


(A)東歐  
(B)西歐  
(C)南亞  
(D)北亞

32. 由沈葆楨、劉銘傳等人來臺建設的重點項目，反映出當時清朝治臺最主要的目的為何？

(A)墾殖移民增多，加強行政管理  
(B)提倡新式工業，增加賦稅收入  
(C)增強海防建設，鞏固東南海疆  
(D)推動儒學教育，落實文化建設

33. 十七世紀歐洲的「科學革命」改變了西方人的思考與生活方式，科學知識逐漸成為西方人努力追求的方向。這種對科學的重視與提倡，在下列哪一時期普遍地影響了中國的知識分子，並被大力宣揚？

(A)清末百日維新  
(B)民初新文化運動  
(C)北伐後黃金十年  
(D)中共文化大革命

 黃金十年  
= 十年建設  
= 艱苦建國的十年

34. 巴爾幹半島素來糾紛不斷，直至今日，已經獨立的塞爾維亞、克羅埃西亞等國仍常有衝突摩擦的狀況發生。造成這種情形的最主要原因是什麼？

(A)階級劃分明顯  
(B)種族宗教複雜  
(C)貧富差距懸殊  
(D)經濟恐慌衝擊



35. 楊堅創建的隋朝和趙匡胤創建的宋朝，在中國歷史發展上都同樣具有下列哪一項特徵？

- (A)採取重文輕武的政策
- (B)建立平民稱帝的典範
- (C)結束多國並立的局面
- (D)造成南北政權的對立

36. 民國 92 年修正施行的《刑事訴訟法》中，將原本由檢察官裁定是否羈押嫌犯的職權回歸法院；也明定被告有保持緘默的權利，以保障其人權。上述做法旨在確保《憲法》中的哪一項人民基本權利？

- (A)平等權
- (B)自由權
- (C)受益權
- (D)參政權

37. 下列是甲和乙兩人的對話——

甲：「最近這種水果很便宜，大概是因為今年沒有颱風侵襲，所以大豐收的緣故。」

乙：「我想應該是前兩年這種水果價格很不錯，所以吸引農民大量種植的結果。」

上述兩人對價格下跌原因的討論，最主要是考量到下列哪一項的變化？

- (A)生產成本
- (B)供給數量
- (C)交易媒介
- (D)銷售利潤

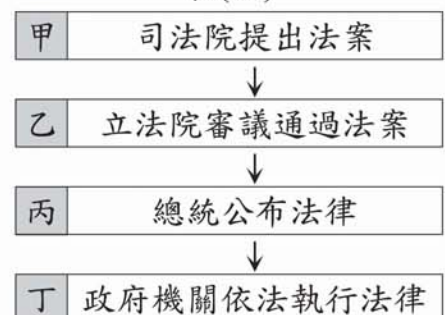
38. 新聞曾報導：「監察院有鑑於失業人口比率逐漸攀升，經調查研究後認為，政府辦理就業輔導業務事權不統一，職業訓練也欠缺完整體系，且無法符合就業市場的需要，行政院須切實檢討改進。」上述情況是屬於監察院對行政院所行使的哪一項職權？

- (A)糾正權
- (B)糾舉權
- (C)同意權
- (D)彈劾權

39. 表(四)是阿貿報告關於法律制定程序的部分內容，由於他過於緊張，所以在說明中出現一項錯誤。請協助班上同學判斷，其中哪一項不正確？

- (A)甲
- (B)乙
- (C)丙
- (D)丁

表(四)



40. 表(五)是臺灣1950年至1988年間，核准登記的媒體家數統計表。請問：促成1988年核准登記的報紙、通訊社等數量產生重大變化的主要原因為何？

表(五)

年度	報紙(種)	雜誌(種)	通訊社(家)	出版社(家)
1950	44	184	28	.....
1961	31	686	42	587
1971	31	1,534	43	1,395
1987	31	3,422	44	2,956
1988	126	3,708	126	3,191

- (A)政府鼓勵出版事業，以對抗中共的文化大革命  
 (B)異議人士批判政局，促成社會運動的風起雲湧  
 (C)知識分子關心社會，以行動捍衛言論出版自由  
 (D)政府宣布解除戒嚴，全面開放言論出版的自由
41. 圖(十二)是好鄰居菜市場平面圖。若依據攤位的分布與市場內人們可能的移動路線判斷，哪一個攤位經過的人潮可能最多？
- (A)甲  
 (B)乙  
 (C)丙  
 (D)丁
- 
- 圖(十二)
42. 佳佳到祕魯參觀古印加文化遺址，導遊說，原住民曾在此地建立輝煌的文化與帝國，但如今已不復存在。下列哪一項是導致當地古文化消失的直接原因？
- (A)熱帶雨林消失  
 (B)非洲黑奴輸入  
 (C)火山活動頻繁  
 (D)西班牙的侵略
43. 第一次世界大戰後，各國紛紛提高關稅，以保護本國貨品，或減少他國貨品賣到本國。此種作法導致國際間貨物無法暢通，造成工廠倒閉、失業人口大增。為避免上述情況再度發生，下列哪一個國際組織的運作最有助益？
- (A)聯合國  
 (B)國際紅十字會  
 (C)世界貿易組織  
 (D)亞太經濟合作會議




44. 臺灣是十七世紀漢人、日本人、荷蘭人、西班牙人等在東亞地區進行貿易的重要據點，當時臺灣會扮演這種角色的原因，主要是具備了下列哪一項優越的地理條件？
- (A)地形 (B)氣候  
(C)位置 (D)人口

45. 老師請同學就所蒐集的資料進行報告，圖(十三)是中逸整理出報紙的部分標題。根據內容判斷，他應是以下列何者為報告主題？

- 法郎貶值影響日圓價格
- 歐洲企業倒閉引發東亞金融風暴
- 蒙古草原沙塵暴，造成臺灣空氣汙染

圖(十三)

- (A)全球化 (B)區域性  
(C)永續發展 (D)國際分工
46. 老師在課堂上說：政府存在的目的是要為人民謀福利，因此，統治者在做決策時，應考慮大多數人的利益，而不是特定個人或群體的利益。下列哪一個例子最符合上述主張？
- (A)路易十四採行專制統治  
(B)亨利八世推行宗教改革  
(C)袁世凱籌畫恢復帝制  
(D)羅斯福推動「新政」
47. 「這位唐朝的大將軍奉旨從首都領軍出發後，就音訊全無，他的妻子難以維生，只得居住在首都附近的破舊洞穴中……。」請問：文中的洞穴最可能是下列何者？
- (A)浙江沿海的海水侵蝕洞穴  
(B)貴州石灰岩區的溶蝕洞穴  
(C)江西城鎮的廢棄燒瓷舊窯  
(D)陝西黃土區人工開鑿的洞穴
48. 圖(十四)是大開以圖畫方式，表示他對漁業資源枯竭的看法。根據圖中內容判斷，下列哪一項做法最有助於解決他所提出的問題？



圖(十四)

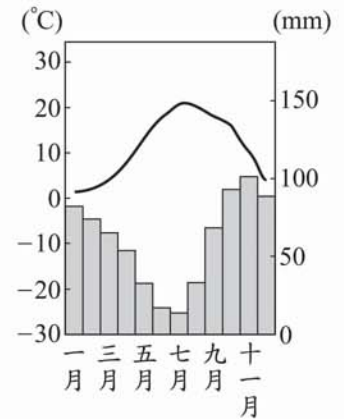
- (A)限制魚類品種的培育 (B)獎勵舉辦漁撈的競賽  
(C)鬆綁限捕的相關規定 (D)規範捕魚範圍及數量

49. 「巴西的森巴舞可說是南美洲多元文化的結晶，此種舞步除了在節慶中成為觀光的重點，也似乎被融入在當地的足球運動，其足球隊員踢球時，節奏明快、默契十足，猶如踏著熱情的森巴舞……」文中的南美洲多元文化與下列哪一族群的文化最沒有關係？

- (A)印地(第)安人 (B)阿拉伯人  
(C)非洲黑人 (D)拉丁人

50. 品儀為了替班上的歷史話劇設計冬季的服裝造型，她找了一份該地區現今的氣候資料參考，如圖(十五)所示。請問：該歷史劇的時空背景為下列何者？

- (A)印度孔雀王朝  
(B)德意志帝國  
(C)中國漢朝  
(D)羅馬帝國



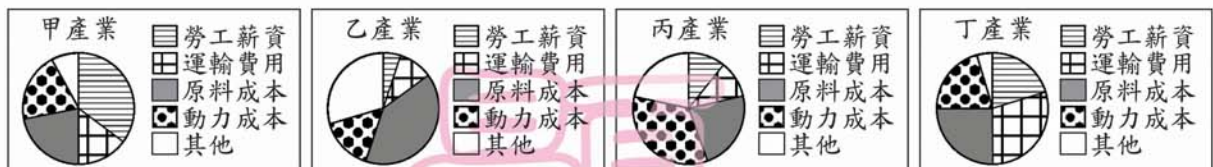
圖(十五)

51. 小穎暑假參加海外遊學團，在新生聚會上，同學們輪流介紹自己的國家，然而，下列哪一位同學介紹的內容與事實不符？

- (A)印度麗塔：「佛教文化起源於我的家鄉。」  
(B)美國凱文：「內閣制度最先出現在我的國家。」  
(C)印尼渥曼：「我的國家位在熱帶地區，氣候炎熱。」  
(D)法國艾薇：「我的家鄉位在歐洲西部，靠近大西洋。」

52. 臺灣勞工的法定工作時數，自民國 90 年元旦開始，已從每週工作 48 小時縮減為 42 小時。在其他條件不變下，這項改變對下列哪一種產業原先的生產成本影響最大？

- (A) (B) (C) (D)



53. 小紅在一場演講中聽到：「各族群間不要有強勢弱勢之分，應先由相互瞭解、欣賞，進而達到彼此尊重與學習的境地。當前應以文化分享替代族群分類，以文化交流取代族群融合，並以豐富多元觀點來確保少數族群文化的地位。」根據上述內容判斷，下列哪一種說法最符合講者的觀點？

- (A)降低各族群文化的差異有助於統治者管理  
(B)提倡多元文化可落實少數服從多數的原則  
(C)族群地位應以其所擁有的社會資源來衡量  
(D)族群融合易造成弱勢族群文化的沒落消失



54. 表(六)是臺閩地區人口統計的部分資料，根據內容判斷，為因應此種社會變遷趨勢，政府應推行下列哪一政策？

表(六)

項目	84年	87年	91年
總生育率(個)	1.78	1.47	1.34
0~14歲人口比率(%)	23.8	22.0	20.4
65歲以上人口比率(%)	7.6	8.3	9.0

- (A)重視優生保健，藉以提高人口素質  
(B)規範移民業務，加強協助外籍配偶  
(C)提高總生育率，促使人口合理成長  
(D)實施區域計畫，誘導人口均衡發展

二、題組：(55~61題)

閱讀下列選文，回答第55至57題：

馬芸從中國新疆嫁到臺灣。剛開始不太適應臺灣的生活習慣與氣候，於是先生鼓勵她參加市政府舉辦的「外籍及大陸新娘成長營」。參加期間她認識了從東南亞嫁過來的安妮，安妮的中文不好，所以表達上還是以她故鄉的語言英文為主，兩人總是比手畫腳，混雜著中、英文溝通，成為無所不談的好朋友。藉由這樣的活動，馬芸對臺灣的生活越來越適應。

55. 若依據馬芸故鄉的生活經驗，臺灣哪一種天氣現象會是她最不熟悉的？  
(A)乾旱  
(B)颱風  
(C)寒害  
(D)暴雨
56. 根據安妮使用的語言，判斷安妮故鄉曾經深受哪一個國家文化的影響？  
(A)美國  
(B)法國  
(C)俄羅斯  
(D)葡萄牙
57. 文中市政府所舉辦的活動，屬於下列哪一種工作範疇？  
(A)國防安全  
(B)教育文化  
(C)警政消防  
(D)公共建設

閱讀下列選文，回答第 58 至 59 題：

基因改造作物(GMO)是指利用基因轉殖技術生產的作物，具有抗蟲、抗病毒等特性，可以減少生產過程的損失，提高產量。雖然 GMO 種子的成本較傳統高，但可以減少噴藥、除蟲的工作，因此農民仍樂於種植。不過 GMO 在安全、經濟與生態環保等方面也引起爭議，例如是否對人體造成傷害、大量傾銷威脅各國精緻農業等，於是環保團體呼籲各國減少對 GMO 的依賴。目前消費者很難從外觀辨識 GMO 與一般作物的差異，所以在科學實驗尚未找到確切證據前，許多國家規定業者必須明確標示產品中含 GMO 成分的比例，藉以讓消費者自行選擇。

58. 依上述內容判斷，基因改造作物的優點，最主要可以降低下列哪一項成本？
- (A)人力資源
  - (B)機器設備
  - (C)交通運輸
  - (D)廣告行銷
59. 上述政府規定標示成分的做法，旨在促使業者負起下列哪一種責任？
- (A)研發新型產品
  - (B)減少社會成本
  - (C)善盡告知義務
  - (D)澄清消費觀念

閱讀下列選文，回答第 60 至 61 題：

民國二十年，日本軍隊炸毀日資興建的南滿鐵路一小段，然後指稱這是中國人所做的，以此為藉口，發兵攻占中國東北。南滿鐵路沿線分布許多重要礦產及城市，尤其南端有一城市，是東北地區對外出入的重要港口，自古即為兵家必爭之地，日本對其早有占領野心。

60. 上文是描述下列哪一事件的發生經過？
- (A)九一八事變
  - (B)盧溝橋事變
  - (C)「滿洲國」成立
  - (D)西安事變
61. 文中所指「南端有一城市」應是指下列何者？
- (A)大連
  - (B)長春
  - (C)瀋陽
  - (D)哈爾濱



盧溝橋事變 = 七七事變