

93 第二次國民中學學生基本學力測驗

社會科題本

請不要翻到次頁！

讀完本頁的說明，聽從監試委員的指示才開始作答！

請先確認你的答案卡、准考證與座位號碼是否一致無誤。

請閱讀以下測驗作答說明：

測驗說明：

這是國民中學學生基本學力測驗社會科題本，題本採雙面印刷，共 13 頁，有 63 題選擇題，每題都只有一個正確或最佳的答案。測驗時間從 10:50 到 12:00，共 70 分鐘。作答開始與結束請聽從監試委員的指示。

注意事項：

1. 所有試題均為四選一的選擇題，答錯不倒扣。
2. 試題中所附圖形，如有附上比例尺，以比例尺為依據作答；若無比例尺，則該圖僅作為參考，不代表實際大小。
3. 可利用題本中空白部分計算，切勿在答案卡上計算。
4. 依試場規則第七條規定：「答案卡上不得書寫姓名座號，也不得做任何標記。故意污損答案卡、損壞試題本，或在答案卡上顯示自己身分者，該科測驗不予計分。」

作答方式：

請依照題意從四個選項中選出一個正確或最佳的答案，並用 2B 鉛筆在答案卡上相應的位置畫記，請務必將選項塗黑、塗滿。如果需要修改答案，請使用橡皮擦擦拭乾淨，重新塗黑答案。例如答案為 B，則將 B 選項塗黑、塗滿，即：A ● C D

以下為錯誤的畫記方式，可能導致電腦無法正確判讀。如：

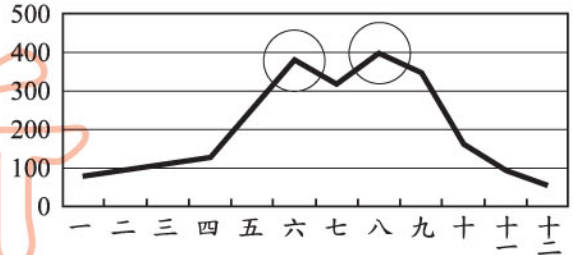
- A ● B C D 未將選項塗滿
- A B C D 未將選項塗黑
- A ● C D 未擦拭乾淨
- A ● B C D 塗出選項外
- A ● ● D 同時塗兩個選項

請聽到鈴（鐘）聲響後才翻頁作答

1. 圖(一)是臺灣月平均降雨量資料。圖中兩次高峰期的形成，分別與下列何種降雨類型關係最密切？

- (A)梅雨、颱風雨
(B)梅雨、地形雨
(C)颱風雨、地形雨
(D)地形雨、颱風雨

降雨量(mm)



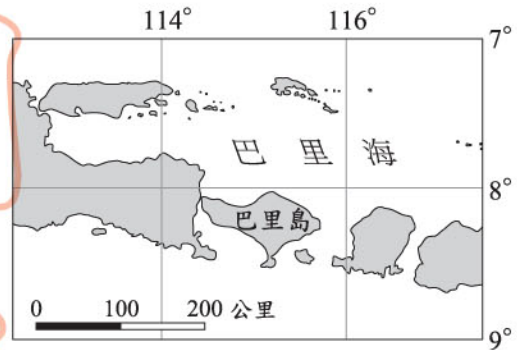
圖(一) 時間(月)

2. 上海、武漢、重慶是中國華中地區著名的大都市，這三個都市的興起與發展，具有下列何種共同條件？

- (A)地勢低平
(B)夏涼冬暖
(C)礦產豐富
(D)交通便利

3. 圖(二)是巴里島的地圖資料。請問：從這張地圖中，無法得到哪一種資料？

- (A)距離
(B)面積
(C)高度
(D)位置



圖(二)

4. 「在湖畔的小木屋內享受高溫蒸氣，以樹枝輕輕拍打並按摩身體，然後跑出屋外躍入湖中，利用湖水冷冽的特性收縮肌膚。」請問：這種沐浴方式所需要的自然條件，在下列哪一個國家最常見？

- (A)法國
(B)芬蘭
(C)希臘
(D)義大利

5. 下列為四種不同的工作型態。請問：哪一種工作屬於第二級產業？

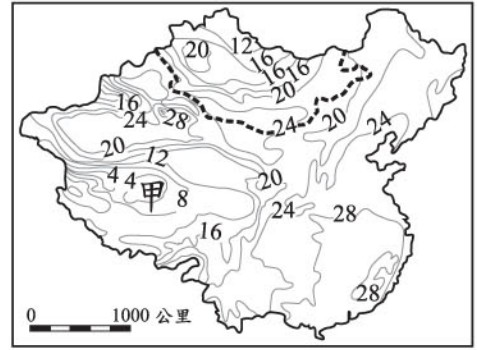
- (A) (B) (C) (D)



6. 阿裕要寫一篇臺灣史報告，他主要以《熱蘭遮城日記》、聯合東印度公司檔案等史料做為參考依據。依此判斷，他寫的是臺灣哪一時期的歷史？
- (A)荷蘭統治時期
 - (B)清領時代前期
 - (C)清領時代後期
 - (D)日本殖民統治時期
7. 佳芬在某寺廟中看到一塊「道光」賜頒的匾額，以及刻有「日本大正」字樣的石柱。請問：「道光」、「大正」有何共同之處？
- (A)都是早期地名
 - (B)都是古代官名
 - (C)都是帝王年號
 - (D)都是官員名諱
8. 艾華和同學討論研究心理狀態的方法，他認為：夢可以作為認識人類潛意識的途徑之一。這個看法是源自下列何人的理論？
- (A)愛因斯坦
 - (B)佛洛伊德
 - (C)居禮夫人
 - (D)史坦貝克
9. 中央政府遷臺以來，我國在外交上的處境日益艱難，尤其是下列哪一事件的發生，使臺灣的國際地位更形孤立，政府改採彈性外交政策？
- (A)退出聯合國
 - (B)八二三炮戰
 - (C)二二八事件
 - (D)解除《戒嚴令》
10. 安姆是位武士，平日信奉婆羅門教，相信輪迴、聽從祭司的指示，他的身分從出生那一刻便被決定了。依此判斷，安姆所處的社會實行下列哪一種制度？
- (A)禪讓制度
 - (B)天皇制度
 - (C)種姓制度
 - (D)宗法制度
11. 小禎說：「第二次世界大戰中，美國的參戰是反侵略陣營致勝的關鍵。」小凱問：「為什麼美國會宣戰？」小禎應怎樣回答才符合史實？
- (A)為了維持國際均勢
 - (B)因為英國積極求援
 - (C)美國領土受到攻擊
 - (D)因為物資遭受掠奪

12. 政府多次修訂《老人福利法》，希望透過國家立法的方式，增進與維護老人的權益，讓老人安養的問題不再被視為家務事。請問：上述政府的做法，旨在達成下列哪一種目的？
- (A)促進老人福利制度化
(B)強制獨居老人的安置
(C)降低老人福利的支出
(D)免除親屬的撫養責任
13. 目前各國都致力於促成「多元文化社會」，也就是一個以機會均等為原則，並實踐自由、民主與正義的社會。請問：下列何種做法最有助於多元文化社會的形成？
- (A)評定不同族群文化之間的優劣等級
(B)規定各族群擔任民意代表人數相同
(C)避免文化交流以確保弱勢族群文化
(D)尊重個人選擇族群文化歸屬的自由
14. 早期制定的《民法》親屬編中，部分條文受「父權優先於母權」的傳統觀念影響，如子女監護權的歸屬等，形成對女性的不公平待遇。有鑑於此，在婦女團體的努力下，立法院已完成相關條文的修訂工作。請問：上述現象是屬於何種層面的社會變遷？
- (A)器物生活、社會制度
(B)器物生活、價值觀念
(C)價值觀念、社會制度
(D)物質文明、價值觀念
15. 面對經濟衰退，各企業紛紛尋求因應之道。表(一)是阿如家人工作的公司行號所採行的方法。請問：這三家業者所採取的是下列哪一種策略？
- | 公司行號 | 採行的方法 |
|------|----------|
| 甲工廠 | 裁撤部分員工 |
| 乙公司 | 減少員工加班時間 |
| 丙商店 | 暫停各項廣告活動 |
- (A)降低生產成本
(B)增加生產數量
(C)提高單位利潤
(D)調降產品價格
16. 縣政府工務局的違建拆除大隊，因看錯地址而誤拆了阿足孀的房屋，嚴重侵害她的權益。請問：此時阿足孀可以尋求下列哪一種途徑進行權利救濟？
- (A)向地方法院提起刑事訴訟
(B)向地方政府請求國家賠償
(C)請求檢察官起訴拆除人員
(D)請求監察院彈劾該縣縣長

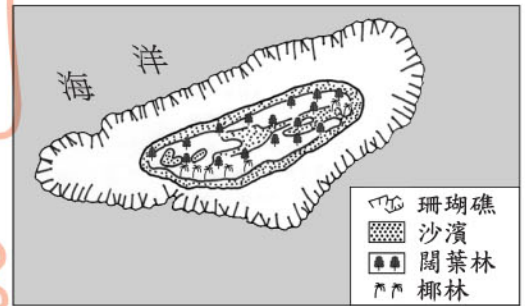
17. 圖(三)為中國大陸夏季氣溫分布圖。請問：造成甲地區低溫現象的主要原因為何？
- (A)緯度高
(B)季風強
(C)地勢高
(D)距海遠



圖(三)

18. 「孫悟空及其師弟們，保護唐三藏前往天竺取經，途中土地公警告他們，會有妖怪從正北方襲擊，……。」請問：孫悟空一行人在向正西方前進的途中，最應加強哪一個方向的戒備？
- (A)前方
(B)後方
(C)左方
(D)右方

19. 圖(四)是某一島嶼的自然景觀圖。請根據圖例資料判斷，這個島嶼最可能出現在中國大陸的哪一個區域？

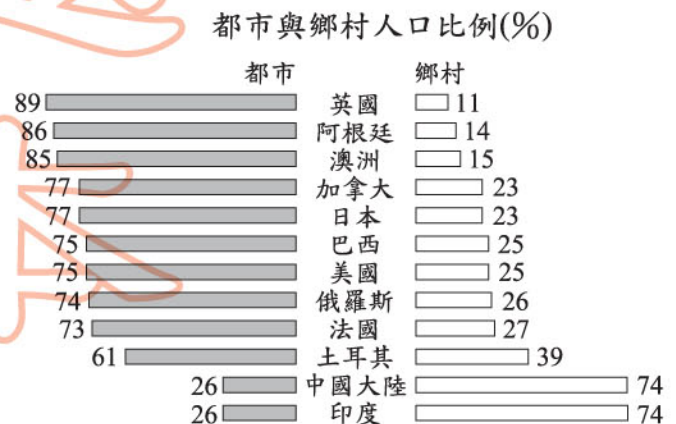


圖(四)

20. 「駱駝在這個地區的數量頗多，且非常適應當地的氣候。一般人都用馬來賽跑，這裡卻用駱駝來賽跑，因為當駱駝奔馳在乾燥的大地時，一點也不會覺得牠笨重。」請問：這個地區最可能位於下列哪一個國家？
- (A)伊朗
(B)尼泊爾
(C)菲律賓
(D)馬來西亞

21. 圖(五)為西元1995年數個國家的都市與鄉村人口比例資料。請問：圖中印度和中國大陸的都市化程度高低，與下列哪一項最有關係？

- (A)就業人口以農牧業為主
(B)經濟落後，人口大量外移
(C)季風顯著，人口聚集沿海地區
(D)地形平坦，人口集中平原地區



圖(五)

22. 有學者指出：「十八世紀至今，二百多年間人類製造的東西，比十八世紀以前幾十萬年中製造的東西多得多。」這種現象的形成，主要是受下列何者的影響？
- (A)地理大發現
 - (B)宗教改革
 - (C)科學革命
 - (D)工業革命

23. 圖(六)是清康熙年間由西洋傳教士繪製的臺灣地圖。此圖只繪製臺灣西半部，反映出當時清廷治臺的何種政策？
- (A)禁絕漢人渡臺，防止臺灣成為反清基地
 - (B)施行劃界封山，禁止漢人入侵原住民區
 - (C)開港通商，設定西半部為對外貿易據點
 - (D)加強建設西半部，使該地成為海防重鎮



圖(六)

24. 民國初年新文化運動期間，許多知識分子主張全盤西化以拯救中國，這種主張的基本精神為何？
- (A)以儒家思想為指導，酌量採用西方體制與科技
 - (B)改革舊有專制政治，提倡君主立憲實施國會民主
 - (C)推翻舊倫理和舊道德，效法西方的民主與科學精神
 - (D)廣泛閱讀西方文學著作，飲食起居全面採西式作風
25. 老師要同學們輪流上臺介紹中國古代的科學發展，阿僑想以兩漢時期的科學家為題材，他應選擇下列哪一組人物？
- (A)沈括、畢昇
 - (B)張衡、蔡倫
 - (C)司馬遷、班固
 - (D)李時珍、宋應星
26. 民國初年，袁世凱推動的「洪憲帝制」與張勳推動的「復辟事件」最後皆歸失敗。這種結果顯現出下列何種意義？
- (A)民族主義深入人心
 - (B)軍閥政治逐漸衰微
 - (C)民主思想日漸普及
 - (D)國民革命成功落實

27. 由於現代社會易造成人與人之間的疏離，政府乃自民國八十年代後，積極推動「社區總體營造」運動，透過居民對社區公共事務的關心及參與，強化其對於生活區域的認同，並使社區得以永續發展。請問：上述做法，主要是希望藉由下列哪一種方式來建立新的地緣關係？

- (A)加速地區產業升級
- (B)促進城鄉均衡發展
- (C)推動社區的現代化
- (D)凝聚居民共同意識

28. 表(二)是八十年代前後臺灣所出現的部分社會運動，根據內容判斷，下列哪一項為表中四種社會運動所共同具有的特性？

- (A)以獲取社會資源為最終目標
- (B)以促進社會民主發展為目的
- (C)以爭取社會公平正義為訴求
- (D)均採用暴力抗爭活動為手段

表(二)

興起時間	社會運動
1982	女權運動
1987	農民運動
1990	車禍受難者救援運動
1992	雛妓救援與終止運動

29. 近年來，自然景觀休閒遊憩「遊客總量管制」的觀念漸受重視，亦即在不破壞自然環境的前提下，評估該景觀可以承受的限度來安排遊客人數，如福山植物園便是採行事先申請、限額入園的做法。請問：上述內容最能顯示下列何種意涵？

- (A)土地過度使用超過負荷
- (B)珍惜資源以求永續經營
- (C)國土使用規畫日漸完備
- (D)週休二日休閒模式改變

30. 小碩向阿明經營的地下錢莊借錢，由於借款的利息太高，致使小碩負債累累無法償還。其後，小碩又被阿明打成重傷，因而報警處理。請問：依法阿明最可能受到何種處罰？

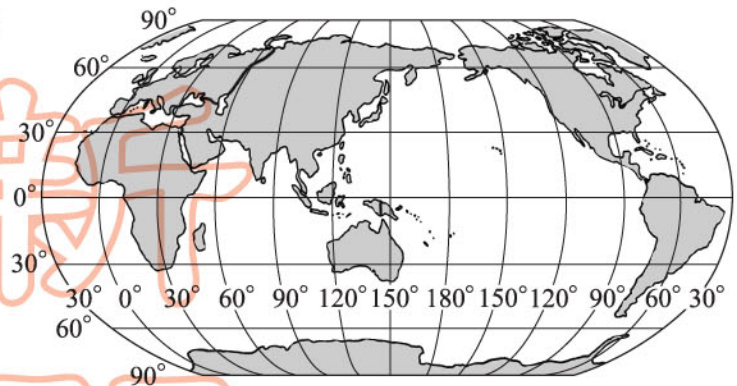
- (A)處以罰鍰
- (B)交付保護管束
- (C)判處有期徒刑
- (D)遭到糾舉彈劾

31. 政府在研擬某項政策之前多會舉辦公聽會，廣納各方的意見；政策草案完成後，尚須經議會決議通過才能公布施行。請問：上述做法可以表現出民主政治中的哪些內涵？

- (A)民意政治、法治政治
- (B)法治政治、責任政治
- (C)責任政治、政黨政治
- (D)政黨政治、民意政治

32. 阿元駕著一架飛機，沿 30°S 飛行。若依據圖(七)的陸塊分布，他會經過下列哪些地區？

- (A) 北美洲、南極洲
(B) 非洲、澳洲、南美洲
(C) 非洲、亞洲、北美洲
(D) 歐洲、亞洲、非洲、南極洲



圖(七)

33. 中國詩詞中「滾滾長江東逝水」、「恰似一江春水向東流」皆說明河水向東方流動的情形。請問：造成這種現象的主要原因為何？

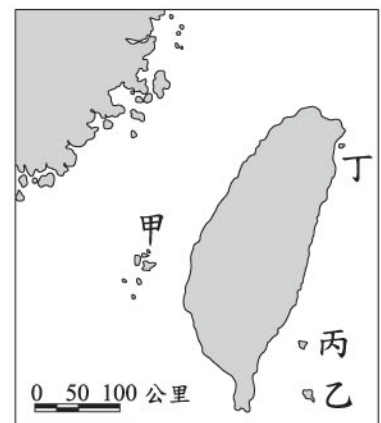
- (A) 東部緯度較低
(B) 西部雨量較少
(C) 東部運河較密
(D) 西部地勢較高

34. 「有了各項完善的公共建設，居民可以就近上學、就業、購物及休閒，不必到大都市也能享受現代化的生活品質。」請問：這是下列哪一項規畫的主要目標？

- (A) 永續發展
(B) 計畫經濟
(C) 國家公園
(D) 地方生活圈

35. 「這綠島像一隻船，在月夜裡搖呀搖，……。」請問：歌曲中所描述的島嶼位於圖(八)中何處？

- (A) 甲
(B) 乙
(C) 丙
(D) 丁



圖(八)

36. 巴拿馬運河完成於西元 1914 年，全長約八十二公里，因為它縮短許多國家東西岸的海上運輸里程，可說是溝通兩大洋間的海上捷徑。請問：下列哪一個國家縮短的里程最多？

- (A) 巴西
(B) 美國
(C) 智利
(D) 俄羅斯

37. 日本治臺初期，臺民不斷發起武裝抗爭活動，拒絕接受日本統治；到一九二一年代起，漸漸轉變為社會運動，以較溫和的手段向日本政府提出臺人的訴求。請問：下列何者是當時最主要的訴求？

- (A)改善衛生
- (B)整頓治安
- (C)改革政治
- (D)普及教育

38. 隋唐文化影響亞洲各國，其中新羅對大唐文化的學習尤其徹底，曾全力模仿中國的文字、曆法、儒學等。若我們想尋訪新羅與大唐文化的傳承關係，應到現今何處？

- (A)朝鮮半島
- (B)琉球群島
- (C)中南半島
- (D)印度半島

39. 「 某年冬天，李鴻章與英國軍官戈登的洋槍隊攻下蘇州；次年春天，左宗棠與法軍攻陷杭州。六月四日天王自盡，七月十九日南京城牆被火藥轟塌，守城士兵與湘軍進行巷戰。」上文應是描寫下列哪一場戰爭？

- (A)太平軍之役
- (B)鴉片戰爭
- (C)英法聯軍
- (D)八國聯軍

40. 下列是中國大陸某遺址中出土器物上的文字，由其型態來看已非原始的文字畫。請問：這些文字應是出自哪一遺址？



(車)



(史)



(大舟)



(雨)

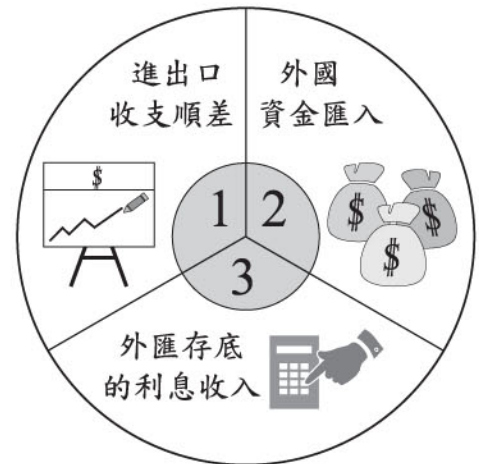
- (A)半坡村
- (B)河姆渡
- (C)二里頭
- (D)安陽 殷墟

41. 西元前 2500 年左右，有一位商人旅行到埃及尼羅河下游的孟斐斯，他在這個城市中最可能看到下列何種景象？

- (A)人們不時接獲官員徵召去興建大型國王陵墓
- (B)許多男性公民趕赴廣場參與公共事務的討論
- (C)人們將交易往來紀錄用楔形文字刻在泥版上
- (D)有人熱忱傳播《聖經》，宣揚信上帝可得永生

42. 近年來，中央健康保險局積極向民眾宣導「小病在小診所就診，大病到大醫院就醫」的觀念，並配合轉診措施的推展，以落實醫療分級制度。請問：上述做法最主要是希望達到下列何種目的？
- (A)降低部分負擔
(B)強化社區保健
(C)善用醫療資源
(D)實施醫藥分業

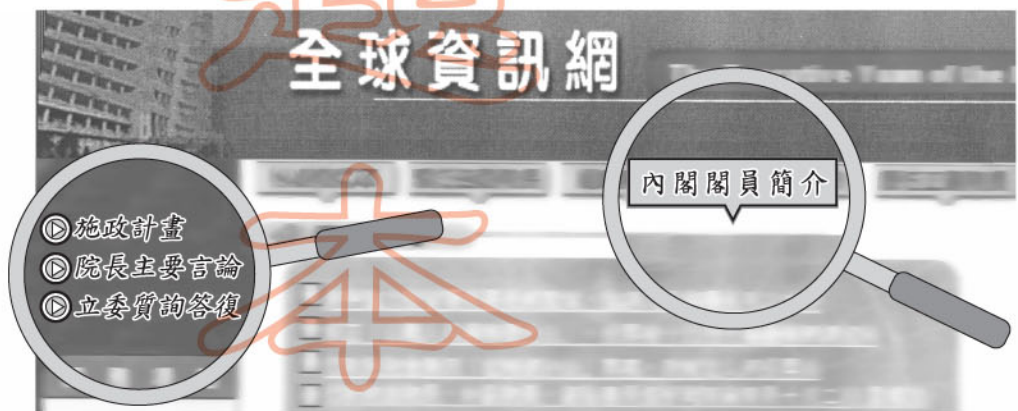
43. 每個國家為了跟他國交易，都會準備一些國際上可以接受的外幣，這就是外匯；而一個國家保有的外匯數量，就是該國的外匯存底。圖(九)是常見累積外匯存底的三種途徑。請問：外匯存底的累積與下列哪一項的關係最密切？
- (A)勞動參與
(B)國民儲蓄
(C)國際貿易
(D)薪資所得



圖(九)

44. 小球與同學聊天時提到：「我所屬的族群約占臺灣人口的六分之一，先民來臺開墾時，多在較偏僻的丘陵和山區，也因此培養出刻苦耐勞的儉樸精神。過去由於生活困苦，男性常離鄉背井四處打工，所以女性不但料理家務，也下田耕種，工作時喜歡哼唱山歌則是我們的特色之一。」根據上述內容判斷，他最可能屬於哪一族群？
- (A)外省人 (B)客家人 (C)原住民 (D)閩南人

45. 小易在撰寫主題為「我國中央政府的組織及其職權」的研究報告，圖(十)是她使用電腦網路蒐集資料時所進入的一個網站，根據內容判斷，此網頁最可能是下列哪一個中央政府組織的全球資訊網？
- (A)總統府
(B)行政院
(C)立法院
(D)監察院

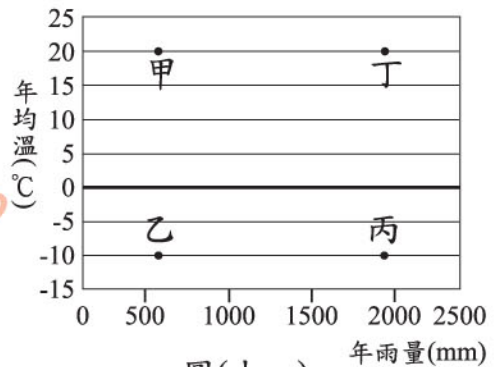


圖(十)

請翻頁繼續作答

46. 地下水的蒸發常造成鹽類沉積在地表，使土壤呈現鹽鹼化的現象。請問：這種現象最可能出現在圖(十一)的哪一種氣候環境？

(A)甲
(B)乙
(C)丙
(D)丁



圖(十一)

47. 「……而我們總是要一唱再唱，想著草原千里閃著金光；……想著黃河岸啊陰山旁；英雄騎馬壯，騎馬榮歸……。」請問：文中描述的地區，年雨量的範圍最可能為下列何者？

(A)大於 750 公釐
(B)介於 500 至 750 公釐
(C)介於 250 至 500 公釐
(D)小於 250 公釐

48. 圖(十二)是某民宅室內設置「炕」的情形。「炕」是把灶中的餘熱導引到通鋪下面，通鋪上的溫度可使屋內較為溫暖。請問：類似這種「炕」的設置，最常在下列哪一個地區出現？

(A)廣州
(B)上海
(C)重慶
(D)西安



圖(十二)

49. 「……這裡夏短冬長，土壤的色澤黑潤，具有良好的保水、保肥性，人稱『土中之王』。根據專家的說法，這裡的腐植質是河水從鄰區搬運過來累積的。」文中所描述的地方，最可能位於下列哪一個平原？

(A)黃淮平原
(B)寧夏平原
(C)成都平原
(D)三江平原

50. 重商主義的時代，歐洲國家常利用熱帶地區的環境和廉價勞力，從事大規模的栽培業獲取利潤。若依據航海的距離考量，他們會最先到下列哪一個地區投資生產？

(A)中美
(B)西非
(C)東南亞
(D)印度半島

新
聞
題
庫

51. 唐朝劉禹錫詩：「朱雀橋邊野草花，烏衣巷口夕陽斜，舊時王謝堂前燕，飛入尋常百姓家。」請問：類似王、謝這些世家大族的沒落，除與政治上的動亂有關外，亦與下列哪一項制度的廢除有關？
- (A)封建制度
 - (B)孝廉選官
 - (C)九品官人法
 - (D)科舉制度
52. 明初，鎮守北京的燕王打著「清帝側之奸，靖帝室之難」的口號起兵南下，攻陷南京自立為帝。此事件是因燕王不滿明惠帝實施哪一政策而引發？
- (A)屠殺功臣
 - (B)推行削藩
 - (C)嚴懲貪汙
 - (D)興文字獄
53. 艾略克是位虔誠的信徒，他一生勤儉，相信人能否得救早已由上帝預先選定，自己所能做的只是努力工作，以現世成就來榮耀上帝。依此推論，他最可能是下列哪一教派的信徒？
- (A)路德教派
 - (B)喀爾文教派
 - (C)英國國教派
 - (D)天主教耶穌會
54. 薇薇近日要繳交一份有關清代對外戰爭的報告，她蒐集的資料內容有：
- (一) 戰爭發生在十九世紀末期
 - (二) 清廷為了維護藩屬宗主權而戰
 - (三) 劉銘傳率軍來臺抵禦外敵入侵
- 由以上資料，我們可以推論薇薇的報告應是寫下列哪一場戰爭？
- (A)鴉片戰爭
 - (B)英法聯軍
 - (C)中法戰爭
 - (D)甲午戰爭
55. 亞歷山大稱霸希臘半島後，率兵征服波斯、埃及等地，建立起橫跨歐、亞、非三洲的大帝國，並致力促進各地文化融合，締造出歷史上著名的「希臘化時代」。這個時代的代表精神為何？
- (A)世界一家
 - (B)民主思想
 - (C)城邦意識
 - (D)種族歧視

新

題

冊

試

題

本

56. 政府為推動政治民主化而定期舉辦各項選舉，在某次公職人員選舉開票後，確知王勝利為甲選區中八位當選人的第一高票。依我國現行法律規定判斷，此次王勝利所當選的應是下列哪一種公職人員？
- (A)立法委員
(B)監察委員
(C)省諮議會議員
(D)國民大會代表
57. 俗諺說：「上帝是公平的，每人的一天都只有二十四小時。」對於這句話，班上四位同學分別以經濟學的觀點提出不同的見解。請問：下列哪一位的說法最正確？
- (A)阿櫻：「時間是屬於三大類生產要素中可再生的自然資源。」
(B)阿木：「因時間有限，所以我們要做機會成本最低的選擇。」
(C)小川：「如付出相同的時間，每人所得到的報酬也應相同。」
(D)大月：「時間有限的情況下必須有所選擇，稱為需求法則。」
58. 為了有效集結社會資源，統籌分配給需要的社會團體，中華社會福利聯合勸募協會於民國 81 年立案，成為專責募款的全國性非營利組織。由此可知，該協會主要是屬於何種取向的團體？
- (A)工作取向
(B)休閒取向
(C)興趣取向
(D)關係取向
59. 公共電視臺開播以來，希望以多元化的節目來滿足不同族群的需求，提供各種社會團體公平參與和表達意見的空間，並善盡媒體監督政府的責任。請問：公共電視臺的開播，有助於維護人民的哪一種權利？
- (A)受益權
(B)隱私權
(C)智慧財產權
(D)媒體接近使用權
60. 表(三)是近年來卡迪國的消費物價指數統計表，該指數反映人民的生活成本，也就是人民購買某物品所需支付的貨幣多寡。根據表中內容判斷，下列哪一項敘述最能說明該國的經濟現象？
- (A)人民貧富差距日益擴大
(B)民生消費行為漸趨活絡
(C)國民平均所得成長快速
(D)通貨膨脹幅度逐漸增加

表(三)

年 度	消費物價指數
2000	100
2001	110
2002	130
2003	165

61. 《世界人權宣言》提到：每個人都有權要求法院經過公正、公開的審訊過程，才能判定他的權利、義務及任何對他提出的刑事告訴。請問：上述人權宣言與我國《憲法》保障哪一項人民基本權利的意涵相同？

- (A)參政權
- (B)訴訟權
- (C)訴願權
- (D)請願權

62. 表(四)是近年來我國政府賦稅收入結構比率的統計表，根據表中內容判斷，下列哪一項說法最正確？

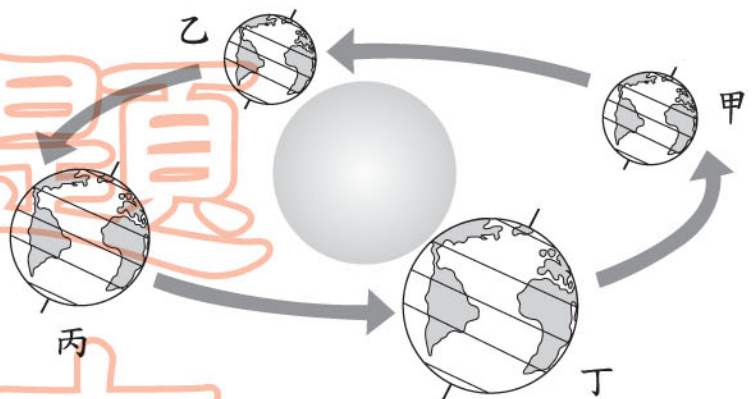
表(四)

項 目	85 年	86 年	87 年	88 年	89 年	90 年
所得稅	28.7	27.8	28.5	31.9	31.6	38.1
關 稅	8.7	8.1	8.2	7.6	8.1	7.4
貨物稅	12.9	11.5	10.8	10.7	11.4	10.6
營業稅	18.1	17.6	17.5	18.6	16.8	16.2
土地稅	13.2	13.8	12.4	10.9	11.2	7.4
公賣利益	4.7	4.6	4.1	4.1	4.0	4.6
其他稅捐	13.7	16.6	18.5	16.2	16.9	15.8

- (A)公營企業民營化，公賣利益比率嚴重縮減
- (B)以市場銷售為課稅對象的稅賦占比率最低
- (C)因加入國際組織，關稅收入比率大幅降低
- (D)依負擔能力課稅項目，其比率呈增加趨勢

63. 圖(十三)為地球公轉示意圖。在甲的位置時，北極圈內是永夜；在丙的位置時，北極圈內是永晝。請問：當地球在乙的位置時，臺灣的季節為何？

- (A)春
- (B)夏
- (C)秋
- (D)冬



圖(十三)