

93 第一次國民中學學生基本學力測驗

社會科題本

請不要翻到次頁！

讀完本頁的說明，聽從監試委員的指示才開始作答！

※請先確認你的答案卡、准考證與座位號碼是否一致無誤。

請閱讀以下測驗作答說明：

測驗說明：

這是國民中學學生基本學力測驗社會科題本，題本採雙面印刷，共 13 頁，有 63 題選擇題，每題都只有一個正確或最佳的答案。測驗時間從 10:50 到 12:00，共 70 分鐘。作答開始與結束請聽從監試委員的指示。

注意事項：

1. 所有試題均為四選一的選擇題，答錯不倒扣。
2. 試題中所附圖形，如有附上比例尺，以比例尺為依據作答；若無比例尺，則該圖僅作為參考，不代表實際大小。
3. 可利用題本中空白部分計算，切勿在答案卡上計算。
4. 依試場規則第七條規定：「答案卡上不得書寫姓名座號，也不得做任何標誌。故意污損答案卡、損壞試題本，或在答案卡上顯示自己身分者，該科測驗不予計分。」

作答方式：

請依照題意從四個選項中選出一個正確或最佳的答案，並用 2B 鉛筆在答案卡上相應的位置畫記，請務必將選項塗黑、塗滿。如果需要修改答案，請使用橡皮擦擦拭乾淨，重新塗黑答案。例如答案為 B，則將 B 選項塗黑、塗滿，即：A ● C D

以下為錯誤的畫記方式，可能導致電腦無法正確判讀。如：

- A ● B ○ C ○ D — 未將選項塗滿
- A ○ B ○ C ○ D — 未將選項塗黑
- A ●● C ○ D — 未擦拭乾淨
- A ● B ○ C ○ D — 塗出選項外
- A ●●● D — 同時塗兩個選項

請聽到鈴（鐘）聲響後才翻頁作答

1. 爸爸開車載著柯南來到某一城市，柯南發現市區的街道相當平坦，但是不管往哪一方向觀看，周圍都有較高的山地圍繞。依此判斷，該城市最可能位於哪一種地形區？
- (A)平原
(B)丘陵
(C)盆地
(D)台地

2. 圖(一)為二十一世紀初的熱賣商品預測表。請問：臺灣的工業應朝哪一個方向發展，才能提升產業競爭力？
- (A)勞力密集工業
(B)原料密集工業
(C)動力密集工業
(D)技術密集工業

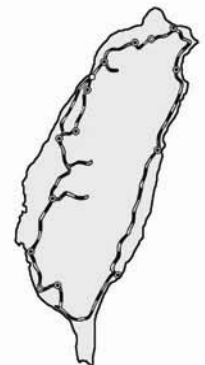
排行	商品名稱
1.	次世代行動電話
2.	數位電視
3.	Eco car (低公害車)
4.	PDA (個人數位助理器)
5.	液晶電視

資料來源:日經週刊 (12/11/2000)

圖(一)

3. 西元2002年的資料顯示，中國大陸的新生兒性別比例是116.9，高居亞洲各國之首。請問：此項資料可以顯示下列哪一項事實？
- (A)男性新生兒數量較多
(B)女性新生兒數量較多
(C)男性平均壽命較長
(D)女性平均壽命較長

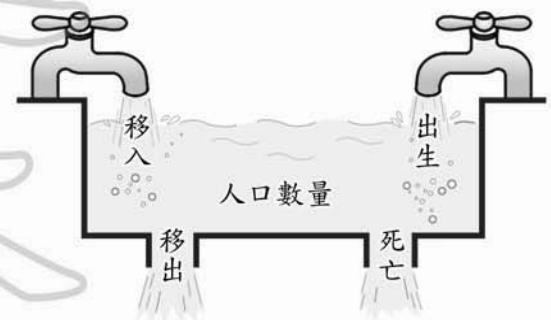
4. 圖(二)為臺灣鐵路分布圖。圖中路線分布的形狀和下列何者最有關係？
- (A)河川流向
(B)山脈走向
(C)雨量分布
(D)資源多寡



圖(二)

5. 彩華和家人參加「賞鯨之旅」，其所搭乘的船由宜蘭烏石港出發，一路東行尋找鯨豚的蹤跡。請問：他們賞鯨的海域最可能是下列哪一處？
- (A)東海 (B)太平洋 (C)臺灣海峽 (D)巴士海峽

6. 如果用圖(三)水池裡進水與出水的情形，來比喻一個地區人口數量的變化，下列敘述哪一項最正確？
- (A)人口成長只受到進水量的影響
(B)人口增加表示排水量大於進水量
(C)人口減少表示進水量大於排水量
(D)人口總數不變表示進水量等於排水量



圖(三)

請翻頁繼續作答

7. 安安要以郭懷一、朱一貴、林爽文等人為對象寫一篇報告，這份報告最可能在探討下列哪一主題？

- (A)科舉選才的機會不均
- (B)民間百姓的反抗事件
- (C)行會組織的貿易衝突
- (D)地方官紳的改革運動

8. 有位歐洲人曾說：「君主是上帝在世上活生生的形象。」又說：「君主不只是上帝在世上的助手，……而且連上帝也稱他們為上帝。」這些言論最接近下列哪一觀念？

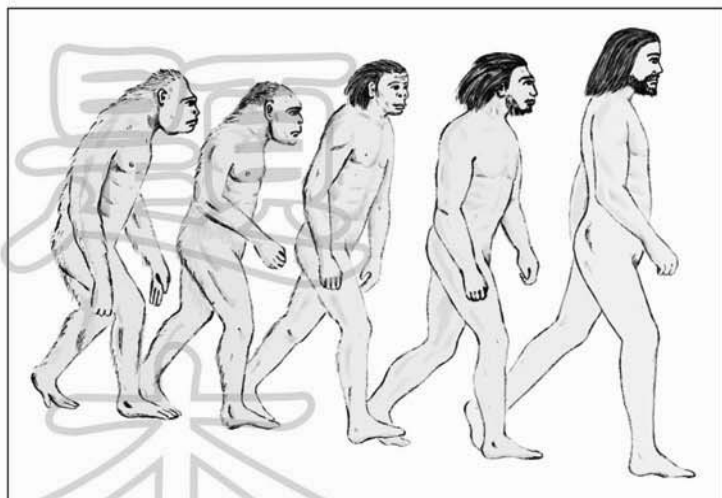
- (A)人文主義
- (B)君權神授
- (C)天賦人權
- (D)民主政治

9. 唐代玄奘對佛教中國化的貢獻極大，最主要是因他有下列何種重要作為？

- (A)廣建佛寺
- (B)首創佛教宗派
- (C)有系統地翻譯佛經
- (D)新闢西行取經的捷徑

10. 圖(四)是一幅人類演變想像圖，它應是根據下列哪一位學者的理論繪製而成？

- (A)哈維
- (B)達爾文
- (C)佛洛伊德
- (D)愛因斯坦

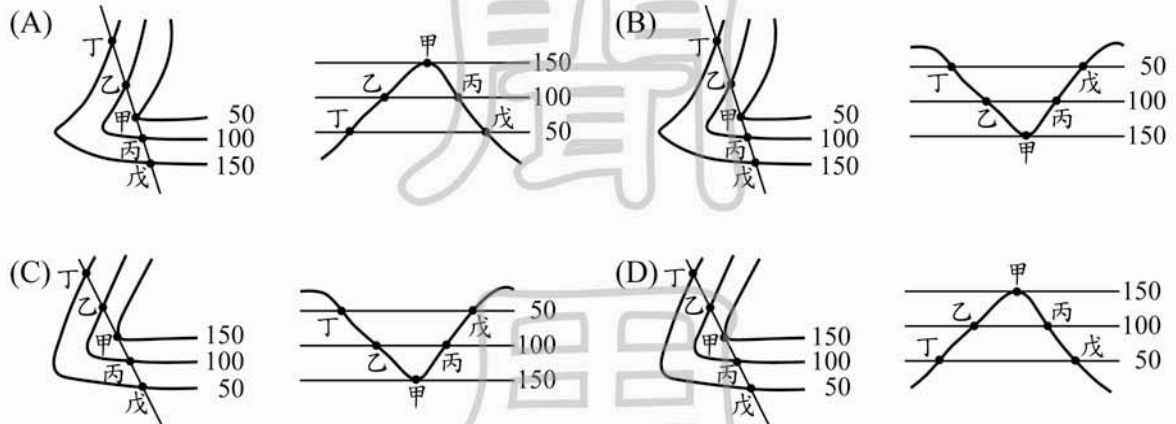


圖(四)

11. 公園裡，兩位運動中的老人家談到——
阿金孀：「聽說開餐廳的利潤很高，可是我投資的餐廳卻倒閉，以致血本無歸。」
進財伯：「我把老本全都放在利息很高的民間互助會，可是會首卻捲款逃跑了。」
根據上述內容判斷，兩人在投資理財時都忽略了下列哪一種觀念？
(A)風險評估
(B)降低成本
(C)追求利潤
(D)開源節流
12. 一九八〇年代起，民眾開始關心政府興建水庫、核電廠、焚化爐等公共工程可能帶來的污染問題，因而組成各種團體，積極督促施工單位做好污染防制的工作。請問：上述民眾的做法最足以反映下列哪一種概念？
(A)增加公共造產
(B)落實地方自治
(C)維護社會秩序
(D)喚醒環保意識
13. 依《少年事件處理法》的規定，任何人均不得以公開方式揭露少年事件的記事及照片等。因此，新聞媒體在報導少年刑事案件時，不能公布涉案少年的全名。上述規定，主要是基於下列哪一項理由所作的考量？
(A)保護少年身心發展
(B)顧全少年家長名譽
(C)避免負面學習效應
(D)維持司法審判公平
14. 某次颱風來襲，各家電視臺根據中央氣象局所提供的資料，對颱風動向與降雨量提出各種分析、研判，但卻與實際的情況差距甚大，造成人民在防颱準備工作上的誤判。請問：上述情形顯示傳播媒介未能正確發揮哪一項應有的功能？
(A)提供訊息
(B)監督政府
(C)休閒娛樂
(D)教育文化
15. 志明向電器行購買一部電視機，回家後發現其外殼有明顯裂痕，隨即到電器行請求更換，但老闆卻置之不理。此時，志明可以透過下列哪一種法律途徑，來保障自己的權益？
(A)訴願
(B)行政訴訟
(C)民事訴訟
(D)刑事訴訟

16. 小胖分享他暑假到西亞的旅遊經歷：「那兒的氣候又乾又熱，有許多的葡萄園和柑橘園，最特別的是搭火車經過鐵橋，或坐汽車經過海底隧道，就可以到歐洲了。」請問：小胖所描述的地區，最可能位於下列哪一國家？
- (A) 伊朗
(B) 以色列
(C) 土耳其
(D) 沙烏地阿拉伯

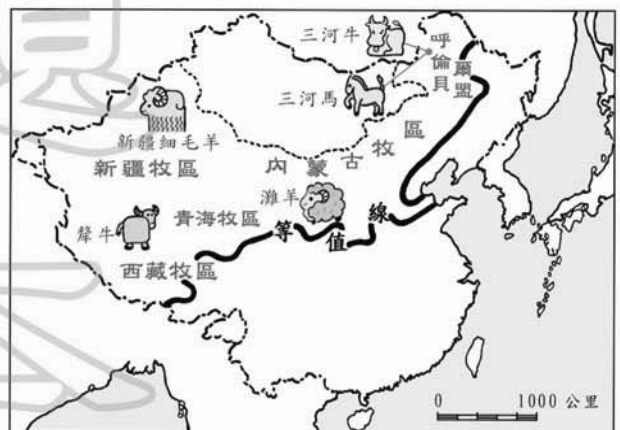
17. 下列四組為等高線與地形剖面圖的組合，其位置的對應關係何者正確？



18. 「……每年臺灣五、六月時候，那雨一下就是十天半月，母親心裡總是掛記著降雨對農作物的影響，煩擾憂愁不堪……。」請問：上文所述的降雨成因，最可能為下列哪一項？
- (A) 鋒面滯留
(B) 對流作用
(C) 地形抬升
(D) 颱風侵襲
19. 阿威在快頌郵件公司擔任派信員，他的工作是將國際郵件分配到不同區域的郵務袋。今天阿威拿到一封寄到巴西的信件。請問：他應該把它分送到下列哪一區？
- (A) 亞洲 (B) 美洲 (C) 非洲 (D) 歐洲

20. 圖(五)為中國大陸主要牧區及其優良牲畜品種分布圖。請問：圖上的等值線最可能代表什麼意義？


- (A) 高度 4000 公尺
(B) 最暖月均溫 0 度
(C) 年雨量 500 公釐
(D) 人口密度每平方公里 1000 人



圖(五)

21. 小玲玩網路遊戲「三國誌」時，最常選擇扮演某一角色，她說：「我喜歡扮演他，是因為雖然三國之中他所占土地最小，但歷史上他仍堅持以漢為正統，立國西南與魏對抗。」依此判斷，她最常扮演下列哪一角色？
- (A)孫權
(B)劉備
(C)曹操
(D)司馬炎

22. 婷婷在書上看到一則與臺灣歷史有關的插畫，如圖(六)。插畫中是描述臺灣哪一時期的情形？



- (A)荷蘭統治時期
(B)清領時代前期
(C)清領時代後期
(D)日本殖民統治時期

圖(六)

23. 中世紀後期，歐洲農業進步，商業復甦，城市興起，人口逐漸穩定成長。然而到十四世紀，歐洲人口卻突然大量減少，對社會發展產生重大影響。下列哪一項是造成當時人口銳減的最主要原因？
- (A)戰爭
(B)移民
(C)瘟疫
(D)饑荒
24. 義德利用假期到屏東海洋生物博物館遊玩，看到博物館旁刻有「明治七年討蕃軍本營地」的石碑，又看到「大日本琉球藩民五十四名墓」，這二者與哪一歷史事件有關？
- (A)牡丹社事件
(B)苗栗事件
(C)西來庵事件
(D)霧社事件
25. 某人到福建經商時，正巧遇到當地稻米歉收，許多人靠吃「番薯」才免於餓死。在歷史上，這種情景最早出現於何時？
- (A)秦漢
(B)隋唐
(C)宋元
(D)明清

26. 民國 80 年以後，臺灣社會出現一股新風潮，介紹各式餐飲、旅遊等娛樂文化的專業雜誌、書籍或電視節目紛紛出現，而民眾也常利用這些資訊作為消費選擇的參考。請問：上述現象與下列何者最有關係？
- (A)大眾運輸完善便捷
(B)休閒生活普受重視
(C)塑膠貨幣使用便利
(D)電視購物發達普遍
27. 大地震發生以後，各種資源紛紛湧入受災地區，以下是平平在當地所看到的景象：醫療單位提供藥品給傷者使用，小孩吃著麵包店所贈送的點心，年輕人到商店搶購乾電池，老人們排隊領取慈善團體所發給的礦泉水。請問：上述哪一種資源取得的方式，具有市場經濟制度的特色？
- (甲) (乙)
(丙) (丁)
(A)甲 (B)乙 (C)丙 (D)丁
28. 近來忠義里有部分住家遭竊，於是里長便號召 20 名里民組成巡守隊，以維護住戶生命財產的安全。請問：上述這些里民的做法，最能表現出下列哪一種概念？
- (A)社區文化
(B)社區發展
(C)社區營造
(D)社區參與
29. 近年來，有愈來愈多的「非營利組織」成立，這類公益性團體不以營利為目的，而是以公共服務為宗旨。根據上述內容判斷，下列哪一個團體最可能是非營利組織？
- (A)長安食品有限公司
(B)紅葉職業棒球聯盟
(C)善行素食自助餐廳
(D)綠色消費者基金會

30. 表(一)是近年來我國教育概況的部分統計資料，根據內容判斷，民國 85 年至 90 年間的教育發展具有下列哪一種現象？

表(一)

項 目	85 年	86 年	87 年	88 年	89 年	90 年
政府教育經費(億元)	4,076	4,209	4,307	4,531	4,015	4,093
國小平均每班學生數(人)	34.2	33.1	31.9	31.5	30.8	30.5
高等教育學生數(萬人)	79.6	85.6	91.6	99.4	109.2	118.7

- (A)小班小校理想日益背離
(B)地方教育經費逐年增加
(C)高等教育規模迅速擴張
(D)中等學校學生程度提升

31. 小慈隨祖父回中國大陸探親，在那丘陵起伏的故鄉，她看到許多像飛碟又像蘑菇般的建築物，如圖(七)。請問：小慈祖父的故鄉最可能在下列哪一省？

(A)四川
(B)湖南
(C)山東
(D)福建



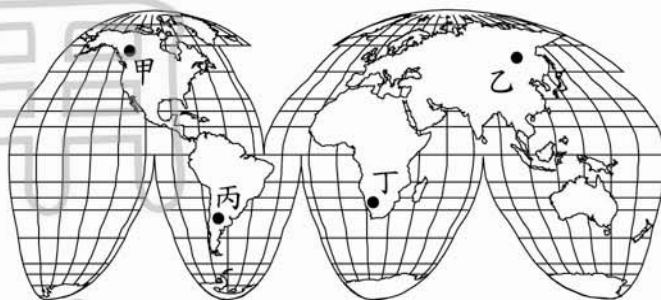
圖(七)

32. 「……許多探險家想從沿海順著剛果河的河道，深入河流的源頭。但因為環境的限制，困難重重，直到十九世紀才由史坦萊探測成功。」請問：文中的限制最可能是指下列哪一項？

(A)河流含沙量高，不利航行
(B)下游落差大，多瀑布急流
(C)中游多建水庫，導致缺水
(D)流域內種族複雜，政局不穩

33. 右圖為世界全圖。請問：七月時，圖(八)中哪兩個城市的季節是夏季？

(A)甲乙
(B)甲丁
(C)乙丙
(D)丙丁



圖(八)

34. 「阿勇到中國大陸旅行，本想多欣賞當地雄偉的冰河景觀，卻發現自己有頭疼、噁心、呼吸困難的情形，只好帶上氧氣罩下山，才減輕這些不舒服的症狀。」請問：阿勇最可能是到下列哪一個地區？

(A)貴州省
(B)甘肅省
(C)西藏自治區
(D)內蒙古自治區

35. 圖(九)是描述亞洲象林旺的故事。文中所述的戰爭發生於下列哪一個地區？

(A)湖北
(B)雲南
(C)上海
(D)黑龍江



林旺爺爺的故事

林旺爺爺是民國31年滇緬戰爭，國軍從日本軍隊捉來的亞洲象。起先林旺在軍隊裡負責拖運火砲和軍糧，後來隨著孫立人將軍跋山涉水來到臺灣，成為木柵動物園的動物明星。

圖(九)

36. 有篇介紹某位清末歷史人物的文章，其中有兩段敘述如下：
- (一)「他跟一批有志之士上書請願、組織學會、辦報紙，鼓吹政治革新的理念，大談救國思想。」
- (二)「他得到皇帝支持，推動政治改革，卻因保守派發動政變，使他的理想曇花一現，最後亡命海外。」
- 根據上述資料判斷，這篇文章介紹的歷史人物是誰？
- (A)李鴻章
(B)張之洞
(C)康有為
(D)孫中山
37. 臺南地區目前仍留有一座日人八田與一的銅像，當年建立這座銅像，主要目的是為感念他對臺灣哪一方面的貢獻？
- (A)軍事
(B)治安
(C)水利
(D)教育
38. 陳奶奶回憶說：「在那個年代，市面流通著各種貨幣，後來政府廢除銀兩，規定一律改用銀元；再過一陣子，政府規定只能用指定銀行發行的紙幣，終於解除了幣制混亂的局面。」陳奶奶描述的應是下列哪一時期？
- (A)民國 17~26 年黃金十年
(B)民國 26~34 年八年抗戰
(C)民國 35~38 年國共內戰
(D)民國 62~68 年十項建設
39. 史學家黃仁宇認為：「從物質生活講，十二世紀的中國，無疑的已領先世界。」這主要是針對宋代哪一項特色而提出的看法？
- (A)兼容並蓄的多元文化
(B)科技發達與商業興盛
(C)統一幣制並通行全國
(D)開鑿運河使物資交流
40. 西元 1914 年發生於歐洲的「塞拉耶佛事件」，原為奧、塞之間的區域衝突，結果卻演變為第一次世界大戰的導火線，造成這種情況的原因為何？
- (A)不同國家結盟對立
(B)國際姑息主義高漲
(C)美國實行孤立主義
(D)民族解放運動興盛

41. 布勒國政府發行電腦樂透彩券，幸運中獎者可獲得大筆彩金，於是多數民眾寄望一夕致富，因而瘋狂參與、無心工作，引發不少的社會問題。請問：上述社會效應，就是經濟學上的哪一種概念？
- (A)公共財
(B)外部效果
(C)受益原則
(D)需求法則

42. 圖(十)是小嘉看到招生海報的部分內容，依此判斷，該計畫培訓的人員最可能是從事下列哪一方面的活動？
- (A)社區參與
(B)社會教育
(C)族群融合
(D)國民外交

親善大使種籽培訓營招生

你想把臺灣 **"SHOW"** 出來嗎？
歡迎一起來成為先鋒種籽

本課程讓你了解臺灣的自然景觀、鄉土美食、族群文化等特色，並以宏觀視野看臺灣，將臺灣精神傳遍世界。

圖(十)

43. 阿奇是一位國中生，因家中發生重大變故，以致無法在原本的家庭繼續生活，社會局可依據下列哪一種法律的規定，將他安置於寄養家庭？
- (A)《家庭暴力防治法》
(B)《少年事件處理法》
(C)《全民健康保險法》
(D)《兒童及少年福利法》
44. 味美鮮奶公司為提高產品的市場競爭力，決定大規模進行「買一送一」的促銷活動。請問：上述做法是採取下列哪一種策略？
- (A)減少成本支出
(B)提升產品功能
(C)增加產品利潤
(D)降低產品價格

45. 毅力工廠的二號機器可以生產四種產品，但同一時間只能生產一種。表(二)是該機器製造甲、乙、丙、丁四種產品的產能與獲利評估分析。若只考慮獲利情形，該機器應生產哪一種產品？
- (A)甲
(B)乙
(C)丙
(D)丁

表(二)

產品	產量 (打/小時)	成本 (元/個)	售價 (元/個)
甲	10	85	100
乙	12	70	80
丙	20	22	30
丁	55	18	20

46. 「……這個中國城市具有優良的港灣，腹地內的第一、二級產業發達，交通完善便捷，吸引許多日本人來此投資，將來可望成為東北亞的經貿和旅遊中心。」請問：文中所述的城市，最可能是下列哪一個？

- (A) 大連
- (B) 北京
- (C) 西安
- (D) 廣州

47. 圖(十一)為荷蘭的風車景觀。風車葉片迎風可以得到最佳的動能，若依盛行風向判斷，當地的風車葉片大多面向何方？

- (A) 東方
- (B) 西方
- (C) 南方
- (D) 北方



圖(十一)

48. 表(三)為某都市的氣候資料。若依表中的資料判斷，該都市的氣候屬於下列哪一種類型？

表(三)

項目 \ 月份	一	二	三	四	五	六	七	八	九	十	十一	十二	全年
氣溫 °C	3.2	4.1	8.0	13.5	18.8	23.1	27.1	27.0	22.8	17.4	11.3	5.8	年均溫 15.2
雨量 mm	50	60	83	93	93	176	145	142	127	71	52	37	年雨量 1129

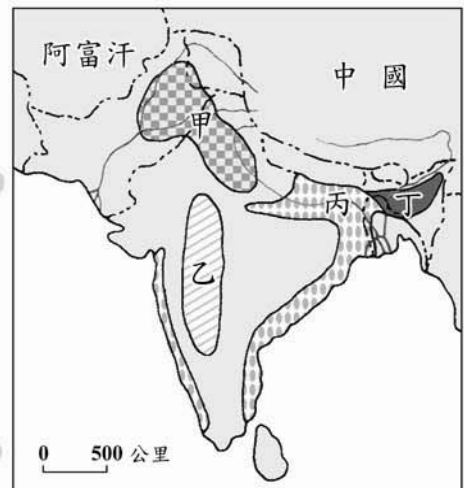
- (A) 溫帶草原氣候
- (B) 溫帶季風氣候
- (C) 副熱帶季風氣候
- (D) 熱帶雨林氣候

49. 「天津冬季河流結冰，使得港口冰封，反而緯度較高的秦皇島，因為海港的鹽度較高不易結冰，貨物可以轉往此地出海……。」請問：文中所指的河流為下列哪一條？

- (A) 遼河
- (B) 淮河
- (C) 海河
- (D) 黃河

50. 棉花適合生長在肥沃的黑色土壤和夏雨秋乾的氣候環境。若依此條件，圖(十二)的哪一地區最可能是南亞棉花的主要產區？

- (A) 甲
- (B) 乙
- (C) 丙
- (D) 丁



圖(十二)

51. 同學討論漢文化在臺灣的發展情形——
小明：「一直到清朝，漢人文化才在臺灣建立基礎。」
小芬：「不！早在鄭氏治臺時期，漢人文化便已在臺灣奠下根基。」
請問：小芬該舉下列哪一史實為證最足以支持自己的觀點？
(A)鄭成功據臺反清
(B)鄭成功逐退荷蘭人
(C)鄭經建孔廟設學校
(D)鄭經恢復對外貿易
52. 第二次世界大戰結束初期，共產政權曾遍布東歐、東南亞，時至今日，卻只剩古巴、中共、越南等少數非東歐共產專政國家。造成這種轉變的關鍵因素是什麼？
(A)聯合國主動積極的介入
(B)馬歇爾計畫的推行成功
(C)戈巴契夫推動蘇聯改革
(D)葉爾辛組獨立國家國協
53. 封建制度是鞏固周代政治社會秩序的主要力量，但當時仍須以禮樂配合下列哪一項制度，才得以維繫運作？
(A)太學制度
(B)薦舉制度
(C)郡縣制度
(D)宗法制度
54. 清末中國在鴉片戰爭中戰敗，與英國簽訂《南京條約》及其附約，這對日後歷史發展產生何種影響？
(A)喪失司法財政的自主權，中國對外陷於不平等地位
(B)中國割讓大片東北土地，使日後俄國南下大肆侵華
(C)開放各國在華設廠製造，抑制中國民族工業的成長
(D)准許外國在北京附近駐兵，導致中國國防門戶洞開
55. 十九世紀拉丁美洲各國紛紛獨立，當時推動玻利維亞、委內瑞拉等國獨立的玻利瓦曾說：「只有團結才能驅逐敵人，建立一個自由的政府。」玻利瓦所指的「敵人」應是下列哪一國家？
(A)美國 (B)英國 (C)義大利 (D)西班牙
56. 阿強想多了解古代羅馬歷史，他到圖書館找到下列四位作者的書，其中哪一本才是最適當的？
(A)荷馬：《荷馬史詩》
(B)希羅多德：《歷史》
(C)凱撒：《高盧戰記》
(D)薄伽丘：《十日談》

57. 法律規定，汽機車行近行人穿越道前應減速慢行，遇有行人穿越時，應先暫停，讓行人優先通過。如果駕駛人違反此項規定則依法處罰，此時該駕駛人即是負擔何種責任？
- (A)行政責任
(B)民事責任
(C)刑事責任
(D)道義責任
58. 知平鄉公所為繁榮地方，在勘查當地自然環境特色後，結合人力、物力、財力和土地等資源，興建「茶葉博物館」，並與茶農合作經營「茶區步道」，以推廣鄉內的茶葉產品，籌措地方自治財源。請問：上述鄉公所的作為，屬於哪一種性質的地方建設？
- (A)文化方面的資產保存
(B)福利方面的社會救助
(C)政治方面的本土運動
(D)經濟方面的公共造產
59. 科技發展能使資訊的傳播與獲取更有效率，但如電腦病毒等的惡意傳播，也常造成個人及公眾利益的損害。由上述科技發展所產生的利與弊，顯示當前社會應更注重下列何者的提升？
- (A)公平正義
(B)生產技術
(C)自我調適
(D)倫理價值
60. 表(四)是小俞上台報告關於甲國 1980 年至 2002 年的政治發展概況，根據報告內容推論，下列哪一個說法最為正確？

表(四)

甲國 1980-2002 年的政治概況
1. 最高統治者為總統
2. 《憲法》規定總統任期五年，由全民選舉產生，並對人民負責
3. 曾在 1980、1985 和 1990 年舉行總統大選
4. 現任總統為 P 黨主席，除該黨外，另有 Q 黨、R 黨與 S 黨三個政黨
5. P 黨、Q 黨、R 黨與 S 黨四個政黨在國會的席次比例分別為 69%、9%、15%和 7%

- (A)根據甲國憲法規定，甲國應為民主共和國
(B)就政黨數量而言，顯見政黨政治相當成熟
(C)1990 年之後，甲國民主政治運作維持正常
(D)1995 年之後，甲國極可能轉為君主獨裁國

61. 君王問：「要怎樣才能成為一位好國君？」
大臣答：「國君要追求的是天下人的利益，所以應任用賢才，教導人民相親相愛，無分親疏。戰爭只會帶來傷害，國君應盡力避免戰爭、維護和平。」

上述大臣的言論最接近中國哪一學派的思想？

- (A)儒家
(B)道家
(C)墨家
(D)法家
62. 小夏在書上讀到：「從早期到現在，臺灣地區民眾對於自己的祖籍或出生地的說法有明顯的改變。初來臺時，他們稱自己是潮州人、泉州人等，但現在多改用和臺灣地名相關的說法，例如彰化人、臺北人。」根據上述內容提到的轉變判斷，作者最主要應是在印證下列哪一個觀點的發展？
- (A)移民風潮仍然興盛
(B)認同臺灣這塊土地
(C)營造新的臺灣精神
(D)融合多元文化價值

63. 圖(十三)是小麗在雜誌上看到有關我國人民參與政治活動情形的分析報導。根據圖中內容判斷，哪些是屬於《憲法》保障人民參政權的內涵？

- (A)甲己
(B)乙丁
(C)丙戊
(D)丁己

政治參與方式

- 甲：競選公職
乙：熱心參與政黨活動
丙：向政府或媒體表達意見
丁：加入政黨或利益團體
戊：佩戴政治徽章或象徵物
己：選舉投票

圖(十三)

試題結束