

# 92 第二次國民中學學生基本學力測驗

## 社會科題本

請不要翻到次頁！

讀完本頁的說明，聽從監試委員的指示才開始作答！

※請先確認你的答案卡、准考證與座位號碼是否一致無誤。

請閱讀以下測驗作答說明：

測驗說明：

這是國民中學學生基本學力測驗社會科題本，題本採雙面印刷，共 13 頁，有 63 題選擇題，每題都只有一個正確或最佳的答案。測驗時間從 10:50 到 12:00，共 70 分鐘。作答開始與結束請聽從監試委員的指示。

注意事項：

1. 所有試題均為四選一的選擇題，答錯不倒扣。
2. 試題中所附圖形，如有附上比例尺，以比例尺為依據作答；若無比例尺，則該圖僅作為參考，不代表實際大小。
3. 可利用題本中空白部分計算，切勿在答案卡上計算。
4. 依試場規則第八條規定：「答案卡上不得書寫姓名座號，也不得做任何標誌。故意污損答案卡、損壞試題本，或在答案卡上顯示自己身分者，該科測驗不予計分。」

作答方式：

請依照題意從四個選項中選出一個正確或最佳的答案，並用 2B 鉛筆在答案卡上相應的位置畫記，請務必將選項塗黑、塗滿。如果需要修改答案，請使用橡皮擦擦拭乾淨，重新塗黑答案。例如答案為 B，則將 (B) 選項塗黑、塗滿，即：(A) ● (C) (D)

以下為錯誤的畫記方式，可能導致電腦無法正確判讀。如：

- (A) ● (C) (D) — 未將選項塗滿
- (A) (B) (C) (D) — 未將選項塗黑
- (A) ● (C) (D) — 未擦拭乾淨
- (A) ● (B) (C) (D) — 塗出選項外
- (A) ● ● (D) — 同時塗兩個選項

請聽到鈴（鐘）聲響後才翻頁作答

1. 政府實施「小三通政策」，使得前往中國大陸投資的臺商可以直接經由金門回到臺灣本島。若依據位置的關係考量，臺商們從下列哪一個經濟特區搭船到金門最近？
- (A) 深圳  
 (B) 廈門  
 (C) 汕頭  
 (D) 海南省


2. 小芊在路邊看到一則租屋廣告，如圖(一)所示。請問：廣告中哪一項表示該屋的「絕對位置」？

**吉屋出租**

交通便利、就學方便、休閒完善

(甲) 距公車總站五分鐘  
 (乙) 在學力國中斜對面  
 (丙) 步行兩分鐘可到運動公園  
 (丁) 地址：臺中縣大里市大方路一段 67 號

有意者請電洽：2345-6789

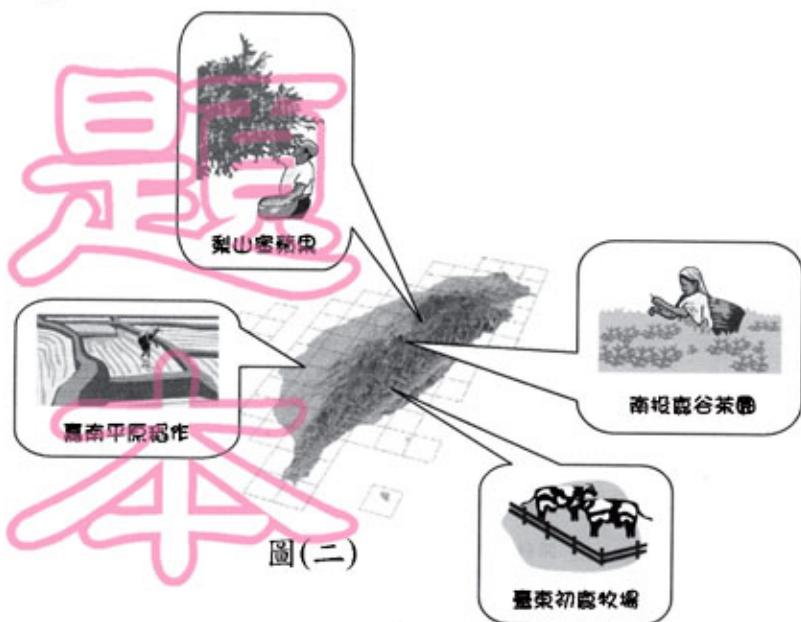


圖(一)

3. 「在這個時節，太陽總在黃昏時接近地平線，尚未全部沒入卻又冉冉上升……。」上述文句所描述的現象會出現在下列哪一個國家？

- (A) 芬蘭  
 (B) 印尼  
 (C) 中國  
 (D) 義大利
4. 臺灣中部橫貫公路聯繫臺中、南投與花蓮等地區，這條公路會經過下列哪一座國家公園？
- (A) 玉山國家公園  
 (B) 墾丁國家公園  
 (C) 太魯閣國家公園  
 (D) 陽明山國家公園

5. 圖(二)是臺灣四個地區農牧業經營特色簡圖。這些地區經營活動分布的不同和下列哪一項關係最大？



- (A) 土壤性質  
 (B) 地勢高低  
 (C) 市場需求  
 (D) 政策考量

請翻頁繼續作答



6. 某部社會寫實影片中，黑人男主角麥爾坎呼籲他的同胞：「阿拉會庇護我們，穆罕默德會帶領我們回非洲。」由此判斷，麥爾坎信仰的宗教是下列哪一個？

(A)回教  
(B)道教  
(C)佛教  
(D)基督教

7. 表(一)是小蕙在複習歷史課文後，作出的朝代與人物整理表。她整理的這張表格，應該與下列哪一項主題有關？

(A)通俗文學  
(B)革新變法  
(C)開疆拓土  
(D)科技發展

表(一)

朝代	人物
東漢	張衡
宋	畢昇
明	宋應星
清	湯若望

8. 八年抗戰前，中共為了解除來自國民政府的威脅，提出「自己人不打自己人」、「停止內戰一致抗日」等口號，影響當時擔任西北剿共主力的指揮官，由該軍官發動軍變，改變日後政局的發展。這是史上哪一事變？

(A)九一八事變  
(B)一二八事變  
(C)西安事變  
(D)盧溝橋事變

9. 現今臺灣地區兒童年滿六歲進入國民小學，接受義務教育。在臺灣史上，這種學齡兒童接受義務教育的制度最早在什麼時候即已實施？

(A)清領時代前期  
(B)清領時代後期  
(C)日本殖民統治時期  
(D)中華民國在臺灣時期

10. 阿芳閱讀某本科學家傳記時，讀到有關「時間與空間相對關係」的敘述，這套理論改變了傳統時空觀念，是現代物理學的大發現。由此判斷，阿芳最可能是讀到下列哪一位人物的傳記？

(A)牛頓  
(B)凱因斯  
(C)佛洛伊德  
(D)愛因斯坦

# 新

# 聞

# 開

# 試

# 題

# 本

11. 自古以來，人類即不斷努力跨越空間的限制來傳遞訊息，中國古代有飛鴿傳書，現今則有電子郵件（e-mail）的傳輸，此種改變主要是屬於下列哪一種層次的社會變遷？
- (A) 風俗習慣  
(B) 社會制度  
(C) 價值觀念  
(D) 器物生活
12. 大明是長生印刷廠的員工，他覺得廠內的工作條件不佳，想要爭取改善，那麼他參加下列哪一種團體，最能達成上述目的？
- (A) 工會  
(B) 商會  
(C) 農會  
(D) 宗親會
13. 阿鑫等人參觀「人權教育資料展」，看到《世界人權宣言》的譯文寫著「人皆生而自由，在尊嚴及權利上均各平等。」下面是同行的四位同學分別對這句話的闡釋。請問：哪一種觀點不符合這句話的精神？
- (A) 個人的自由，應以不侵害他人的自由為界限  
(B) 追求人權應以自由、尊嚴與平等為基本前提  
(C) 積極行使自己的權利，也應尊重他人的權利  
(D) 可以多數決的方式，限制少數人的基本權利
14. 如果愛情或婚姻關係不得已必須結束，雙方宜講求好聚好散。有關結婚與離婚，均須依照下列哪一種法律的規定辦理才具有效力？
- (A) 《民法》  
(B) 《刑法》  
(C) 《人民團體法》  
(D) 《社會秩序維護法》
15. 「媒體素養教育」是希望培養每一個人成為「耳聰目明」的讀者，對媒體有深入的了解，不再只是消極接受媒體資訊，而是能積極解讀媒體訊息的閱聽人。根據上述內容判斷，下列哪一種做法最有助於成為明智的閱聽人？
- (A) 了解媒體廣告收入的來源與價格  
(B) 思考媒體所呈現的訊息是否真實  
(C) 根據收視率的高低選看電視節目  
(D) 透過大眾輿論主導媒體經營方向



16. 圖(三)為報紙的一部分，由報導的內容可以看出當時中國大陸具有下列哪一項優越的區位條件？

(A)原料豐富  
(B)市場廣大  
(C)科技發達  
(D)勞工充足




圖(三)

17. 「臺北縣鶯歌鎮的陶瓷工業歷史悠久，現今原料枯竭，需要從外地運來瓷土；但其保有製瓷傳統、技術及市場等條件，至今仍為陶瓷的生產中心。」下列哪一項最適合用來說明這種現象？

(A)工業化  
(B)工業區位  
(C)工業慣性  
(D)工業轉型

18. 婷婷為了說明某地的重要地形特色，畫了一則內容誇張的漫畫，如圖(四)所示。其內容最可能是描寫下列哪一個省區？



圖(四)

(A)雲南省  
(B)山東省  
(C)陝西省  
(D)青海省

19. 北京市屬於棋盤式建築的都城，因為擁有許多著名的古建築物，成為重要的觀光景點。在中國史上，同樣歷經朝代建都，具有類似空間規畫的城市為下列哪一個地方？

(A)青島  
(B)上海  
(C)天津  
(D)西安

20. 表(二)是四個城市的出生率與死亡率資料。依據表中資料，哪一地區的自然增加率最低？

表(二)

地區	出生率(‰)	死亡率(‰)
幸福城	5.4	4.8
美滿城	10.4	10.2
快樂城	12.1	16.5
福氣城	5.0	7.0

(A)幸福城  
(B)美滿城  
(C)快樂城  
(D)福氣城

# 新聞 用 試 題 本

21. 民國初建，曾實行政黨政治及組成國會等民主制度，但為時不久即被破壞。下列何人在當時對民主的破壞最嚴重？
- (A) 宋教仁  
(B) 袁世凱  
(C) 李烈鈞  
(D) 唐繼堯
22. 清廷治臺初期，藍鼎元曾向朝廷上書：讓人民都能組織家庭，那麼民間就不會發生這麼多的械鬥與民變事件。這是針對清政府哪一項措施提出的建議？
- (A) 清理田賦政令  
(B) 攜眷渡臺禁令  
(C) 劃界封山政策  
(D) 對原住民採放任政策
23. 十三世紀，義大利某教堂的神父告訴信徒，虔誠向上帝禱告並懺悔，便可躲過帶著火炮（火藥），來自東方的「黃禍」。下列哪一項是神父所指的「黃禍」？
- (A) 恒羅斯之役  
(B) 十字軍東征  
(C) 蒙古西征  
(D) 鄭和下西洋
24. 十九世紀，歐美地區紛紛追求民族獨立與國家統一。其中，先成立「關稅同盟」奠定經濟統一基礎，而後完成國家統一的是下列哪一個地區？
- (A) 日耳曼  
(B) 義大利  
(C) 拉丁美洲  
(D) 巴爾幹半島
25. 唐朝商人若以水路由長安到餘杭做生意，不必經過圖(五)中哪一條運河？
- (A) 廣通渠  
(B) 永濟渠  
(C) 通濟渠  
(D) 江南河



圖(五)

請翻頁繼續作答



26. 近年來，學校開設鄉土課程與母語教學；各地的客家文物館、原住民博物館等也相繼成立。這些做法最有助於下列哪一種政策的推動？
- (A)地方自治
  - (B)終身學習
  - (C)公民自主
  - (D)多元文化

27. 表(三)是臺閩地區戶口及住宅普查的部分摘要結果。根據內容判斷，為因應此種社會變遷的趨勢，政府最應重視下列哪一方面的政策規畫？

表(三)

項 目	69 年	79 年	89 年
總人口數 (萬人)	1,803	2,039	2,217
平均每戶人口數 (人/戶)	4.8	4.0	3.3
65 歲以上老年人口比率 (%)	4.1	6.1	8.5
大專以上教育程度人口比率 (%)	9.9	15.8	24.8

- (A)老人福利
  - (B)國民教育
  - (C)就業輔導
  - (D)環境保育
28. 民國八十年代楊麗花歌仔戲團將傳統歌仔戲加以改良後，在國家戲劇院演出；其後布袋戲也曾在該場所公開演出。上述傳統戲曲的變遷，最能說明下列哪一種涵義？
- (A)民俗文化逐漸邁向精緻
  - (B)政府主導投入文化建設
  - (C)提供國民良好休閒活動
  - (D)教育與文化的相輔相成
29. 酗酒成性的老陳經常毆打十歲女兒小青，為了保護女兒的權益，小青的母親希望能宣告停止老陳對女兒行使親權。請問：她應向下列哪一機關提出聲請？
- (A)行政法院
  - (B)地方法院
  - (C)縣市政府
  - (D)警察機關
30. 《憲法》規定人民有服兵役的義務，但過去有因宗教信仰而拒服兵役的情形。現在「替代役」的實施，則提供了其他的服役方式。因宗教因素而可選擇服「替代役」的做法，是基於下列哪一種考量？
- (A)保障人民基本權利
  - (B)鼓勵民眾信仰宗教
  - (C)提高國民就業比例
  - (D)強化社會組織體系

31. 彩華想利用暑假出國旅遊，計畫參觀百年歷史古城、洋蔥式屋頂的教堂和共黨遺留的「農城」景觀，並品嚐馬鈴薯大餐。她應該選擇下列哪一個行程？

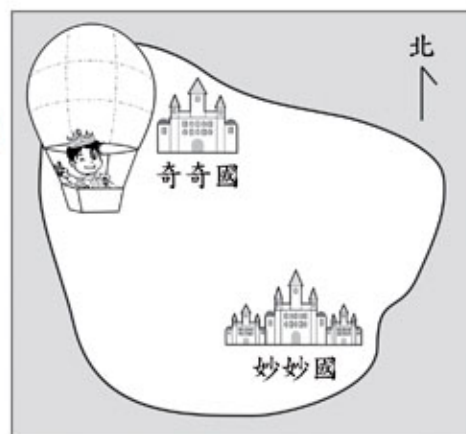
- (A) 東歐四國九日遊
- (B) 中南半島七日遊
- (C) 印度尼泊爾精選十五日遊
- (D) 北京皇城美食經典五日遊

32. 近年來，原來設在南美洲的工廠，紛紛轉移到墨西哥北部，產品主要運銷美國。這種現象和下列哪一項最有關係？

- (A) 方便利用巴拿馬運河
- (B) 墨西哥盛產貴重金屬
- (C) 成立北美自由貿易區
- (D) 墨西哥的農產品較豐

33. 圖(六)是奇妙島的平面圖。島上奇奇國的王子想搭乘熱氣球前往妙妙國。下列哪一風向對王子最有利？

- (A) 東南風
- (B) 西南風
- (C) 東北風
- (D) 西北風

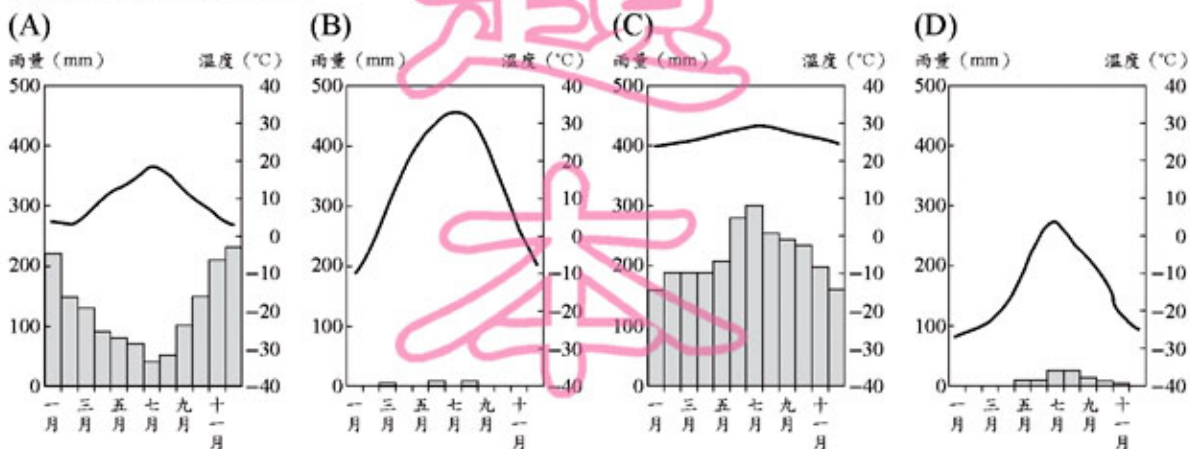


圖(六)

34. 「……清領後期，因為臺灣北部地區適合種植該作物，加上海外市場反應良好，逐漸成為臺灣最大的出口產品，為當地居民創造大量的就業機會，提昇了北臺灣的經貿地位。」請問：文中所描述的作物應該為下列何者？

- (A) 茶葉
- (B) 甘蔗
- (C) 稻米
- (D) 蘭花

35. 小憲正在繪製吐魯番的氣候圖。若根據當地的氣候特性，下列哪一個圖最可能是他繪製的結果？



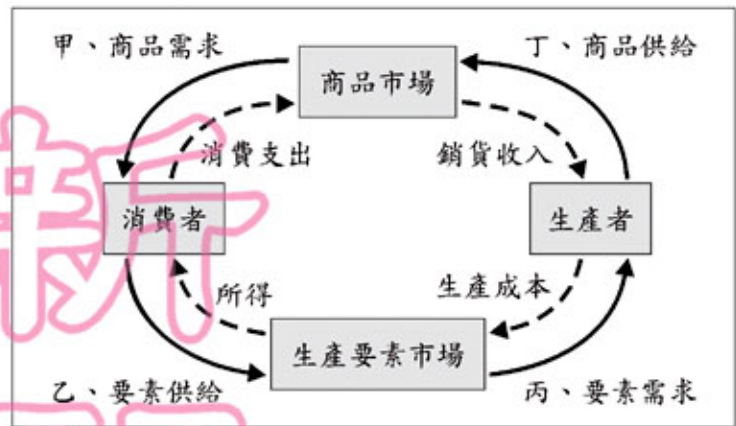
請翻頁繼續作答



# 新聞試題本

36. 春秋到漢初的學術發展，從「百家爭鳴」歷經「焚書坑儒」到「獨尊儒術」，呈現出何種歷史意義？
- (A) 平民地位提昇
  - (B) 學術獨立自由
  - (C) 文化多元發展
  - (D) 思想趨向統一
37. 清廷將臺灣納入版圖後，初期採消極態度統治，直到下列哪一事件發生後，才轉而積極建設，增強防務？
- (A) 開港通商
  - (B) 日軍犯臺
  - (C) 中法戰爭
  - (D) 臺灣建省
38. 有一份歷史文件，內容摘錄如下：  
「不是我們不顧念在英國的弟兄們，但是他們的立法機關要把無理的管轄權加在我們頭上……，我們懇求他們念在同種同宗的份上停止這種掠奪行為，但他們對這種正義和血緣的呼聲同樣充耳不聞。因此，我們不得不宣布與他們脫離……。」  
請問：這段文字應出自下列哪一文件？
- (A) 《權利法案》
  - (B) 《獨立宣言》
  - (C) 《人權宣言》
  - (D) 《權利典章》
39. 中國歷史上有一段時期，讀書人考試的文章格式與內容被嚴格規定，有些人一旦會「兩句破題，三句承題」就洋洋得意，宣稱自己必能步入仕途。上述情形反映出哪一種選才任官制度的弊病？
- (A) 官學取士
  - (B) 九品官人
  - (C) 八股取士
  - (D) 孝廉薦舉
40. 日本統治臺灣初期，採取「農業臺灣，工業日本」的政策，但是到一九三〇年代起，轉變為「農業南洋，工業臺灣」的發展策略。造成這種轉變的主要原因是什麼？
- (A) 六三法的擴大實施
  - (B) 臺灣農業升級的衝擊
  - (C) 南洋的勞工工資低廉
  - (D) 配合南進政策的需要

41. 建國鋼鐵工廠為了提高生產量，要再增添機器設備。請問：增添機器設備的行為，是屬於圖(七)經濟活動循環簡圖中的哪一項？
- (A)甲  
(B)乙  
(C)丙  
(D)丁



圖(七)

42. 吉祥參加百貨公司舉辦的抽獎活動，抽中頭獎獲得汽車一部，依規定需繳納 15% 的稅金。這種向獲獎者課稅的做法，是依下列哪一種經濟學上的觀念而實施的？
- (A)外部效果  
(B)需求法則  
(C)受益原則  
(D)負擔能力原則
43. 中央銀行發行新臺幣貳仟元的紙鈔，使國內流通的鈔票種類更多。請問：上述政府發行貳仟元新鈔的做法，最能發揮下列哪一種功能？
- (A)方便民眾攜帶儲存  
(B)提高人民消費能力  
(C)增加政府外匯存底  
(D)減緩國內通貨膨脹
44. 我國《憲法》對於中央與地方政府權限的畫分採「均權制度」，其中具有因地制宜性質的事務由地方負責。依此規定，地方政府具有哪些權力而設有行政機關與民意機關？
- (A)司法權、考試權  
(B)考試權、行政權  
(C)行政權、立法權  
(D)立法權、司法權
45. 小凱騎乘家中的機車上街，經交通警察臨檢發現他無照駕駛，依法被開處罰單且扣留機車牌照，並通知小凱的父母將車子取回。上述警察機關的做法，最能彰顯法律的哪一項特徵？
- (A)法律無法規範人民的內在真實想法  
(B)法律明確規定人民應該遵守的事項  
(C)國家須依照一定的程序來制定法律  
(D)國家可以強制力來處罰違反法律者



46. 全世界能源有 5% 來自再生資源，人們應該善加規畫以利多次使用。請問：下列何者不屬於再生資源？

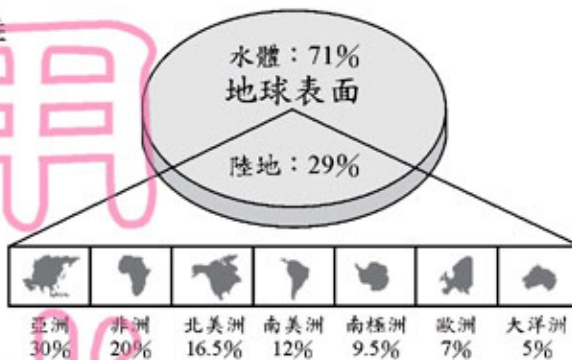
- (A) 熾熱的太陽輻射
- (B) 滾滾的長江流水
- (C) 地表湧出的天然氣
- (D) 陽明山的天然溫泉

47. 孝元一家人正在討論 8 月 5 日前往南半球紐西蘭的參觀遊覽事宜。請問：下列哪一位的想法最為正確？

- (A) 爸爸：「當地氣候春暖花開，一定可以拍很多漂亮的照片。」
- (B) 媽媽：「要帶把洋傘，否則夏日炎炎肯定會曬昏。」
- (C) 孝元：「秋高氣爽的天氣，應該會很舒服。」
- (D) 孝慈：「冬天氣溫較低，要帶件大衣才行。」

48. 圖(八)是地球表面水陸分布及各洲占陸地面積比例圖。請根據圖上資料判斷，下列哪一項正確？

- (A) 海洋大部分在北半球
- (B) 美洲面積的總和比亞洲小
- (C) 水半球的面積比陸半球大
- (D) 非洲面積占地球表面的 20%



圖(八)

49. 「這裡有縱橫交錯的河網地區、精緻的石橋、傍河而築的民居。河流是鎮上的大街小巷，河道很熱鬧，船隻來往交錯，載運著旅客和貨物。」文中敘述的景觀，最可能出現在下列哪一個地區？

- (A) 華南
- (B) 華中
- (C) 華北
- (D) 東北

50. 圖(九)為中國大陸三級地形階梯分布示意圖。其中「第二階梯」的區域內，以哪兩種地形為主？

- (A) 盆地、高原
- (B) 丘陵、高原
- (C) 平原、丘陵
- (D) 平原、盆地



圖(九)

# 新聞 題本

51. 日本在《馬關條約》中，獲得在中國各通商口岸設立工廠的特權，英、法等國雖未參與簽訂該條約，卻也享有這種權力。英、法等國同樣享有這項特權的原因，與中英、中法條約中訂有下列哪一項規定有關？
- (A)五口通商
  - (B)協定關稅
  - (C)治外法權
  - (D)片面最惠國待遇
52. 臺北縣八里鄉十三行文化遺址，在歷史上具有下列何種重要的意義？
- (A)代表採集生活的發端
  - (B)象徵磨製石器的出現
  - (C)反映稻米農作的起源
  - (D)顯示鐵器時代的開始
53. 西元 1929 年 10 月，美國股市崩盤，引發經濟危機，並蔓延到全世界。許多國家採取某種措施以因應這項危機，結果卻造成世界性的經濟大恐慌。這項措施是下列哪一個？
- (A)自由貿易
  - (B)關稅保護
  - (C)經濟互惠
  - (D)關稅聯盟
54. 現在世界各地通用的曆法，是以太陽運行做為記年標準的陽曆。最先開始使用這種曆法的是下列哪一個民族？
- (A)埃及
  - (B)希臘
  - (C)蘇美
  - (D)巴比倫
55. 小強到古都洛陽遊歷，看到一座翻修過的古老佛寺。導遊說：「這座佛寺是中國最早的佛寺，曾有印度高僧在此翻譯佛經，對佛教的傳布貢獻極大。」這座佛寺最早應建於何時？
- (A)東漢
  - (B)曹魏
  - (C)西晉
  - (D)唐代



# 新聞題本

56. 根據新聞報導：「近年來，由於房地產不景氣，國內閒置的空屋比率漸高，消費者在此時購屋，有較大的議價空間，多能以較便宜的價格買到房子。」上述內容的說法符合經濟學的哪一種觀念？  
(A)外部效果  
(B)需求法則  
(C)機會成本  
(D)比較利益原理
57. 以國際貿易為主的甘林國久旱缺水，於是政府宣布部分農田休耕，而優先供應當地出口工業的用水。上述做法是該國在面臨水資源有限的情況下，依下列哪一項考量所做的優先選擇？  
(A)生產方式  
(B)生產原料  
(C)產品分配  
(D)產品價值
58. 阿誠因買賣糾紛遭胡來毆打成傷，阿誠憤而向地方法院提起訴訟，請求依法判處胡來重刑。請問：阿誠的行為，在刑事訴訟上稱之為何？  
(A)上訴  
(B)公訴  
(C)自訴  
(D)告訴
59. 現代民主國家中，都有利益團體與政黨兩種組織，但其對政治的影響力並不相同，若探討兩者的關係，下列哪一項敘述是正確的？  
(A)利益團體的目的在影響決策，政黨目的則是取得政權  
(B)利益團體為保持政治的中立，不與任何政黨發生關聯  
(C)政黨須透過利益團體的力量，才能促使政府改變政策  
(D)政黨不受任何利益團體影響，只為多數的民眾謀福利
60. 根據圖(十)對話內容判斷，存款利率的調降可能產生下列哪一種現象？  
(A)生產數量減少  
(B)投資意願提高  
(C)消費需求降低  
(D)儲蓄動機增強



圖(十)

61. 臺灣南部河川遭到污染的程度，往往比北部來得嚴重，其污染物留滯在河床的原因和南部河川的哪一種特性最有關係？
- (A)流量變化較大
  - (B)河流長度較長
  - (C)流域面積較廣
  - (D)河流坡度較陡
62. 彼得想成為一名工匠，但在當時必須從學徒開始學習，而後升格為職工，最後須通過「行會」考核，才能成為獨當一面的「師傅」。這種情形最早出現在歐洲史上哪一個時期？
- (A)希臘羅馬時期
  - (B)中古時代後期
  - (C)文藝復興時期
  - (D)工業革命時期
63. 大平在努力工作數年後，打算利用今年的休假前往國外自助旅遊，於是開始辦理出國的各種相關手續。請問：出國旅遊是屬於《憲法》保障人民的哪一種自由權？
- (A)人身自由
  - (B)意見自由
  - (C)居住遷徙自由
  - (D)集會結社自由

新聞  
試  
題  
本

試題結束