

92 第一次國民中學學生基本學力測驗

社會科題本

請不要翻到次頁！

讀完本頁的說明，聽從監試委員的指示才開始作答！

※請先確認你的答案卡、准考證與座位號碼是否一致無誤。

請閱讀以下測驗作答說明：

測驗說明：

這是國民中學學生基本學力測驗社會科題本，題本採雙面印刷，共 13 頁，有 63 題選擇題，每題都只有一個正確或最佳的答案。測驗時間從 10:50 到 12:00，共 70 分鐘。作答開始與結束請聽從監試委員的指示。

注意事項：

1. 所有試題均為四選一的選擇題，答錯不倒扣。
2. 試題中所附圖形，如有附上比例尺，以比例尺為依據作答；若無比例尺，則該圖僅作為參考，不代表實際大小。
3. 可利用題本中空白部分計算，切勿在答案卡上計算。

作答方式：

請依照題意從四個選項中選出一個正確或最佳的答案，並用 2B 鉛筆在答案卡上相應的位置畫記，請務必將選項塗黑、塗滿。如果需要修改答案，請使用橡皮擦擦拭乾淨，重新塗黑答案。例如答案為 B，則將 (B) 選項塗黑、塗滿，即：(A) ● (C) (D)

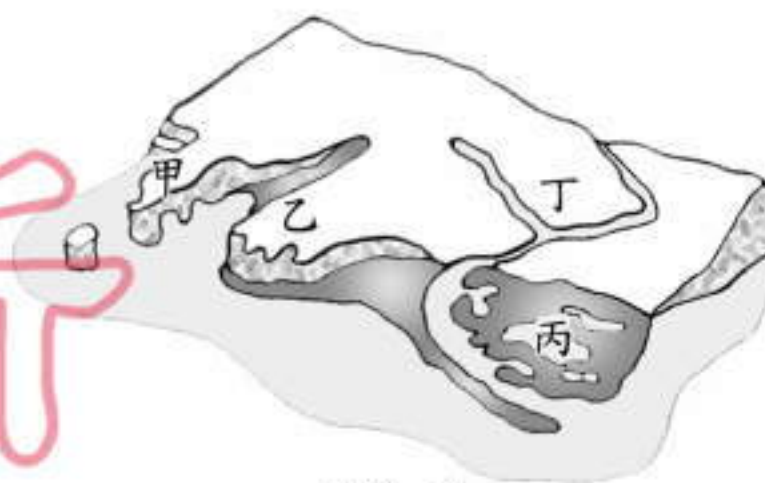
以下為錯誤的畫記方式，可能導致電腦無法正確判讀。如：

- (A) ● (B) (C) (D) — 未將選項塗滿
- (A) (B) (C) (D) — 未將選項塗黑
- (A) ● (C) (D) — 未擦拭乾淨
- (A) ● (B) (C) (D) — 塗出選項外
- (A) ● ● (C) (D) — 同時塗兩個選項

請聽到鈴（鐘）聲響後才翻頁作答

1. 阿勇想去參觀舅舅的牡蠣養殖場，已知養殖牡蠣的蚵架設置在海邊潟湖地區，當地的海岸景觀如圖(一)所示。請問：阿勇應前往圖中的哪一個地方？

- (A) 甲
(B) 乙
(C) 丙
(D) 丁

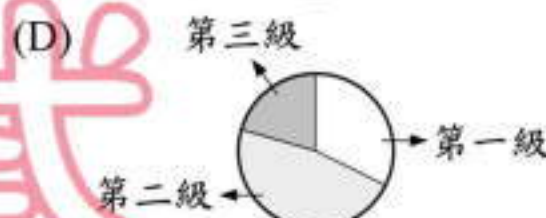
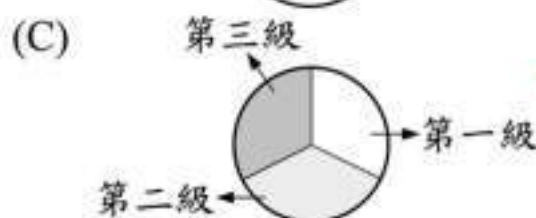
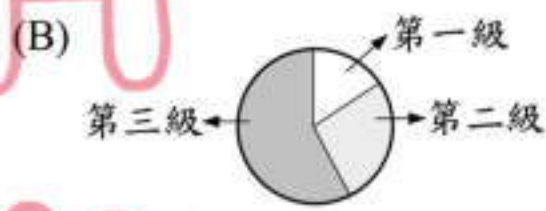


圖(一)

2. 小蘭的旅遊日記寫著：「這裡號稱是最大的生物資源寶庫，植物和鳥類的種類占世界品種一半以上，但是天氣很悶，讓我覺得不是很舒適。」由以上敘述可推知，該旅遊地區的植被種類為下列哪一項？

- (A) 苔原
(B) 針葉林
(C) 濕草原
(D) 熱帶雨林

3. 下列為四個地區三級產業比例圓餅圖，當人口數量達到一定的規模時，何者最可能是都市型聚落？



4. 二千多年前的古人發現：「夏至當天中午，當太陽直射埃及的亞斯文時，同時在北邊的亞力山卓，太陽卻偏離頭頂七點五度，利用此角度差異可以算出地球的大小。」請問：這個方法的應用是因為埃及具有下列哪一項特性？

- (A) 沙漠氣候
(B) 鄰近西亞
(C) 迴歸線經過
(D) 河流定期氾濫

5. 表(一)是學力國進出口的主要商品表。依據表中資料判斷，學力國工業發展具有下列哪一項特色？

- (A) 工業原料缺乏
(B) 消費市場狹小
(C) 勞工薪資上漲
(D) 工廠分布集中

表(一)

進口商品	出口商品
電機設備及其零件、機械用具及其零件、礦物原料、光學儀器、有機化學品……	電子產品、電機、電器、基本金屬及其製品、塑膠及其製品、運輸工具、調製食品……

6. 阿新在課堂上聽老師介紹臺灣歷史，他對劉銘傳開發臺灣的過程深感興趣，想進一步了解相關史實。下列哪一本書最符合他的要求？

- (A) 《牡丹社的悲歌》
- (B) 《霧社事件始末》
- (C) 《臺灣民主國的故事》
- (D) 《臺灣鐵路興築緣起》

7. 小美在書店看到一則漫畫如圖(二)。它的內涵比較接近先秦時代哪一學派的思想？



圖(二)

- (A) 儒家
- (B) 道家
- (C) 墨家
- (D) 法家

8. 清末國局動盪不安，為救亡圖存，有識之士提出變法改革主張，但都未能成功，重要的原因之一在於保守派的反對。下列哪一位為當時最具影響力的保守派人物？

- (A) 李鴻章
- (B) 慈禧太后
- (C) 德宗光緒帝
- (D) 恭親王奕訢

9. 阿慧看到一段歷史敘述：「既然只有對神的虔誠信仰是使人得救的唯一途徑，那麼，即使人們購買抵免罪過的贖罪券，也不一定保證蒙獲拯救。」以上敘述與下列哪一史實關係最密切？

- (A) 羅馬帝國定基督教為國教
- (B) 奧古斯丁建立神學體系
- (C) 東正教與羅馬公教決裂
- (D) 馬丁路德掀起宗教改革

10. 舊石器時代的臺灣，人們居住在洞穴或岩蔭中，過著採集、狩獵和漁撈的生活，且已知用火與製作石器。下列哪一文化為此時期的代表？

- (A) 長濱文化
- (B) 卑南文化
- (C) 圓山文化
- (D) 靜浦文化

11. 表(二)是民國 91 年行政院公布的國情統計部分摘要。根據表中內容判斷，民國 80 年至 89 年間，我國人民的社會參與活動具有下列哪一種現象？

表(二)

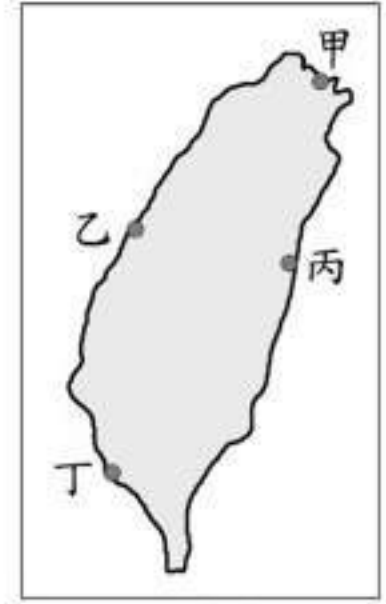
項 目	80	83	85	87	89
職業團體參與指數	100.1	101.0	100	99.5	98.9
社會團體參與指數	98.4	99.7	100	100.8	102.2
志願服務參與指數	97.2	97.0	100	103.2	106.8

(註：將民國 85 年人民的各項社會參與比率定為指數 100)

- (A) 人民對社會服務的需求日漸減少
(B) 參與政黨活動的人口比率漸降低
(C) 國人參與社會性團體的意願提升
(D) 農工商會組織入會會員人數大增
12. 小明的母親參加鎮民服務社的電腦課程，學會利用網路來獲取資訊，也結交不少好朋友。若她還想從事其他社會教育的進修，則可以透過下列哪一種方式達成？
(A) 就讀二專
(B) 就讀研究所
(C) 就讀技術學院
(D) 就讀社區大學
13. 我們經常看到商家以「買二送一」或贈送其他商品的策略來吸引消費者，藉以促銷商品。請問：上述提供贈品的行銷方式，是希望達到下列哪一種效果？
(A) 提高購買能力
(B) 增加購買意願
(C) 提供交易媒介
(D) 降低交易風險
14. 新聞報導：「……國人前往日本北海道觀光者眾，但最近北海道的部分民宿業者指稱，港臺的自助旅行者訂房後，卻經常不按時前往亦未取消，造成他們嚴重的損失，因此考慮以後不再接受港臺地區旅客的訂房。」以上現象如果屬實，顯現國人上述的作為缺乏哪一種素養？
(A) 國民外交
(B) 國民禮儀
(C) 國際合作
(D) 國際交流
15. 在民國五十年代，政府禁止原住民社會使用母語，要求原住民縮短祭典時間，並視原住民傳統服飾為不雅的象徵。請問：上述現象顯示當時未能落實下列哪一項文化交流的原則？
(A) 了解與認同世界文化
(B) 促進社會統整與共識
(C) 發揮互助合作的精神
(D) 尊重不同文化的特色

16. 圖(三)為臺灣四大國際性海港的位置圖，哪一個海港的貨櫃運輸量最大？

- (A)甲
- (B)乙
- (C)丙
- (D)丁



圖(三)

17. 怡君在留學期間和美國人安東尼結婚，畢業後與丈夫回臺灣定居，五年內生了愛君和愛尼二個小孩。請問：愛君和愛尼的出生，對於臺灣人口數的改變屬於下列哪一種情形？

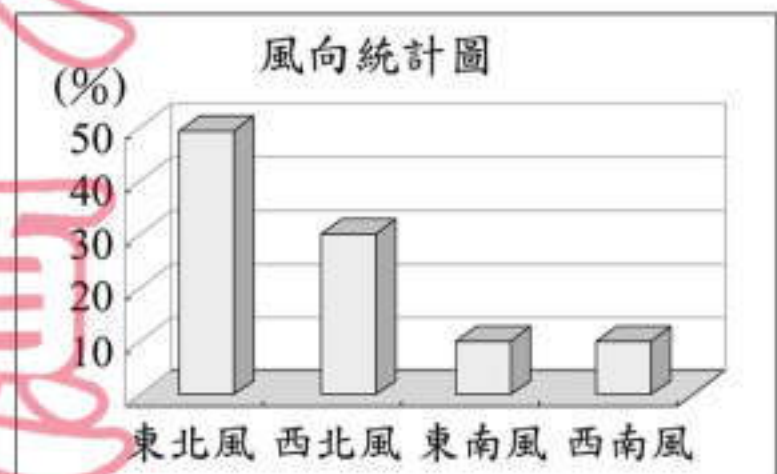
- (A)國外移動
- (B)拉力因素
- (C)自然增加
- (D)社會增加

18. 冰島是全世界最北的國家，在世界的地塊中屬於較晚期形成的土地，首都雷克雅維克意為「冒煙的港灣」。依據冰島的環境判斷，下列哪一項為造成其「冒煙」的主因？

- (A)火山作用
- (B)冰河作用
- (C)海水作用
- (D)河流作用

19. 圖(四)為東亞季風區某個城市一月份的風向統計圖。請問：該城市的房屋門窗，朝下列哪一個方向，較可以避免冷風的侵襲？

- (A)東
- (B)西
- (C)南
- (D)北



圖(四)

20. 印度半島位於亞洲，它有「亞洲次大陸」之稱。這個稱呼是因為印度半島在下列哪一方面自成範圍？

- (A)水系
- (B)氣候
- (C)地形
- (D)宗教

新聞題本

21. 艾玲參加學校的日語社，老師說日文是模仿中國文字而製成。請問：日文的製成與下列哪一背景有關？
- (A)大化革新
 - (B)幕府政治
 - (C)鎖國政策
 - (D)明治維新
22. 從清末到民初，面對西方勢力的入侵，中國知識分子曾發起多次救國圖強運動，在層次上可分為器物、制度和觀念三個層面。下列哪一運動屬於器物層面的改革？
- (A)自強運動
 - (B)維新運動
 - (C)立憲運動
 - (D)革命運動
23. 歐洲有位君主倡言：「國家的利益高於一切，為此，我們可以用盡一切手段來維持政治權力與國家的利益，道德和宗教規範都是不切實用的。」下列哪一位政治思想家的主張最符合上述的言論？
- (A)洛克
 - (B)盧梭
 - (C)孟德斯鳩
 - (D)馬基維利
24. 一九二〇年代，臺灣有識之士成立了臺灣文化協會，為凝聚臺人的民族意識與提高臺灣的文化，致力於下列哪一種社會運動？
- (A)推動兩性平權
 - (B)要求土地所有權
 - (C)傳播新知啟迪民智
 - (D)保存社會傳統習俗
25. 中西歷史時常交互影響。中國在秦漢時北伐匈奴，匈奴戰敗西逃，迫使日耳曼民族遷徙，結果導致下列哪一帝國的滅亡？
- (A)波斯帝國
 - (B)亞歷山大帝國
 - (C)西羅馬帝國
 - (D)阿拉伯帝國
26. 第二次世界大戰結束後，國共內戰，國民政府遷臺，遷臺之初兩岸局勢緊張，但因為哪一事件，促使美國派遣第七艦隊保衛臺灣海峽安全，才穩定了臺海局勢？
- (A)韓戰
 - (B)越戰
 - (C)古寧頭戰役
 - (D)八二三炮戰

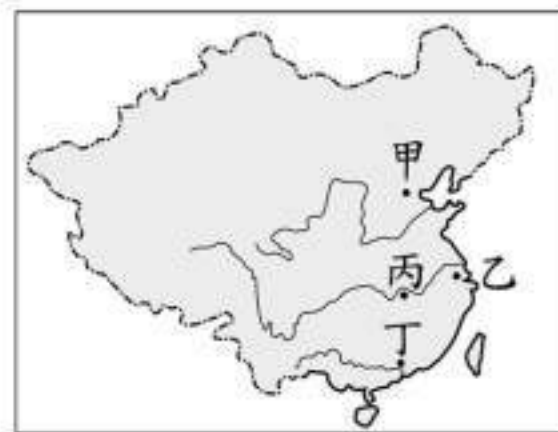
請翻頁繼續作答

新聞用試題本

27. 當颱風來襲，公司行號與中、小學是否上班上學的規定不一致時，常造成「父母必須上班，而學童在家無人照顧」的問題，此現象應是下列哪一種家庭型態的困擾？
(A)大家庭
(B)三代同鄰
(C)核心家庭
(D)折衷家庭
28. 司法院大法官會議解釋：學生如受到學校退學、開除等處分，經校內申訴未獲救濟者，可以提起訴願及行政訴訟。請問：上述的解釋，是為了維護人民的哪一項基本權利？
(A)平等權
(B)自由權
(C)受益權
(D)參政權
29. 在國家公園、博物館或各地名勝古蹟，常見受過訓練的義工，熱心的為參觀民眾進行解說及導覽。請問：這種義工行為是哪一種公民素養的表現？
(A)增進公眾利益
(B)培養公共道德
(C)維護社會安全
(D)追求社會正義
30. 某夜阿德散步時，一時興起而沿路跟追一位女士，造成該女士的驚恐，雖經巡邏員警勸阻，但他仍執意繼續跟蹤。請問：阿德的行為，最主要觸犯下列哪一種法律的規定？
(A)《民法》
(B)《刑法》
(C)《社會秩序維護法》
(D)《道路交通管理處罰條例》
31. 民國 90 年，行政院通過公務人員休假改進措施，將每年強制休假由 7 天調整為 14 天，並取消國外旅遊補助。政府這項措施，除了為促進國內旅遊發展外，主要具有下列哪一種作用？
(A)鼓勵休閒生活
(B)落實社區再造
(C)促進產業升級
(D)均衡城鄉發展
32. 觸犯刑事法的規定而構成犯罪行為時，須負刑事責任。請問：下列哪一項行為應負起刑事責任？
(A)騎乘機車時未戴安全帽
(B)將同學的手表占為己有
(C)與有犯罪前科的人交往
(D)訂婚後不依照婚約結婚

33. 清宣統三年革命黨人發動起事，當時各省陸續響應，號稱「武昌起義」。武昌起義發生地點在圖(五)的哪一處？

(A)甲
(B)乙
(C)丙
(D)丁



圖(五)

34. 小龍看了一部電影，對影片中居民的生活環境印象深刻：「當地高山聳峙，十分寒冷荒涼，幾乎看不到樹木，一種毛很長的牛是居民最重要的運輸工具，必須依賴牠負重載送與外界交換物資……。」請問：小龍回家後想進一步瞭解當地居民的生活，參閱地理課本裡哪一省區的內容最適當？

(A)西藏自治區
(B)內蒙古自治區
(C)寧夏回族自治區
(D)新疆維吾爾自治區

35. 圖(六)是十三世紀羅馬人所繪的古地圖，其中T字形部分為海洋或河流，其餘部分為三大陸塊。根據當時人們對世界的認知，甲地區最可能是下列哪一個陸塊？

(A)美洲
(B)非洲
(C)澳洲
(D)南極洲



圖(六)

36. 越南、泰國為世界重要稻米出口國，兩地盛產稻米的原因，除了高溫多雨的氣候條件外，還與下列哪一種環境最有關係？

(A)多港埠型的都市
(B)三角洲面積廣大
(C)中印文化的影響
(D)受殖民國的統治

37. 近年來，中國大陸發生嚴重的沙塵暴，北京天空一片灰濛，行車與工作極為不便。沙塵暴的形成需要強勁持久的風力，以及地表鬆散乾燥的沙塵。若依據這兩個條件，中國大陸沙塵暴的發生與下列哪一地區的沙漠化最有關係？

(A)東北
(B)華北
(C)塞北
(D)西部

新聞題本

38. 第二次世界大戰後，美國推動「馬歇爾計畫」以援助歐洲。下列哪一項是這個計畫的主要目的？
- (A)加強歐美文化交流
 - (B)促進歐洲政治整合
 - (C)強化西歐各國軍力
 - (D)促使歐洲經濟復甦
39. 小薇從書店買了一本《清聖祖康熙大帝傳》，她在查閱歷史課本後發現，「康熙」是清聖祖的年號。請問：在中國歷史上，哪一位帝王首先開始使用「年號」？
- (A)秦始皇
 - (B)漢武帝
 - (C)隋文帝
 - (D)唐太宗
40. 魏晉南北朝時期政局雖然動盪不安，但是世族在社會上仍然維持崇高的地位，不受政局變動影響。下列哪一項是造成這種現象的主要原因？
- (A)皇帝尊崇儒術，擴張書香世家勢力
 - (B)朝廷薦舉孝廉，形成許多世族門閥
 - (C)行九品官人法，人才評選重視家世
 - (D)科舉考試公平，造成新的世族勢力
41. 一封發給北京某報社的電報，主要內容如下：「……學生為了山東問題，向曹、章、陸等官員進行示威，部分官員受傷嚴重，政府因此傾向判處學生死刑，並解散大學。……有人認為學生只是出自愛國熱誠，並沒有別的企圖，即使有過失，也是可以原諒的。」請問：這封電報應是為下列哪一事件而發的？
- (A)五四運動
 - (B)西安事變
 - (C)文化大革命
 - (D)六四天安門事件
42. 明神宗時，大學士張居正當政，曾大刀闊斧進行各項改革，其中的「一條鞭法」主要是針對下列哪一方面的革新？
- (A)政治
 - (B)經濟
 - (C)國防
 - (D)教育

新

聞

試

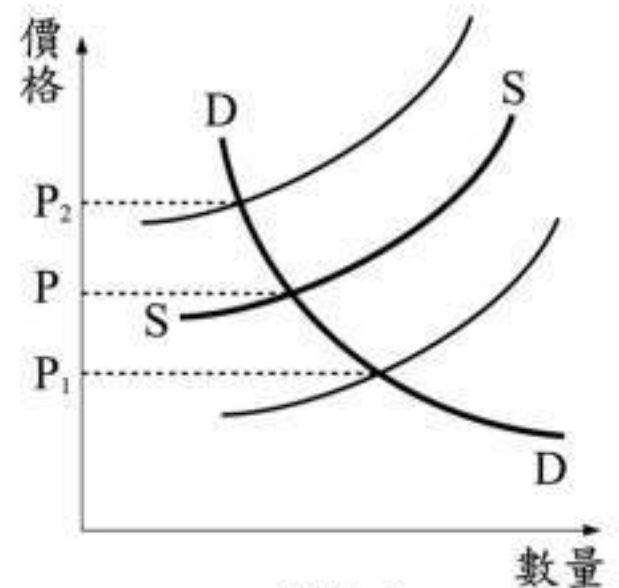
題

本

43. 現代社區發展是以「地緣關係」為基礎，透過「行動參與」的方法，來達成「心理社區」的最終目的。由上述的說明，可看出下列哪一項為社區發展的核心理念？
- (A) 社區活動
 - (B) 社區型態
 - (C) 社區意識
 - (D) 社區環境

44. 日前，波波國的中央銀行為了讓波幣對美元的匯率升值，於是大量拋售美元，因而促使進口外國產品的成本降低。根據上述內容推斷，貨幣匯率的變動與下列哪一項的關係最密切？
- (A) 外部效果
 - (B) 國際貿易
 - (C) 比較利益原理
 - (D) 分散風險原則

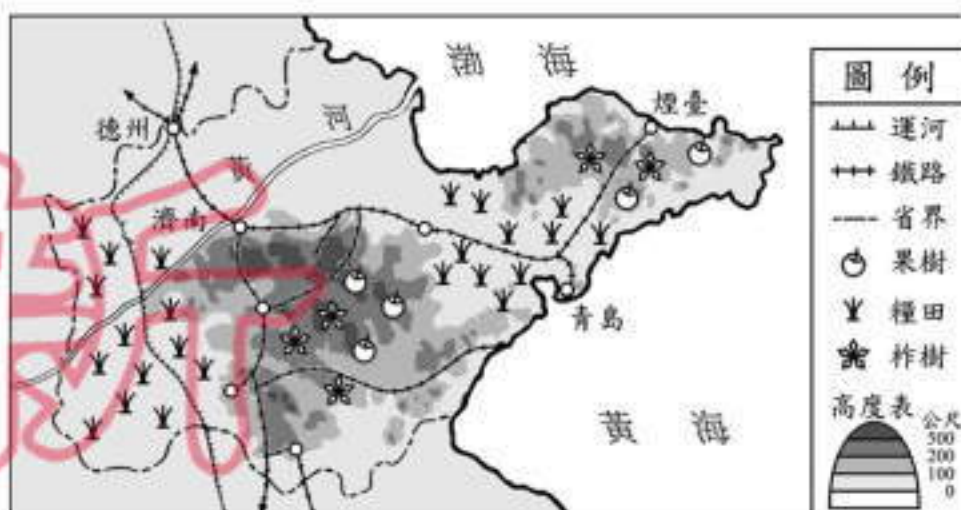
45. 圖(七)是哈達縣內西瓜的供給曲線SS和需求曲線DD。某日新聞報導：「連日雨水過多，瓜藤敗壞，瓜農提早採收西瓜，市場瓜滿為患。」根據上述內容判斷，在其他條件不變的情況下，此時該縣西瓜的價格P最可能產生哪一種變化？
- (A) 不變
 - (B) 移至 P_1
 - (C) 移至 P_2
 - (D) 無法判定



46. 國內立即型公益彩券（吉時樂）經銷商的遴選，規定必須為原住民、身心障礙者或低收入單親家庭等才具有申請資格。請問：上述做法主要是基於下列哪一種理念而實施的？
- (A) 促進階層流動
 - (B) 區隔特殊族群
 - (C) 維護社會正義
 - (D) 增進適應能力
47. 為了因應全球經濟體系的轉變，我國也正朝向「知識經濟」的方向發展。所謂「知識經濟」是指利用知識資本作為主要生產要素，透過持續不斷的創新，並善用資訊科技的力量，提升整體經濟成長。請問：相較於過去，知識經濟更強調下列哪一項的重要性？
- (A) 人力
 - (B) 資本
 - (C) 土地
 - (D) 制度

請翻頁繼續作答

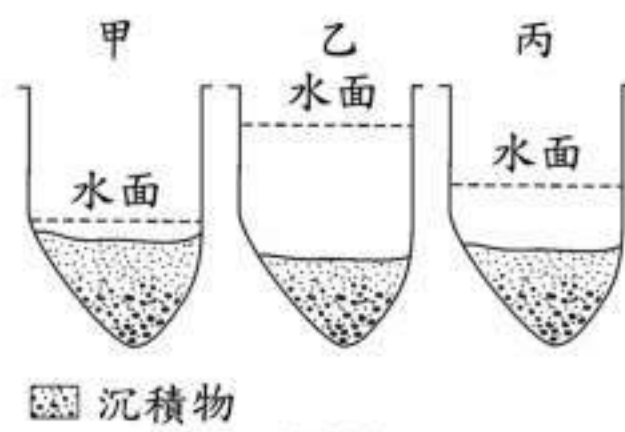
48. 圖(八)為山東省物產分布圖。依據圖中資料判斷，果樹、柞樹與糧食作物的分布主要受下列哪一項因素影響？
- (A)地勢高低
(B)距海遠近
(C)灌溉有無
(D)交通運輸



圖(八)

49. 小宏全家搬到中國東北地區居住，下列是家人在當地找工作的期望。依據當地的環境判斷，哪一位比較沒有工作機會？
- (A)爸爸：「我希望到煉油廠工作。」
(B)媽媽：「我要到鋼鐵工廠上班。」
(C)哥哥：「我想在長白山地經營茶園。」
(D)姊姊：「我要在松遼平原上種植大豆與小麥。」

50. 圖(九)為曾文溪某地點在不同季節的主要水位示意圖。請問：圖中甲的現象最主要出現在下列哪一個季節？
- (A)春季
(B)夏季
(C)秋季
(D)冬季



圖(九)

51. 閩南話在福建省許多地方的讀音都不太一樣，如：「讀書」、「滷蛋」、「粥」等。請問：這種現象與當地的哪一種環境最有關係？
- (A)土樓建築，居民集中居住
(B)沿海地區，開放式經濟發達
(C)海岸曲折多港灣，出海便利
(D)河流自成系統，內部往來不易

52. 圖(十)是臺灣地區常見的市街建築，居民常將一樓接鄰馬路的部分當作通道，稱為「亭仔腳」(騎樓)。請問：這種建築特色與下列哪一項最有關係？
- (A)強風多
(B)雨日長
(C)人口多
(D)地震頻繁



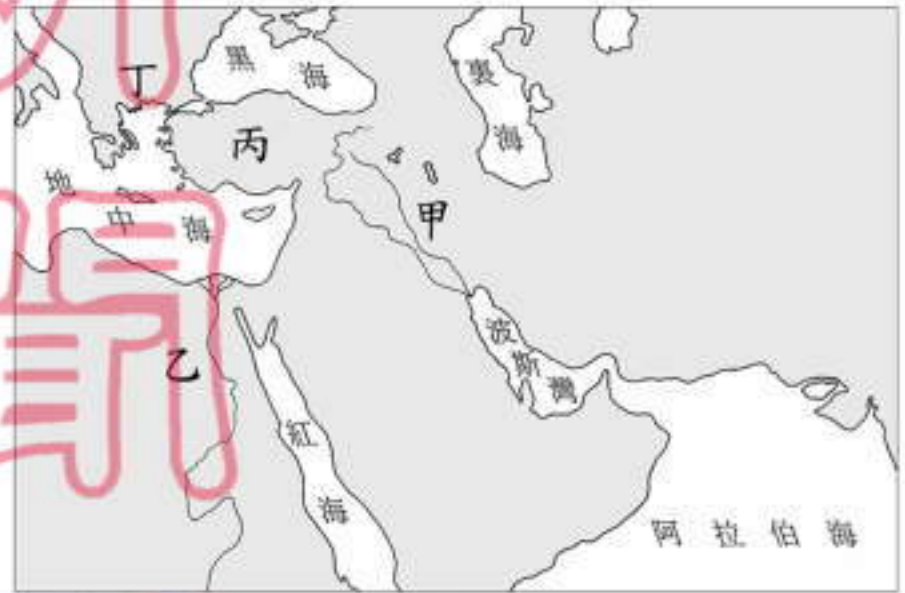
圖(十)

53. 宋初為解決唐末以來藩鎮割據的問題，實施「強幹弱枝」政策，雖然能夠控制地方，集權中央，但也產生下列哪一項流弊？

- (A)宗室相殘
- (B)邊防不振
- (C)外戚專權
- (D)土地兼併

54. 古代的蘇美人、巴比倫人、亞述人及加爾底亞人等曾在「肥沃月彎」地區創造輝煌的文明，影響後世很大。請問：圖(十一)中哪一個地區為其文明發源地？

- (A)甲
- (B)乙
- (C)丙
- (D)丁



圖(十一)

55. 西元 1926 年，陳先生與一群朋友由基隆上船，到日本接受大學教育。當時像他們這樣離鄉背井，渡洋求學的人還有很多。請問：下列哪一項原因造成當時此種風潮？

- (A)臺人在臺灣升學不容易
- (B)日本教育制度較為公平
- (C)臺灣沒有高等教育學校
- (D)日本倡導學術研究政策


56. 琪琪到歐洲某國旅遊，導遊說：「在歷史上，這個國家曾被羅馬帝國、西哥德王國及回教政權等統治過，所以它是一個具有多種文化特色的國家。」依此推斷，以上敘述最可能是下列哪一個國家？

- (A)英國
- (B)丹麥
- (C)法國
- (D)西班牙

57. 上歷史課時，老師要同學就歐洲藝術的發展進行分組報告。小元與同學的報告內容以抽象畫的風格和史特拉溫斯基的音樂為主。請問：小元這組報告的背景，應是設定在下列哪一時期？

- (A)中古時期
- (B)文藝復興時代
- (C)啟蒙運動時期
- (D)二十世紀

58. 圖(十二)為撒尼國過去、現在以及推估未來的老年人口與就業人口比率之變化情形。根據圖示內容判斷，下列哪一項敘述最符合該國的社會變遷趨勢？



圖(十二)

- (A)三代同堂將被三代同鄰取代
 (B)人口老化致使失業人口增加
 (C)老年人口不變就業人口增加
 (D)就業人口的納稅負擔漸增加
59. 《兩性工作平等法》實施後，阿雄想申請留職停薪在家育嬰，但又考量到家庭收入可能短少，以及將來復職所要面臨的種種問題。請問：阿雄上述的考量符合經濟學的哪一種觀念？

- (A)受益原則
 (B)機會成本
 (C)需求法則
 (D)負擔能力原則

60. 表(三)是四家工廠的生產成本與產銷記錄表，其生產的產品及產品單位售價皆相同。請問：在其他條件不計的情形下，哪一家工廠所獲取的利潤最高？

表(三)

工廠	工資 (人數×月薪)	機器 (數量×單位成本)	產量 (件/月)	單位售價 (元/件)
甲	6×20,000	6×50,000	300	4,000
乙	5×30,000	5×80,000	300	4,000
丙	3×40,000	3×90,000	300	4,000
丁	4×25,000	4×60,000	300	4,000

- (A)甲
 (B)乙
 (C)丙
 (D)丁

61. 小如依法向齊家縣政府申請開設麵包店的商業登記，依規定日期前去領取登記證時，卻發現業務承辦部門因疏忽尚未處理，且對於她的申訴置之不理，嚴重損害了她的權益。請問：此時她應該尋求下列哪一種途徑進行權利救濟？

- (A)向地方法院提起民事訴訟
 (B)向齊家縣縣政府提起訴願
 (C)請求檢察官起訴承辦人員
 (D)請求監察院彈劾該縣縣長

62. 表(四)是我國《憲法》及增修條文中，有關中央政府組織職權的部分內容。請問：若要進行《憲法》條文的增修，須透過哪個(些)機關行使職權才可完成？

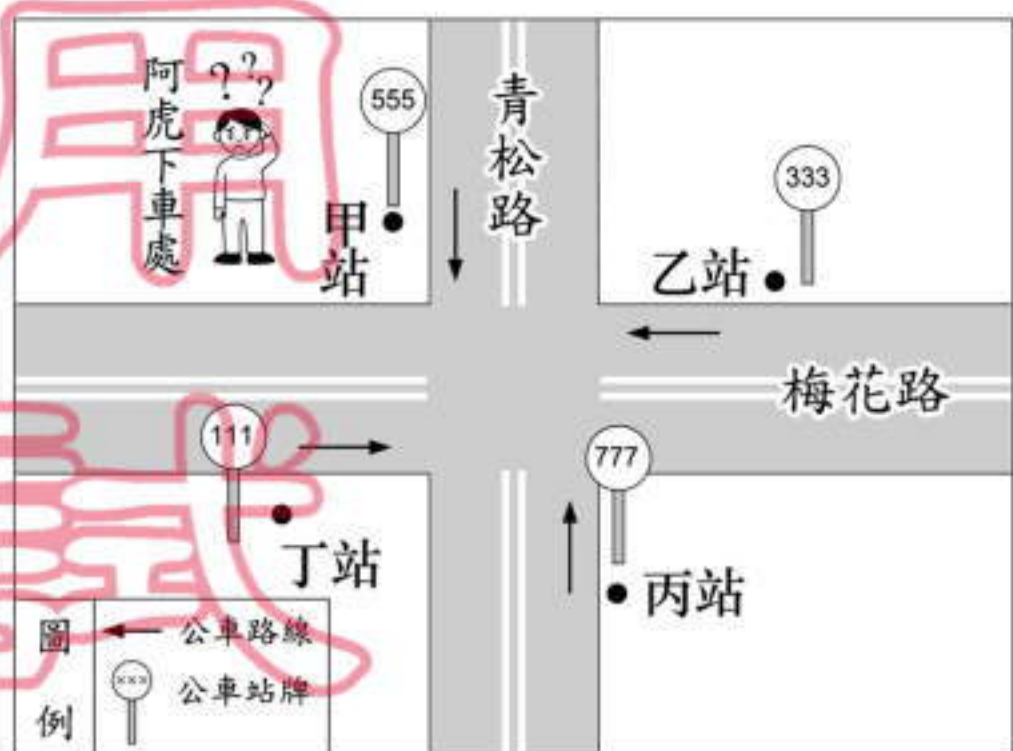
- (A)國民大會
 (B)立法院、司法院
 (C)立法院、國民大會
 (D)立法院、司法院、國民大會

表(四)

機關	職權
立法院	1.制定法律 2.監督政府
司法院	1.解釋憲法 2.統一解釋法律與命令
國民大會	1.複決立法院所提之憲法修正案 2.複決立法院所提之領土變更案 3.議決立法院所提之總統、副總統彈劾案

63. 圖(十三)是一張未標示方向的簡易地圖，路名如圖所示，圖中的十字路口有甲乙丙丁四個公車站，所有的公車皆靠右直行。已知阿虎坐公車向東行，在青松路甲公車站處下車，他打算到梅花路的北端去拜訪朋友。請問：阿虎要到哪一個公車站轉車才正確？

- (A)甲站
 (B)乙站
 (C)丙站
 (D)丁站



圖(十三)

新
聞
試
題
本