

# 91 第二次國民中學學生基本學力測驗

## 社會科題本

請不要翻到次頁！

讀完本頁的說明，聽從監試委員的指示才開始作答！

※請先確認你的答案卡、准考證與座位號碼是否一致無誤。

請閱讀以下測驗作答說明：

測驗說明：

這是國民中學學生基本學力測驗社會科題本，題本採雙面印刷，共 13 頁，有 63 題選擇題，每題都只有一個正確或最佳的答案。測驗時間從 10:50 到 12:00，共 70 分鐘。作答開始與結束請聽從監試委員的指示。

注意事項：

1. 所有試題均為四選一的選擇題，答錯不倒扣。
2. 試題中所附圖形，如有附上比例尺，以比例尺為依據作答；若無比例尺，則該圖僅作為參考，不代表實際大小。
3. 可利用題本中空白部分計算，切勿在答案卡上計算。

作答方式：

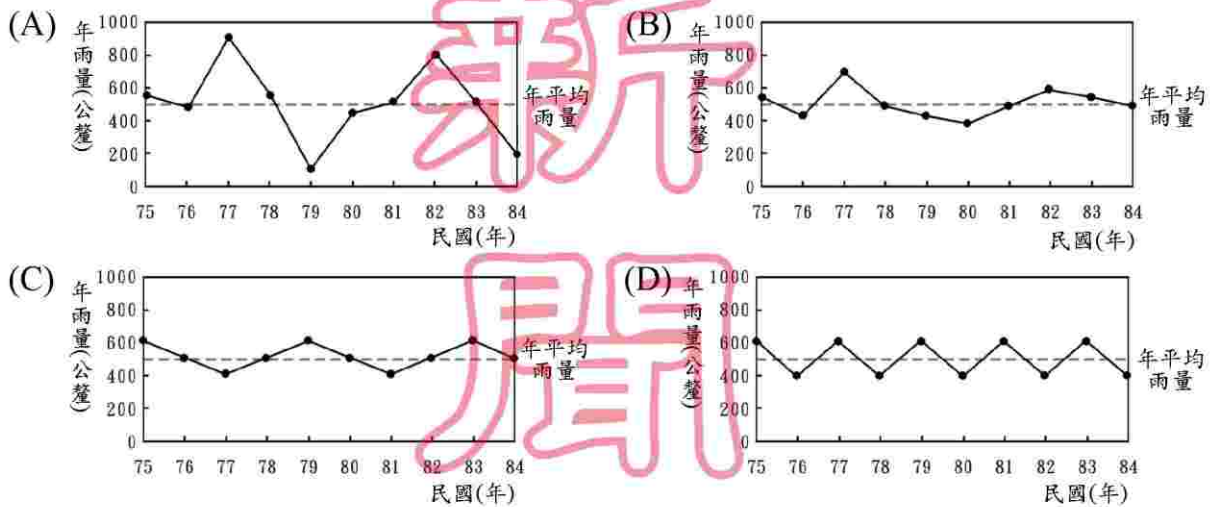
請依照題意從四個選項中選出一個正確或最佳的答案，並用 2B 鉛筆在答案卡上相應的位置畫記，請務必將選項塗黑、塗滿。如果需要修改答案，請使用橡皮擦擦拭乾淨，重新塗黑答案。例如答案為 B，則將 B 選項塗黑、塗滿，即：A ● C D

以下為錯誤的畫記方式，可能導致電腦無法正確判讀。如：

- Ⓐ ● Ⓒ Ⓓ — 未將選項塗滿
- Ⓐ Ⓑ Ⓒ Ⓓ — 未將選項塗黑
- Ⓐ ● Ⓒ Ⓓ — 未擦拭乾淨
- Ⓐ ●Ⓑ Ⓒ Ⓓ — 塗出選項外
- Ⓐ ● ● Ⓓ — 同時塗兩個選項

請聽到鈴（鐘）聲響後才翻頁作答

1. 最安全保險公司正在評估四個地區的水旱災保費，當某地發生水旱災的機會越大，保費將越高。若依據雨量變化圖的資料加以判斷，下列哪一個地區的水旱災保費應該最高？

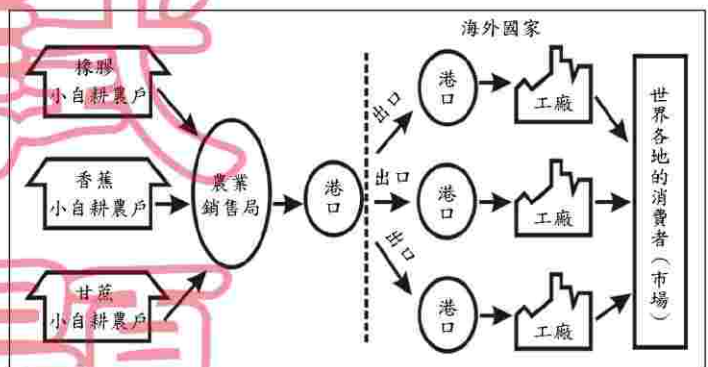


2. 選舉時常出現「芋頭蕃薯一家親」、「新舊住民大融合」等口號，反映出臺灣地區多元族系的現象。請問：下列哪一項為形成這種現象的主要原因？

- (A) 臺灣各地資源豐富  
 (B) 臺灣人口分布不均  
 (C) 移入臺灣定居者多  
 (D) 臺灣是各族系的發源地

3. 圖(一)為某地熱帶栽培業農場的經營方式，此圖最能表達熱帶栽培業的何種經營特色？

- (A) 大規模種植  
 (B) 高度機械化  
 (C) 投入大量的資金  
 (D) 產品市場以海外為主



圖(一)

4. 綠島的朝日溫泉，泉水自海岸邊的礁石湧出，形成位於海裡的露天溫泉浴場，在義大利西西里島也有這種類似的溫泉。請問：海底溫泉的成因最可能是下列何者？

- (A) 大陸棚廣大  
 (B) 珊瑚礁廣布  
 (C) 黑潮暖流經過  
 (D) 位於板塊接觸帶上



5. 「張燈結彩喜洋洋，勝利歌兒大家唱，唱遍城市和村莊，臺灣光復不能忘……。」  
以上這首《臺灣光復紀念歌》，是為了慶祝臺灣脫離哪個政權的統治？  
(A)荷蘭  
(B)明鄭  
(C)清朝  
(D)日本
6. 下列是一部歷史電影的部分劇情簡介：  
「一位好大喜功的君主，改用皇帝的稱號來榮耀自己偉大的功業，並採取嚴厲的法律措施以推行中央集權與文化統一政策，動用龐大的人力興建浩大的工程，然而卻因此走向滅亡之路。」  
請問：這應是描述哪一位君主事蹟的電影？  
(A)秦始皇  
(B)漢武帝  
(C)唐玄宗  
(D)明太祖
7. 家雄在星期天參加一場演講會，演講的內容以張騫、玄奘、徐光啟等人的事蹟為主，引起熱烈的討論。由此推斷，這次演講的主題最可能是下列哪一項？  
(A)外來宗教的中國化  
(B)科技發展與文明變遷  
(C)中西交通與文化交流  
(D)中國文學的時代精神
8. 水準藝術中心計畫展覽二十世紀注重抽象表現的超現實藝術，想以某位藝術家的作品作為本次展覽的代表，下列何人是最適當的選擇？  
(A)喬托  
(B)達芬奇  
(C)畢卡索  
(D)米開朗基羅
9. 小傑在書店看到一則連環漫畫(如圖二)，從中可以看出先秦時代哪一學派的思想？



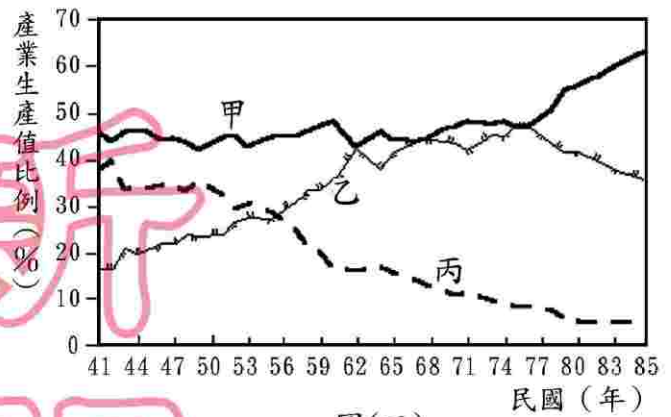
圖(二)

- (A)儒家                      (B)道家                      (C)墨家                      (D)法家

10. 原住民平埔族祭祀的對象除了日、月、星辰、河川之外，也祭拜動物與祖先的靈魂。從平埔族這一行為可知其宗教信仰的特色為何？  
(A)相信萬物皆有神靈  
(B)崇拜萬善爺的慈悲  
(C)彰顯義民爺的英勇  
(D)重視修煉成仙法術
11. 小君帶了 1000 元到鞋店買鞋，試穿之後覺得相當滿意，但一看標價寫著 1500 元，而且店家表示不二價，所以小君沒買就回家了。請問：這項交易當時無法完成的主要原因為何？  
(A)小君沒有意願  
(B)小君沒有能力  
(C)鞋店沒有意願  
(D)鞋店沒有能力
12. 以往家庭暴力的發生，常因無「法」可管而被視為家務事，但在《家庭暴力防治法》公布實施後，則可以透過法律的規定來保護家庭成員。請問：下列哪一種處理方式較能減少家庭暴力的傷害？  
(A)默默承受  
(B)離家出走  
(C)找朋友聲援  
(D)聲請保護令
13. 二月十二日臺灣發生地震，次日某報有一則關於地震的新聞，內容如下：  
昨日中部又傳出芮氏規模 5.0 地震，中部山區主要道路因受創而封閉，行政院已指示中部各縣市政府儘速處理災情。氣象局指出，地震是因歐亞板塊擠壓所造成，屬於正常現象。中部山區每逢地震便傳出嚴重災情，可見山區開發有明顯的人為疏失。
- (甲) (乙) (丙) (丁)
- 請問：在這則新聞中，哪一段敘述屬於記者本身的價值判斷？  
(A)甲  
(B)乙  
(C)丙  
(D)丁
14. 社區意識是指居住在同一個地區的人民，對該地區產生一種休戚與共的心理認同感。依上述定義，下列四位參與「全國社區總體營造大會」代表的說法，何者最能反映該社區具有「社區意識」？  
(A)濟明：「本區的住戶都是高科技產業的從業人員。」  
(B)富足：「本區有一些企業家能提供財源辦理活動。」  
(C)敦仁：「本區的居民都以身為社區的一份子為榮。」  
(D)大同：「本區是縣內唯一都是原住民居住的社區。」



15. 圖(三)為臺灣各級產業生產值比例的變化。請由圖判斷，第一、二、三級產業分別為圖上的哪一條曲線？

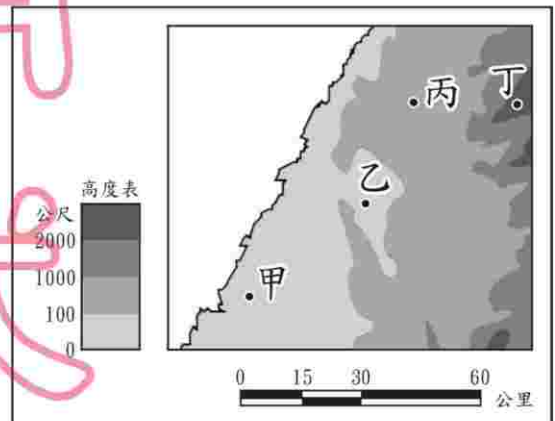


圖(三)

16. 游小虎喜歡到超便宜量販店購物，因為商品多樣、價格便宜，一次可以購足一月所需，但是量販店多設在大都市的郊區，距離較遠，往往要開車前往。請問：量販店選擇郊區作為商場位置的主要原因為何？

- (A) 地形較平坦  
(B) 土地較便宜  
(C) 市場較廣大  
(D) 交通較便利

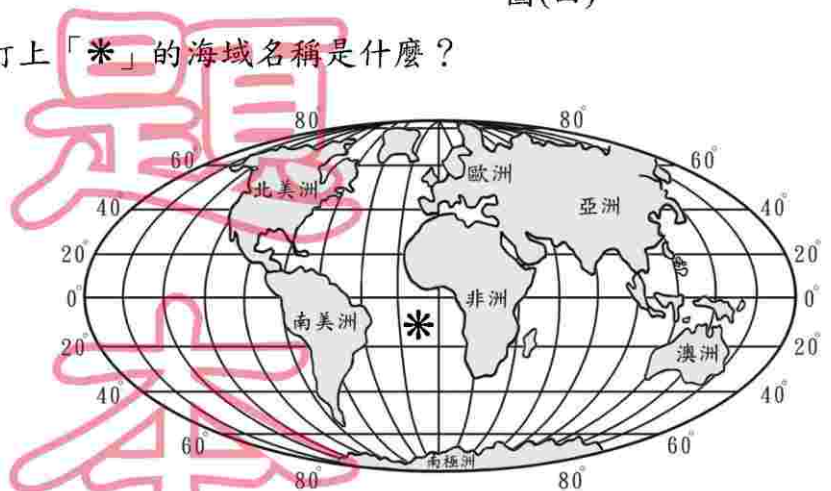
17. 圖(四)為臺灣的部分地形圖，其中四周環山，中間低平的地形稱為盆地。請問：圖中何地最符合此種特性？



圖(四)

18. 圖(五)為世界全圖，圖中打上「\*」的海域名稱是什麼？

- (A) 大西洋  
(B) 太平洋  
(C) 印度洋  
(D) 北極海



圖(五)

19. 章老師上音樂課時，向同學講解音樂所傳達的精神，如「英雄交響曲」表現出對英雄的崇拜感情、「田園交響曲」描述大自然的和諧與美麗、「命運交響曲」展現出與命運搏鬥的精神等。請問：這些作品最能代表歐洲哪一種文藝風格？
- (A)人文主義  
(B)理性主義  
(C)浪漫主義  
(D)現實主義
20. 有一份文件提到清領前期臺灣當時的人口現象，內容大意如下：  
「從北路諸羅以上，直到山後長達一千餘里的地方，漢族婦女不到數百人；南路由鳳山到琅璦以下長達四、五百里的地方，漢族婦女也不過數人而已。」  
請問：以上所描述的情形，其背後原因可能是什麼？
- (A)民間械鬥頻繁，造成婦女傷亡慘重  
(B)清廷頒布政策，禁止男丁攜眷渡臺  
(C)漢族婦女多纏足，不適合移墾社會  
(D)社會普遍重男輕女，導致人口失衡
21. 第一次世界大戰前，希臘脫離鄂圖曼土耳其帝國的統治而獨立；第一次世界大戰後，凱末爾建立土耳其共和國，並運用軍事與外交手段與列強重訂條約，爭取國際地位平等。請問：上述二者是哪一種思想的具體表現？
- (A)民族主義  
(B)自由主義  
(C)社會主義  
(D)社會達爾文主義
22. 安安閱讀歷史故事時，看到以下的敘述：  
「除了某些專業性質的委員會之外，政府的行政官員都是抽籤決定的，所有官員的任期都以一年為限，而司法審判採用多數決原則……，這樣的做法是為了使每一個公民都能參與公共事務。」  
請問：以上的敘述，應是描寫古代哪一個文明的特色？
- (A)希臘  
(B)埃及  
(C)波斯  
(D)羅馬
23. 民國七十九年，中研院在臺北縣八里鄉污水處理廠預定地上，發掘出先民使用過的陶罐、鐵刀，和骨製的矛與魚鉤等器具。由這些出土文物，可看出此一文化遺址應屬於哪一時代？
- (A)舊石器時代 (B)新石器時代早期 (C)新石器時代晚期 (D)金屬器時代



24. 王家養的狗咬傷鄰居的小孩，引起兩家的糾紛且爭執不斷，蔡里長為避免訴訟之累，建議雙方到具有公信力的調解委員會申請調解。請問：調解委員會設置於下列哪一個機關內？
- (A)警察局  
(B)地方法院  
(C)縣、市議會  
(D)鄉鎮、市區公所

25. 樂利國 安和縣將於今年十一月舉行縣長改選。請就表(一)四位候選人所提出的參選政見判斷，哪一位的政見屬於縣長的職權範圍？
- (A)藍中翊  
(B)黃小靜  
(C)白大鑫  
(D)洪阿財

表(一)

姓名	主要參選政見
藍中翊	加入聯合國 拓展官方外交
黃小靜	修改稅法 平衡中央與地方財政
白大鑫	發展交通建設 推動鄉土文化教育
洪阿財	修改全民健保法 提供縣民免費醫療

26. 阿文想要盡個人的力量來回饋社會，於是他以參與人民團體的方式來提倡公益活動。請問：下列哪一種組織最能達成這個目的？
- (A)工會  
(B)同鄉會  
(C)職業公會  
(D)慈善基金會
27. 資本是生產活動的要素之一，以資本的特性而言，下列哪一項交通工具屬於生產活動中所投入的資本？
- (A)弟弟上學時所騎的腳踏車  
(B)姊姊外出旅遊搭乘的火車  
(C)爸爸出門購物時騎的機車  
(D)媽媽營業時所開的計程車
28. 小岑用 50 萬元購買政府所發行的公債，作為個人投資理財的方法之一。請問：這筆錢應屬於政府的何種收入？
- (A)租稅  
(B)規費  
(C)舉債收入  
(D)公營事業收入
29. 大明是一位義工，協助政府取締亂倒垃圾者。但在執行任務時，卻受到被取締者恐嚇危害其生命。請問：大明可透過何種方法來維護自己的權利？
- (A)訴願  
(B)民事訴訟  
(C)行政訴訟  
(D)刑事訴訟

30. 圖(六)是某種岩層的洞穴地形景觀。這種地形的形成，是經由下列何種作用後再沉積而成？

- (A)冰蝕作用
- (B)溶蝕作用
- (C)海蝕作用
- (D)風蝕作用




圖(六)

31. 東北地區是中國大陸最大的天然林區。老張是當地的樵夫，當他在大興安嶺砍柴時，越往北方越容易看到哪一種森林？

- (A)雨林
- (B)闊葉林
- (C)針葉林
- (D)混合林

32. 圖(七)是福建省內陸地區的土樓，此種傳統建築的特色是只設一個大門，底層不開窗，高層才開窗，將對外開口減到最小。請問：形成此種建築特色的主要原因為何？

- (A)治安不佳
- (B)氣候濕熱
- (C)人口過剩
- (D)地勢崎嶇



圖(七)

33. 西亞地區大部分覆蓋著炎熱乾燥的沙漠或石漠，這些地區多半因為缺乏飲水和灌溉用水而無人居住，呈現一片荒涼。請問：造成西亞普遍乾燥的主要原因為何？

- (A)距海遙遠
- (B)高山圍繞
- (C)高壓籠罩
- (D)對流旺盛

34. 中國大陸地形呈現西高東低的趨勢。請問：此特徵與下列哪一項的關係最密切？

- (A)成為著名的季風氣候區
- (B)夏秋之際，沿海多颱風
- (C)冬季氣溫，南北顯著不同
- (D)利於太平洋季風進入內陸



35. 在王爺爺收藏的舊紙幣中，恰好有同一年由國民政府在中國大陸先後發行的三種紙幣(如圖八)。請問：從紙幣發行面額的變化，可推知當時的經濟情形為何？
- (A)國家強盛，紙幣的價值升高  
 (B)通貨膨脹，貨幣購買力變低  
 (C)經濟發達，貨幣需求量大增  
 (D)物資缺乏，製幣的成本增加



圖(八)

36. 張祥出身書香世家，世居汴京，他家左鄰是全京城最有名的中藥鋪，右舍則為他最常去的古董店。請問：這種居住型態的出現，與下列何者關係最為密切？
- (A)紙幣的發行  
 (B)夜市的興起  
 (C)坊市制的打破  
 (D)同鄉會館的成立
37. 民主是近代政治的主流，為了實踐這個理想，歐洲各國陸續發展出各種新制度。下列哪一項是英國對民主制度發展的重要貢獻？
- (A)創立三權分立制  
 (B)首創責任內閣制  
 (C)頒行首部成文憲法  
 (D)確立三級會議制度
38. 小琪在圖書館看到一張舊傳單，上面寫著：
- 推倒雕琢的、阿諛的貴族文學；建設平易的、抒情的國民文學。  
 推倒陳腐的、鋪張的古典文學；建設新鮮的、立誠的寫實文學。  
 推倒迂晦的、艱澀的山林文學；建設明瞭的、通俗的社會文學。
- 請問：這種文學改革的訴求，反映出近代哪一次革新運動的精神？
- (A)自強運動  
 (B)戊戌變法  
 (C)新文化運動  
 (D)文化大革命
39. 中古歐洲，基督教傳教士用拉丁文(羅馬字)拼注異教徒的語言成文字，以教導異教徒閱讀《聖經》。在臺灣史上，曾有哪一國的基督教傳教士為方便向原住民傳教，也有類似的作法？
- (A)荷蘭                      (B)法國                      (C)西班牙                      (D)葡萄牙

40. 現年十五歲的玉峰，因把爸爸給的零用錢花光了，所以他偷偷將家裏的音響賣給朋友，換取現金後向車行訂購一部機車，載著女友到餐廳舉行婚禮。請問：玉峰
- (甲) (乙)  
(丙) (丁)

上述的行為，哪一項具有完全的法律效力？

- (A)甲  
(B)乙  
(C)丙  
(D)丁
41. 阿雄拾獲一本學生辭典並占為己有，經失主阿明知悉後向阿雄索討，但他拒絕歸還以致引發爭執，阿明一氣之下向法院提起訴訟。請問：本案最高可訴訟至哪一級法院？
- (A)地方法院  
(B)高等法院  
(C)最高法院  
(D)最高行政法院

42. 在民主國家中，政府的各項施政都要向人民負責。為達成責任政治的理想，在我國中央政府組織中，除了監察院外，何者也具有監督行政機關的職權？
- (A)行政院  
(B)立法院  
(C)司法院  
(D)考試院

43. 表(二)列出洋洋工廠內四位員工每小時可縫製兔子或小熊玩偶的數量。若以機會成本的觀念來比較每位員工縫製兔子與小熊的數量，在不考慮其他條件的情形下，哪一位員工生產「小熊」的相對成本最高？

表(二)

產品	小玉	美環	阿良	永澤
兔子(隻)	8	6	4	12
小熊(隻)	4	13	8	5

- (A)小玉  
(B)美環  
(C)阿良  
(D)永澤
44. 在民主社會中，每個人都可以表達不同的政治主張，但是為了匯整民意、達成共同的政治目標，應注重下列哪一種制度的健全運作？
- (A)政黨政治  
(B)均權制度  
(C)地方自治  
(D)五權分立



45. 圖(九)是學力鎮的公車時間表，站牌中四個城市與學力鎮的距離皆相等。若只考慮起點和終點的運輸需求，哪一個城市和學力鎮的時間與空間距離因此顯得最短？

- (A)永寧市  
(B)永福市  
(C)永興市  
(D)永安市

快樂客運		學力鎮
往永寧市	7:00-22:00 每10分鐘一班	
往永福市	固定班次 7:00 9:00 11:00 13:00 15:00 17:00	
往永興市	7:00-18:00 每30分鐘一班	
往永安市	7:00 8:00 9:00 10:00 11:00 12:00 固定班次 13:00 14:00 15:00 16:00 17:00	

圖(九)

46. 中國大陸若要利用大運河，進行「南水北調」的工程，將秦嶺以南豐富的河水，引到黃淮平原，解決當地缺水的問題。那麼此工程最可能是引自哪一條河川的水？

- (A)長江  
(B)珠江  
(C)海河  
(D)黃河

47. 郡繡和怡如想利用新年假期出國旅遊，到氣候溫暖且乾爽的地方觀光。請問：下列哪一個國家最符合她們的需求？

(A)	(B)
(C)	(D)

48. 阿城參加日本北海道的雪祭旅行團時，和其他團員們討論到北海道降雪水氣的主要來源。下列哪一位的說法最正確？

- (A)阿蓮：「因為有冬季旺盛的對流」。  
(B)阿蘭：「南下流經沿岸親潮的影響」。  
(C)阿龍：「越過太平洋的東南季風所引起的」。  
(D)阿德：「經過日本海的西北季風所導致的」。

49. 十九世紀以來，帝國主義國家挾其強大軍事力量，進行商業利益與殖民地的爭奪，甚而引發兩次世界大戰。請問：上述各種變動的產生，與下列哪一個歷史事件最有關係？  
(A)地理大發現  
(B)科學革命  
(C)工業革命  
(D)法國大革命
50. 早期臺灣受限於地形及河川的險阻，南北交通以海運為主，直至基隆到高雄的縱貫鐵路全線通車，陸上交通才得以暢通。請問：這段鐵路在何時完成全線通車？  
(A)清領時代前期  
(B)清領時代後期  
(C)日本殖民統治時期  
(D)中華民國在臺灣時期
51. 甲午戰爭後，朝野發出要求改革的呼聲，其中引進「優勝劣敗，適者生存」的觀念，以求救亡圖存的人是誰？  
(A)嚴復  
(B)胡適  
(C)梁啟超  
(D)康有為
52. 劉伯伯到四川 九寨溝旅遊，途中看到一個石碑豎立於山坡上，上面記載所謂「兩萬五千里長征」的歷史事件。請問：此石碑所記載的事件，其歷史背景為何？  
(A)民國 15~17 年革命軍北伐  
(B)民國 19~24 年國共內戰  
(C)民國 26~34 年對日抗戰  
(D)民國 55~65 年文化大革命
53. 南美洲古老的阿茲提克帝國曾流傳一則預言：「白羽神的降臨，是為了懲罰人民，同時也意謂著帝國即將滅亡。」因此，當在十六世紀歐洲人入侵南美洲時，國王以為預言應驗。請問：當時阿茲提克國王所認為的「白羽神」，應是指哪一個國家的人？  
(A)英國  
(B)法國  
(C)荷蘭  
(D)西班牙
54. 以下是兩位同學在上完歷史課後的對話：  
嘉寧：「安史之亂是唐朝最重要的歷史事件。」  
偉智：「這個事件還經歷了好幾個皇帝才平定，不是嗎？」  
老師建議有興趣的同學可查閱相關書籍。請問：下列四本書籍中，何者最適當？  
(A)《史記》 (B)《資治通鑑》 (C)《夢溪筆談》 (D)《三國演義》

# 新聞 用 試 題

請翻頁繼續作答



55. 小甄想參加社區的惜福社，社長告訴她社團的宗旨是推動「資源回收、再利用」的觀念，養成愛護環境、避免資源浪費的習慣，由此可知，惜福社主要是基於何種取向而成立的團體？

- (A)工作取向
- (B)性別取向
- (C)興趣取向
- (D)關係取向

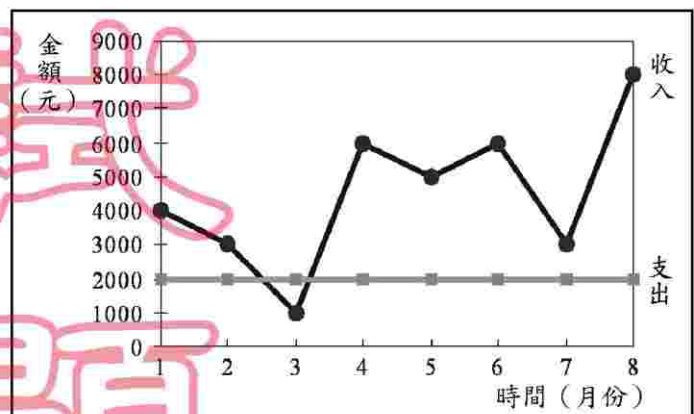
56. 小康去醫院看病，依據《全民健康保險法》的規定，他必須自行負擔部分醫療費用。請問：這種制度是依據經濟學上的何種觀念而設計的？

- (A)受益原則
- (B)需求法則
- (C)比較利益原理
- (D)負擔能力原則

57. 就讀國中的小胖想到速食店打工賺取零用錢，但是店長告訴他，他還沒到可以工作的年齡。請問：小胖若要進入就業市場工作，依我國法律的規定必須至少年滿幾歲？

- (A) 12 歲
- (B) 15 歲
- (C) 16 歲
- (D) 18 歲

58. 林媽媽年初準備經營小吃店時，以一萬元購買機器設備，圖(十)是她營業八個月來(每月底結算當月)收入與支出的情形。請問：若不考慮其他因素，林媽媽回收當初購置機器設備的成本後並開始有盈餘，應是從幾月份開始？



圖(十)

- (A) 5
- (B) 6
- (C) 7
- (D) 8

59. 民國四十年代，臺灣地區除已存在的少數政黨外，人民不得再籌組其他政黨。解嚴後，目前合法登記的政黨已有九十餘個，顯見我國在哪一種人民基本權利的保障上已有長足的進步？

- (A)平等權
- (B)自由權
- (C)受益權
- (D)參政權

60. 近年來，臺灣地區因工資上漲，導致需要大量勞力的產業，部分外移到工資較低廉的東南亞地區。請問：為了臺灣經濟整體發展和提升國際間的競爭能力，圖(十一)中所提出四個方案，哪一個是最適宜的治本方法？

方案一：引進外籍勞工  
 方案二：促進工業升級  
 方案三：開發替代性能源  
 方案四：設置加工出口區



圖(十一)

61. 「瓦度生長的地方有許多回教徒，他的父母以租田地種植水稻維生，但因為常鬧水災，農作收成很不穩定，家中十幾個兄弟姊妹常常三餐不繼。為了生活，瓦度和幾個較大的弟妹，八歲不到就和同村其他小孩到都市的紡織廠打工，貼補家用。」請問：瓦度最可能出生於下列哪一個國家？

- (A)伊朗  
 (B)越南  
 (C)孟加拉  
 (D)以色列

62. 圖(十二)為中國大陸某地區的農耕行事曆示意圖，該區一年可以種植兩期水稻和一次短期作物(如蔬菜)。請問：這種農業經營方式最可能出現在下列哪一個地區？

月份	1	2	3	4	5	6	7	8	9	10	11	12
農業活動	蔬菜			一期稻作			二期稻作			蔬菜		

圖(十二)

- (A)松遼平原  
 (B)黃淮平原  
 (C)長江三角洲  
 (D)珠江三角洲

63. 圖(十三)是希臘籍貨輪於2001年元月在屏東鵝鑾鼻外海造成重油污染的海域位置示意圖。當時清除海岸油污的工作遭受風浪阻礙，進行不易。請問：此風浪主要由下列哪一個風向所引起的？



圖(十三)

- (A)東北風  
 (B)東南風  
 (C)西南風  
 (D)西北風