

# 91 第一次國民中學學生基本學力測驗

## 社會科題本

請不要翻到次頁！

讀完本頁的說明，聽從監試委員的指示才開始作答！

※請先確認你的答案卡、准考證與座位號碼是否一致無誤。

請閱讀以下測驗作答說明：

測驗說明：

這是國民中學學生基本學力測驗社會科題本，題本採雙面印刷，共 13 頁，有 63 題選擇題，每題都只有一個正確或最佳的答案。測驗時間從 10:50 到 12:00，共 70 分鐘。作答開始與結束請聽從監試委員的指示。

注意事項：

1. 所有試題均為四選一的選擇題，答錯不倒扣。
2. 試題中所附圖形，如有附上比例尺，以比例尺為依據作答；若無比例尺，則該圖僅作為參考，不代表實際大小。
3. 可利用題本中空白部分計算，切勿在答案卡上計算。

作答方式：

請依照題意從四個選項中選出一個正確或最佳的答案，並用 2B 鉛筆在答案卡上相應的位置畫記，請務必將選項塗黑、塗滿。如果需要修改答案，請使用橡皮擦擦拭乾淨，重新塗黑答案。例如答案為 B，則將 B 選項塗黑、塗滿，即：A ● C D


以下為錯誤的畫記方式，可能導致電腦無法正確判讀。如：

- Ⓐ ● Ⓒ Ⓓ — 未將選項塗滿
- Ⓐ Ⓑ Ⓒ Ⓓ — 未將選項塗黑
- Ⓐ ● Ⓒ Ⓓ — 未擦拭乾淨
- Ⓐ ● Ⓑ Ⓒ Ⓓ — 塗出選項外
- Ⓐ ● ● Ⓓ — 同時塗兩個選項

請聽到鈴（鐘）聲響後才翻頁作答

1. 小元利用週末時到臺灣西部沿岸去旅遊寫生。請問：下列哪一張圖畫最可能是他的作品？

(A)



(B)



(C)



(D)



2. 寒假時，偶像歌手團體 LKK 將在臺北、臺中、臺南和高雄舉辦戶外演唱會，入場券上標明「遇雨取消」。請問：哪一個城市取消的機會最大？

(A)臺北

(B)臺中

(C)臺南

(D)高雄

3. 小美參加舅舅的結婚典禮時，吃到了許多美味的菜餚，如燻烤鰻魚、胡椒草蝦、蒜泥九孔、生鮮虱目魚湯。請問：這些美食材料主要是來自於哪一種漁業類型？

(A)近海漁業

(B)遠洋漁業

(C)沿岸漁業

(D)養殖漁業

4. 劉錢經營一家「錢來客棧」，為荒漠中來往的商旅提供食宿、休息和飲水。請問：「錢來客棧」最可能設在下列哪一個地區？

(A)山東丘陵

(B)河西走廊

(C)關中盆地

(D)松遼平原

5. 住在花蓮的小華，與網友彼得在網路上聊天，其對話如下：

小華：彼得你好，今晚星星很漂亮吧！

彼得：我這邊看不到星星，現在是星期天下午兩點，太陽正烈著！

小華：真的嗎？我們已經是星期天晚上十點了！

彼得：那我們離得可遠耶！所以你會看到美麗的星星。

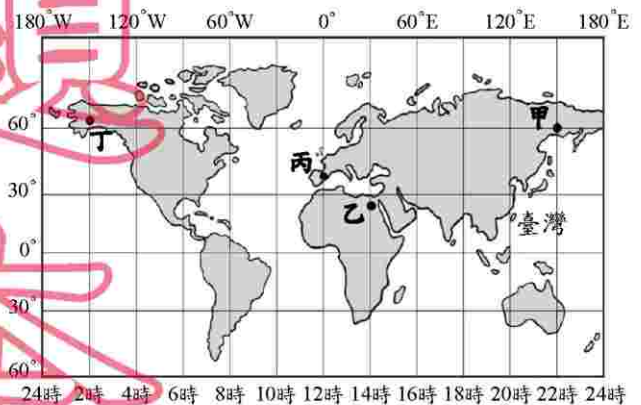
請根據圖(一)，判斷彼得可能住在哪一個地方？

(A)甲

(B)乙

(C)丙

(D)丁



圖(一)

請翻頁繼續作答

# 新聞

# 試

# 本

6. 章回小說《西遊記》敘述唐三藏、孫悟空等人去印度取經的故事，這是根據哪一個人西行的故事發展而來？
- (A)張騫  
(B)班超  
(C)玄奘  
(D)鄭和
7. 今天我們有許多觀念是來自歷史的傳承，下列哪一種觀念從商代至今仍根深柢固，成為中華文化的一部分？
- (A)封建思想  
(B)崇拜祖先  
(C)宗法制度  
(D)井田制度
8. 埃及是古文明的發源地之一，金字塔與木乃伊是其重要的文化特色遺跡。請問：古埃及人製作木乃伊的最主要目的為何？
- (A)以備來世可用  
(B)後人幫助死者贖罪  
(C)祭祀太陽神及尼羅河神  
(D)提供後代解剖研究之用
9. 當中央政府權力式微，就容易形成地方軍人割據的局面，如唐末藩鎮與民初軍閥都曾出現這種情形。請問：藩鎮或軍閥的特色為何？
- (A)重視民族精神，團結一致對付外敵  
(B)彼此之間倘若有紛爭，多靠關說協調  
(C)注重個人利益，用軍事力量解決紛爭  
(D)以國家興亡為己任，置個人死生於度外
10. 表(一)顯示日治時期某一年臺灣的教育狀況，從表中可看出當時的教育情形為何？

表(一)

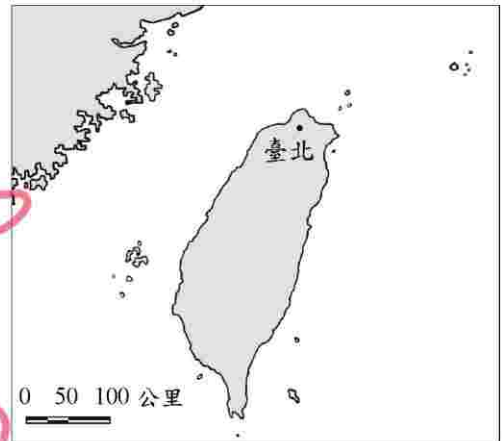
項 目	基礎教育		中等學校 學生數(人)	專門學校 學生數(人)	高等教育 學生數(人)
	學生數(人)	學齡兒童就學率(%)			
日本人	23,711	98.2	477	6,856	220
臺灣人	210,727	28.4	251	4,642	28

- (A)臺人基礎教育較日人更為普及  
(B)升學管道暢通，臺人紛紛入學  
(C)臺人與日人都有平等的受教權  
(D)臺人基礎教育不足且升學不易

11. 社區參與有助於改善社區環境品質，但需要每個居民的熱心參與。下面是梅龍鎮四位居民在地方上所做的事，其中哪一項最符合社區參與的表現？
- (A) 陳先生興建私人高爾夫球場
  - (B) 王太太常舉辦資源回收活動
  - (C) 張先生開一家美味的早餐店
  - (D) 蘇小姐勤於打掃自家的庭院
12. 臺灣民俗中每個節日都有特定的意義，而舉行各種節慶儀式與活動，也有促進人與人、自然界或鬼神和諧關係的功能。請問：下列哪一項是屬於臺灣原住民的節慶活動？
- (A) 戴香包
  - (B) 跳童乩
  - (C) 放水燈
  - (D) 豐年祭
13. 「地球村」的概念在二十世紀的國際社會已經萌芽，也將是這個世紀人類生活的趨勢。面對未來的快速變遷，我們應採取何種態度，才能合宜地扮演「地球村公民」的角色？
- (A) 可以固守傳統的文化，以免造成價值體系的混亂
  - (B) 積極尋找一個世外桃源，準備過單純樸實的生活
  - (C) 開放胸襟包容不同見解，勇於嘗試學習新的事物
  - (D) 把握在校期間吸取新知，因為畢業便無機會學習
14. 政府有鑒於部分歷史文物因缺乏妥善照顧以致逐漸毀損，特邀集專家對各古蹟進行勘查、鑑定、評定等級，以便分工管理與維護，同時也提供國人藝文休閒的資源。請問：上述做法，主要是希望達成下列哪一種目的？
- (A) 保存文化資產
  - (B) 培育多元精神
  - (C) 建立社會規範
  - (D) 促進產業升級
15. 九二一大地震後，睦鄰社區的活動中心受到嚴重的毀壞，居民決定要募款重建，於是在社區大會中決議，未來新的活動中心要具有「中國傳統建築」的特色。請問：下面哪一個人所提的計畫最符合此目標？
- (A) 水旺：「仿總統府的建築。」
  - (B) 有春：「仿淡水 紅毛城的建築。」
  - (C) 來發：「仿臺北 新光大樓的建築。」
  - (D) 滿足：「仿板橋 林家花園的建築。」

16. 圖(二)為臺灣地區與周圍離島的位置圖。請問：金門位於臺北的哪一方向？

- (A)西北方
- (B)西南方
- (C)東北方
- (D)東南方



圖(二)

17. 淑萍拿到旅行社所發的傳單，上面寫著「您想看看中國大陸最進步的經濟中心？您想一窺長江入海口的浪濤江水？您想知道這個居於中國沿海航線中點的城市如何在這個世紀再出發？……」請問：這段敘述最可能是哪一個旅遊景點的文宣？

- (A)香港
- (B)深圳
- (C)上海
- (D)南京

18. 綠色植物在白天陽光照射時，可行光合作用產生營養物質，而夜間溫度降低會使得呼吸作用效率減低，能量耗損較少，有利於營養物質的累積。如果阿農想要購買一塊土地種植瓜果，他應選擇表(二)中哪一種氣候條件的土地，其單位產量會最高？

表(二)

地點	太陽輻射量 (千卡/cm <sup>2</sup> /年)	日照時數 (小時)	平均日溫差 (°C)
甲地	195	1965	16
乙地	143	2043	4
丙地	92	2132	13
丁地	112	2305	7

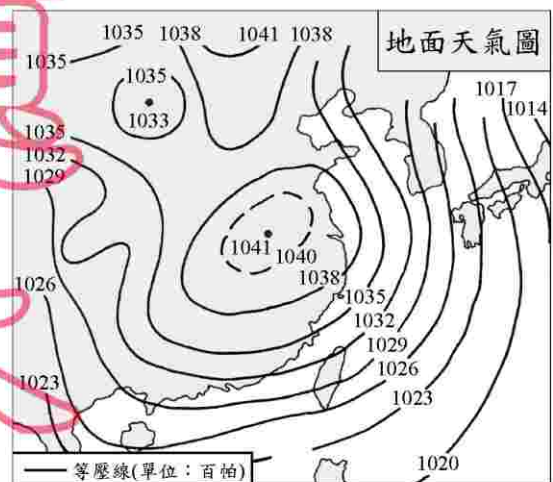
- (A)甲地
- (B)乙地
- (C)丙地
- (D)丁地

19. 中國大陸境內有氣勢磅礴的大高原，綿延不絕的崇山峻嶺，群山環抱的巨大盆地，一望無際的大平原，還有橫互千里的茫茫沙漠。請問：此種特性與哪一種地理現象的關係最密切？

- (A)地勢西高東低
- (B)外流區域面積廣大
- (C)天然植物種類豐富
- (D)人口多分布於東南半壁

20. 圖(三)是東亞地區的地面天氣圖，根據圖上氣壓資料此時最可能是哪一個季節？

- (A)春
- (B)夏
- (C)秋
- (D)冬



圖(三)

21. 自隋唐時期實施科舉考試制度，歷經一千多年之後，由於主、客觀因素的影響終於廢除。從此士人不再競逐於科場及功名，這對當時的社會造成何種直接的影響？
- (A)學校數量減少，留學風氣漸盛行  
(B)傳統仕紳沒落，新知識分子崛起  
(C)工人人數增加，工商階級抬頭  
(D)冗官數量銳減，政府效能提升
22. 阿拉罕一家人世居中國西域一帶，自蒙古人統一中國後，他因擅長理財而受到政府的器重，負責國家徵稅的工作。請問：阿拉罕最有可能是當時哪一個階級的人？
- (A)蒙古人  
(B)色目人  
(C)漢人  
(D)南人
23. 臺灣早期以陰曆記日，並作為日常活動的依據。直到何時，才開始改用陽曆，推動星期制？
- (A)鄭氏治臺  
(B)清領時期  
(C)日治時期  
(D)中華民國在臺灣
24. 「人人生而平等，上帝賦予他們若干不能出讓的權利，其中包括生存權、自由權和追求幸福的權利。為了保障這些權利，人們才建立政府組織。……任何政府一旦破壞這些權利，人民便有權將它改變或廢除，再建立一個新政府。」上述內容最能反映下列哪一個時期的精神？
- (A)文藝復興  
(B)宗教改革  
(C)啟蒙運動  
(D)浪漫主義
25. 有一位歷史人物，在晚年思索其一生事蹟，有以下的回顧：「我這一輩子參加過的戰役多達五十幾次，幾乎都打了勝仗，……我曾征服了大部分的歐洲，也曾編纂一部以我的名字命名的法典。我認為我會被後世視為一個非凡的人。」請問：這位歷史人物最可能是下列哪一位？
- (A)漢摩拉比  
(B)路易十四  
(C)拿破崙  
(D)希特勒

# 新聞試題本

26. 當我們的權利受到侵害時，可依法律規定的方法，來保障自己的權利。如果陳媽媽將房屋出租給阿德，阿德不付房租，又不肯搬家，那麼，陳媽媽為了確保自己的權益，她可以採取下列哪一種法律途徑？

- (A)向法院提起民事訴訟
- (B)向警察機關提出告訴
- (C)向行政機關提起訴願
- (D)向行政法院提起行政訴訟

27. 民主的態度與行為必須靠不斷地學習而養成。下列小白從事的活動中，哪一項做法最有助於提昇民主素養？

- (A)積極拓展人際關係
- (B)確實做好垃圾分類
- (C)熱心參與社團活動
- (D)經常參觀藝文展覽

28. 年輕的阿如想要透過選舉來參與政治事務。請問：依據我國《憲法》的規定，身為中華民國國民的阿如必須年滿幾歲，才可以登記成為候選人？

- (A) 20 歲
- (B) 23 歲
- (C) 26 歲
- (D) 30 歲

29. 為了達到充分就業的目的，各縣市政府紛紛成立職業訓練中心，提供求職者各種職業訓練。請問：職訓中心的設立，主要是為了幫助下列何者就業？

- (A)缺少工作意願者
- (B)欠缺工作能力者
- (C)沒有工作需要者
- (D)缺乏求職行動者

30. 表(三)是四家工廠的生產成本與產量記錄表，其生產的產品及單位售價皆相同。請問：在其他條件不計的情形下，哪一家工廠所支付的成本最低？

表(三)

工廠	工資 (人數×月薪)	機器 (數量×單位成本)	產量
甲	5×20,000	5×40,000	400 件/月
乙	2×35,000	2×90,000	400 件/月
丙	3×30,000	3×80,000	400 件/月
丁	4×24,000	4×70,000	400 件/月

- (A)甲
- (B)乙
- (C)丙
- (D)丁

31. 「氣候乾燥、蒸發旺盛的地區，因為水利工程進步，農耕或放牧產業開始大規模的利用灌溉排水系統，然而這種情形持續下去將造成嚴重的環境問題。」請問：上列敘述中的環境問題主要是指下列何者？
- (A)土石流  
(B)水旱災  
(C)地層下陷  
(D)土壤鹽鹼化

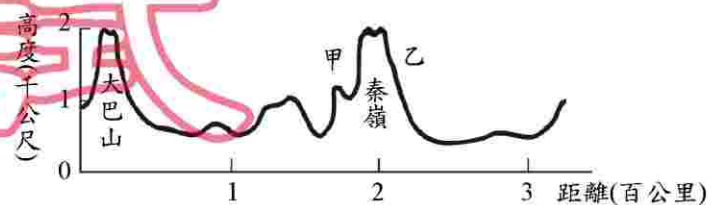
32. 如圖(四)，日本擬在克拉地峽開鑿運河，往來於印度洋與南海的船隻約可縮短一千多公里的航程。若此一計畫實現，哪一個城市將大幅降低其重要性？
- (A)曼谷  
(B)仰光  
(C)新加坡  
(D)胡志明市



圖(四)

33. 班上有四位同學針對課本上「夜間是熱帶的冬天」這句話的成因，分別提出下列看法，請問：何者的說法比較正確？
- (A)胖虎：「年雨量多，冬季對流雨頻繁。」  
(B)阿福：「年溫差小，夜間氣溫較低。」  
(C)大雄：「緯度低，晝夜長短變化大。」  
(D)宜靜：「晚上常下雨，氣溫相對降低。」

34. 圖(五)是陝西省的地形剖面圖。已知甲坡迎風多雨、乙坡背風少雨。請問：本圖中的方向應如何指示？



圖(五)



35. 中國大陸籌畫在雲南縱谷區湄公河上游興建多座水庫，這些水庫興建完成後，將影響到下游的用水和生態環境。請問：下列哪一半島會受到影響？
- (A)中南半島  
(B)印度半島  
(C)朝鮮半島  
(D)阿拉伯半島



36. 清朝末年因為拒絕與英國平等通商而引發戰爭，但臺灣早在鄭氏治臺時期，即與英國簽訂通商條約並獲得極大的利益。請問：當時鄭氏與英國簽約通商的背景為何？
- (A) 明鄭為突破清廷經濟封鎖，開闢海外市場
  - (B) 臺灣與英國聯盟，意圖壟斷南洋貿易市場
  - (C) 英國挾船堅砲利之勢，脅迫臺灣開港通商
  - (D) 西方傳教士為傳播基督教信仰，積極促成
37. 歷史事實與歷史解釋不同，最大的差別在於歷史事實是呈現客觀的事實本身；而歷史解釋則是史學家對史實的詮釋。就歐洲歷史上的科學革命而言，下列哪一項敘述屬於歷史解釋？
- (A) 牛頓提出三大運動定律
  - (B) 政府成立科學研究機構
  - (C) 溫度計、顯微鏡等新工具問世
  - (D) 這個時期被稱為「天才的世紀」
38. 魏晉之際，竹林七賢崇尚自然、不受約束的行為舉止，表現出當時某些知識分子所反映的哪一種風格？
- (A) 超脫現實，高談哲理
  - (B) 文以載道，獨尊儒術
  - (C) 重視名教，謹守禮法
  - (D) 倡導實學，經世致用
39. 清代漢人移民來臺，往往是同鄉群居，各地信奉的神祇因移民者的祖籍不同而有差異，不過也有一些神明是大家所共同信奉的，下列何者可為代表？
- (A) 福德正神
  - (B) 保生大帝
  - (C) 開漳聖王
  - (D) 三山國王
40. 清廷經營臺灣，由南而北、由西而東，陸續設置地方行政單位。根據這個發展的次序，下列哪一個行政區是最晚設立的？
- (A) 淡水廳
  - (B) 彰化縣
  - (C) 諸羅縣
  - (D) 噶瑪蘭廳

41. 上公民課時，老師說明國家是由人民、土地、政府、主權四個要素所構成之後，分別請四位同學列舉我們國家的構成要素。請問：哪一個同學的敘述最符合國家構成要素的意涵？

- (A)小君：「中華民國建國於西元1912年。」  
(B)阿裕：「中華民國的國慶日是十月十日。」  
(C)小雄：「青天白日滿地紅旗是中華民國的國旗。」  
(D)阿雯：「具有中華民國國籍者為中華民國國民。」

42. 在外地工作的小昕，每年回鄉過年都會參加國中的同學會，會中有四位同學分別談到自己最近參加的活動。請問：哪一位參加的活動是屬於「利益團體」所舉辦的？

- (A)小莉：上班族讀書會  
(B)宗佑：反汙染大遊行  
(C)家旻：政黨初選投票  
(D)大華：社區游泳大賽

43. 小奇到亞波國旅遊的第一天，在紅茶店喝了一杯定價100元的珍珠奶茶，第三天要離開時，又到同一家店，卻發現同樣的珍珠奶茶，每杯定價已變成500元。請問：亞波國可能正面臨何種經濟問題？

- (A)生產過剩  
(B)資金短缺  
(C)惡性競爭  
(D)通貨膨脹

44. 阿博和同學三人，徵得其父母的同意後，前往國立歷史博物館參觀「兵馬俑-秦文化」展覽，藉以了解這批兩千年前的歷史文物，順便完成他們的參觀心得報告。請問：阿博一行人的參觀活動，是利用何種教育型態的學習？

- (A)家庭教育  
(B)社區教育  
(C)社會教育  
(D)學校教育

45. 婷婷全家計畫在春節時到哈奇島度假，於是向保安航空公司詢問飛機票價，表(四)是經濟艙的價位參考表。請問：這種價格變動的現象，可依經濟學上的何種原理原則加以解釋？

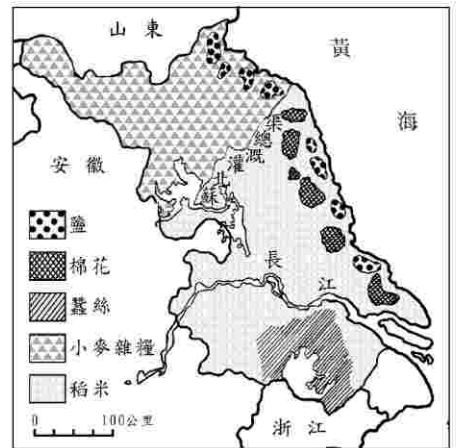
- (A)需求法則  
(B)機會成本  
(C)比較利益原理  
(D)負擔能力原則

表(四)

月份	票價(元/張)
2月(寒假)	5,000
7-8月(暑假)	5,000
其他月份	4,000

請翻頁繼續作答

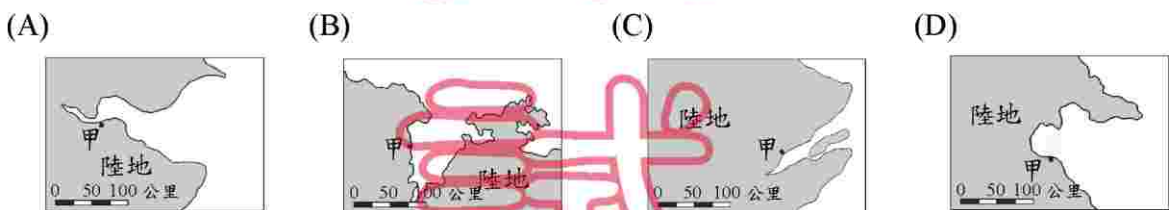
46. 圖(六)為江蘇省主要物產分布圖。蘇北灌溉總渠到長江之間，其沿海至內陸有多種土地利用方式，此現象和下列哪一種因素最有關係？
- (A)土壤鹽分的高低  
(B)日夜溫差的大小  
(C)主要市場的遠近  
(D)河流渠道的多寡



圖(六)

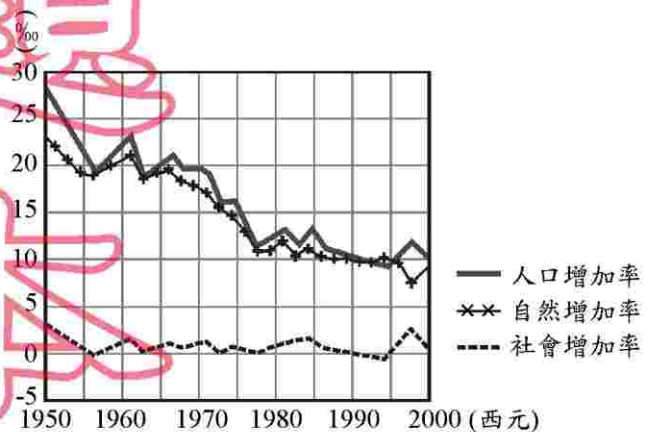
47. 大旺公司打算到中國大陸投資，利用當地盛產的大豆與甜菜，成立沙拉油工廠和糖廠。請問：根據此一考量，到下列哪一省區設廠最為理想？
- (A)福建省  
(B)四川省  
(C)河南省  
(D)黑龍江省

48. 海岸地區潮汐的大小，會因灣口形狀而有所不同。下列有四幅海岸地區圖，請依此判斷哪一張圖中的甲地，在漲潮時所見到的潮汐可能是最大的？



49. 臺灣在清領時代，從臺南運送大宗貨物到臺北，主要是依賴海運。請問：當時選擇海運而不考慮陸運，主要是基於臺灣西部陸地上，有下列哪一項限制？
- (A)森林茂密  
(B)天氣濕熱  
(C)河流東西流向  
(D)山脈南北縱走

50. 圖(七)是近五十年來神奇國人口成長趨勢圖，圖上的人口增加率是社會增加率與自然增加率的總和。請根據圖中的資料判斷，下列敘述何者正確？
- (A)總人口數將會逐年減少  
(B)社會增加率大於自然增加率  
(C)人口增加率降低是因死亡率高  
(D)人口成長主要是源於自然增加



圖(七)

51. 清廷自覺「天朝」威望受到嚴重的衝擊，朝野從此覺醒，最主要的是發生在下列哪一個事件之後？
- (A)甲午戰爭  
(B)戊戌變法  
(C)鴉片戰爭  
(D)太平天國之亂
52. 「這是一座八到十世紀間繁榮的城市，有富麗堂皇的宮殿，城內寺院眾多，並無崇奉任何人物和神像；寺院外觀為回教建築風格。商店中有來自各地的商品，琳瑯滿目的堆放著。」請問：這段文字所形容的最可能是下列哪一座城市？
- (A)長安  
(B)羅馬  
(C)威尼斯  
(D)巴格達
53. 第一次世界大戰後，許多國家為防止戰爭再起，莫不致力於維護世界和平。但是，哪一項軍事行動首先破壞戰後和平，引起其他野心國家仿效，繼起侵略他國？
- (A)德國進攻波蘭  
(B)日本偷襲珍珠港  
(C)日本占領中國東北  
(D)義大利入侵衣索比亞
54. 有位美國學者說：「哥倫布發現新大陸後，歐洲人將其文明帶往美洲，使得今日的美洲得以享有進步的生活。所以，海外拓殖運動對未開發國家是有好處的。」請問：下列哪一項史實與這位學者的說法相互矛盾？
- (A)亞洲的香料、絲綢更加順利輸往歐洲  
(B)印加與阿茲提克等古文明被殖民國家毀滅  
(C)歐洲各國為擴張勢力而相繼投入海上事業  
(D)澳門成為歐洲和亞洲接觸的據點
55. 文字的發明與使用是人類社會進入文明的指標之一。中國文字中的甲骨文，在中國文字的發展上具有下列哪一項重要的意義？
- (A)是夏朝所使用的文字  
(B)發展成為今天的漢字  
(C)是中國最早出現的文字  
(D)表現出原始的圖畫意義

新  
聞  
試  
題  
本

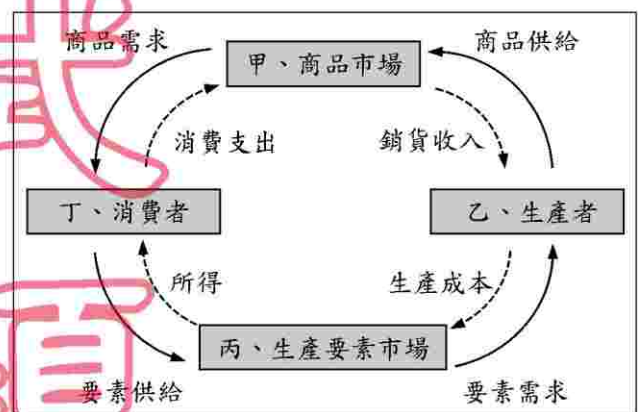
請翻頁繼續作答

56. 未經核准的流動攤販不僅逃漏稅，更會破壞都市景觀、製造髒亂，因此政府需要花費大量人力加以取締與清潔環境。上述情形，反映出經濟學上的哪一種現象？
- (A) 社會成本大於私人利益  
 (B) 社會成本小於私人利益  
 (C) 社會成本等於私人利益  
 (D) 社會成本等於社會利益

57. 幸福里召開里民大會，決定為身心障礙人士畫定專用停車位，以方便身心障礙人士停車。請問：幸福里里民的做法，最能表現哪一種公民素養？
- (A) 維護社區和諧  
 (B) 追求社會正義  
 (C) 維持公共秩序  
 (D) 追求公眾利益

58. 賴小姐長時間以花盆占用巷子內的停車位，妨害大眾使用公用停車位的權益。請問：賴小姐的此項行為，應負何種責任？
- (A) 民事責任  
 (B) 刑事責任  
 (C) 行政責任  
 (D) 政治責任

59. 大興公司計畫再增聘五名員工，就這件事而論，是屬於圖(八)經濟活動循環簡圖中的哪一環？
- (A) 甲  
 (B) 乙  
 (C) 丙  
 (D) 丁



圖(八)

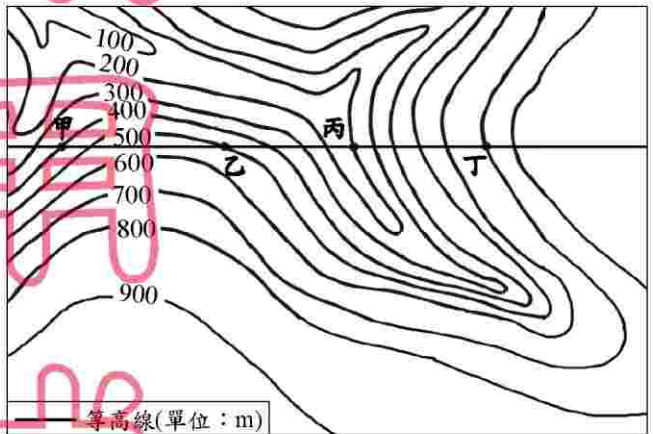
60. 當多數人民認為縣議會所制定的法規不利於人民時，公民有權依一定的程序決定保留或是廢除這項法規。請問：這種權利是屬於公民的哪一項參政權？
- (A) 選舉權  
 (B) 罷免權  
 (C) 創制權  
 (D) 複決權

61. 歐洲中世紀初期，蠻族橫行，城市文明衰落。但自十一世紀以來，由於人口增加，許多舊市鎮復甦，而新興市鎮也不斷興起。請問：新興市鎮興起的主要原因為何？
- (A)封建制度的興盛  
(B)行會組織的發展  
(C)農業技術的改良  
(D)民主觀念的勃興

62. 光明企業的員工，為了要求資方合理調整工作時數，進行罷工抗議。此時，針對這個事件，某報社只片面報導資方立場，而未能公正報導勞方的需求。請問：這個報社的做法，是忽視了勞方的哪一種權利？
- (A)平等權  
(B)受益權  
(C)隱私權  
(D)媒體接近使用權

63. 圖(九)為某地區的等高線地形圖。請問：經過甲、乙、丙、丁四地所繪製成的剖面圖，最可能是下列哪一幅？

新  
聞  
試  
題



圖(九)

