

90 第一次國民中學學生基本學力測驗

社會科題本

請不要翻到次頁！

讀完本頁的說明，聽從監試委員的指示才開始作答！

※請先確認你的答案卡、准考證與座位號碼是否一致無誤。

請閱讀以下測驗作答說明：

測驗說明：

這是國民中學學生基本學力測驗社會科題本，題本採雙面印刷，共12頁，有66題選擇題，每題都只有一個正確或最佳的答案。測驗時間從11:10到12:20，共70分鐘。作答開始與結束請聽從監試委員的指示。

注意事項：

1. 所有試題均為四選一之選擇題，答錯不倒扣。
2. 試題中所附圖形，如有附上比例尺，以比例尺為依據作答；若無比例尺，則該圖僅作為參考，不代表實際大小。
3. 可利用題本中空白部分計算，切勿在答案卡上計算。

作答方式：

請依照題意從四個選項中選出一個正確或最佳的答案，並用2B鉛筆在答案卡上相應的位置畫記，請務必將選項塗黑、塗滿。如果需要修改答案，請使用橡皮擦擦拭乾淨，重新塗黑答案。例如答案為B，則將(B)選項塗黑、塗滿，即：(A) ● (C) ○ (D) ○

以下為錯誤的畫記方式，可能導致電腦無法正確判讀。如：

- (A) ● (C) ○ (D) ○ — 未將選項塗滿
- (A) ○ (B) ○ (C) ○ (D) ○ — 未將選項塗黑
- (A) ● (B) ● (C) ○ (D) ○ — 未擦拭乾淨
- (A) ● (B) ○ (C) ○ (D) ○ — 塗出選項外
- (A) ● (B) ● (C) ○ (D) ○ — 同時塗兩個選項

請聽到鈴（鐘）聲響後才翻頁作答

1. 西亞地區多數的房屋，牆很厚，門窗也很小。這種景觀和下列哪一地理因素最有關係？

(A)地形
(B)政策
(C)氣候
(D)產業

2. 有一句電視汽車廣告詞說：「一台車『凸』全臺灣。」畫面上的車子馳騁於大街小巷及山野林徑間。這句話最可以用來形容公路運輸的哪一種特性？

(A)載貨量較少
(B)機動性較強
(C)長途運費高
(D)修築成本低

3. 表(一)為某地各月份的氣溫資料，表中甲欄 23.9°C 所代表的意義是什麼？

表(一)

月份	一	二	三	四	五	六	七	八	九	十	十一	十二	甲
氣溫($^{\circ}\text{C}$)	19	19	21	24	26	27	28	28	27	25	23	20	23.9

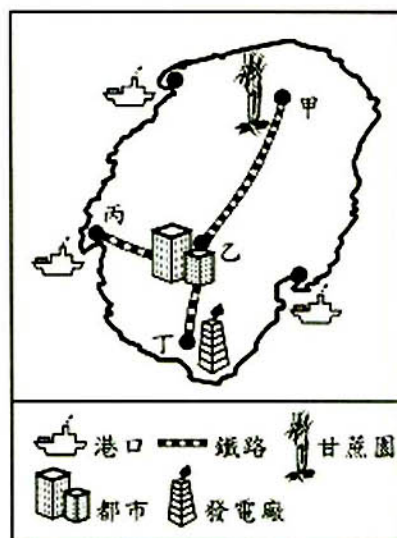
(A)月均溫
(B)月溫差
(C)年均溫
(D)年溫差

4. 臺灣地區有三個火山群，其中臺灣本島的火山群，主要分布在哪一地區？

(A)東部 (B)西部 (C)南部 (D)北部

5. 工廠為了獲利及發展，常常會選擇最優良的「工業區位」。當甘蔗製成糖後，體積縮小、重量減輕。請問：製糖廠應設在圖(一)哪一個地方最能節省生產成本？

(A)甲
(B)乙
(C)丙
(D)丁



圖(一)

6. 「中國某地區因年雨量變率及降雨強度均大，常有水、旱災，使農產收穫不穩定，因此民間有『大雨大災，無雨旱災』的諺語。」請問：此區最可能出現在下列何地？

(A)河西走廊 (B)黃淮平原 (C)寧夏平原 (D)塔里木盆地

請翻頁繼續作答

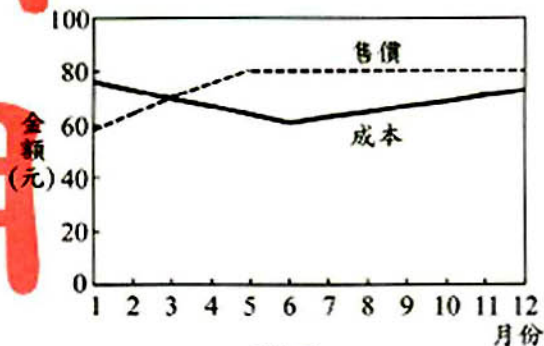
新聞 用 試 題 本

7. 小安遇見一位修行者，修行者告訴他：「生命萬物都是平等的，只要能拋開慾望，領悟正道，就能超脫輪迴，進入沒有生死，也沒有痛苦的境界。」請問：從上述言論判斷，小安遇見的修行者應該是哪一個宗教的信徒？
- (A)佛教
(B)道教
(C)回教
(D)基督教
8. 臺灣早期原為瘴癘之地，瘟疫廣泛流傳，直到何時才開始建立醫療衛生系統，有效地防治霍亂、傷寒、鼠疫等傳染病？
- (A)鄭氏治臺
(B)清領時代
(C)日本殖民統治
(D)中華民國在臺灣
9. 三國時代的諸葛亮輔佐蜀漢劉備父子與曹操、孫權三分天下，名垂千古；鄭氏治臺時期，幫助鄭成功父子建立臺灣政權，有「鄭家諸葛」之稱的人是誰？
- (A)顏思齊
(B)江勝
(C)施琅
(D)陳永華
10. 西班牙語成為中南美洲大多數國家的官方語言，這是受到哪一項歷史發展的影響？
- (A)地理大發現
(B)科學革命
(C)啟蒙運動
(D)工業革命
11. 中世紀後期歐洲出現某些城市，其市民藉著取得特許狀而得以選舉市長、設置市議會及成立城市法庭。根據上述情形，可知這些城市的市民取得了哪些權利？
- (A)宣戰、結盟及媾和權
(B)行政、立法及司法權
(C)諮議、審查及覆議權
(D)募兵、徵稅及教育權
12. 班上兩位同學正在討論中國印刷術的發展。
阿輝說：「早在宋代我們已有活字版印刷的技術了。」
小蓮說：「這種技術是畢昇發明的哦！」
老師建議同學可參考相關書籍，進一步了解中國印刷術的發展。請問：下列四本書籍中，哪一本最適當？
- (A)《資治通鑑》
(B)《夢溪筆談》
(C)《本草綱目》
(D)《四書集註》

13. 臺灣是由許多族群所組成的社會，為建立共存共榮的社會環境，凝結「臺灣意識」是當前的重要課題之一。請問：下列哪一種觀念有助於「臺灣意識」的凝聚？
- (A)堅守自己族群的血統
(B)革除傳統向西方學習
(C)強制漢族本位的同化
(D)每個族群都是臺灣人

14. 社區學院的開辦，使得早年因家境清寒而中斷學業的黃先生，得以實現繼續就學的願望。請問：政府這項政策的實施，符合教育的何種理念？
- (A)終身學習
(B)菁英教育
(C)鄉土教學
(D)補救教學

15. 圖(二)是精彩光碟公司89年度各月份生產單片光碟的成本與售價統計圖。若每月產量相同，請問：哪一個月份所獲得的利潤最多？
- (A) 3
(B) 5
(C) 6
(D) 12



圖(二)

16. 小玲服務的公司，強制員工簽訂「單身條款」，規定女性員工結婚後必須無條件辭職。請問：這種做法違反《憲法》所賦予人民的哪些基本權利？
- (A)平等權、受益權
(B)平等權、參政權
(C)自由權、受益權
(D)自由權、參政權

17. 爺爺奶奶住在宜靜家的隔壁，宜靜的爸媽下班後，都會準備晚餐和爺爺奶奶一起享用。由此可見宜靜一家人是以何種方式來照顧家中的長輩？
- (A)三代同堂
(B)三代同鄰
(C)送往養老院
(D)大家庭同住

18. 小明經常遭父親毆打成傷，經鄰居報警處理後，小明的父親被移送法辦。請問：依法哪一個機關有權判決小明的父親停止行使親權？
- (A)法院
(B)宗親會
(C)社會局
(D)警察局

19. 圖(三)為陸半球圖，圖中打上「★」的地方位於下列哪一洲？

(A)亞洲
(B)歐洲
(C)北美洲
(D)大洋洲



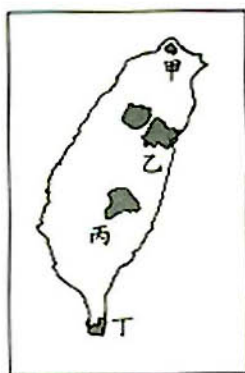
圖(三)

20. 「站在河邊，山脈就像屏風一樣對峙在河的兩岸；山坡的田地、村莊好像是掛在牆上的壁畫。谷底濕熱難耐，山腰涼爽舒適，山頂白雪皚皚。」這樣的景觀，最可能出現在中國的哪一地區？

(A)雲南省
(B)湖北省
(C)甘肅省
(D)吉林省

21. 擬訂旅遊計畫時，注意旅遊地的氣候變化是非常重要的。若想在寒假到國家公園旅遊，圖(四)哪一國家公園的降雨機率最低？

(A)甲
(B)乙
(C)丙
(D)丁



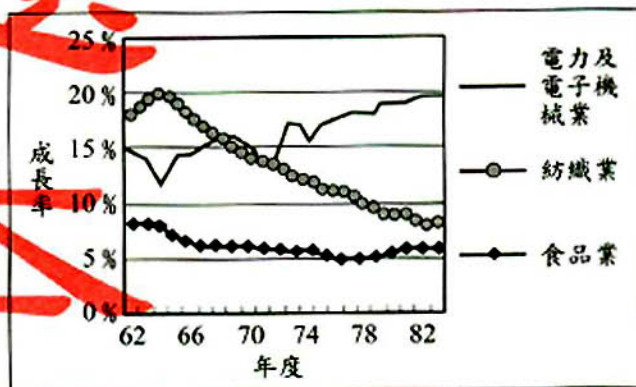
圖(四)

22. 葛洲壩水利工程具有防洪、航運、發電、旅遊等功能，對下列哪一河流流域的經濟發展最有影響？

(A)珠江
(B)長江
(C)黃河
(D)松花江

23. 圖(五)是某地區三種產業歷年平均受雇員工變動圖。從圖中變化的趨勢，可看出該地區的工業發展具有下列何種特徵？

(A)海外投資逐漸興起
(B)工廠集中在北部地區
(C)工業是經濟發展的主力
(D)技術與資本密集工業增加



圖(五)

24. 表(二)是清末自西元 1868 年至 1894 年臺灣進出口值統計表。請問：表中哪一期間，開始反映出臺灣對外貿易由入超轉變為出超？

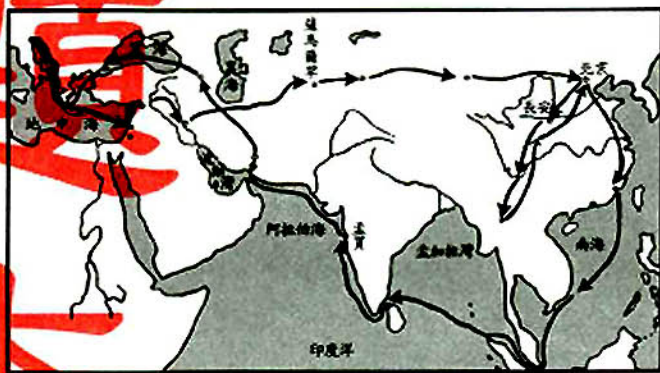
表(二)

期 間	出口		進口		出口值減進口值
	年平均值	指數	年平均值	指數	
1868-1869	93.0	100.0	124.5	100.0	-31.5
1870-1874	172.0	185.2	174.4	140.1	-2.4
1875-1879	282.3	303.5	272.0	218.6	10.3
1880-1884	427.3	459.5	318.8	256.1	108.5
1885-1889	435.7	468.5	361.8	290.6	73.9
1890-1894	570.7	613.7	431.0	346.2	139.7

- (A) 1868-1869
(B) 1870-1874
(C) 1875-1879
(D) 1890-1894
25. 中國歷史上哪一種選才任官制度的實施，造成世家大族長期位居社會上層、壟斷政治權力的不公平現象？
(A) 封建世襲制
(B) 孝廉舉薦制
(C) 九品官人法
(D) 科舉考試制
26. 近代中國的對外關係，由閉關自守走向商埠開放、由宗藩關係步入國際社會，這是從哪一個戰爭開始的？
(A) 鴉片戰爭
(B) 中法戰爭
(C) 甲午戰爭
(D) 八國聯軍

27. 圖(六)是某一位曾經促成東西文化交流的歷史人物所走的路線圖。由此圖判斷，這位人物應該是誰？

- (A) 玄奘
(B) 鄭和
(C) 達伽馬
(D) 馬可波羅



圖(六)

28. 現在世界上的許多國家，人民都可以藉由投票的方式直接選出國家的領袖。請問：這種制度最早出現於哪一個古文明？
(A) 中國 (B) 埃及 (C) 希臘 (D) 羅馬

請翻頁繼續作答

29. 勝利鄉在縣運會中贏得總錦標，而後當有人問起勝利鄉的鄉民「你是哪裏人？」他們都會很光榮地回答：「我是勝利鄉的人！」請問：上述例子最能表現出下列哪一種概念？

(A) 社區服務
(B) 社區教育
(C) 社區意識
(D) 社區營造

30. 民國七十六年政府宣布解除《戒嚴令》，隨後推行多項措施，其中黨禁的開放，使人民得以充分享有哪一項自由權？

(A) 人身自由
(B) 意見自由
(C) 集會結社自由
(D) 秘密通訊自由

31. 小玉在地圖上看到「陳厝」這個地名，請問這個地名最有可能是以下列哪一種關係命名的？

(A) 同鄉
(B) 血緣
(C) 宗教
(D) 工作

32. 社會變遷是指人類社會不斷地改變與進步，其內涵不限於器物，還包括社會制度與價值觀念的變革。請問：下列何者是屬於「制度」層次的變遷？

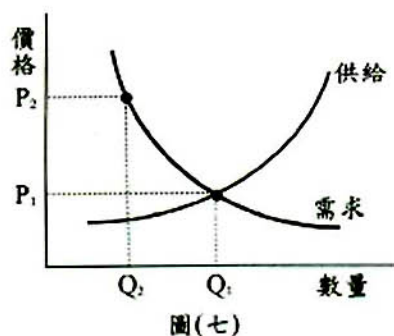
(A) 交通運輸工具的改進
(B) 科學創新精神的發展
(C) 建築材料技術的改良
(D) 藥物管理法規的制定

33. 樂利國的經濟型態是以統制經濟制度為主，那麼，我們可在樂利國看到下列哪一種經濟現象？

(A) 以私有財產制為主
(B) 民生企業完全由私人經營
(C) 政府決定國內各項商品的價格
(D) 生產與消費活動由市場價格主導

34. 在自由市場中，物品價格主要由市場供需的狀況所決定。圖(七)為球鞋的供需圖，在其他條件不變的情況下，若價格由 P_1 變成 P_2 ，則其需求的數量將有何變動？

(A) 增加
(B) 減少
(C) 不變
(D) 不一定



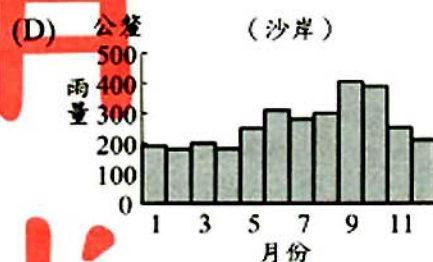
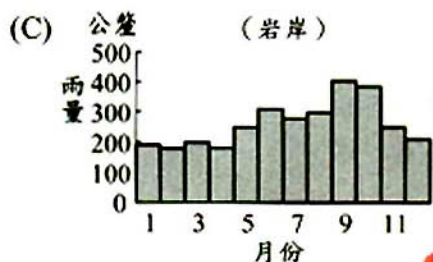
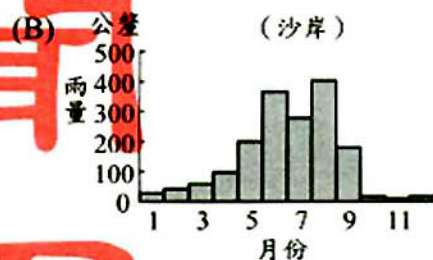
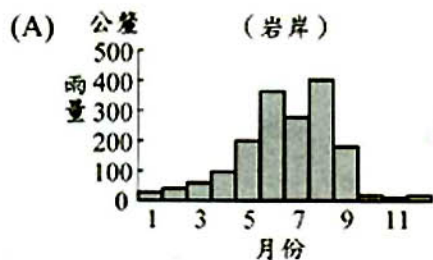
35. 人民對憲法、法律與命令的適用有疑義時，可以聲請大法官會議作解釋。請問：大法官會議是屬於哪一個機關內的組織？

(A) 立法院 (B) 司法院 (C) 行政院 (D) 監察院


36. 內蒙古自治區的東部，居民飼養的牲畜以馬、牛、羊為主，西部則以駱駝為主，此種差異主要是受哪一項因素的影響？

- (A) 地形起伏
- (B) 氣溫高低
- (C) 河流長短
- (D) 雨量多寡

37. 臺灣鹽田的分布和海岸性質及氣候特徵有密切的關係。請問：在下列四組選項中，何者最適合闢為鹽田？



38. 圖(八)為顯示中國大陸地區人口年齡結構變化的人口金字塔圖。從圖中可以看出自 1950 年來，該地人口金字塔出現很大的變化，請問造成此種變化的主要原因是下列何者？



圖(八)

- (A) 人口密度增加
- (B) 推行一胎化政策
- (C) 人口大量移入都市
- (D) 人口總數急速增長

請翻頁繼續作答

39. 現今許多民主國家都設有總統(總理)、國會和各級法院，三者的權力彼此相互制衡。這種體制源自何人的思想？

- (A)柏拉圖
- (B)盧梭
- (C)伏爾泰
- (D)孟德斯鳩

40. 晚清內憂外患頻仍，知識份子有各種不同的救國行動，政府也有力圖自保的措施，但下列哪一種做法卻與當時朝野的改革呼聲相違背，招致眾多批評？

- (A)成立「資政院」
- (B)設置「諮議院」
- (C)設立「新式學堂」
- (D)組成「皇族內閣」

41. 臺灣的開發是由南而北，但清領時代後期已有北勝於南的傾向，這種情勢的轉變，主要與哪一項作物的增產及其外銷有關？

- (A)茶葉
- (B)樟腦
- (C)蔗糖
- (D)稻米

42. 民國八年五月四日，北京的學生群集於天安門廣場示威，高呼口號，情緒激昂，而後示威風潮遍及全國。請問：當時學生主要的訴求為何？

- (A)反對官吏貪贓枉法
- (B)抗議學校課程太過老舊
- (C)反對男女受教機會不平等
- (D)抗議列強對中國的不公平

43. 鐵器的使用，是人類歷史文化進展的重要里程碑，而在臺灣的考古發掘中，哪一個文化遺址曾發現一座煉鐵作坊，顯示臺灣鐵器文化的開始？

- (A)卑南文化
- (B)圓山文化
- (C)大坌坑文化
- (D)十三行文化

44. 青青看到下面的連環漫畫，由漫畫內容可看出，這應是中國哪一個朝代的政治現象？



圖(九)

(A)唐



圖(十)

(B)宋



圖(十一)

(D)清

新聞 題 本

45. 車輛經過高速公路收費站時，通常都要繳交通行費。請問：這種徵收通行費的做法，是依經濟學上的何種觀念而實施的？
- (A) 受益原則
(B) 需求法則
(C) 比較利益原理
(D) 負擔能力原則
46. 彭小姐利用閒暇之餘，參與下列四種人民團體的活動，其中何者屬於職業性團體？
- (A) 綠黨
(B) 安平鄉農會
(C) 彭氏宗親會
(D) 慈濟功德會
47. 政黨政治是指不同政黨應有公平競爭執政的機會。下列各種情形，何者符合政黨政治的精神？
- (A) 總統選舉時，在野黨候選人提出政黨輪流執政的訴求
(B) 民意調查顯示政府施政滿意度太低時，政府首長須自動請辭
(C) 為爭取權益，民眾依法向主管機關申請後，上街頭遊行請願
(D) 政策決策不當，造成國家重大損失，立委要求部會首長下台
48. 在我國傳統社會中，大家往往只關心和自己有關係的家人、家族或是鄰居與朋友，比較缺乏「公」的觀念，其主要的原因是什麼？
- (A) 人民無參與政治事務的權利
(B) 人民權利完備不用積極爭取
(C) 公眾事務簡單不勞人民費心
(D) 公共設施齊全人民不需操心
49. 由於以物易物的不便，因此發明了貨幣作為交易媒介，而在一個國家中，貨幣價值的高低，是由哪一項標準來衡量的？
- (A) 國民所得的高低
(B) 貨幣的製作成本
(C) 國民存款金額的多寡
(D) 貨幣所能購買的商品數量
50. 經濟學上的投資報酬率是指所得利潤佔投資成本的比率。表(三)是王爺爺運用甲、乙、丙、丁四種投資理財工具，投資時的資金與投資一年後獲利情形比較表。請問：王爺爺使用的投資理財工具中，何者的投資報酬率最高？

表(三)

理財工具	甲	乙	丙	丁
投資金額	3萬元	5萬元	10萬元	15萬元
獲利金額	2400元	3000元	7000元	7500元

(A) 甲

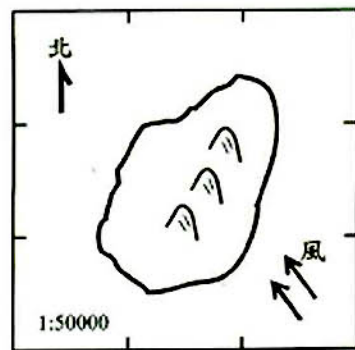
(B) 乙

(C) 丙

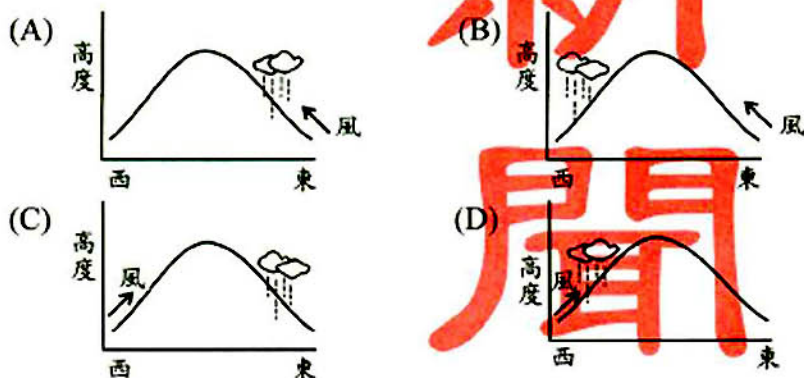
(D) 丁

請翻頁繼續作答

51. 圖(十二)是某一假想島嶼圖。下列何者最能顯示出其山地的降雨特色？



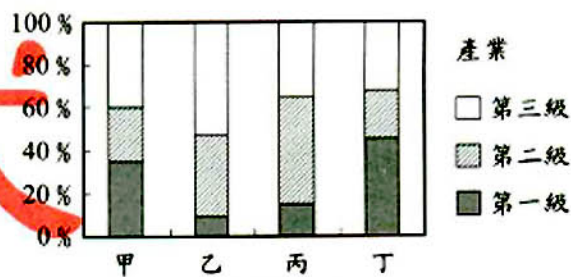
圖(十二)



52. 「四川盆地土地利用精密，為避免水土流失，大量修築梯田，使整個盆地富庶而繁榮。」請問：四川盆地大量修築梯田，與其何種環境特徵有最密切的關係？
- (A)形勢封閉
(B)土壤肥沃
(C)丘陵廣布
(D)生長季長

53. 圖(十三)是臺灣地區某四縣市人口就業結構圖，其中哪一都市的產業類型以製造業為主？

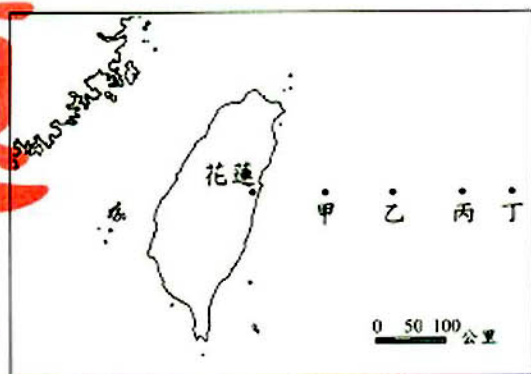
- (A)甲
(B)乙
(C)丙
(D)丁



圖(十三)

54. 經濟海域是指由海岸線向外至200浬(約370公里)的海域範圍，若由花蓮海岸向東計算，我國經濟海域的東界，最遠約可到圖(十四)的何處？

- (A)甲
(B)乙
(C)丙
(D)丁



圖(十四)

55. 中國的珠江三角洲地區及泰國、馬來西亞等國，加工出口工業相當發達，和當地何種區位因素關係最密切？

- (A)廣大的市場 (B)充足的動力 (C)低廉的勞工 (D)豐富的原料

56. 有位中國官員對外國商人說：「中國並不稀罕西人的奇巧之器，外國人在廣州的生意，每年有幾千萬銀兩的利益，這些都是中國對外國人的恩賜。」請問：這位官員的說法，反映了當時的哪一種思想？
- (A)封建思想
(B)天朝思想
(C)重農思想
(D)專賣思想

57. 上歷史課時老師展示一張臺灣鐵路管理局印製的紀念車票，請學生表示意見。下列哪一位學生的解讀最符合歷史事實？



- (A)小潔：「車票是為了紀念中國人發明火車一百週年。」
(B)阿權：「臺灣縱貫鐵路是在1981年完成全線通車。」
(C)小惠：「1881年臺灣基隆到八堵間的鐵路開始通車。」
(D)大宇：「為紀念中國最早的鐵路於1881年修築完成。」
58. 小華在某展覽會場看到獸骨製成的裝飾品、宮殿模型、青銅鑄造的兵器和禮器。請問：這個展覽會的主題，最可能是下列哪一項？
- (A)新石器革命
(B)漁獵與畜牧
(C)國家的起源
(D)三皇的傳說
59. 「天王巨星約翰在某部影片中飾演一位英勇的騎士，忠誠服從領主的權威，卻與領主仇家的女兒發生一段浪漫的愛情，最後在東征異教徒的聖戰中殉難。」請問：這部電影的故事背景最可能是在哪一時期的歐洲？
- (A)羅馬時代
(B)中古時代
(C)文藝復興
(D)啟蒙時代
60. 君臣二人討論治國的方法，其對話如下——
皇帝：「如何治理國家，人民才能安樂呢？」
大臣：「國家不要太大，人口不要太多，國君要順應情勢，讓人民自然發展，不要干涉人民的生活，去除外在的拘束，人民才能安樂。」
請問：上述大臣的言論，反映出中國哪一個學派的政治思想？
- (A)儒家 (B)道家 (C)墨家 (D)法家

61. 小米在自家陽台上，以望遠鏡窺視對面鄰居在浴室內的行動。請問：這種行為最有可能觸犯何種法律？
- (A)《民法》
(B)《刑法》
(C)《社會秩序維護法》
(D)《少年事件處理法》

62. 我國《憲法》對於中央與地方政府權限的畫分採「均權制度」，其中具有因地制宜性質的事務由地方負責。依此規定，下列何種事項是屬於地方政府的職權？
- (A)招考公務人員
(B)發放老人年金
(C)增設地方法院
(D)彈劾失職官員

63. 上公民課時，老師請同學舉出「權利救濟」的實例。請問：下列哪一位同學的例子，最符合「權利救濟」的做法？
- (A)阿光：「我家加裝了鐵窗，可以防止小偷侵入。」
(B)小華：「我媽媽曾擔任志工，去照顧獨居老人。」
(C)阿明：「我爺爺到法院提起訴訟，要鄰居還錢。」
(D)小燕：「我爸爸參加勞工街頭遊行，爭取加薪。」

64. 表(四)為1997年中國某區與全國工業產值的比重表。請問：此地最有可能是下列哪一地區？

- (A)東北
(B)華北
(C)華中
(D)華南

表(四)

地區	輕工業	重工業
某區	35 %	65 %
全國	44 %	56 %

65. 成為一個植物專家一直是小萍的夢想，她前往圖(十五)中哪一地點實察，能觀察到最多種類的天然植物？

- (A)甲
(B)乙
(C)丙
(D)丁



圖(十五)

66. 「臺灣先民早期自大陸渡海來臺，除需面對黑水溝（臺灣海峽）的變化無常外，亦要抵抗來自北方海盜的襲擊。」當時的船隻是依賴風力而行，據此來判斷，哪一個季節海盜可能最猖獗？

- (A)春 (B)夏 (C)秋 (D)冬